



TKD-TBS-TPA-TSK

MENAKLUKKAN
SOAL

CPNS

(Calon Pegawai Negeri Sipil)

DALAM **1 JAM**

+ tips lulus ujian
CPNS & website
lembaga serta
instansi
pemerintah

REFERENSI UTAMA MENGIKUTI SELEKSI CPNS DI:

Kementerian, Lembaga Negara, Instansi Pemerintah, dan Pemerintah Daerah

TIM SUKSES

Menaklukkan
Soal

CPNS

(Calon Pegawai Negeri Sipil)

dalam **1 Jam**



Menaklukkan Soal CPNS (Calon Pegawai Negeri Sipil) dalam **1** Jam

Katalog dalam terbitan (KDT)

Sukses, Tim
Menaklukkan Soal CPNS dalam 1 Jam /
Tim Sukses

- Cet 1.- Jakarta: Cerdas Interaktif, 2014
iv + 268; Ilus,; 22 cm

Bibliografi:-
ISBN (10) 979-788-394-9
ISBN (13) 978-979-788-394-2

1. Pendidikan` I. Judul

Penyusun :
Tim Sukses

Editor :
Adi Setiyawan, S.Si

Desain Sampul :
Van de Jhon

Desain Isi:
Henry N. Patria
Nety Kurniasih
Penebart

Penerbit :
Cerdas Interaktif (Penebar Swadaya Grup)
Perum. Bukit Permai, Jl. Kerinci Blok A2, No. 23–24
Cibubur, Jakarta Timur 13720
Telp. (021) 29617008, 29617009, 29617010
Faks. (021) 8721570
Website: www.penebar-swadaya.net
E-mail: ps@penebar-swadaya.net
Facebook: Penebar Swadaya Grup
Twitter: [@penebar_swadaya](https://twitter.com/penebar_swadaya)

Pemasaran :
PT Niaga Swadaya
Jl. Gunung Sahari III/7, Jakarta 10610
Telp. (021) 4204402, 4255354; Faks. (021) 4214821

Cetakan :
I. Jakarta 2014

SC02040

Menaklukkan
Soal
CPNS
(Calon Pegawai Negeri Sipil)
dalam **1** Jam


Tim Sukses



Daftar Isi

Prakata	1
Petunjuk Khusus.....	2
TES KEMAMPUAN DASAR.....	3
Pancasila	4
UUD 1945	13
Tata Negara	24
Kewarganegaraan dan Hak Asasi Manusia (HAM)	46
Sejarah	56
Kebijakan Pemerintah dan Otonomi Daerah	67
Bahasa Indonesia	81
Bahasa Inggris	93
Pengetahuan Umum	100
TES BAKAT SKOLASTIK DAN TES POTENSI AKADEMIK.....	137
Tes Hubungan Kata	138
Penalaran Logis.....	148
Penalaran Numerik	157
Penalaran Analitis	168
Penalaran Spasial	177
Tes Daya Ingat.....	194
Tes Ketelitian.....	197
TES SKALA KEMATANGAN	204
SOAL UJI COBA TBS DAN TPA	215
KUNCI JAWABAN.....	240
TIPS DAN TRIK LULUS UJIAN CPNS	259
DAFTAR ALAMAT WEBSITE LEMBAGA/INSTANSI PEMERINTAH REPUBLIK INDONESIA	264

Prakata



Akhirnya buku *Menaklukkan Soal CPNS dalam 1 Jam* ini siap untuk disajikan bagi generasi muda Indonesia yang berminat menjadi abdi negara atau pegawai negeri sipil. Tersajinya buku ini tidak lepas dari konstribusi semua pihak, khususnya Tuhan Yang Maha Esa.

Besarnya perhatian bagi peningkatan kualitas hidup Pegawai Negeri Sipil (PNS) melalui berbagai program seperti reformasi birokrasi dan sistem renumerasi, mengakibatkan semakin tingginya semangat dan keinginan generasi muda Indonesia untuk menjadi PNS. Namun, formasi yang tersedia tidak sebanding dengan jumlah pelamar.

Untuk membantu generasi muda Indonesia menggapai cita-citanya diterima menjadi abdi negara, maka kami menerbitkan sebuah buku berjudul *Menaklukkan Soal CPNS dalam Waktu 1 Jam* yang disusun sesuai dengan kisi-kisi soal CPNS terbaru.

Menaklukkan Soal CPNS dalam 1 Jam artinya, mulai sekarang luangkan waktu minimal 1 jam dalam sehari untuk mempelajari soal-soal CPNS yang ada dalam buku ini. Apabila sering dilakukan, akan lebih mudah menghadapi soal-soal saat ujian CPNS. Sehingga akan menjadi lebih mudah dan akhirnya memperbesar peluang lulus ujian CPNS. Di samping itu, perhatikan dengan seksama kualifikasi yang dibutuhkan dan formasi yang tersedia di kementerian, lembaga negara, instansi pemerintah, dan pemerintah daerah saat akan melamar.

Akhirnya, kami ucapkan selamat berjuang untuk menjadi abdi negara atau Pegawai Negeri Sipil (PNS). Saran dan kritik bagi perbaikan buku ini sangat kami harapkan.

Salam sukses

Tim Sukses



Petunjuk Khusus

PENTUNJUK A:

Pilih satu jawaban yang paling tepat

PENTUNJUK B:

Soal terdiri dari 3 bagian, yaitu **PERNYATAAN**, kata **SEBAB**, dan **ALASAN** yang disusun berurutan.

Pilihlah:

- (A) Jika pernyataan benar, alasan benar, dan keduanya menunjukkan hubungan sebab dan akibat
- (B) Jika pernyataan benar, alasan benar, tetapi keduanya tidak menunjukkan hubungan sebab akibat
- (C) Jika pernyataan benar dan alasan salah
- (D) Jika pernyataan salah dan alasan benar
- (E) Jika pernyataan dan alasan, keduanya salah

PENTUNJUK A:

Pilihlah:

- (A) Jika (1), (2), dan (3) yang benar
- (B) Jika (1) dan (3) yang benar
- (C) Jika (2) dan (4) yang benar
- (D) Jika hanya (4) yang benar
- (E) Jika semuanya benar



Tes Kemampuan Dasar

PANCASILA

UUD 1945

TATA NEGARA

KEWARGANEGARAAN DAN HAK ASASI MANUSIA (HAM)

SEJARAH

KEBIJAKAN PEMERINTAH DAN OTONOMI DAERAH

BAHASA INDONESIA

BAHASA INGGRIS

PENGETAHUAN UMUM

Petunjuk A: Pilih satu jawaban yang paling tepat

1. Mempersoalkan kembali Pancasila sebagai asas negara berarti...
 - A. memberikan kebebasan kepada warga negara melaksanakan haknya
 - B. mewujudkan transparansi dalam penyelenggaraan negara
 - C. menghormati hak azasi manusia
 - D. memastikan reformasi pembangunan berjalan dengan baik
 - E. mementahkan kembali kesepakatan nasional
2. Menghargai hasil karya orang lain adalah wujud pengamalan Pancasila, yaitu sila...
 - A. pertama
 - B. kedua
 - C. ketiga
 - D. keempat
 - E. kelima
3. Pancasila sebagai ideologi terkemuka, maknanya menuntut warga untuk...
 - A. mewaspadaai pengaruh luar
 - B. mempelajari budaya asing
 - C. melestarikan nilai budayanya
 - D. bersifat kritis dan rasional
 - E. menerima budaya asing
4. Pancasila tidak hanya merupakan pandangan hidup bangsa Indonesia, tetapi juga merupakan...
 - A. dasar negara
 - B. ideologi negara
 - C. prinsip negara
 - D. angan-angan negara
 - E. A dan B benar
5. Keterbukaan ideologi Pancasila terdapat batas-batas yang tidak boleh dilanggar, *kecuali*...
 - A. larangan terhadap ideologi Marxisme
 - B. larangan terhadap paham Atheisme
 - C. penciptaan norma-norma baru yang harus melalui konsensus di masyarakat
 - D. mencegah paham Liberal
 - E. penciptaan etika baru yang harus melalui konsensus di masyarakat
6. Mengembangkan prinsip hidup berdampingan secara damai dengan bangsa lain, merupakan perwujudan Pancasila sebagai paradigma dalam pembangunan...
 - A. Politik
 - B. Ekonomi
 - C. Sosial Budaya
 - D. Keamanan
 - E. IPTEK
7. Dalam proses penyaringan budaya asing, kedudukan Pancasila berfungsi sebagai...
 - A. sumber hukum
 - B. etika berbangsa dan bernegara
 - C. dasar negara
 - D. falsafah hidup bangsa
 - E. jiwa dan kepribadian

8. Pancasila sebagai norma dasar mengandung makna bahwa nilainya bersifat...
- A. sukarela
 - B. memaksa
 - C. normatif
 - D. fleksibel
 - E. liberal
9. Pancasila merupakan sumber etika dalam bersikap dan bertingkah laku dalam berbangsa dan bernegara. Hal ini tertuang dalam ketetapan MPR tentang Etika Kehidupan Berbangsa nomor...
- A. Ketetapan MPR No.V/MPR/2001
 - B. Ketetapan MPR No.V/MPR/2002
 - C. Ketetapan MPR No.VI/MPR/2001
 - D. Ketetapan MPR No.VI/MPR/2002
 - E. Ketetapan MPR No.VII/MPR/2002
10. Pengamalan Pancasila dalam kehidupan berbangsa dan bernegara dapat dilakukan dengan cara pengamalan secara subjektif, artinya...
- A. Melaksanakan peraturan perundang-undangan yang berlandaskan Pancasila
 - B. Menjalankan nilai-nilai Pancasila secara pribadi dalam bersikap dan bertingkah laku pada kehidupan berbangsa dan bernegara
 - C. Melaksanakan peraturan perundang-undangan yang berlandaskan UUD 1945
 - D. Menjalankan nilai-nilai moral secara pribadi dalam bersikap dan bertingkah laku pada kehidupan berbangsa dan bernegara
 - E. Menjalankan nilai-nilai vital secara pribadi dalam bersikap dan bertingkah laku pada kehidupan berbangsa dan bernegara
11. Pengamalan Pancasila dalam kehidupan berbangsa dan bernegara dapat dilakukan dengan cara pengamalan secara objektif, artinya...
- A. Melaksanakan peraturan perundang-undangan yang berlandaskan Pancasila
 - B. Menjalankan nilai-nilai Pancasila secara pribadi dalam bersikap dan bertingkah laku pada kehidupan berbangsa dan bernegara
 - C. Melaksanakan peraturan perundang-undangan yang berlandaskan UUD 1945
 - D. Menjalankan nilai-nilai moral secara pribadi dalam bersikap dan bertingkah laku pada kehidupan berbangsa dan bernegara
 - E. Menjalankan nilai-nilai vital secara pribadi dalam bersikap dan bertingkah laku pada kehidupan berbangsa dan bernegara
12. Bertanggung jawab melaksanakan keputusan merupakan perwujudan sila...
- A. pertama
 - B. kedua
 - C. ketiga
 - D. keempat
 - E. kelima
13. Menyeimbangkan antara hak dan kewajiban merupakan perwujudan sila...
- A. pertama
 - B. kedua
 - C. ketiga
 - D. keempat
 - E. kelima

14. Memunculkan sikap tenggang rasa dalam hubungan sosial merupakan perwujudan sila...
- pertama
 - kedua
 - ketiga
 - keempat
 - kelima
15. Mengutamakan kepentingan bersama di atas kepentingan pribadi dan golongan merupakan perwujudan sila...
- pertama
 - kedua
 - ketiga
 - keempat
 - kelima
16. Pancasila berisi seperangkat nilai yang merupakan satu kesatuan yang utuh dan bulat. Nilai-nilai yang terkandung dalam Pancasila, *kecuali*...
- Ketuhanan
 - Persatuan
 - Sosial
 - Kerakyatan
 - Kemanusiaan
17. Kedudukan Pancasila sebagai ideologi bangsa tercantum dalam ketetapan MPR nomor...
- Ketetapan MPR No.XIV/MPR/1998
 - Ketetapan MPR No.XV/MPR/1998
 - Ketetapan MPR No.XVI/MPR/1998
 - Ketetapan MPR No.XVII/MPR/1998
 - Ketetapan MPR No.XVIII/MPR/1998
18. Pancasila sebagai ideologi terbuka, artinya...
- Dapat menerima berbagai macam ideologi asing sehingga ideologi Pancasila tidak ketinggalan zaman
 - Nilai-nilai dasarnya dapat diubah sesuai dengan perkembangan zaman
 - Nilai-nilai dasarnya bersifat tetap dan mampu berkembang secara dinamis
 - Rumusan Pancasila dapat diubah sesuai dengan perkembangan zaman yang dinamis
 - Rumusan Pancasila tidak dapat diubah sesuai dengan perkembangan zaman yang dinamis
19. Pancasila sebagai ideologi terbuka mengandung nilai-nilai, yaitu...
- Nilai akomodasi, instrumental, dan praksis
 - Nilai dasar, vital, dan praksis
 - Nilai dasar, instrumental, dan praksis
 - Nilai dasar, real, dan praksis
 - Nilai dasar, instrumental, dan akomodasi
20. Pancasila ditetapkan secara formal sebagai dasar negara Republik Indonesia pada tanggal...
- 17 Agustus 1945
 - 18 Agustus 1945
 - 29 April 1945
 - 28 Mei 1945
 - 1 Juni 1945

21. Yang menjadi causa material dari Pancasila adalah...
- Bangsa Indonesia
 - Ir. Soekarno
 - BPUPKI
 - PPKI
 - Piagam Jakarta
22. Susunan Pancasila bersifat hierarkis dan piramidal, maksudnya...
- Sila-sila Pancasila dalam urutan yang luas (kualitas)
 - Menunjukkan sifat yang mendalam (kuantitas)
 - Kedudukan setiap sila berjenjang
 - Kelima sila Pancasila ada hubungan yang mengikat yang merupakan satu keseluruhan
 - Sila-sila Pancasila saling terkait
23. Mengembangkan pemikiran yang inovatif dan kreatif dalam mengamalkan Pancasila tidak mengubah nilai dasar yang ada pada sila-silanya merupakan perwujudan Pancasila sebagai ideologi...
- Utopia
 - Tertutup
 - Dogmatis
 - Sosialis
 - Terbuka
24. Nilai yang terkandung dalam setiap sila-sila Pancasila merupakan nilai yang tidak dapat diubah karena merupakan nilai...
- Praksis
 - Instrumen
 - Dasar
 - Jasmaniah
 - Rohaniah
25. Bangsa Indonesia bangga memiliki ideologi Pancasila karena...
- Dapat mempersatukan bangsa Indonesia yang multikulturalisme
 - Setiap rencana perebutan kekuasaan dapat digagalkan
 - Sesuai dengan pertumbuhan dan perkembangan masyarakat
 - Karena dirumuskan oleh BPUPKI
 - Dapat menyelesaikan segala masalah yang ada
26. Apabila suatu keputusan telah diambil, baik dengan musyawarah maupun dengan pemungutan suara, maka sikap kita yang benar adalah...
- Menolak karena tidak sesuai keinginan kita
 - Membiarkan dan tidak mau tahu
 - Menerima dengan ikhlas dan penuh tanggung jawab
 - Mengusulkan agar keputusan boleh diubah
 - Menerima hasil keputusan dengan pertimbangan tertentu
27. Berbuat adil dan benar sesuai dengan nilai-nilai ideologi Pancasila adalah...
- Memberi kesempatan kepada orang lain
 - Memberi sesuatu sesuai haknya
 - Memberi kebebasan dalam mencari pekerjaan
 - Mengutamakan kewajiban daripada hak
 - Ikut mengatasi berbagai permasalahan

28. Rumusan Pancasila yang benar dan sah sistematikanya terdapat dalam...
- Pembukaan UUD 1945
 - Rumusan Ir. Soekarno
 - Piagam Jakarta
 - Rumusan Konstitusi RIS
 - Rumusan Muh. Yamin
29. Berikut contoh perbuatan yang dapat merendahkan nilai kemanusiaan, misalnya...
- Menolong fakir miskin
 - Menuntut seseorang ke pengadilan
 - Membela nama baik keluarga
 - Memperhatikan lingkungan kumuh
 - Menjalankan riba
30. Kumpulan gagasan, ide-ide, dan keyakinan yang menyeluruh, serta sistematis dan mengatur tingkah laku manusia dalam berbagai kehidupan merupakan pencerminan dari...
- Politik
 - Strategi
 - Ideologi
 - Sistem
 - Logika
31. Pancasila sebagai ideologi terbuka maksudnya ideologi yang mau menerima perubahan pada...
- Sila pertama Pancasila
 - Sila kedua Pancasila
 - Sila ketiga Pancasila
 - Nilai dasar
 - Nilai instrumen dan praksis
32. Nilai yang merupakan penjabaran lebih lanjut dari nilai-nilai dasar dalam rangka pelaksanaan nilai-nilai Pancasila adalah...
- Vital
 - Instrumen
 - Praksis
 - Jasmaniah
 - Rohaniah
33. Nilai-nilai yang terkandung dalam Pancasila sebagai ideologi terbuka adalah...
- Nilai dasar, nilai material, dan nilai rohaniah
 - Nilai dasar, nilai instrumental, dan nilai praksis
 - Nilai dasar, nilai instrumental, dan nilai rohaniah
 - Nilai dasar, nilai material, nilai dan praksis
 - Nilai rohaniah, nilai jasmaniah, dan nilai material
34. Pancasila sebagai paradigma dalam pembangunan sosial budaya adalah dengan mewujudkan...
- Pembangunan sosial budaya dilaksanakan demi terwujudnya masyarakat yang demokratis, aman, tentram, dan damai
 - Pengembangan budaya daerah tertentu
 - Pembangunan sosial dan budaya masyarakat Indonesia yang mengutamakan suku tertentu
 - Menganggap nilai-nilai yang ada dalam masyarakat sudah tidak relevan lagi
 - Menutup diri terhadap nilai-nilai budaya luar
35. Pancasila sebagai paradigma dalam pembangunan ekonomi adalah sebagai berikut, *kecuali*...

- A. Mengembangkan sistem ekonomi yang berperikemanusiaan
 - B. Mengembangkan sistem ekonomi Indonesia yang bercorak kekeluargaan
 - C. Ekonomi yang bertujuan keadilan dan kesejahteraan bersama
 - D. Dasar moralitas ketuhanan dan kemanusiaan menjadi kerangka landasan pembangunan ekonomi
 - E. Mengembangkan ekonomi yang berbentuk monopoli dan persaingan bebas
- 36.** Pancasila sebagai paradigma pembangunan pertahanan keamanan adalah dengan mewujudkan...
- A. Kekuatan perang tangguh
 - B. Membentuk pakta pertahanan
 - C. Sistem pertahanan rakyat semesta
 - D. Kerja sama pertahanan
 - E. Politik perimbangan kekuatan
- 37.** Berikut adalah Pancasila sebagai paradigma dalam pembangunan politik, *kecuali*...
- A. Politik berdasarkan moral ketuhanan
 - B. Adanya etika politik berdasarkan pada kemanusiaan
 - C. Kedaulatan rakyat
 - D. Musyawarah mufakat
 - E. Politik berdasarkan kekuasaan
- 38.** Pancasila sebagai ideologi nasional mengandung pengertian sebagai...
- A. Dasar dalam menata bangsa
 - B. Cita-cita nasional
 - C. Pedoman hidup bangsa
 - D. Perjanjian luhur bangsa
 - E. Kesepakatan bangsa
- 39.** Pendidikan Pancasila mengarahkan perhatiannya pada...
- A. Keterampilan
 - B. Pemahaman
 - C. Estetika
 - D. Mental
 - E. Moral
- 40.** Pancasila dinyatakan sebagai ideologi terbuka, sebab Pancasila adalah ideologi yang...
- A. Revolusioner
 - B. Individualis
 - C. Liberal
 - D. Dinamis
 - E. Konservatif
- 41.** Menurut Tap MPR No.XVIII/MPR/1998 antara lain penegasan Pancasila sebagai...
- A. dasar negara dan ideologi nasional
 - B. pandangan hidup
 - C. ideologi terbuka
 - D. kepribadian bangsa
 - E. sumber dari segala sumber hukum
- 42.** Pancasila sebagai ideologi terbuka artinya...
- A. terbuka untuk diuji oleh ajaran lain
 - B. terbuka untuk menerima ideologi lain
 - C. dapat dikembangkan sesuai dengan kemajuan masyarakat
 - D. dapat menerima setiap kepentingan masyarakat
 - E. luwes dan fleksibel sesuai dengan keinginan masyarakat

43. Kedudukan Pancasila dalam kaitannya dengan pengaruh budaya asing dan iptek adalah...
- Sebagai pandangan hidup bangsa
 - Sebagai *filter* (penyaring)
 - Merupakan ideologi bangsa
 - Sumber tertib hukum
 - Perjanjian luhur bangsa
44. Pancasila sebagai ideologi Negara Republik Indonesia berbeda dengan paham lainnya misalnya ideologi komunis dan ideologi liberal. Ideologi Pancasila mengandung nilai-nilai antara lain adalah...
- Negara berdasarkan atas Ketuhanan Yang Maha Esa
 - Pandangan materialis
 - Pandangan ateisme
 - Mendasarkan pada kebebasan individu
 - Menganut paham sekulerisme
45. Negara Indonesia berdasar atas Ketuhanan Yang Maha Esa, ini berarti di negara kita tidak berkembang sikap...
- monoteisme
 - monodualisme
 - kapitalisme
 - kolonialisme
 - ateisme
46. Ideologi terbuka memiliki unsur-unsur berikut ini, *kecuali*...
- realistis
 - idealistis
 - fleksibilitas
 - utopia dan dogmatis
 - idealis yang runtut dan nalar
47. Pancasila dapat dijadikan sebagai alat pemersatu bangsa Indonesia yang beraneka ragam, baik suku, agama, budaya, dan adat istiadat, karena Pancasila...
- menyamakan pandangan tentang cita-cita bersama di atas keanekaragaman
 - sebagai penyaring kebudayaan asing
 - menjadi penentu keberhasilan pembangunan yang kita laksanakan
 - menangkal segala ancaman yang datang dari luar
 - sebagai filter terhadap masuknya budaya asing
48. Nilai yang merupakan eksplisit dan penjabaran lebih lanjut dari nilai-nilai instrumen dalam rangka pelaksanaan nilai-nilai Pancasila secara nyata adalah...
- vital
 - instrumen
 - praksis
 - rohaniah
 - jasmaniah
49. Segala peraturan perundang-undangan yang berlaku tidak boleh bertentangan dan harus bersumber kepada dasar negara, maka dasar negara berperan sebagai...
- perjanjian luhur
 - ideologi negara
 - kepribadian bangsa
 - sumber dari segala sumber tertib hukum
 - jiwa dan kepribadian bangsa
50. Dasar suatu negara sering disebut dasar falsafah negara atau...

- A. ideologi
 - B. pandangan hidup
 - C. *philosofishe Grundslag*
 - D. konstitusi
 - E. *instrument of government*
51. Keterbukaan ideologi Pancasila, terdapat batas-batas yang tidak boleh dilanggar karena...
- A. larangan terhadap ideologi marxisme, leninisme, dan komunisme
 - B. nilai-nilai Pancasila tidak berasal dari luar, melainkan digali dari budaya sendiri
 - C. dasarnya bukan keyakinan ideologi sekelompok orang, melainkan hasil musyawarah dan konsensus rakyat
 - D. Pancasila digali dari masyarakat sendiri
 - E. Pancasila ditemukan dalam masyarakat itu sendiri
52. Beberapa faktor yang mendorong keterbukaan Pancasila adalah sebagai berikut, *kecuali*...
- A. kenyataan dalam proses pembangunan nasional berencana dan dinamika masyarakat yang berkembang dengan cepat
 - B. kenyataan menunjukkan bahwa bangkrutnya ideologi yang tertutup dan beku cenderung merecupkan perkembangan dirinya
 - C. tekad untuk memperkokoh kesadaran akan nilai-nilai dasar Pancasila yang abadi dan hasrat mengembangkan secara kreatif dan dinamis dalam rangka mencapai tujuan nasional
- D. pengalaman sejarah kita di masa lampau
 - E. adanya pengaruh era globalisasi dan perdagangan bebas
53. Yang dimaksud pelaksanaan Pancasila secara obyektif adalah...
- A. pelaksanaan Pancasila secara pribadi oleh setiap orang Indonesia
 - B. pelaksanaan secara apa adanya sesuai dengan realitas yang ada
 - C. pelaksanaan dengan mentaati ketentuan hukum dasar Pancasila dan UUD 1945
 - D. menjadikan Pancasila sebagai pedoman penyelenggaraan kehidupan
 - E. pelaksanaan yang tergantung pada objek atau bidang tertentu
54. Berikut ini merupakan pelaksanaan kesusilaan sebagaimana terdapat dalam kitab Sutasoma, *kecuali*...
- A. dilarang melakukan kekerasan
 - B. dilarang beribadah kepada Tuhan Yang Maha Esa
 - C. dilarang mabuk
 - D. dilarang berjiwa dengki
 - E. tidak boleh mencuri
55. Berikut ini adalah contoh sikap seorang warga negara yang setia kepada negara, *kecuali*...
- A. Displin melaksanakan peraturan perundang-undangan
 - B. Setia terhadap Pancasila dan UUD 1945
 - C. Patuh terhadap kebijakan pemerintahan yang sah

- D. Mendukung gerakan separatisme
- E. Kerja keras dan melaksanakan penyuluhan hukum
- 56.** Berikut ini adalah contoh pengamalan Pancasila dalam kehidupan di keluarga, yaitu...
- A. Seorang anak selalu menuntut kewajiban terhadap orang tuanya.
- B. Seorang ayah selalu melaksanakan kewajibannya tanpa memperoleh haknya.
- C. Seorang anak selalu mendahulukan haknya daripada kewajiban kepada orangtuanya.
- D. Saling mencintai dan menyayangi satu sama lain tanpa mempedulikan orang lain di sekitarnya.
- E. Mengembangkan semangat saling asah, asih, asuh antara anggota keluarga.
- 57.** Contoh sikap saling menghormati antarpemeluk agama dan penganut kepercayaan adalah...
- A. menghormati hak-hak orang lain
- B. sikap saling toleransi satu sama lain
- C. suka bergotong-royong antar-sesama
- D. tidak semena-mena terhadap orang lain
- E. suka memberi pertolongan terhadap sesama
- 58.** Pengamalan sila Persatuan Indonesia dapat kita wujudkan dalam wawasan nusantara, yaitu...
- A. Menghayati dan mengamalkan Pancasila
- B. Memahami anggaran dan pendapatan belanja negara
- C. Memperhatikan dan menghargai potensi bangsa Indonesia
- D. Tidak semena-mena terhadap orang lain
- E. Menghindari hubungan kerjasama antarbangsa
- 59.** Nasionalisme Pancasila adalah semangat kebangsaan yang...
- A. merasa lebih rendah daripada bangsa yang lain
- B. menghormati kemerdekaan bangsa yang lain
- C. memaksakan kehendaknya kepada orang lain
- D. merasa lebih unggul daripada bangsa lain
- E. mengagung-agungkan bangsa sendiri
- 60.** Pembahasan tentang dasar negara Indonesia, yang ditandai dengan berbagai usulan tentang konsep dasar negara dilaksanakan sejak...
- A. Manusia Indonesia ada
- B. Tanggal 18 Agustus 1945
- C. Sidang BPUPKI 29 Mei sampai 1 Juni 1945
- D. Indonesia dijajah oleh Belanda
- E. Indonesia merdeka

Petunjuk A: Pilih satu jawaban yang paling tepat

1. Usul pemberhentian Presiden dan atau Wakil Presiden dapat diajukan oleh DPR kepada MPR hanya dengan... memeriksa, mengadili, dan memutuskan pendapat DPR bahwa presiden/wakil presiden telah melanggar hukum dan sebagainya.
 - A. terlebih dahulu mengajukan permintaan kepada Mahkamah Konstitusi
 - B. terlebih dahulu mengajukan permintaan kepada Mahkamah Agung
 - C. terlebih dahulu mengajukan permintaan kepada Mahkamah Konstitusi dan Mahkamah Agung
 - D. terlebih dahulu mengajukan permintaan kepada Mahkamah Konstitusi dan MPR
 - E. terlebih dahulu mengajukan permintaan kepada Mahkamah Agung dan MPR
2. Sesuai dengan UUD 1945 pasal 1 ayat 2 yang menyatakan negara RI menganut sistem konstitusional bahwa kekuasaan tertinggi di tangan...
 - A. MPR
 - B. DPR dan MPR
 - C. MPR dan DPD
 - D. Rakyat
 - E. Rakyat dan MPR
3. Negara Indonesia adalah negara hukum bukan negara berdasarkan...
 - A. Kekuasaan
 - B. Federal
 - C. Monarki
 - D. Rechstaat
 - E. Republik
4. Perhatikan pilihan berikut.
 1. Rancangan pernyataan Indonesia merdeka
 2. Rancangan Pembukaan UUD 1945
 3. Rancangan Pasal-pasal UUD 1945Hasil sidang BPUPKI adalah...
 - A. 1
 - B. 1 dan 2
 - C. 2 dan 3
 - D. 1, 2, dan 3
 - E. 1, 2, dan 3 salah
5. Rapat terakhir sebelum diumumkannya kemerdekaan Indonesia, berlangsung di rumah...
 - A. Laksamana Maeda
 - B. Laksamana Koiso
 - C. Sayuti Melik
 - D. Muhammad Hatta
 - E. Soekarno
6. Setelah BPUPKI selesai melaksanakan tugasnya yaitu merancang UUD 1945 berikut rancangan dasar negara dan rancangan pernyataan

- Indonesia merdeka, maka dibentuklah PPKI pada tanggal...
- 6 Agustus 1945
 - 7 Agustus 1945
 - 8 Agustus 1945
 - 14 Agustus 1945
 - 15 Agustus 1945
7. BPUPKI yang bertugas menyusun Dasar Indonesia Merdeka (Undang-Undang Dasar) diketuai oleh Dr. Radjiman Wedyodiningrat dan didampingi seorang Ketua Muda bernama...
- R.P. Soeroso
 - Muhammad Hatta
 - Wahid Hasyim
 - Abikusno Tjokrosujoso
 - H. Agus Salim
8. Atas janji perdana menteri Jepang pada tanggal 7 September 1944, maka dibentuklah sebuah badan bernama Dokuritsu Zyunbi Choosakai (Badan Penyelidik Usaha-usaha Persiapan Kemerdekaan Indonesia/BPUPKI) pada tanggal...
- 29 April 1945
 - 19 April 1945
 - 28 Mei 1945
 - 19 April 1945
 - 1 Mei 1945
9. Perdana Menteri Jepang yang menjanjikan kemerdekaan bagi bangsa Indonesia melalui ucapannya pada 7 September 1944 adalah...
- Koiso
 - Taro
 - Hiro
 - Aso
 - Takasimoto
10. Contoh konvensi yang masih terpelihara hingga saat ini dalam penyelenggaraan ketatanegaraan Republik Indonesia hingga saat ini adalah...
- Pidato akhir tahun Presiden RI
 - Pidato kenegaraan 16 Agustus
 - Pidato dalam pembukaan acara resmi
 - Pidato mengenai suatu masalah hukum
 - Keputusan Presiden
11. Aturan pelengkap atau pengisi kekosongan hukum yang timbul dan terpelihara dalam praktek penyelenggaraan ketatanegaraan disebut...
- konvensi
 - dekrit
 - doktrin
 - Perpu
 - Kepres
12. Undang-undang No.10 Tahun 2004 tentang Pembentukan Peraturan Perundang-undangan menetapkan bahwa urutan ketiga dalam hierarki Peraturan Perundang-undangan adalah...
- Undang-Undang Dasar Negara Republik Indonesia Tahun 1945
 - Peraturan Presiden
 - Undang-Undang/Peraturan Pemerintah Pengganti Undang-Undang
 - Peraturan Pemerintah
 - Peraturan Daerah
13. Sebagai hukum dasar, UUD 1945 berisi...
- Norma
 - Norma dan aturan

- C. Norma dan hukum adat
D. Norma dan sanksi
E. Aturan-aturan
14. Undang-undang Dasar bukanlah hukum biasa, melainkan hukum dasar yang tertulis. UUD 1945 juga mempunyai fungsi sebagai alat...
- A. kontrol D. pengawasan
B. legislasi E. hukum
C. alokasi
15. Menurut amendemen keempat UUD 1945 dinyatakan bahwa... tidak lagi merupakan kesatuan UUD 1945.
- A. Aturan Tambahan
B. Aturan Peralihan
C. Peraturan Pemerintah
D. Penjelasan
E. Rumusan Pancasila
16. Sebagaimana kita ketahui Undang-Undang Dasar 1945 itu telah ditetapkan oleh...
- A. Panitia Persiapan Kemerdekaan Indonesia (PPKI) dan mulai berlaku pada tanggal 18 Agustus 1945.
B. Badan Penyelidik Usaha-usaha Persiapan Kemerdekaan Indonesia (BPUPKI) dan mulai berlaku pada tanggal 18 Agustus 1945.
C. PPKI dan mulai berlaku pada tanggal 17 Agustus 1945.
D. BPUPKI dan mulai berlaku pada tanggal 17 Agustus 1945.
E. PPKI dan mulai berlaku pada tanggal 29 April 1949.
17. UUD 1945 untuk pertama kalinya diberlakukan pada tanggal 18 Agustus 1945. Naskahnya pertama kali dimuat secara resmi dalam Berita Negara, yaitu...
- A. Berita Republik Indonesia Tahun II No.7 tanggal 15 Februari 1946
B. Berita Republik Indonesia Tahun II No.7 tanggal 15 Februari 1945
C. Berita Republik Indonesia Tahun II No.17 tanggal 15 Februari 1946
D. Berita Republik Indonesia Tahun II No.7 tanggal 15 Februari 1949
E. Lembaran Negara Republik Indonesia Tahun II No.7 tanggal 15 Februari 1946
18. Berikut ini adalah sebab-sebab perlunya amendemen atas UUD 1945, *kecuali*...
- A. UUD 1945 bersifat singkat
B. UUD 1945 bersifat multitafsir
C. UUD 1945 percaya pada semangat penyelenggara negara
D. UUD 1945 bersifat luwes
E. UUD 1945 bersifat sementara
19. Sebagai hukum dasar tertulis, UUD 1945 mengikat Pemerintah, Lembaga Negara, Lembaga Masyarakat, setiap Warga Negara Indonesia, dan...
- A. setiap penduduk yang berada di wilayah Negara Republik Indonesia
B. setiap orang yang ada di wilayah Negara Republik Indonesia

- C. setiap orang yang ada di Indonesia kecuali *Corps Diplomatic*
- D. setiap penduduk dan warga negara asing yang tinggal minimal 5 tahun
- E. setiap penduduk yang berada di wilayah Republik Indonesia dan orang asing yang telah tinggal lebih dari 20 tahun
20. Pembukaan UUD 1945 merupakan pokok kaidah yang fundamental, karena memuat berbagai unsur mutlak, *kecuali...*
- A. Sistem pemerintahan
- B. Dasar falsafah negara
- C. Bentuk negara
- D. Tujuan negara
- E. Ketentuan diadakannya UUD negara
21. Konstitusi Republik Indonesia Serikat disetujui semua pihak pada saat berlangsungnya...
- A. Konferensi Meja Bundar (KMB) di Den Haag, Belanda
- B. Perjanjian Linggar Jati di Kuningan, Jawa Barat
- C. Perjanjian Renville
- D. Perjanjian Malino di Sulawesi Selatan
- E. Sidang Umum PBB
22. Konstitusi Republik Indonesia Serikat (RIS) tidak berlaku di salah satu ibukota provinsi di Indonesia, yaitu...
- A. Aceh
- B. Sumatera Barat
- C. Kalimantan Tengah
- D. Jogjakarta
- E. Irian Jaya
23. Dalam kurun waktu 1945—1949, di Indonesia terjadi perubahan sistem Kabinet Presidensial menjadi Kabinet Parlementer melalui suatu maklumat yang dikeluarkan pada tanggal...
- A. 14 November 1947
- B. 24 November 1949
- C. 14 November 1945
- D. 14 November 1949
- E. 18 November 1949
24. Undang-Undang Dasar Sementara 1950 (UUDS 1950) berlaku di Indonesia sejak tanggal...
- A. 17 Agustus 1950—5 Juli 1959
- B. 17 Agustus 1949—5 Juni 1959
- C. 17 Agustus 1950—15 Juli 1955
- D. 27 Agustus 1950—5 Juli 1959
- E. 17 Agustus 1950—15 Agustus 1959
25. Konstitusi Republik Indonesia Serikat (RIS) di Indonesia berlaku mulai tanggal...
- A. 27 Desember 1949—17 Agustus 1950
- B. 27 Desember 1949—17 Agustus 1959
- C. 27 Desember 1949—5 Juli 1959
- D. 17 Desember 1949—17 Agustus 1950
- E. 7 Desember 1949—17 Agustus 1950
26. Pemerintahan daerah menjalankan otonomi seluas-luasnya, kecuali urusan pemerintahan yang oleh undang-

undang ditentukan sebagai urusan pemerintah pusat, yaitu...

- A. Agama, Kehakiman dan HAM, Pertahanan, dan Luar Negeri
- B. Kehakiman dan HAM, Pertahanan, Luar Negeri, dan Pendidikan
- C. Pendidikan, Pertahanan, Agama, dan Luar Negeri
- D. Luar Negeri, Agama, Kehakiman dan HAM, dan Pendidikan
- E. Perdagangan, Kehakiman dan HAM, Pertahanan, dan Luar Negeri

27. Perhatikan pernyataan berikut!

- 1. Merupakan lembaga negara yang bebas dan mandiri dalam memeriksa pengelolaan dan tanggung jawab keuangan negara.
- 2. Sebagai pelaksana fungsi auditif, operatif, rekomendasi, judikatif.
- 3. Berkedudukan di ibukota negara dan memiliki perwakilan di setiap provinsi.
- 4. Anggota dipilih oleh DPR dengan memperhatikan pertimbangan DPD, dan diresmikan oleh Presiden.
- 5. Pimpinan BPK dipilih dari dan oleh anggota.

Manakah dari kelima pernyataan di atas yang merupakan kedudukan Badan Pemeriksa Keuangan (BPK)?

- A. 1, 2, 3, 4, dan 5
- B. 2, 3, 4, dan 5
- C. 1, 3, 4, dan 5
- D. 3, 4, dan 5
- E. 1, 3, 4, dan 5

28. Kedudukan Mahkamah Konstitusi (MK), *kecuali*...

- A. Mahkamah Konstitusi merupakan salah satu lembaga negara yang melakukan kekuasaan kehakiman yang merdeka untuk menyelenggarakan peradilan guna menegakkan hukum dan keadilan.
- B. Susunan Mahkamah Konstitusi diatur dalam undang-undang.
- C. Mempunyai sembilan orang anggota Hakim Konstitusi yang diusulkan oleh Presiden, DPR, dan Mahkamah Agung masing-masing sebanyak tiga orang.
- D. Ketua dan Wakil Ketua dipilih dari dan oleh Hakim Konstitusi.
- E. Diangkat dan diberhentikan oleh Presiden dengan persetujuan DPR.

29. Perhatikanlah pernyataan berikut!

- 1. Bersifat mandiri.
- 2. Diangkat dan diberhentikan oleh Presiden dengan persetujuan DPR.
- 3. Susunan, kedudukan, dan keanggotaan Komisi Yudisial diatur dengan undang-undang.
- 4. Mengusulkan pengangkatan Hakim Agung.
- 5. Memiliki wewenang lain dalam rangka menjaga dan menegakkan kehormatan, keluhuran martabat, serta perilaku hakim.

Manakah yang merupakan kedudukan Komisi Yudisial (KY) RI?

- A. 1, 2, dan 3
- B. 1, 2, dan 4
- C. 1, 3, dan 4
- D. 1, 3, dan 5
- E. 4 dan 5

30. Perhatikanlah pernyataan berikut!

1. Sebagai lembaga negara yang berfungsi sebagai pengadilan tertinggi bagi semua peradilan terlepas dari pengaruh Pemerintah dan pengaruh pengaruh lainnya.
2. Susunan Mahkamah Agung diatur dengan undang-undang.
3. Calon Hakim Agung diusulkan oleh Komisi Yudisial kepada DPR untuk mendapatkan persetujuan dan ditetapkan sebagai Hakim Agung oleh Presiden.
4. Ketua dan Wakil Ketua Mahkamah Agung dipilih dari dan oleh Hakim Agung.
5. Susunan, kedudukan, keanggotaan, dan hukum acara Mahkamah Agung diatur dalam undang-undang.

Manakah dari pernyataan di atas yang merupakan kedudukan Mahkamah Agung?

- A. 1, 2, 3, dan 4
- B. 1, 2, 4, dan 5
- C. 2, 3, 4, dan 5
- D. 1, 2, 3, 4, dan 5
- E. 1, 3, 4, dan 5

31. Manakah dari pilihan berikut yang bukan merupakan kedudukan Dewan Perwakilan Daerah (DPD)?

- A. DPD merupakan lembaga perwakilan daerah yang berke-

dudukan sebagai lembaga negara.

- B. Anggota DPD tidak dapat dibekukan atau dibubarkan oleh Presiden.
- C. Jumlah anggota DPD di setiap provinsi sama dan jumlah seluruh anggota DPD tidak boleh lebih dari 1/3 dari jumlah anggota DPR.
- D. Seluruh anggota DPD adalah anggota MPR.
- E. Anggota DPD dapat diberhentikan dari jabatannya, yang syarat-syarat dan tata caranya diatur dalam undang-undang.

32. Anggota Dewan Perwakilan Rakyat (DPR) mempunyai hak, *kecuali*...

- A. Mengajukan usul RUU
- B. Mengajukan pertanyaan
- C. Menyampaikan usul dan pendapat
- D. Imunitas
- E. Interpelasi

33. Dewan Perwakilan Rakyat (DPR) mempunyai hak-hak, yaitu...

- A. interpelasi, angket, dan menyatakan pendapat
- B. interpelasi, angket, dan imunitas
- C. menyatakan pendapat, angket, dan imunitas
- D. mengajukan pertanyaan, angket, dan interpelasi
- E. angket, interpelasi, dan imunitas

34. Dewan Perwakilan Rakyat (DPR) Indonesia memiliki 3 (tiga) fungsi utama, yaitu...
- legislasi, konstitutif, dan pengawasan
 - anggaran, legislasi, dan legislatif
 - legislasi, anggaran, dan pengawasan
 - anggaran, pengawasan, dan konstitutif
 - konstitutif, legislatif, dan anggaran
35. Dewan Perwakilan Rakyat memiliki beberapa kedudukan sebagai berikut, *kecuali*...
- Sebagai pelaksana fungsi konstitutif
 - Susunannya diatur dalam undang-undang
 - Anggota DPR dipilih melalui pemilihan umum
 - Seluruh anggota DPR adalah anggota MPR
 - DPR tidak dapat dibekukan atau dibubarkan oleh Presiden
36. Di bawah ini tugas dan wewenang Presiden RI sebagai Kepala Negara, *kecuali*...
- Memegang kekuasaan tertinggi atas Angkatan Darat, Angkatan Laut, dan Angkatan Udara
 - Dengan persetujuan DPR, menyatakan perang, membuat perdamaian dan perjanjian internasional dengan negara lain
 - Menyatakan keadaan bahaya, yang syarat-syarat dan akibatnya ditetapkan dengan undang-undang
 - Dengan memperhatikan pertimbangan Dewan Perwakilan Rakyat, mengangkat duta dan konsul, serta menerima penempatan duta negara lain
 - Menjalankan kekuasaan pemerintahan negara menurut Undang-undang Dasar
37. Tugas dan wewenang Presiden RI selaku Kepala Pemerintahan (fungsi eksekutif dan fungsi legislatif), *kecuali*...
- Memegang kekuasaan tertinggi atas Angkatan Darat, Angkatan Laut, dan Angkatan Udara
 - Menetapkan Peraturan Pemerintah untuk menjalankan undang-undang sebagaimana mestinya
 - Mengajukan dan membahas rancangan undang-undang bersama DPR
 - Menetapkan Peraturan Pemerintah Pengganti Undang-undang (Perpu)
 - Mengajukan dan membahas usul RAPBN bersama DPR
38. Dalam melaksanakan tugas dan wewenangnya tersebut, anggota MPR mempunyai hak-hak sebagai berikut, *kecuali*...
- Mengajukan usul perubahan pasal-pasal Undang-Undang Dasar oleh sekurang-kurangnya 1/3 dari jumlah anggota MPR

- B. Menyatakan pendapat
 C. Membela diri
 D. Imunitas
 E. Protokoler
39. Majelis Permusyawaratan Rakyat (MPR) dengan susunan keanggotaan terdiri dari anggota DPR dan DPD hasil pemilihan umum, memiliki kedudukan sebagai...
- A. lembaga negara dan pelaksana fungsi kontrol
 B. lembaga negara dan pelaksana fungsi konstitutif
 C. lembaga negara dan pelaksana fungsi legislasi
 D. lembaga negara dan pelaksana fungsi amandemen
 E. lembaga negara dan pelaksana fungsi pengawasan
40. Kelembagaan negara merupakan lembaga-lembaga negara yang diatur dalam UUD 1945. Setelah UUD 1945 diamandemen sebanyak empat kali, lembaga-lembaga negara adalah...
- A. MPR, Presiden, DPR, Watimpres, MA, MK, dan BPK
 B. MPR, Presiden, DPR, DPD, MA, MK, dan BPK
 C. MPR, Presiden, DPR, MA, MK, DPA, dan BPK
 D. MPR, Presiden, DPR, DPD, MA, MK, dan DPA
 E. MPR, Presiden, DPR, DPD, MA, MK, dan Watimpres
41. Jaminan mengenai hak asasi anak dimana setiap anak berhak atas kelangsungan hidup, tumbuh dan berkembang serta berhak atas perlindungan dari kekerasan dan diskriminasi diatur dalam...
- A. Pasal 28B ayat 2 UUD 1945
 B. Pasal 28A UUD 1945
 C. Pasal 28C ayat 1 dan 2 UUD 1945
 D. Pasal 28D ayat 1 UUD 1945
 E. Pasal 28F UUD 1945
42. Dalam isi UUD 1945 setelah diamandemen 4 kali, lembaga kepresidenan diatur dalam pasal...
- A. 2 dan 3 D. 19—22D
 B. 4—16 E. 22C—22D
 C. 18—18B
43. Identitas nasional Indonesia telah diatur di dalam UUD 1945, yaitu...
- A. Pasal 31 dan 32
 B. Pasal 33 dan 34
 C. Pasal 35 dan 36
 D. Pasal 36 dan 37
 E. Pasal 30 dan 31
44. Sistem pemerintahan parlementer berlangsung di Indonesia pada periode...
- A. UU Proklamasi 1945
 B. Masa Konstitusi RIS
 C. Masa UUDS 1950
 D. UUD 1945
 E. Orde baru
45. Berikut merupakan peraturan perundang-undangan menurut UU No. 10 Tahun 2004, *kecuali*...

- A. TAP MPR
 B. Perpu
 C. Pepres
 D. Peraturan Daerah
 E. B, C, dan D benar
46. Indonesia menganut Demokrasi Liberal pada masa...
 A. Konsitusi RIS
 B. UUD 1945 kurun waktu pertama
 C. UUDS 1950
 D. UUD 1945 kurun waktu kedua
 E. UUD 1945 amandemen kedua
47. Penghapusan lembaga Dewan Pertimbangan Agung (DPA) dilakukan pada saat amandemen UUD 1945 yang...
 A. Pertama D. Keempat
 B. Kedua E. Kelima
 C. Ketiga
48. Adanya lembaga baru yaitu DPD, Mahkamah Konstitusi, Komisi Yudisial ditetapkan dalam amandemen UUD 1945 yang...
 A. Pertama D. Keempat
 B. Kedua E. Kelima
 C. Ketiga
49. Tahun 2002 dalam Sidang Tahunan ditetapkan perubahan UUD keempat. Adapun perubahan-perubahan yang mendasar mengenai MPR adalah...
 A. Susunan MPR terdiri dari anggota DPR dan DPD.
 B. MPR tidak lagi memegang dan melaksanakan kedaulatan rakyat.
 C. MPR tidak lagi menetapkan GBHN.
 D. MPR bukan lagi sebagai lembaga tertinggi negara.
 E. MPR tidak lagi memilih Presiden dan Wakil Presiden, tetapi hanya melantik Presiden dan Wakil Presiden hasil pemilihan umum secara langsung oleh rakyat.
50. Pada tahun 2001, MPR dalam Sidang Tahunan tahun 2001 ditetapkan perubahan ketiga atas UUD 1945. Dalam amandemen ini, perubahan yang sangat mendasar tentang Presiden adalah...
 A. Presiden dan Wakil Presiden dapat dipilih langsung oleh rakyat.
 B. Presiden dan atau Wakil Presiden tidak dapat diberhentikan dari jabatannya.
 C. Presiden dan atau Wakil Presiden dapat diberhentikan DPR dan DPD atas usul MPR berdasarkan keputusan Mahkamah Konstitusi.
 D. Presiden tidak dapat membekukan dan membubarkan DPR.
 E. Presiden mengangkat Ketua DPD, Mahkamah Konstitusi, dan Komisi Yudisial.
51. Pada tahun 2001, MPR dalam Sidang Tahunan tahun 2001 ditetapkan perubahan ketiga atas UUD 1945. Dalam amandemen ini, perubahan yang sangat mendasar tentang MPR, kecuali...
 A. MPR tidak lagi memegang dan melaksanakan kedaulatan rakyat.

- B. MPR tidak lagi menetapkan GBHN.
- C. MPR bukan lagi sebagai lembaga tertinggi negara
- D. MPR tidak lagi memilih Presiden dan Wakil Presiden, tetapi hanya melantik Presiden dan Wakil Presiden hasil pemilihan umum secara langsung oleh rakyat.
- E. MPR hanya dapat memberhentikan Presiden dan atau Wakil Presiden atas usul DPR berdasarkan keputusan Mahkamah Agung.
- 52.** Dalam Sidang Tahunan tahun 2000 diadakan perubahan kedua UUD 1945 yang ditetapkan pada tanggal 18 Agustus 2000, dan dalam amandemen ini ditegaskan tentang...
- A. Fungsi DPR (legislasi, anggaran, dan pengawasan). Untuk melaksanakan fungsinya, DPR mempunyai hak-hak yaitu hak interpelasi, hak angket, dan hak menyatakan pendapat.
- B. Penyempurnaan pasal 18 tentang Pemerintahan Daerah, penyempurnaan pasal 28 ditambah pasal 28 A sampai dengan pasal 28 J tentang Hak Asasi Manusia (HAM).
- C. Hak Asasi Manusia (HAM) dan penyempurnaan pasal 30 tentang Pertahanan Keamanan.
- D. A, B, dan C benar.
- E. Hanya A dan C yang benar.
- 53.** Amandemen UUD 1945 pertama ditetapkan pada tanggal...
- A. 14 Oktober 1999
- B. 17 Oktober 1999
- C. 19 Oktober 1999
- D. 21 Oktober 1999
- E. 22 Oktober 1999
- 54.** Pada tanggal 14 Oktober sampai dengan 22 Oktober 1999 diadakan sidang umum MPR hasil pemilu 7 Juni 1999 salah satunya menetapkan perubahan pertama UUD 1945. Perubahan penting dalam amandemen pertama yang ditetapkan tanggal 19 Oktober 1999 adalah...
- A. dibatasinya masa jabatan Presiden paling banyak 2 masa jabatan
- B. ditegaskannya tentang fungsi DPR (legislasi, anggaran, dan pengawas-an)
- C. bahwa pemegang kekuasaan pembentuk UU adalah DPR, bukan lagi Presiden
- D. A dan B benar
- E. A dan C benar
- 55.** Sidang MPRS pada tahun 1967 menetapkan Jenderal Soeharto sebagai Presiden Republik Indonesia tetap sampai terpilihnya hasil pemilu dengan ketetapan...
- A. (TAP MPRS No.XLIII/ MPRS/1968)
- B. (TAP MPRS No.XLIV/ MPRS/1968)
- C. (TAP MPRS No.XLV/ MPRS/1968)

- D. (TAP MPRS No.XLVI/MPRS/1968)
- E. (TAP MPRS No.XLVII/MPRS/1968)
- 56.** Sidang MPRS pada tahun 1967 menetapkan Jenderal Soeharto sebagai pejabat presiden Republik Indonesia dengan ketetapan...
- A. (TAP MPRS No.XXXIII/MPRS/1967)
- B. (TAP MPRS No.XXXIV/MPRS/1967)
- C. (TAP MPRS No.XXXV/MPRS/1967)
- D. (TAP MPRS No.XXXVI/MPRS/1967)
- E. (TAP MPRS No.XXXVII/MPRS/1967)
- 57.** Perhatikanlah pernyataan berikut!
- (1) Bubarkan PKI
 - (2) Turunkan Presiden Soekarno
 - (3) Bersihkan Kabinet dari unsur-unsur G-30-S/PKI
 - (4) Turunkan harga-harga/perbaiki ekonomi
 - (5) Laksanakan pemilihan umum
- Dengan dipelopori oleh pemuda/mahasiswa, rakyat menyampaikan Tri Tuntutan Rakyat (TRITURA), yaitu...
- A. 1, 2, dan 3
- B. 2, 3, dan 4
- C. 1, 3, dan 4
- D. 1, 2, 3, dan 4
- E. 3, 4, dan 5
- 58.** Dalam kurun waktu berlakunya UUDS 1950 dari tanggal 17 Agustus 1950 hingga 5 Juli 1959, telah terjadi pergantian kabinet karena dijatuhkan DPR sebanyak...
- A. 5 (lima) kali
- B. 6 (enam) kali
- C. 7 (tujuh) kali
- D. 8 (delapan) kali
- E. 17 (tujuh belas) kali
- 59.** UUDS 1950 menganut sistem kabinet parlementer, artinya...
- A. Presiden tidak memegang kekuasaan pemerintahan. Presiden sekadar “konstitusional” belaka. Kekuasaan pemerintah di tangan kabinet yang dipimpin oleh perdana menteri.
- B. Para menteri yang dipimpin oleh perdana menteri bertanggung jawab kepada DPR/Parlemen.
- C. Para menteri yang dipimpin oleh presiden dan bertanggung jawab kepada DPR/parlemen.
- D. Menganut Landasan Demokrasi Liberal UUDS yang mengutamakan kebebasan individu.
- E. Pilihan A, B, dan D benar
- 60.** Pada masa konstitusi Republik Indonesia Serikat (RIS), posisi Presiden adalah sebagai...
- A. Kepala Negara dan Pemimpin Menteri
- B. Kepala Pemerintahan
- C. Kepala Negara dan Pemerintahan
- D. Pemimpin Menteri
- E. Kepala Negara

Petunjuk A: Pilih satu jawapan yang paling tepat

1. Di bawah ini merupakan pokok kajian hukum tata negara, *kecuali*...
 - A. Bentuk dan penyusunan alat-alat perlengkapan negara
 - B. Wewenang, fungsi, tugas, dan tanggung jawab dari masing-masing alat perlengkapan negara
 - C. Hubungan antara alat perlengkapan negara, baik yang bersifat horizontal maupun vertikal
 - D. Hubungan antara warga negara dengan negara termasuk hak-hak asasi dari warga negara
 - E. Prinsip-prinsip hukum mengenai pelaksanaan dari tugas, wewenang, dan kewajiban negara tersebut

2. Dalam sejarah ketatanegaraan Indonesia, pada tanggal 16 Oktober 1945 diterbitkan maklumat wakil presiden No.X tahun 1945 untuk memberikan penguatan terhadap langkah-langkah demokratisasi pemerintah setelah Proklamasi Kemerdekaan 17 Agustus 1945. Isi dari maklumat tersebut antara lain...
 - A. KNIP disertai kekuasaan legislatif dan ikut serta membuat/menetapkan GBHN sebelum terbentuk DPR dan MPR
 - B. Menetapkan DPRGR (Dewan Perwakilan Rakyat Gotong-Royong)
 - C. Menetapkan MPRS (Majelis Permusyawaratan Rakyat Sementara)
 - D. Pembentukan delapan provinsi
 - E. Kembali kepada UUD 1945

3. Peradilan terhadap pemakzulan presiden dan atau wakil presiden dalam ketatanegaraan kita merupakan salah satu kewenangan mahkamah konstitusi. Alasan pemakzulan presiden dan atau wakil presiden dalam UUD 1945 adalah, *kecuali*...
 - A. Pelanggaran hukum berupa pengkhianatan negara
 - B. Melakukan korupsi dan kolusi
 - C. Melakukan tindak pidana berat
 - D. Melakukan perbuatan tercela lainnya
 - E. Tidak menghadiri undangan DPR dalam rapat pansus

4. Untuk melaksanakan tugas dan kegiatannya, parlemen biasanya dilengkapi dengan hak-hak sebagai berikut, *kecuali*...
 - A. Hak interpelasi dan pertanyaan
 - B. Hak penyelidikan terhadap kasus-kasus dugaan pelanggaran oleh pemerintah
 - C. Hak resolusi atau pernyataan pendapat
 - D. Hak mengingatkan atau memorandum
 - E. Hak kekebalan (imunitas)

5. Untuk menjamin pelaksanaan tugas dan hak-hak lembaga parlemen itu, maka pada setiap anggota parlemen biasanya diberikan hak-hak sebagai berikut, *kecuali*...
- Hak bertanya
 - Hak mengusulkan untuk dilaksanakannya hak-hak lembaga parlemen
 - Hak protokol
 - Hak mengingatkan/memorandum
 - Hak kekebalan/imunitas
6. Di bawah ini merupakan perbedaan objek kajian antara ilmu negara dengan hukum tata negara, yaitu ...
- Ilmu negara melakukan kajian negara yang masih abstrak. Hukum tata negara objek kajiannya adalah negara dalam pengertian konkrit.
 - Ilmu negara melakukan kajian negara dalam pengertian konkrit. Hukum tata negara melakukan kajian negara yang masih abstrak.
 - Ilmu negara dan hukum tata negara sama kajiannya, yaitu negara dalam keadaan konkrit.
 - Ilmu negara dan hukum tata negara mempunyai objek kajian yang sama.
 - Ilmu negara dan hukum tata negara objek kajiannya adalah negara tertentu.
7. Syarat-syarat untuk terselenggaranya pemerintahan yang demokratis di bawah *Rule of Law* adalah sebagai berikut, *kecuali*...
- Perlindungan konstitusional
 - Badan kehakiman yang bebas dan tidak memihak
 - Kebebasan untuk menyatakan pendapat
 - Pendidikan Kewarganegaran atau *civic education*
 - Adanya lembaga eksaminatif
8. Dalam konsep negara kesejahteraan (*welfare state*), maka fungsi negara adalah...
- Menjaga keamanan rakyat
 - Menjaga ketertiban rakyat
 - Memberikan pelayanan kepada masyarakat dalam rangka meningkatkan kesejahteraan umum warga negara
 - Melindungi hak-hak milik pribadi agar tidak diganggu orang lain
 - Menyediakan pelayanan dan kesejahteraan bagi sekelompok orang
9. Dalam ilmu hukum tata negara dikenal adanya prinsip *Freis ermessen*, yaitu...
- Kebebasan presiden untuk membuat segala peraturan
 - Kebebasan presiden untuk mengajukan rancangan undang-undang
 - Kebebasan presiden untuk mengangkat dan memberhentikan para menteri
 - Kebebasan bagi pemerintah untuk memiliki ruang gerak yang

leluasa dalam usahanya mencapai tujuan pemerintahan

- E. Kebebasan presiden untuk melakukan *reshuffle* menteri dalam kabinetnya
10. Pendapat Dewan Perwakilan Rakyat bahwa presiden atau wakil presiden telah melakukan pelanggaran hukum atau tidak lagi memenuhi syarat sebagai presiden ditunjukkan dalam rangka pelaksanaan fungsi DPR, yaitu fungsi...
- A. pengawasan
 - B. angket
 - C. anggaran
 - D. legislasi
 - E. interpelasi
11. Kekuasaan presiden sebagai kepala negara dalam bidang yudikatif antara lain adalah sebagai berikut, *kecuali*...
- A. memberikan Grasi
 - B. memberikan Abolisi
 - C. memberikan Amnesti
 - D. memberikan Rehabilitasi
 - E. memberikan gelar dan tanda jasa
12. Dalam pasal 22 ayat 1 dalam hal ihwal kegentingan yang memaksa, presiden berhak untuk menetapkan peraturan pemerintah sebagai pengganti Undang-Undang. Apabila Perpu tersebut tidak mendapat persetujuan DPR dalam persidangan berikutnya, maka Perpu tersebut harus...
- A. Dicabut
 - B. Tetap diberlakukan karena keadaan genting dan memaksa
 - C. Tidak perlu dimintakan persetujuan DPR
 - D. Diganti
 - E. Didiamkan
13. Dalam penyelenggaraan pemerintahan lokal dikenal adanya empat macam asas penyelenggaraan sebagai berikut, *kecuali*...
- A. Desentralisasi
 - B. Konfederasi
 - C. Medebewind
 - D. Dekonsentrasi
 - E. Sentralisasi
14. Di bawah ini adalah kebaikan dari pelaksanaan asas desentralisasi, *kecuali*...
- A. Daerah termasuk rakyat yang ada di dalamnya menjadi subyek dalam pengambilan keputusan ditingkat lokal (daerah)
 - B. Dapat meringankan beban pemerintah pusat dalam mengambil kebijaksanaan-kebijaksanaan yang bersifat kedaerahan
 - C. Merupakan sarana yang tepat untuk melakukan pendidikan demokrasi tingkat lokal
 - D. Memberikan penilaian yang relatif bersifat tepat pada sifat yang berbeda-beda dari wilayah dan penduduk suatu negara
 - E. Membuka kemungkinan munculnya fanatisme daerah.

15. Pemerintahan lokal atau daerah di Indonesia diatur dalam Pasal 18 UUD 1945. Dari pasal 18 tersebut dapat disimpulkan beberapa hal di bawah ini, *kecuali*...
- Prinsip daerah mengatur dan mengurus sendiri pemerintahannya menurut asas otonomi dan tugas pembantuan hal ini menegaskan bahwa pemerintahan daerah adalah pemerintahan otonomi dalam negara kesatuan Republik Indonesia.
 - Prinsip mengakui dan menghormati kesatuan masyarakat hukum adat beserta hak otonominya.
 - Prinsip mengakui dan menghormati pemerintahan daerah yang bersifat khusus dan istimewa (DIY, Aceh, otonomi khusus Papua).
 - Prinsip badan perwakilan dipilih langsung dalam suatu pemilihan umum.
 - Prinsip menjalankan otonomi seluas-luasnya termasuk dalam hal politik luar negeri, pertahanan, keamanan, yustisi, moneter dan fiskal nasional, serta agama.
16. Yang bukan merupakan hak-hak daerah dalam rangka penyelenggaraan otonomi daerah adalah...
- menyelenggarakan kebijakan di bidang pertahanan dan keamanan
 - mengelola kekayaan daerah
 - memungut pajak daerah dan retribusi
 - mendapatkan bagi hasil dari pengelolaan sumber daya alam dan sumber daya lainnya di daerah
 - mendapatkan sumber-sumber pendapatan lainnya yang sah
17. UUDS tahun 1950 yang pernah berlaku di Indonesia bersifat sementara. Hal ini terlihat jelas dalam rumusan pasal 134 yang berisi...
- Konstituante bersama-sama pemerintah segera menyusun UUD Republik Indonesia yang akan menggantikan UUDS 1950
 - Ketentuan tanggal berakhirnya pemberlakuan UUDS
 - UUDS akan segera diganti dengan KRIS
 - Pernyataan kembali ke UUD 1945 yang menggantikan UUDS
 - UUDS 1950 hanya berlaku sampai jangka waktu tahun 1959
18. Dekrit presiden 5 Juli 1959 berisi antara lain, *kecuali*...
- Membubarkan konstituante
 - Pemberlakuan kembali UUD 1945
 - Tidak berlakunya UUDS 1950
 - Pembentukan MPRS dan DPAS
 - Pergantian sistem parlementer ke sistem presidensial
19. Salah satu latar belakang dikeluarkannya dekrit presiden 5 Juli 1959 adalah...
- Kegagalan konstituante untuk menyusun Undang-undang Dasar Republik Indonesia yang akan menggantikan UUDS 1950

- B. Keinginan Presiden Soekarno untuk menjalankan demokrasi terpimpin
 - C. Adanya resesi ekonomi, sehingga menimbulkan inflasi yang sangat tinggi
 - D. Perubahan sistem pemerintahan
 - E. Jatuh banggunya kabinet parlementer
20. Salah satu gagasan untuk menjadikan MPR bukan lagi sebagai lembaga tertinggi negara tetapi merupakan lembaga negara karena...
- A. Untuk mereduksi kekuasaan MPR
 - B. Agar presiden mempunyai kedudukan yang setara dan sejajar dengan MPR
 - C. Bahwa MPR bukan satu-satunya lembaga yang melaksanakan kedaulatan rakyat, sehingga setiap lembaga yang mengemban tugas-tugas politik negara dan pemerintahan (kecuali kekuasaan kehakiman) adalah pelaksana kedaulatan rakyat dan harus tunduk dan bertanggung jawab kepada rakyat
 - D. Dalam sistem ketatanegaraan terdiri dari tricameral, yaitu MPR, DPR dan DPD
 - E. Kekuasaan MPR, DPR, presiden, DPD adalah sama dan sejajar sehingga presiden tidak dapat diberhentikan oleh lembaga-lembaga negara tersebut termasuk MPR dan DPR
21. Di bawah ini adalah mekanisme perubahan UUD 1945 yang diatur dalam pasal 37, *kecuali*...
- A. Usul perubahan pasal-pasal UUD 1945 dapat diagendakan dalam sidang MPR apabila diajukan oleh sekurang-kurangnya 1/3 dari jumlah anggota MPR
 - B. Setiap usul perubahan pasal-pasal Undang-Undang Dasar diajukan secara tertulis dan ditujukan dengan jelas bagian yang diusulkan untuk diubah beserta alasannya
 - C. Untuk mengubah pasal-pasal UUD, sidang MPR dihadiri sekurang-kurangnya 2/3 dari jumlah anggota MPR
 - D. Putusan untuk mengubah pasal Undang-Undang Dasar dilakukan dengan persetujuan sekurang-kurangnya lima puluh persen ditambah satu anggota dari seluruh anggota MPR
 - E. MPR dapat melakukan perubahan dalam semua pasal-pasal UUD termasuk mengenai bentuk negara
22. Dari perubahan pasal 5 dan pasal 20 UUD 1945 terjadi perubahan yang signifikan dalam fungsi legislasi, yaitu...
- A. Kekuasaan membentuk UU ada di tangan DPR
 - B. DPR hanya berhak untuk mengajukan rancangan undang-undang
 - C. Kekuasaan membentuk undang-undang ada di tangan DPR

- D. Presiden tidak mempunyai hak untuk mengajukan rancangan Undang-Undang
- E. Kekuasaan membentuk UU ada di tangan DPR, MPR, dan DPD
23. Baru-baru ini DPR menggunakan hak angketnya dalam kasus Bank Centrury dengan membentuk pansus Bank Century, hak angket ini menunjang salah satu fungsi dari DPR, yaitu fungsi...
- A. Legislasi
- B. Pengawasan
- C. Budgeter
- D. Memorandum
- E. *Impeachment*
24. DPR mempunyai kekuasaan untuk memilih anggota BPK dengan memperhatikan saran dari...
- A. MPR
- B. Presiden
- C. DPD
- D. Menteri keuangan
- E. MA
25. Anggota Komisi Yudisial diangkat dan diberhentikan oleh presiden dengan persetujuan dari...
- A. DPR
- B. MPR
- C. MA
- D. Menteri Kehakiman
- E. Jaksa Agung
26. Di bawah ini merupakan tugas dari Komisi Yudisial, *kecuali*...
- A. Melakukan pendaftaran calon hakim agung
- B. Melakukan seleksi terhadap calon hakim agung
- C. Menetapkan calon hakim agung
- D. Mengajukan calon hakim agung ke DPR
- E. Mengangkat hakim-hakim di pengadilan negeri dan pengadilan tinggi
27. Di bawah ini adalah lingkungan peradilan yang berada di bawah Mahkamah Agung seperti yang tersurat dalam pasal 24 ayat 2, *kecuali*...
- A. Peradilan Umum
- B. Peradilan Agama
- C. Peradilan Militer
- D. Peradilan Tata Usaha Negara
- E. Peradilan Anak
28. Ketentuan tentang Pemilu diatur dalam Pasal 22 E UUD 1945, dimana penyelenggara pemilu dilakukan oleh...
- A. Suatu Komisi Pemilihan Umum Nasional (KPU)
- B. Menteri Dalam Negeri
- C. DPR
- D. Daerah otonom
- E. Sekretaris daerah
29. Perubahan UUD 1945 pasal 30 ayat 3 dan ayat 4 membawa perubahan mengenai pemisahan tugas TNI dan POLRI, yaitu...
- A. TNI dan POLRI bersama-sama menjaga keutuhan dan kedaulatan negara.
- B. TNI dan POLRI bertugas mengayomi dan melindungi masyarakat.

- C. TNI bertugas menjaga keutuhan dan kedaulatan negara, POLRI bertugas mengayomi dan melindungi masyarakat.
- D. POLRI bertugas menjaga keutuhan dan kedaulatan negara, TNI bertugas mengayomi dan melindungi masyarakat.
- E. POLRI dan TNI bersama-sama bertugas menjaga keutuhan dan kedaulatan negara, menegakkan hukum dan melayani masyarakat.
- 30.** UU yang mengatur tentang Tentara Nasional Indonesia adalah...
- A. UU No.34 tahun 2004
- B. UU No.32 tahun 2004
- C. UU No.23 tahun 2004
- D. UU No.25 tahun 2004
- E. UU No.2 tahun 2002
- 31.** 1. UUD 1945
2. Undang-undang/peraturan pemerintah pengganti UU
3. Peraturan pemerintah
4. Keputusan presiden
5. Peraturan presiden
6. Peraturan daerah
7. PERDES
- Hierarki peraturan perundang-undangan menurut UU No.10 tahun 2004 adalah...
- A. 1, 2, 3, 5, 6
- B. 1, 2, 3, 4, 5, 6, 7
- C. 1, 2, 3, 5, 7
- D. 1, 2, 3, 4, 6, 7
- E. 1, 2, 5, 4, 7
- 32.** Materi muatan peraturan pemerintah berisi...
- A. Sama dengan materi muatan undang-undang
- B. Materi untuk menjalankan undang-undang sebagaimana mestinya
- C. Materi untuk melaksanakan peraturan presiden
- D. Materi dalam rangka penyelenggaraan otonomi daerah
- E. Materi untuk melaksanakan keputusan presiden
- 33.** Pada hakikatnya, materi muatan Perpu sama dan sederajat dengan undang-undang, tetapi yang membedakannya adalah dalam hal...
- A. Pembentukannya
- B. Masa berlakunya
- C. Pengesahannya
- D. Rancangannya
- E. Ketentuan pemaksanya
- 34.** Salah satu asas penting dalam negara hukum adalah adanya asas legalitas, dalam asas legalitas menghendaki...
- A. Agar setiap tindakan badan/pejabat administrasi berdasarkan undang-undang
- B. Agar setiap orang mempunyai kedudukan yang sama dalam hukum
- C. Tiap-tiap warga negara berhak dan wajib menjunjung tinggi hukum yang berlaku
- D. Negara berdasarkan atas hukum

- E. Pemerintahan yang berkuasa harus mempunyai dasar legitimasi yang kuat
35. Paham kedaulatan rakyat secara tegas dinyatakan dalam pembukaan UUD 1945 alinea...
- Satu
 - Dua
 - Tiga
 - Empat
 - Dua dan empat
36. Makna prinsip negara kesatuan dalam ketatanegaraan Indonesia yang dinyatakan dalam UUD 1945 pasal 1 ayat 1 antara lain...
- Memegang tampuk kekuasaan tertinggi atas segenap urusan negara ialah pemerintahan pusat
 - Wilayah-wilayah di Indonesia merupakan wilayah yang independen
 - Daerah istimewa mempunyai sistem penyelenggaraan pemerintahan yang berbeda dengan wilayah lainnya dan tidak tunduk pada pemerintah pusat
 - Pemerintahan pusat memegang kekuasaan otoriter atas daerah-daerah
 - Daerah tidak mempunyai hak untuk mengurus wilayahnya sendiri
37. Aspek perimbangan kekuasaan mengenai hubungan presiden dan DPR, presiden dan Mahkamah Agung tampak dalam pasal...
- Pasal 13
 - Pasal 14
 - Pasal 13 dan 14
 - Pasal 13 dan 15
 - Pasal 15
38. Nilai-nilai yang harus terkandung dalam suatu konstitusi negara salah satunya adalah nilai normatif. Nilai normatif adalah...
- Bagi suatu bangsa konstitusi itu bukan saja berlaku dalam arti hukum, tetapi juga merupakan suatu kenyataan (*reality*)
 - Dalam hal ini konstitusi menurut hukum memang berlaku tetapi kenyataannya tidak sempurna
 - Konstitusi itu secara hukum tetap berlaku, tetapi dalam kenyataannya hanya sekedar untuk memberi bentuk dari tempat yang telah ada dan untuk melaksanakan kekuasaan politik
 - Konstitusi haruslah dipatuhi sebagai hukum yang berlaku
 - Konstitusi mengharuskan apa yang boleh dilakukan dan apa yang tidak boleh dilakukan.
39. Di bawah ini adalah lembaga-lembaga yang ada di Indonesia setelah amandemen UUD 1945, *kecuali*...
- MPR
 - DPR
 - DPA
 - MK (Mahkamah Konstitusi)
 - DPD (Dewan Perwakilan Daerah)

40. Di bawah ini adalah sumber hukum formil dari hukum tata negara Indonesia, *kecuali*...
- Pancasila
 - Perundang-undangan
 - Yurisprudensi
 - Kebiasaan
 - Doktrin
41. Yang merupakan sumber hukum material dari hukum tata negara Indonesia adalah...
- Pancasila
 - Perundang-undangan
 - Yurisprudensi
 - Kebiasaan
 - Doktrin
42. Substansi utama yang harus terkandung dalam sebuah konstitusi antara lain, *kecuali*...
- Terjaminnya perlindungan HAM
 - Pemisahan kekuasaan
 - Legalitas pemerintah
 - Peradilan yang bebas
 - Sistem pemerintahan presidensial
43. Di bawah ini adalah bentuk peraturan perundang-undangan pada masa penjajahan Belanda pada waktu berlakunya IS (*Indische Staatsregeling*) adalah...
- Wet*
 - Algemene Maatsregelen van Bestuur*
 - Ordonantie*
 - Regering Verordeningen*
 - Tap MPR
44. Dalam teori hukum tata negara dikenal adanya empat cara untuk mengubah atau memperlakukan suatu UUD (konstitusi) yaitu seperti di bawah ini, *kecuali*...
- Dilakukan oleh pemegang kekuasaan legislatif dengan pembatasan-pembatasan tertentu
 - Dilakukan melalui referendum
 - Dilakukan oleh sejumlah negara negara-negara bagian
 - Dilakukan dalam suatu konvensi atau suatu lembaga-lembaga khusus yang dibentuk hanya untuk keperluan perubahan konstitusi
 - Dilakukan oleh pemegang kekuasaan eksekutif dan legislatif
45. Yang dimaksud dengan referendum adalah...
- Suatu kegiatan untuk memilih para anggota parlemen
 - Suatu kegiatan politik yang dilakukan oleh rakyat untuk memberikan keputusan menolak atau setuju terhadap kebijakan yang diambil oleh parlemen
 - Suatu kegiatan politik yang dilakukan oleh rakyat, manakala presiden menyimpang dari konstitusi dan rakyat punya hak untuk melakukan *impeachment*
 - Suatu kegiatan politik rakyat yang dilakukan untuk menjatuhkan parlemen
 - Suatu kegiatan politik rakyat yang dilakukan untuk menjatuhkan kabinet

46. Contoh negara yang melaksanakan praktek referendum dalam mengontrol jalannya pemerintahan adalah...
- A. Amerika D. Perancis
B. Inggris E. Swiss
C. Malaysia
47. Referendum Obligator wajib dilakukan manakala...
- A. Meminta pendapat secara langsung terhadap suatu rancangan undang-undang yang akan diundangkan
B. Meminta pendapat secara langsung kepada rakyat tentang setuju atau tidaknya terhadap undang-undang yang sudah berlaku, tetapi sementara ada sebagian rakyat yang menggugatnya
C. Meminta pendapat secara langsung kepada rakyat tentang setuju atau tidaknya terhadap rancangan undang-undang federal
D. Meminta pendapat secara langsung pada rakyat manakala terjadi pergantian kabinet
E. Meminta pendapat secara langsung pada rakyat apabila presiden melanggar hukum
48. Teori *Stufenbau des Rechts* (disebut juga *Stufenbautheorie* atau teori hierarki norma hukum dari Kelsen mempunyai makna bahwa...
- A. bahwa norma-norma (termasuk norma hukum) itu berjenjang dan berlapis-lapis dalam suatu hierarki tata susunan, dimana suatu norma yang lebih rendah berlaku, bersumber, dan berdasar pada norma yang lebih tinggi, demikian seterusnya
- B. bahwa norma-norma (termasuk norma hukum) itu berjenjang dan berlapis-lapis dalam suatu hierarki tata susunan, dimana suatu norma tidak diatur menurut tinggi rendahnya
- C. Norma-norma itu merupakan satu kesatuan sistem
- D. Satu norma dengan norma yang lainnya saling mengabaikan
- E. Norma yang khusus mengenyampingkan norma umum
49. Suatu norma yang tidak dapat ditelusuri lebih lanjut dan bersifat hipotetis dan fiktif disebut...
- A. *Grundnorm* (norma dasar)
B. Norma hukum
C. Norma agama
D. Norma kesopanan
E. Norma kesusilaan
50. Di bawah ini merupakan alat kelengkapan DPD, *kecuali*...
- A. Pimpinan
B. Panitia *ad hoc*
C. Badan kehormatan
D. Panitia-panitia lain yang diperlukan
E. Panitia pengawas
51. Dalam sistem ketatanegaraan kita pasca amandemen UUD 1945, perubahan mekanisme pemilihan presiden dan wakil presiden diatur dalam pasal...

- A. Pasal 4 D. Pasal 7
 B. Pasal 5 E. Pasal 8
 C. Pasal 6
52. Berdasarkan pasal tersebut di atas, maka mekanisme pemilihan presiden dan wakil presiden dilakukan dengan cara...
- A. Dipilih oleh MPR
 B. Dipilih oleh DPD dan MPR
 C. Dipilih oleh DPR dan MPR
 D. Presiden dan wakil presiden dipilih secara langsung dalam pemilihan yang terpisah
 E. Presiden dan wakil presiden dipilih dalam suatu pasangan secara langsung oleh rakyat
53. Ketentuan mengenai presiden tidak dapat membubarkan atau membekukan Dewan Perwakilan Rakyat diatur dalam...
- A. Pasal 6 UUD 1945
 B. Pasal 7c UUD 1945
 C. Pasal 7a UUD 1945
 D. Pasal 8a UUD 1945
 E. Pasal 9
54. Dalam sistem ketatanegaraan kita, presiden berhak membubarkan DPR. Hal ini terjadi dalam praktek ketatanegaraan kita pada waktu berlakunya...
- A. KRIS
 B. UUDS 1950
 C. UUD 1945 pada awal kemerdekaan
 D. UUD 1945 pasca amendemen
 E. Dekrit presiden 5 Juli 1959
55. Sejalan dengan era reformasi, maka muncul beberapa lembaga-lembaga khusus yang bersifat independen yang tidak diatur dalam UUD 1945 antara lain seperti di bawah ini, *kecuali*...
- A. Komisi Yudisial
 B. Komisi Pemilihan Umum
 C. Komisi Ombudsman
 D. Komisi Pemberantasan Korupsi
 E. Komisi Kebenaran dan Rekonsiliasi
56. Di bawah ini adalah lembaga-lembaga negara yang pernah ada di Hindia Belanda pada masa penjajahan Belanda, *kecuali*...
- A. Eksekutif
 B. Legislatif
 C. Yudikatif
 D. Auditif
 E. KNIP
57. Lembaga legislatif pada masa Hindia Belanda dinamakan...
- A. KNIP
 B. Gubernur jenderal
 C. Volksraad
 D. Hoogerechtshof
 E. Algemene rekenkamer
58. Semua produk hukum tertulis yang berisi norma yang bersifat mengatur (*regeling*) dalam ilmu tata negara disebut...
- A. Peraturan perundang-undangan
 B. Yurisprudensi
 C. Norma
 D. Doktrin
 E. Konvensi

59. Van Vollenhoven membagi fungsi kekuasaan ke dalam empat fungsi (biasa dikenal dengan catur praja) seperti di bawah ini, *kecuali...*
- A. regeling
 - B. bestuur
 - C. rechtspraak
 - D. politie
 - E. yudikatif
60. Dalam pembagian kekuasaan menurut Van Vollen Hoven tersebut di atas, yang merupakan fungsi untuk menjaga ketertiban dalam masyarakat (*social order*) dan peri kehidupan bernegara adalah...
- A. regeling
 - B. bestuur
 - C. rechtspraak
 - D. politie
 - E. yudikatif
61. Doktrin mengenai pemisahan kekuasaan yang diajarkan oleh Montesquie dalam memahami sistem ketatanegaraan negara Inggris terdapat dalam bukunya yang berjudul...
- A. L' Esprit des Lois
 - B. Second Treatise of Civil Government
 - C. Constitutional Theory
 - D. Constitutional Democracy
 - E. Wet en wetboeken
62. Di bawah ini merupakan tujuan dari diselenggarakannya pemilihan umum, *kecuali...*
- A. untuk memungkinkan terjadinya peralihan kepemimpinan pemerintahan secara tertib dan damai
 - B. untuk memungkinkan terjadinya pergantian pejabat yang akan mewakili kepentingan rakyat di lembaga perwakilan
 - C. untuk melaksanakan prinsip kedaulatan rakyat
 - D. untuk melaksanakan prinsip hak-hak asasi warga negara
 - E. untuk mempertahankan status quo
63. Sistem pemerintahan menurut UUD 1945, sistem kabinet bukan lagi sistem presidensil tetapi sistem kabinet parlementer di mana kabinet yang baik secara perorangan maupun kolektif bertanggung jawab kepada parlemen setelah keluarnya...
- A. PP No.3 tahun 1945
 - B. Maklumat Wakil Presiden No.X tanggal 14 November 1945
 - C. Perpu No.3 tahun 1945
 - D. Pertanggungjawaban Presiden RI
 - E. Maklumat pemerintah tanggal 14 November 1945
64. Di bawah ini adalah prinsip-prinsip yang dianut dalam sistem presidensil, *kecuali...*
- A. kepala negara menjadi kepala pemerintahan
 - B. pemerintahan tidak bertanggung jawab kepada parlemen (DPR)
 - C. menteri-menteri diangkat dan bertanggung jawab kepada presiden
 - D. eksekutif dan legislatif sama kuatnya
 - E. kedudukan eksekutif lebih rendah (tergantung pada parlemen)
65. Di bawah ini adalah prinsip-prinsip yang dianut dalam sistem parlementer, *kecuali...*

- A. Kepala negara tidak berkedudukan sebagai kepala negara
 - B. Pemerintah dilakukan oleh sebuah kabinet yang dipimpin oleh perdana menteri
 - C. Kabinet bertanggung jawab kepada dan dapat dijatuhkan oleh parlemen melalui mosi
 - D. Kedudukan eksekutif lebih rendah dan tergantung pada parlemen
 - E. Eksekutif dan legislatif sama kuatnya
- 66.** Dalam sejarah ketatanegaraan Republik Indonesia pada waktu berlakunya Konstitusi RIS, kita menggunakan sistem pemerintahan...
- A. parlementer
 - B. presidensil
 - C. semi parlementer
 - D. quasi presidensil
 - E. presidensil tidak murni
- 67.** Pengajuan permintaan pemberhentian presiden yang dilakukan oleh DPR harus memenuhi persyaratan seperti dalam pasal 7B ayat 3 UUD 1945, yaitu...
- A. Didukung sekurang-kurangnya 2/3 dari jumlah anggota DPR yang hadir dalam rapat paripurna yang dihadiri oleh sekurang-kurangnya 2/3 jumlah anggota DPR
 - B. Didukung sekurang-kurangnya 1/3 dari jumlah anggota DPR yang hadir dalam rapat paripurna yang dihadiri oleh sekurang-kurangnya 2/3 jumlah anggota DPR
 - C. Didukung sekurang-kurangnya 1/2 ditambah satu dari jumlah anggota DPR yang hadir dalam rapat paripurna yang dihadiri oleh sekurang-kurangnya 2/3 jumlah anggota DPR
 - D. Didukung sekurang-kurangnya 1/2 dari jumlah anggota DPR yang hadir dalam rapat paripurna yang dihadiri oleh sekurang-kurangnya 1/2 jumlah anggota DPR
 - E. Didukung sekurang-kurangnya 2/3 dari jumlah anggota DPR yang hadir dalam rapat paripurna yang dihadiri oleh sekurang-kurangnya 1/2 ditambah satu jumlah anggota DPR
- 68.** Di bawah ini adalah kekuasaan presiden dalam bidang legislatif antara lain...
- A. menetapkan peraturan pemerintah sebagai tata cara untuk menjalankan undang-undang
 - B. memberikan abolisi
 - C. menyatakan perang dan keadaan damai
 - D. memberikan gelaran dan tanda jasa
 - E. memberikan restitusi
- 69.** Di bawah ini adalah kekuasaan presiden yang terkait dengan tugas selaku kepala pemerintahan, *kecuali*...
- A. kekuasaan membuat undang-undang yang meliputi kekuasaan mempersiapkan dan mengusulkan pembentukan undang-undang dan menetapkan undang-undang

- B. kekuasaan menetapkan peraturan pemerintah sebagai pengganti undang-undang
 - C. kekuasaan menetapkan peraturan pemerintah
 - D. kekuasaan mengangkat dan memberhentikan menteri-menteri negara
 - E. kekuasaan mengangkat duta dan konsul
70. Pembuat undang-undang dasar mengatur secara rinci beberapa macam substansi yang harus ditetapkan dalam bentuk undang-undang. Substansi yang harus ditetapkan dengan undang-undang adalah seperti di bawah ini, *kecuali...*
- A. menyatakan keadaan perang, membuat perdamaian dan perjanjian dengan negara lain
 - B. menetapkan syarat-syarat dan akibat negara dalam keadaan bahaya dalam bentuk undang-undang
 - C. menetapkan dan menyusun anggaran pendapatan negara dan belanja negara yang dimintakan persetujuan kepada Dewan Perwakilan Rakyat
 - D. menetapkan segala macam pajak untuk keperluan negara dengan undang-undang
 - E. penetapan dan pengangkatan duta dan konsul
71. Seperti yang tertuang dalam pasal 20 ayat 2 UUD 1945 dalam melaksanakan fungsinya DPR mempunyai hak angket. Yang dimaksud dengan hak angket adalah...
- A. hak untuk melakukan penyelidikan
 - B. hak untuk menyatakan pendapat
 - C. hak untuk memperoleh protokoler
 - D. hak untuk mengusulkan pemberhentian presiden
 - E. hak untuk meminta keterangan secara langsung kepada presiden tentang suatu kebijakan (*policy*)
72. DPR juga mempunyai hak interpelasi. Hak interpelasi adalah...
- A. hak untuk melakukan penyelidikan
 - B. hak untuk menyatakan pendapat
 - C. hak untuk memperoleh protokoler
 - D. hak untuk mengusulkan pemberhentian presiden
 - E. hak untuk meminta keterangan secara langsung kepada presiden tentang suatu kebijakan (*policy*)
73. Di bawah ini adalah syarat-syarat pemberhentian anggota DPR yang diatur dalam pasal 22B, *kecuali...*
- A. apabila tidak lagi memenuhi syarat keanggotaan sebagaimana yang ditentukan dalam undang-undang
 - B. melakukan perbuatan melanggar hukum (pidana) dengan kualifikasi tertentu, misalnya kejahatan dengan ancaman pidana tertentu
 - C. melakukan perbuatan tercela seperti misalnya mabuk, berjudi,

melakukan perbuatan yang bertentangan dengan rasa kesusi-
laan umum

- D. tidak memenuhi kewajiban yang baik sebagai anggota Dewan Perwakilan Rakyat (DPR)
 - E. apabila tidak menghadiri sidang paripurna DPR tanpa pemberitahuan selama 2 kali berturut-turut
74. Badan legislatif menurut Konstitusi RIS adalah...
- A. DPR
 - B. Senat
 - C. DPR dan Senat
 - D. KNIP
 - E. MPRS
75. Jika presiden dan wakil presiden mangkat, berhenti, diberhentikan atau tidak dapat melakukan kewajiban dalam masa jabatannya secara bersamaan, maka pelaksana tugas kepresidenan dilakukan oleh...
- A. menteri luar negeri
 - B. menteri dalam negeri
 - C. menteri pertahanan
 - D. menteri luar negeri, menteri dalam negeri, dan menteri pertahanan
 - E. menteri luar negeri, menteri dalam negeri, dan menteri perekonomian
76. Sesudah reformasi nasional, diadakan pemisahan yang tegas antara kedudukan dan peran TNI dan POLRI yang ditetapkan dengan...
- A. TAP MPR No.VI/MPR/2000
 - B. TAP MPR No.VII/MPR/2000
 - C. TAP MPR No.VIII/MPR/2000
 - D. TAP MPR No.VI/MPR/2001
 - E. TAP MPR No.VII/MPR/2001
77. Dalam sejarah ketatanegaraan Indonesia di bawah ini adalah konstitusi yang pernah berlaku di Indonesia, *kecuali*...
- A. UUD 1945 yang berlaku antara 17 Agustus 1945—27 Desember 1949
 - B. KRIS
 - C. UUD 1950
 - D. UUD 1945 yang berlaku sejak dikeluarkannya Dekrit Presiden 5 Juli 1959
 - E. UUD 1945 yang berlaku pada masa pemerintahan Republik Indonesia Serikat
78. Di bawah ini adalah ciri-ciri dari negara hukum dari kalangan Eropa kontinental menurut F.J Stahl, *kecuali*...
- A. Pengakuan terhadap hak-hak asasi manusia
 - B. Pemisahan kekuasaan negara
 - C. Pemerintahan berdasarkan undang-undang
 - D. Adanya peradilan administrasi negara
 - E. Kedudukan yang sama di depan hukum
79. Menurut K.C Where, konstitusi dapat diklasifikasikan dalam konstitusi rigid dan konstitusi fleksibel. Konstitusi rigid jika...
- A. memiliki prosedur perubahan yang sulit

- B. memiliki prosedur perubahan yang mudah
 - C. prosedur pengubahan konstitusi sama dengan undang-undang
 - D. konstitusi tersebut tidak dapat diubah
 - E. konstitusi tersebut tidak dapat diganggu gugat
80. Di bawah ini merupakan kehidupan politik rakyat (infrastruktur politik), *kecuali...*
- A. partai politik
 - B. golongan kepentingan
 - C. golongan penekan
 - D. lembaga-lembaga negara
 - E. alat komunikasi politik
81. Dalam pola pengisian lembaga perwakilan rakyat, maka untuk menentukan anggota perwakilan rakyat dapat digolongkan ke dalam dua sistem, yaitu sistem pemilihan organis dan sistem pemilihan mekanis. Sistem pemilihan mekanis adalah...
- A. mengisi keanggotaan lembaga perwakilan rakyat melalui pengangkatan atau penunjukan
 - B. mengisi keanggotaan lembaga perwakilan rakyat melalui pemilu
 - C. mengisi keanggotaan lembaga perwakilan rakyat melalui partai politik
 - D. mengisi keanggotaan lembaga perwakilan rakyat melalui perintah presiden
 - E. mengisi keanggotaan lembaga perwakilan rakyat melalui penunjukan kepala daerah
82. Ketentuan UUD 1945 yang mengatur keberadaan DPD dalam struktur ketatanegaraan Indonesia dimaksudkan untuk hal berikut, *kecuali...*
- A. memperkuat ikatan-ikatan daerah dalam wadah NKRI
 - B. memperteguh persatuan dan kebangsaan seluruh daerah
 - C. meningkatkan agregasi dan akomodasi kepentingan daerah dalam perumusan kebijakan nasional
 - D. mendorong percepatan demokrasi, pembangunan, dan kemajuan daerah
 - E. menciptakan wakil-wakil daerah yang mampu membela kepentingan daerahnya sendiri di tingkat nasional
83. Berdasarkan konstitusi yang pernah berlaku di Indonesia, Indonesia pernah berbentuk negara serikat, yaitu pada waktu berlakunya...
- A. UUD 1945 yang berlaku antara 17 Agustus 1945—27 Desember 1949
 - B. KRIS
 - C. UUD 1950
 - D. UUD 1945 yang berlaku sejak dikeluarkannya Dekrit Presiden 5 Juli 1959
 - E. UUD 1945 pasca amandemen
84. Badan Pemeriksa Keuangan pada zaman Hindia Belanda dinamakan...
- A. Volksraad
 - B. Hoogerechtshof
 - C. Algemene Rekenkamer
 - D. Raad Van Rekenkamer
 - E. KNIP

85. Laporan pemeriksaan yang dilakukan oleh BPK harus dilaporkan kepada...
- DPR, DPD, DPRD sesuai dengan kewenangannya
 - MPR
 - Presiden
 - Menteri Keuangan
 - Menteri Perekonomian
86. Maklumat Wakil Presiden No.X tahun 1945 merupakan saat lahirnya DPR setelah Indonesia merdeka, hal ini dikarenakan...
- maklumat tersebut mengubah status KNIP menjadi badan yang menjalankan tugas-tugas legislatif
 - maklumat tersebut mengubah sistem pemerintahan menjadi parlementer
 - dengan maklumat tersebut, tugas KNIP hanya semata-mata membantu presiden
 - maklumat tersebut membentuk MPRS dan DPAS
 - maklumat tersebut membentuk DPRGR
87. Apabila sebuah rancangan undang-undang tidak mendapatkan persetujuan bersama, maka...
- rancangan tersebut dimajukan dalam persidangan berikutnya
 - rancangan tersebut dapat langsung diundangkan oleh presiden
 - rancangan tersebut tidak boleh dimajukan lagi dalam persidangan berikutnya
 - rancangan tersebut langsung berlaku sebagai undang-undang
 - menunggu sampai mendapat persetujuan bersama
88. Dalam hal rancangan undang-undang yang telah disetujui bersama apabila dalam waktu tiga puluh hari tidak disahkan oleh presiden, maka...
- rancangan undang-undang tersebut tidak boleh dimajukan dalam persidangan berikutnya
 - rancangan tersebut tidak berlaku
 - rancangan tersebut harus diubah
 - rancangan tersebut sah dan wajib diundangkan
 - rancangan tersebut harus ditinjau ulang
89. Dikeluarkannya perpu selain harus ada hal ihwal kegentingan yang memaksa, maka perlu juga diadakan pembatasan tentang pembentukan perpu, yaitu...
- Perpu dapat diterbitkan dalam segala hal
 - Perpu hanya dapat dibuat apabila DPR sedang tidak bersidang atau reses
 - Perpu dapat diterbitkan diluar hal-hal yang menyangkut administrasi negara (bidang pemerintahan)
 - Perpu dapat diterbitkan apabila rancangan undang-undang tidak disetujui oleh DPR
 - Perpu dapat diterbitkan apabila DPR dan Presiden tidak memperoleh kata sepakat
90. Pembuatan perpu tanpa ada hal ikhwal kegentingan yang memaksa adalah batal demi hukum, karena...

- A. tidak sesuai dan bertentangan dengan undang-undang dasar
 - B. masyarakat tidak menghendaki
 - C. menimbulkan keresahan masyarakat
 - D. menimbulkan overlapping perundang-undangan
 - E. tidak memperoleh kekuatan mengikat
- 91.** Kewenangan untuk menguji undang-undang secara teoritik maupun praktek dikenal ada dua macam, yaitu...
- A. pengujian materiil dan pengujian secara formal
 - B. pengujian tertulis dan pengujian lisan
 - C. pengujian sementara dan pengujian tetap
 - D. pengujian terhadap UU dan pengujian terhadap UUD
 - E. pengujian riil dan pengujian formil
- 92.** Mahkamah konstitusi berwenang mengadili pada tingkat pertama dan terakhir yang putusannya bersifat...
- A. final
 - B. tetap
 - C. mengikat
 - D. sementara
 - E. dapat diubah
- 93.** Di bawah ini adalah bentuk pengawasan yang dapat dilakukan oleh komisi yudisial menurut UU No.22 tahun 2004 pasal 22, *kecuali*...
- A. menerima laporan masyarakat tentang perilaku hakim
 - B. meminta laporan secara berkala kepada badan peradilan berkaitan dengan perilaku hakim
 - C. melakukan pemeriksaan terhadap dugaan pelanggaran perilaku hakim
 - D. memanggil dan meminta keterangan dari hakim yang diduga melanggar kode etik perilaku hakim
 - E. melakukan penyelidikan terhadap perilaku hakim yang menyimpang
- 94.** Di bawah ini adalah beberapa undang-undang yang pernah mengatur mengenai pemerintahan daerah di Indonesia, *kecuali*...
- A. UU No.5 tahun 1974
 - B. UU No.22 tahun 1999
 - C. UU No.32 tahun 2004
 - D. UU No.33 tahun 2004
 - E. UU No.1 tahun 1945
- 95.** Undang-undang yang mengatur mengenai pemerintahan daerah yang sudah mengatur mengenai pemilihan kepala daerah secara langsung adalah...
- A. UU No.5 tahun 1974
 - B. UU No.22 tahun 1999
 - C. UU No.32 tahun 2004
 - D. UU No.33 tahun 2004
 - E. UU No.1 tahun 1945
- 96.** Yang dimaksud dengan otonomi daerah adalah...
- A. hak penduduk daerah untuk mengatur dan mengurus serta mengembangkan urusan daerahnya sendiri dengan tetap memperhatikan peraturan perundang-undangan

- B. hak untuk mengatur daerahnya sendiri dengan seluas-luasnya dan sebebaskan-bebasnya
- C. hak untuk mengangkat dan memilih pimpinan daerah yang berasal dari putra daerah
- D. hak untuk menerapkan kebijakan daerah dan urusan daerah yang berbeda dengan daerah lain
- E. hak penduduk daerah untuk mengatur dan mengurus serta mengembangkan urusan daerahnya sendiri tanpa memperhatikan peraturan perundang-undangan yang berlaku
- 97.** Sumber pendapatan asli daerah dalam rangka menunjang pelaksanaan otonomi daerah berasal dari, *kecuali*...
- A. pajak daerah
- B. retribusi
- C. laba BUMD dan hasil pengelolaan kekayaan lainnya
- D. lain-lain PAD yang sah
- E. dana perimbangan
- 98.** Hadirnya DPD dalam struktur ketatanegaraan Indonesia diatur dalam...
- A. pasal 22c dan 22d UUD 1945
- B. pasal 21 UUD 1945
- C. pasal 24 UUD 1945
- D. pasal 221 dan 22b UUD 1945
- E. pasal 25 UUD 1945
- 99.** Pada waktu Indonesia menganut sistem pemerintahan parlementer, maka dibentuklah kabinet parlementer pertama di bawah pimpinan...
- A. Sutan Syahrir
- B. Amir Syarifudin
- C. Ir. Soekarno
- D. Moh. Hatta
- E. Amir Wilopo
- 100.** Pemilu pertama yang diselenggarakan setelah Indonesia merdeka pada tahun...
- A. 1955
- B. 1956
- C. 1957
- D. 1960
- E. 1965
- 101.** Fungsi presiden menurut UUD 1945 meliputi, *kecuali*...
- A. sebagai kepala negara
- B. sebagai kepala eksekutif memimpin kabinet
- C. sebagai panglima tertinggi angkatan darat, laut, dan udara
- D. sebagai pemimpin dalam perumusan kebijakan luar negeri
- E. sebagai pemimpin dan perumus dalam masalah peradilan di Indonesia
- 102.** Istilah republik berasal dari bahasa latin *res publica* yang artinya...
- A. kepentingan umum
- B. kepentingan negara
- C. kepentingan golongan
- D. kepentingan presiden
- E. kepentingan beberapa orang
- 103.** Contoh negara yang menerapkan sistem republik antara lain, *kecuali*...
- A. Indonesia
- B. Filipina

- C. Inggris
D. Amerika Serikat
E. Jerman
104. MPR setelah amandemen UUD 1945 merupakan lembaga bikameral yang terdiri dari...
- A. DPR dan DPD
B. DPR dan DPA
C. DPD dan DPA
D. DPR dan MK
E. DPR dan Komisi Yudisial
105. Berdasarkan Pasal 1 UUD 1945, kedaulatan adalah di tangan rakyat dan dilakukan oleh...
- A. MPR
B. DPR
C. UUD
D. DPD
E. DPR dan MPR
106. Salah satu perubahan dalam pasal 31 UUD 1945 pasca amandemen adalah ditetapkannya anggaran pendidikan minimal...
- A. 20 % D. 15 %
B. 30% E. 10 %
C. 40%
107. United Nations Development Program (UNDP) mengemukakan bahwa karakteristik atau prinsip-prinsip yang harus dianut dan dikembangkan dalam praktek penyelenggaraan negara yang baik adalah sebagai berikut, *kecuali*...
- A. partisipasi
B. transparansi
C. akuntabel
D. penegakan hukum
- E. melayani sebagian kelompok mayorotas
108. Dalam sistem pemerintahan Indonesia periode 18 Agustus 1945—27 Desember 1949, sebelum terbentuknya MPR, DPR, DPA, BPK, dan MA terbentuk segala kekuasaan dijalankan oleh...
- A. Presiden
B. Komite Nasional
C. Presiden dengan dibantu komite nasional
D. DPRGR
E. MPRS
109. Di negara kita, konvensi memiliki fungsi yang penting yaitu untuk...
- A. menggeser pasal tertentu dalam UUD 1945 yang sudah tidak relevan
B. untuk melaksanakan ketentuan pasal-pasal UUD 1945
C. melengkapi hukum yang berlaku di Indonesia
D. memudahkan pemerintah dalam penyelenggaraan pemerintahan negara
E. mengisi kekosongan hukum selama tidak bertentangan dengan UUD 1945
110. Yang dimaksud dengan sengketa kewenangan antarlembaga negara adalah...
- A. klaim antara lembaga negara yang satu dan yang lainnya mengenai kedudukan yang dimiliki masing-masing lembaga negara tersebut
B. klaim antara lembaga negara yang satu dan yang lainnya

- mengenai kewenangan yang dimiliki masing-masing lembaga negara tersebut
- C. sengketa antara pimpinan lembaga negara yang satu dan yang lainnya
- D. sengketa antara lembaga negara yang satu dan yang lainnya mengenai hak dan kewajiban yang dimiliki masing-masing lembaga negara tersebut
- E. klaim antara lembaga negara yang satu dan yang lainnya mengenai pengawasan yang dilakukan masing-masing lembaga negara tersebut
111. Yang berhak untuk menyelesaikan sengketa kewenangan antarlembaga negara adalah...
- A. DPR D. MPR
B. Presiden E. DPD
C. Mahkamah Konstitusi
112. Sistem pemerintahan presidensial hendaklah didasarkan pada pemikiran bahwa presiden berhak mengangkat dan memberhentikan menteri negara untuk mendukung efektifitas kerja. Sehingga jabatan menteri negara haruslah diisi berdasarkan *merit system* yang artinya...
- A. Diangkat berdasarkan kriteria kecakapannya bekerja
- B. Diangkat berdasarkan pertimbangan jasa politik
- C. Diangkat berdasarkan kedekatan dengan presiden
- D. Diangkat berdasarkan perse-tujuan DPR
- E. Diangkat berdasarkan afiliasi politiknya
113. Ketentuan Pasal 16 tentang DPA dengan perubahan keempat UUD 1945 dihapus dan dirubah dengan perumusan baru yang berisi presiden berhak untuk membentuk suatu dewan pertimbangan yang bertugas...
- A. memberikan nasehat dan pertimbangan kepada presiden
- B. membantu presiden dalam bidang eksekutif
- C. membantu presiden dalam bidang pemerintahan
- D. membantu tugas para menteri
- E. membantu presiden mengawasi jalannya pemerintahan
114. Partai politik mempunyai fungsi yang penting dalam pelembagaan demokrasi. Di bawah ini adalah fungsi partai politik, *kecuali*...
- A. komunikasi politik
- B. sosialisasi politik
- C. pengatur konflik
- D. rekrutmen politik
- E. pemegang kekuasaan politik pemerintahan
115. Pentingnya pemilihan umum diselenggarakan secara berkala dikarenakan beberapa sebab, *kecuali*...
- A. pendapat dan aspirasi masyarakat dalam segenap aspek kehidupan bersifat dinamis dan berkembang dari waktu ke waktu

- B. kondisi kehidupan dan dinamika masyarakat berubah dari waktu ke waktu
 - C. perubahan aspirasi dan dinamika juga dimungkinkan berubah karena penambahan penduduk
 - D. menjamin terjadinya pergantian pimpinan dari waktu ke waktu
 - E. untuk menghabiskan dana pemilu yang sudah ditetapkan oleh pemerintah
- 116.** Lembaga yang berwenang untuk menyatakan pembubaran partai politik adalah...
- A. KPU
 - B. Presiden
 - C. Pemerintah
 - D. Menteri Dalam Negeri
 - E. Mahkamah Konstitusi
- 117.** Apabila terdapat perbedaan hasil Pemilu sehingga menimbulkan sengketa hasil pemilihan umum, maka diselesaikan oleh...
- A. Mahkamah Konstitusi
 - B. Mahkamah Agung
 - C. KPU
 - D. KPUD
 - E. DPR
- 118.** Yang merupakan salah satu pelaksanaan hak budget yang dimiliki oleh DPR yaitu...
- A. melakukan kontrol terhadap penentuan sumber dan pendapatan belanja negara untuk waktu satu tahun
 - B. melakukan kontrol terhadap penentuan sumber dan pendapatan belanja daerah untuk waktu satu tahun
 - C. melakukan kontrol dan pengawasan terhadap biaya perjalanan dinas presiden
 - D. melakukan kontrol dan pengawasan terhadap biaya perjalanan dinas para menteri
 - E. melakukan kontrol dan pengawasan terhadap harta kekayaan yang dimiliki oleh pejabat negara
- 119.** Kewenangan mutlak presiden untuk mengangkat dan memberhentikan para pejabat publik disebut dengan hak...
- A. legislatif
 - B. yudikatif
 - C. prerogatif
 - D. amnesti
 - E. rehabilitasi
- 120.** Lembaga yang berwenang untuk melakukan pengujian materi peraturan perundang-undangan di bawah undang-undang adalah...
- A. Mahkamah Konstitusi
 - B. Komisi Yudisial
 - C. Mahkamah Agung
 - D. DPR
 - E. Kehakiman

Petunjuk A: Pilih satu jawaban yang paling tepat

1. Di Indonesia, sistem pers yang berlaku menganut paham pers yang...
 - A. Kebebasan yang bertanggung-jawab serta dalam koridor kode etik jurnalistik
 - B. Kebebasan yang seluas-luasnya
 - C. Mendukung kepentingan pemerintah yang berkuasa
 - D. Menjadi corong politik salah satu partai politik
 - E. Tidak ada pembatasan oleh undang-undang pers
2. Kemajuan teknologi, termasuk teknologi komunikasi dan informasi perlu disikapi dengan...
 - A. Memanfaatkan demi mencari keuntungan yang sebesar-besarnya
 - B. Memanfaatkan untuk kesejahteraan hidup
 - C. Menolak perkembangan teknologi dari luar negeri
 - D. Kecewa karena penemunya bukan bangsa Indonesia
 - E. Menggunakan kemajuan teknologi dan meninggalkan teknologi serta budaya sendiri
3. Bentuk-bentuk penyalahgunaan kebebasan pers antara lain sebagai berikut, *kecuali*...
 - A. Berita yang kurang memperhatikan kode etik jurnalistik
 - B. Peradilan oleh pers
 - C. Membentuk opini yang menyesatkan
 - D. Tulisan berita yang provokatif
 - E. Penyiaran berita yang akurat
4. Kebebasan pers di masa reformasi lebih tampak nyata dibandingkan dengan era sebelumnya. Hal ini dikarenakan...
 - A. Kebijakan negara mengenai pers tidak lagi dikekang oleh negara
 - B. Departemen penerangan dibubarkan
 - C. Pencabutan undang-undang pers
 - D. Munculnya media massa baru
 - E. Tidak ada undang-undang pers yang baru
5. Setiap orang berhak untuk berkomunikasi dan memperoleh informasi. Hal ini termasuk hak asasi manusia di bidang...
 - A. *Personal right*
 - B. *Property right*
 - C. *Sociocultural right*
 - D. *Procedural right*
 - E. *Right of legal equality*
6. Salah satu kondisi yang diperlukan untuk mengembangkan nilai demokrasi adalah pertumbuhan ekonomi. Mengapa faktor pertumbuhan ekonomi merupakan salah satu faktor kondisional yang mendorong demokrasi?

- A. Pertumbuhan ekonomi yang kuat menunjukkan kekuatan negara untuk melakukan represi terhadap kekuatan tandingan di dalam masyarakat.
 - B. Menunjukkan adanya kekuatan monopoli dan penguasaan pasar oleh negara.
 - C. Pertumbuhan ekonomi yang tinggi menunjukkan tingginya tingkat demokrasi di dalam negara tersebut.
 - D. Pertumbuhan ekonomi berjalan seiring pertumbuhan demokrasi di negara tersebut.
 - E. Kondisi pertumbuhan ekonomi akan memperkuat kemampuan masyarakat dalam mendistribusikan SDA dan SDM. Kemampuan ini bisa digunakan untuk menjadi sarana kompromi dan akomodasi di tengah masyarakat.
7. Parameter untuk mengamati apakah demokrasi terwujud atau tidak dalam suatu negara antara lain seperti di bawah ini, *kecuali...*
- A. Pemilihan umum yang dilakukan secara teratur dengan tenggang waktu yang jelas, kompetitif, jujur, dan adil.
 - B. Rekrutmen politik yang dilakukan secara terbuka, dimana memberikan peluang untuk mengadakan kompetisi karena semua orang dan kelompok mempunyai hak dan peluang yang sama.
 - C. Akuntabilitas publik, para pemegang jabatan publik harus bisa mempertanggungjawabkan kepada publik apa yang dilakukan, baik secara pribadi atau sebagai pejabat publik
 - D. Terwujudnya sebuah pengadilan yang independen. Hal ini sangat diperlukan dalam rangka penciptaan sistem keseimbangan antar berbagai kekuasaan yang ada dalam negara.
 - E. Adanya kekuasaan mayoritas di atas kekuasaan minoritas yang membatasi kekuasaan minoritas.
8. Di bawah ini adalah beberapa alasan mengapa demokrasi merupakan suatu pilihan bagi suatu negara, *kecuali...*
- A. Pemerintahan dapat dikontrol oleh rakyat.
 - B. Warga masyarakat dapat membentuk asosiasi-asosiasi yang dapat mengimbangi kekuasaan pemerintahan.
 - C. Warga masyarakat dapat mengartikulasikan kepentingannya dan dapat mengimbangi kekuasaan pemerintah.
 - D. Warga masyarakat akan mempunyai peluang untuk mengajukan alternatif kebijaksanaan ketimbang menerima begitu saja apa yang diajukan pemerintah.
 - E. Dengan demokrasi akan membuat kekuasaan mayoritas berkuasa di atas kekuasaan minoritas.
9. Untuk mengembangkan pemerintahan yang demokratis diperlukan pengem-

bangun nilai-nilai yang demokratis antara lain...

- A. kebebasan berkelompok, kebebasan berpartisipasi, kebebasan antarwarga, kesetaraan gender, kedaulatan rakyat, saling percaya, dan kerjasama
 - B. kerjasama, disiplin, tanggungjawab, keadilan, kebebasan pers, pemilu, dan pilkada, kekuasaan minoritas
 - C. kebebasan berkelompok, kebebasan berserikat, dan berkumpul, kebebasan beragama, kebebasan membentuk partai politik, kekuasaan mayoritas dan minoritas
 - D. kebebasan beragama, integralistik, sentralistik, integralistik
 - E. nilai kesopanan, kesusilaan, liberalisme
10. Akhir-akhir ini sering kita dengar unjuk rasa kaum buruh yang menolak SKB bersama empat menteri, yakni menteri tenaga kerja dan transmigrasi, menteri dalam negeri, menteri perindustrian, serta menteri perdagangan mengenai penetapan upah minimum regional yang tidak boleh melebihi pertumbuhan ekonomi nasional. Unjuk rasa ini merupakan contoh upaya warga negara untuk memperjuangkan pemenuhan hak warga negara di bidang...
- A. Politik
 - B. Hukum
 - C. Ekonomi
 - D. Sosial
 - E. Pertahanan
11. Para penyelenggara negara dalam bertindak harus tetap berdasarkan pada peraturan perundangan, kepatutan, dan keadilan dalam setiap

kebijakan penyelenggaraan negara berdasarkan asas...

- A. Kepastian hukum
 - B. Tertib penyelenggaraan negara
 - C. Kepentingan umum
 - D. Keterbukaan
 - E. Proporsionalitas
12. Wujud keterbukaan penyelenggara negara pada masyarakat adalah...
- A. mendiamkan saja kebijakan pemerintah
 - B. menyembunyikan kebijakan itu
 - C. memberitahukan kebijakan itu
 - D. menyampaikan melalui media
 - E. mempersilahkan masyarakat mencari tahu
13. *Good governance* didasari pemikiran bahwa pemerintahan adalah... rakyat.
- A. Penguasa
 - B. Pendamping
 - C. Pelayan
 - D. Pemilik
 - E. Wakil
14. Perilaku di bawah ini yang tidak sesuai dengan pengertian partisipasi politik adalah...
- A. Keterlibatan individu sampai pada bermacam-macam tingkatan di dalam sistem politik
 - B. Kegiatan warga negara yang bertujuan mempengaruhi pengambilan kebijakan oleh pemerintah
 - C. Keikutsertaan warga negara dalam keputusan politik
 - D. Kegiatan pejabat pemerintah untuk aktif dalam kehidupan politik

- E. Perilaku menghargai keputusan musyawarah
15. Dewan Perwakilan Rakyat memiliki fungsi legislasi yang artinya...
- Menetapkan undang-undang
 - Mengawasi jalannya pemerintahan
 - Menetapkan anggaran dan keuangan negara
 - Meminta pertanggungjawaban presiden
 - Menanyakan segala kebijakan pada pemerintah
16. Perbedaan negara kesatuan dengan sistem sentralisasi dengan desentralisasi adalah bahwa negara kesatuan dengan sistem sentralisasi...
- Daerah dapat menyusun anggaran belanja negara
 - Penghasilan daerah dapat dinikmati oleh daerahnya
 - Segala sesuatu mengenai pemerintahan ada di tangan pusat
 - Sebagian daerah diberikan wewenang untuk mengatur daerahnya
 - Pekerjaan pemerintahan di daerah menumpuk
17. Negara kesatuan Republik Indonesia di bawah UUD 1950 menganut sistem pemerintahan...
- Presidensial
 - Unicameral
 - Semi presidensial
 - Parlementer
 - Ekstra parlementer
18. Kontrol sosial rakyat sangat penting bagi lancarnya sistem pemerintahan apabila masyarakatnya...
- Memberikan simpati kepada pengkritik pemerintahan
 - Melakukan kontrol sosial yang membangun
 - Menyalurkan aspirasi yang mendukungnya
 - Melakukan oposisi terhadap pemerintah
 - Mampu mengadili pemerintah dengan demonstrasi
19. Menurut John Locke, lembaga kekuasaan negara meliputi...
- Legislatif, eksekutif, dan eksaminatif
 - Legislatif, eksekutif, dan yudikatif
 - Legislatif, eksaminatif, dan yudikatif
 - Legislatif, eksekutif, dan federatif
 - Legislatif, federatif, dan yudikatif
20. Presiden yang berkedudukan sebagai kepala negara merupakan sistem pemerintahan...
- Monarki
 - Liberal
 - Parlementer
 - Presidensial
 - Quasi parlementer
21. HAM adalah hak yang melekat pada pribadi manusia yang dibawa sejak manusia lahir hingga mati. HAM merupakan pemberian dari...

- A. Tuhan D. Masa lalu
B. Manusia E. Alam
C. Negara
- 22.** Pemikiran tentang HAM yang makin berkembang dewasa ini merupakan dampak globalisasi dalam bidang...
- A. Politik
B. Ekonomi
C. Hubungan internasional
D. Teknologi dan komunikasi
E. Semua jawaban benar
- 23.** Lahirnya globalisasi sangat dipengaruhi oleh perkembangan pesat dari...
- A. kemajuan manusia dalam hidupnya
B. takdir manusia sebagai makhluk Tuhan
C. majunya teknologi komunikasi dan transportasi
D. kepandaian manusia dalam kehidupannya
E. kerja keras dari manusia untuk maju
- 24.** Di era globalisasi ini, pesatnya kemajuan teknologi harus kita terima dengan...
- A. pikiran yang sehat dan penuh kewaspadaan
B. ketulusan hati untuk menggunakannya
C. penuh keseriusan agar berhasil dengan baik
D. keterbukaan dalam menerima teknologi baru
E. tekad untuk lebih mengembangkannya
- 25.** Globalisasi melahirkan pasar bebas yang berarti...
- A. memberikan kesempatan kepada setiap orang berdagang
B. menyebarnya produk ke berbagai negara
C. setiap orang bebas menjual apa saja di pasar
D. kebutuhan masyarakat dapat terpenuhi lewat pasar
E. setiap bangsa dapat menjual barang-barang bebas
- 26.** Salah satu norma yang hidup di dalam masyarakat yang memiliki sanksi yang tegas adalah...
- A. Norma adat
B. Norma kesusilaan
C. Norma hukum
D. Norma kesopanan
E. Norma agama
- 27.** Dalam kehidupan bermasyarakat perlu adanya norma yang bertujuan untuk...
- A. Menentukan kehidupan bersama
B. Membatasi tindakan sewenang-wenang
C. Terciptanya kehidupan eksklusif
D. Mengatur tata pergaulan dalam masyarakat
E. Mengatur keinginan bersama warganya
- 28.** Undang-undang yang mengatur mengenai hal ihwal kewarganegaraan adalah...
- A. UU No.12 tahun 2006
B. UU No.32 tahun 2004

- C. UU No.33 tahun 2004
 D. UU No.24 tahun 2004
 E. UU No.15 tahun 2006
29. Berikut ini yang tidak termasuk sikap dan perilaku yang cenderung menuju ke arah memudarnya jiwa nasionalisme di kalangan generasi muda pada era globalisasi sekarang ini adalah...
- A. Pergaulan bebas di kalangan remaja
 B. Ada sebagian remaja yang senang melakukan tawuran
 C. Masih ada sebagian pelajar yang membolos sekolah
 D. Belajar giat di sekolah dan menjadi anggota karang taruna
 E. Ada sebagian pemuda yang menggunakan pakaian kebarat-baratan
30. Persatuan Indonesia atau nasionalisme Indonesia telah berhasil mengikat bangsa Indonesia untuk merebut, mempertahankan, dan mengisi kemerdekaan. Rintisan awal terbentuknya rasa persatuan Indonesia diwujudkan dalam...
- A. Keputusan kongres pemuda Indonesia
 B. Proklamasi kemerdekaan Indonesia
 C. Sila Persatuan Indonesia
 D. Pembukaan UUD 1945 alinea ketiga
 E. Batang tubuh UUD 1945
31. Rasa nasionalisme yang terlalu berlebihan dan sempit akan menimbulkan perasaan angkuh dan menganggap bangsa lain rendah. Hal ini dinamakan...
- A. Animisme
 B. Dinamisme
 C. Loyalitas
 D. Chauvinisme
 E. Aroganisme
32. Paham yang membahayakan persatuan dan kesatuan bangsa yang disebabkan oleh adanya sikap mementingkan golongan atau sukunya masing-masing dikenal dengan...
- A. Chauvinisme
 B. Provinsionalisme
 C. Sukuisme
 D. Sinkritisme
 E. Ekstrimisme
33. Untuk tetap menyegarkan semangat perjuangan dan dalam rangka pembentukan watak bangsa, serta menumbuhkan jiwa idealisme dan patriotisme di kalangan generasi muda dapat ditempuh dengan cara-cara berikut ini, *kecuali*...
- A. Memelihara semangat, tekad, dan disiplin serta meningkatkan partisipasi aktif dalam melaksanakan pembangunan
 B. Melakukan pendidikan politik, khususnya di kalangan generasi muda, dalam rangka meningkatkan kesadaran akan hak dan kewajiban dalam rangka meningkatkan kesadaran akan hak dan kewajiban sebagai warga negara yang penuh tanggung jawab

- C. Mengadakan peringatan hari besar nasional
 - D. Bekerja dengan giat untuk mendapatkan keuntungan yang besar
 - E. Rela berkorban untuk bangsa dan negara
- 34.** Berikut ini adalah ciri-ciri warga negara yang demokratis. Yang tidak termasuk ciri-ciri warga negara yang demokratis, yaitu...
- A. Warga negara yang cerdas
 - B. Warga negara yang bertanggung jawab
 - C. Warga negara yang partisipatif
 - D. Warga negara yang religius
 - E. Warga negara yang suka demo
- 35.** Pengertian demokrasi adalah rakyat berkuasa atau *government or rule by the people*.
Pengertian ini dikemukakan oleh...
- A. Budiarto
 - B. Winataputra
 - C. Aristoteles
 - D. Ahmad Sanusi
 - E. Abraham Lincoln
- 36.** Jika kita memperhatikan fenomena sosial banyak kesenjangan-kesenjangan yang terjadi antara normatif konstitusi dengan fakta yang terjadi seolah-olah demokrasi adalah sebuah prinsip kebebasan yang terlepas dari aturan. Bagaimanakah sebaiknya agar kesenjangan tersebut tidak semakin menjalar?
- A. Sebaiknya pemerintah mengganti sistem demokrasi dengan sistem yang lain.
 - B. Sistem demokrasi kurang tepat untuk Indonesia.
 - C. Rakyat kurang memahami pengertian demokrasi.
 - D. Rakyat dan pemerintah harus bekerja sama dalam memahami dan melaksanakan sistem demokrasi.
 - E. Rakyat dan wakil rakyat di DPR harus memperjuangkan berjalannya demokrasi.
- 37.** Di era globalisasi dewasa ini ada suatu gejala erosi budaya di sebagian kalangan remaja ditandai dengan...
- A. Adanya kecenderungan berpola hidup ala barat
 - B. Kurang tertariknya remaja pada budaya sendiri dan lebih memilih budaya barat
 - C. Tidak adanya wadah bagi budaya nasional
 - D. Lunturnya budaya daerah
 - E. Maraknya musik dan tarian dari barat
- 38.** Manfaat era globalisasi bagi pembangunan negara Indonesia adalah...
- A. Pengembangan iptek dalam pembangunan nasional
 - B. Masuknya pengaruh budaya asing
 - C. Adanya kecenderungan berpola hidup seperti orang barat
 - D. Meningkatnya musik-musik barat
 - E. Timbulnya berbagai kreasi seni-seni daerah
- 39.** Contoh konkrit mudahnya kita terkena pengaruh nilai budaya asing dalam era globalisasi yang tidak sesuai dengan kepribadian bangsa antara lain...

- A. Anak-anak muda menjadi penggemar permainan bola dunia
- B. Remaja putri yang mengikuti trend dan fashion mode dari Eropa
- C. Rasa kagum terhadap artis dan tokoh luar negeri
- D. Siaran televisi yang menyiarkan drama mandarin
- E. Pemuda yang memakai anting-anting dan berpakaian acak-acakan
40. Sikap selektif dalam menghadapi pengaruh globalisasi adalah...
- A. Tidak mau menerima hal-hal yang berhubungan dengan globalisasi
- B. Menolak budaya asing
- C. Menyesuaikan diri dengan era globalisasi dengan tetap berpegang teguh pada nilai-nilai Pancasila
- D. Apatis terhadap perubahan
- E. Menerima perubahan dengan persyaratan
41. Undang-Undang No.26 tahun 2006 mengatur tentang...
- A. Pengadilan HAM
- B. Pengadilan negeri
- C. Pengadilan tinggi
- D. Kasasi
- E. Penegakan HAM
42. Serangkaian norma yang bersumber dari masyarakat dan berlaku terbatas pada lingkungan masyarakat yang bersangkutan disebut norma...
- A. Moral
- B. Hukum
- C. Agama
- D. Kesopanan
- E. Kebiasaan
43. Suatu negara dikatakan Negara hukum, *kecuali*...
- A. Adanya undang-undang atau peraturan perundangan
- B. Adanya alat dan lembaga penegak hukum
- C. Adanya kesadaran hukum dan partisipasi rakyat untuk menegakkan hukum
- D. Adanya kekuasaan yang otoriter
- E. Adanya perlindungan HAM
44. Undang-Undang yang mengatur tentang pers saat ini adalah...
- A. UU No.24 tahun 1997
- B. UU No.2 tahun 1999
- C. UU No.26 tahun 2006
- D. UU No.40 tahun 1999
- E. UU No.1 tahun 2008
45. Penyampaian pendapat di muka umum yang dilakukan oleh warga negara berkewajiban dan bertanggung jawab untuk...
- A. Mengharuskan tuntutan dilaksanakannya
- B. Melindungi hak-hak asasi manusia
- C. Menghargai asas legalitas
- D. Menghargai prinsip praduga tidak bersalah
- E. Menyelenggarakan keamanan
46. Makna gerakan reformasi adalah...
- A. Menata kembali hal-hal yang menyimpang sesuai dengan nilai-nilai ideal rakyat
- B. Merombak total tatanan pemerintahan sesuai dengan harapan rakyat

- C. Memperbaiki hal-hal yang menyimpang
 D. Pusat kekuasaan dikendalikan kaum teknokrat
 E. Birokrasi sama dengan otokrasi
47. Seorang yang memiliki status bipatride maksudnya...
- A. Baru mengajukan permohonan kewarganegaraan
 B. Memiliki dua status kewarganegaraan
 C. Memilih status kewarganegaraan
 D. Tidak memiliki status kewarganegaraan
 E. Memiliki status kewarganegaraan tempat kelahirannya
48. Perbedaan antara warga negara dan bukan warga negara adalah...
- A. Domisilinya
 B. Kewajibannya
 C. Hak
 D. Hak dan kewajibannya
 E. Tempat menetapnya
49. Sistem pemerintahan negara Indonesia termaktub dalam...
- A. Pembukaan UUD 1945
 B. Batang tubuh UUD 1945
 C. Tap MPR No.XVII/MPR/1998
 D. Tap MPR No.XVIII/MPR/1998
 E. Tap MPR No.V/MPR/1998
50. Aturan-aturan dasar yang timbul dalam penyelenggaraan negara meskipun, tidak tertulis disebut...
- A. Doktrin D. Konvensi
 B. Traktat E. Kebiasaan
 C. Yurisprudensi
51. Suatu bentuk negara yang tersusun tunggal dan hanya ada satu kesatuan untuk mengatur suatu wilayah negara adalah...
- A. Kesatuan D. Monarki
 B. Republik E. Parlemerter
 C. Federal
52. Pengertian bangsa dan negara memiliki pengertian berbeda, yang dimaksud dengan negara adalah...
- A. Organisasi kekuasaan dari persekutuan hidup manusia itu
 B. Merupakan persekutuan hidup manusia
 C. Persekutuan manusia bernegara
 D. Kehidupan bernegara bertujuan mencapai kesejahteraan hidup
 E. Warga negara yang saling berhubungan
53. Persamaan kedudukan warga negara secara jelas tertuang dalam UUD 1945 pasal...
- A. 26 D. 29
 B. 27 E. 30
 C. 28
54. Kewarganegaraan seseorang yang ditentukan berdasarkan keturunan dinamakan asas...
- A. ius soli
 B. ius sanguinis
 C. legalitas
 D. oportunitas
 E. ius gentium

55. Dalam negara yang menganut demokrasi perwakilan/demokrasi tidak langsung, rakyat...
- wajib mengenal para wakilnya
 - menyalurkan aspirasi melalui media massa
 - wajib menjadi anggota partai politik
 - berhak mengabaikan hukum yang berlaku
 - menyalurkan aspirasi melalui wakilnya
56. Oleh karena demokrasi berarti pemerintahan untuk rakyat, maka tindakan pemerintah harus...
- didukung oleh seluruh rakyat
 - bermanfaat bagi kesejahteraan rakyat
 - dihindari dari pengawasan rakyat
 - berguna bagi para wakil rakyat
 - berpihak kepada penguasa
57. Budaya politik pada dasarnya berisi hal-hal sebagai berikut, *kecuali*...
- sikap
 - pengetahuan
 - pendapat
 - keyakinan
 - tindakan
58. Dokumen yang dikeluarkan PBB dan berisi pernyataan sedunia tentang HAM adalah...
- Atlantic Charter
 - Universal Declaration of Human Right
 - Hobbeas Corpus act
 - Magna Charta
 - Bill of Right
59. *Money politic* merupakan pelanggaran HAM dalam UUD 1945, terutama pasal...
- 27 ayat 2
 - 27 ayat 3
 - 28
 - 30 ayat 3
 - 33 ayat 1
60. *Freedom of Religius* merupakan salah satu isi dari...
- hak politik
 - hak pribadi
 - hak sosial
 - hak ekonomi
 - hak perdamaian

Petunjuk A: dipergunakan dalam menjawab soal nomor 1 sampai nomor 32.

1. Berakhirnya perang dingin tidak membuat organisasi Gerakan Non Blok (GNB) hilang makna dan relevansinya karena kerjasama itu tetap diperlukan untuk memperkuat posisi GNB terutama yang berhubungan dengan permasalahan...
 - A. memajukan suatu tata ekonomi dunia baru
 - B. menyelesaikan persengketaan secara damai di seluruh belahan dunia
 - C. memperjuangkan tata dunia yang lebih demokratis dan adil terutama dalam isu HAM dan lingkungan antara negara maju dan berkembang
 - D. perjuangan rakyat Palestina melawan Zionis Israel
 - E. pengurangan hutang yang dipinjam oleh negara berkembang dari negara maju atau lembaga internasional
2. Konfrontasi Indonesia terhadap Malaysia dalam usaha menentang pembentukan federasi Malaysia adalah dengan operasi...
 - A. Trikora
 - B. Dwikora
 - C. Sambas
 - D. Merdeka
 - E. Dewan Jendral
3. Jepang menjelang Perang Dunia II adalah negara fasis dengan ciri-ciri sebagai berikut, *kecuali*...
 - A. pemerintahan militer
 - B. menciptakan dan menerapkan propaganda
 - C. melarang pembentukan organisasi politik
 - D. melarang membawa senjata
 - E. penghormatan yang berlebihan kepada kaisar Jepang
4. Meningkatnya kegiatan politik Perhimpunan Indonesia setelah tahun 1925 mengakibatkan...
 - A. pemberontakan komunis tahun 1926
 - B. Ali Sastroamijoyo dan 3 orang lainnya ditangkap dan diadili di Den Haag
 - C. M. Hatta ditangkap dan diadili oleh pemerintah Hindia Belanda tahun 1927
 - D. Sukarno dan 3 orang lainnya diadili di Bandung
 - E. Suwardi Suryaningrat diasingkan ke Belanda
5. Sebagai langkah nyata dari janji Koiso, di Indonesia kemudian dibentuk Badan Penyelidik Usaha-usaha Persiapan Kemerdekaan Indonesia (BPUPKI). Yang ditunjuk sebagai ketua lembaga itu adalah...

- A. Soekarno
 - B. Hatta
 - C. Radjiman, dr.
 - D. Ahmad Soebardjo
 - E. Ahmad Djajadiningrat
6. Dukungan penguasa lokal di Sulawesi terhadap proklamasi kemerdekaan dan pemerintah Republik Indonesia yang berpusat di Jakarta diapresiasi Pemerintah Pusat Republik Indonesia dengan...
- A. mengangkat raja Bone, Andi Mappanjuki sebagai Gubernur Sulawesi Selatan
 - B. menyetujui hasil perjanjian Malino
 - C. pengakuan terhadap kekuasaan GSS Ratulangi sebagai gubernur
 - D. penolakan terhadap pengangkatan Samokil oleh wali negara Indonesia Timur sebagai Gubernur Sulawesi
 - E. menerima pengangkatan Kahar Muzakar sebagai panglima KRIS
7. Peradaban Yunani, Romawi, Inca, Maya, dan Aztec memiliki persamaan-persamaan dalam hal-hal sebagai berikut, *kecuali*...
- A. memuja banyak dewa
 - B. mengenal pemerintahan raja
 - C. pernah ditaklukkan bangsa lain
 - D. sama-sama mengembangkan pemerintahan absolut
 - E. memiliki bangunan-bangunan khusus untuk pemujaan
8. Revolusi Perancis tahun 1789 terjadi karena Raja Louis XIII dan XIV bertindak absolut sehingga membuat rakyat hidup menderita. Rakyat dibebani berbagai macam pajak yang dinikmati keluarga bangsawan. Terjadinya revolusi ini juga didorong oleh semangat *liberty, equality, dan fraternity*. Pemisahan kekuasaan (Trias Politika) juga dilahirkan pada periode ini yang diciptakan oleh...
- A. M.E. Voltaire
 - B. J.J. Rousseau
 - C. Montesquieu
 - D. Francis Bacom
 - E. Maria de Erraout
9. Organisasi nasional yang didirikan oleh Jose Rizal pada tahun 1891 adalah...
- A. Philipine League
 - B. Santiniketan
 - C. Katipunan
 - D. El Filibusterisno
 - E. Satyagraha
10. Semboyan liberalisme adalah...
- A. perluasan modal negara
 - B. perluasan perdagangan di bawah kendali pemerintah
 - C. penanaman modal
 - D. *laissez-faire* (biarkanlah) dalam produksi oleh swasta atas prakarsa sendiri
 - E. biarkanlah negara memimpin dan mengatur perekonomian masyarakat

11. Politik *Apartheid* di Afrika Selatan diberlakukan pada masa pemerintahan...
- Daniel Francois Malan
 - De Klerk
 - Nelson Mandela
 - Andrias Treunicht
 - Uskup Desmon Tutu
12. Salah satu bentuk percampuran unsur budaya Hindu-Buddha dengan unsur budaya Islam pada bentuk bangunan mesjid kuno di Indonesia adalah...
- bentuk atap kubah
 - arah kiblat bangunan mesjid
 - bentuk mesjid bujur sangkar
 - atap mesjid yang berbentuk meru
 - bangunan mesjid yang selalu menghadap ke timur
13. Selain membicarakan persiapan Konferensi Asia Afrika, Konferensi Lima Negara di Colombo pada tanggal 20 April sampai 2 Mei 1954 sebenarnya bertujuan untuk...
- membahas masalah Terusan Suez
 - melanjutkan pembicaraan yang telah dilakukan dalam Konferensi Pancanegara di Bogor
 - membahas persoalan yang terjadi di Vietnam
 - mempersiapkan kontingen penjaga perdamaian lima negara ke Mesir
 - membahas batas wilayah laut kelima negara
14. Kongres pemuda Jawa pada tahun 1918 yang mengubah Tri Koro Darmo menjadi Jong Java dipimpin oleh...
- Dr. Wahidin Soediro Hoesodo
 - Dr. Soetomo
 - Dr. Satiman Wiryo Sutedjo
 - K.G.P.A.A.P. Prangwedono
 - R.M. Soetomo Soerjokoesoemo
15. Jatuhnya Malaka ke tangan Portugis tahun 1911 merupakan salah satu faktor penyebab berkembangnya Aceh menjadi pusat perdagangan dan penyebaran Islam di Nusantara karena...
- Portugis melarang para pedagang Islam singgah di Malaka
 - Aceh melarang para pedagang Islam untuk berdagang di Malaka
 - para pedagang Islam memindahkan kegiatan perdagangannya ke Aceh
 - Aceh berhasil mengganggu bangsa Portugis di Malaka
 - terjadinya permusuhan antara Portugis dan Kesultanan Aceh
16. Perluasan kegiatan penambangan timah di Bangka dan Belitung pada akhir abad ke-19 ditandai oleh...
- menurunnya produksi lada
 - meningkatnya jumlah penduduk yang berasal dari imigran Cina
 - berkembang industri kerajinan emas dan perak
 - jumlah buruh yang datang dari Jawa lebih banyak daripada buruh dari Cina
 - peningkatan secara tajam kemampuan ekonomi masyarakat

17. Ki Hajar Dewantara mengkritik tajam pemerintah kolonial Belanda melalui tulisannya dalam harian *de Express* yang berjudul...
- Max Havelaar
 - Als ik eens Nederlander was
 - Indonesia Menggugat
 - Oetoesan India
 - Nolimetangere
18. Faktor-faktor eksternal yang melatarbelakangi munculnya pergerakan nasional Indonesia adalah sebagai berikut, *kecuali*...
- masuknya paham-paham baru dari Eropa
 - kemenangan Jepang atas Rusia pada tahun 1905
 - perang kemerdekaan Amerika
 - bangkitnya nasionalisme India
 - bangkitnya nasionalisme Mesir dan Turki
19. Salah satu peristiwa yang mempengaruhi meletusnya Revolusi Perancis adalah...
- Revolusi Industri
 - Revolusi Borjuis
 - Renaissanse
 - Revolusi Bolsyevik
 - Revolusi Amerika
20. Adanya pengaruh kebijakan Glasnost dan Perestroika dari Gorbachev di Eropa Timur ditandai oleh...
- kebebasan penanaman modal asing
 - peningkatan kesejahteraan rakyat secara menyeluruh
 - hilang rasa takut rakyat terhadap dunia
 - kewajiban pemerintah mengekang kehidupan rakyat
 - dilaksanakannya kebebasan dan keterbukaan untuk menciptakan kehidupan demokratis
21. Berdirinya Pakta Pertahanan Atlantik Utara (NATO) pada tahun 1949 dilatarbelakangi oleh upaya...
- membentuk persatuan antara negara-negara di Eropa Barat dan Utara
 - membentuk kesatuan dalam bidang politik
 - untuk membendung perkembangan dan penyebaran paham komunis
 - melakukan perbaikan terhadap negara-negara yang hancur setelah PD II
 - menata sistem perekonomian negara-negara Eropa
22. Pembangunan tembok yang dibangun sepanjang 6.400 km pada masa Kaisar Shi Huang Ti berfungsi sebagai...
- pelindung dari bahaya banjir
 - benteng dari serbuan bangsa Vietnam yang datang dari Selatan
 - mencegah masuknya bangsa Chou
 - pelindung dari keganasan badai gurun Gobi yang terjadi setiap tahun
 - mencegah masuknya bangsa Mongol dari Barat

23. Berdasarkan buku *Suma Oriental* yang ditulis sekitar awal abad ke-16, daerah-daerah pesisir di Sumatera Utara dan Timur Selat Malaka, dari Aceh sampai Palembang sudah terdapat banyak kelompok masyarakat dan kerajaan-kerajaan Islam. Buku ini ditulis oleh...
- Ibnu Batutah
 - Marcopolo
 - Ibnu Sina
 - Tome Pires
 - Snouck Hurgronje
24. Buku Max Havelaar yang menggambarkan kekejaman pemerintah Belanda dan para pendukungnya di pedesaan Indonesia dikarang oleh...
- Setiabudi Danudirdjo
 - Van der Plas
 - Multatuli
 - Van Deventer
 - Van den Bosch
25. Tingginya semangat juang bangsa Indonesia untuk mempertahankan kemerdekaan dibuktikan berbagai peristiwa perlawanan sejak masuknya Sekutu ke Indonesia. Peristiwa yang tidak tergolong dalam rangkaian ini adalah...
- Peristiwa Bandung
 - Peristiwa Bandar Betisi
 - Peristiwa Medan Area
 - Pertempuran Bojongkokosan
 - Pertempuran Ambarawa
26. Konferensi Meja Bundar diselenggarakan...
- untuk penyesuaian kedua pihak dalam iklim politik internasional
 - untuk memuaskan semua pihak
 - untuk menghindarkan tekanan dewan keamanan
 - agar Republik Indonesia memilih jalan perundingan
 - menentukan batas wilayah kekuasaan
27. Jabatan dalam hierarki administrasi kolonial Hindia Belanda di bawah ini dijabat oleh pribumi, *kecuali*...
- asisten residen
 - wedono
 - regent
 - wakil regent
 - asisten wedono
28. Organisasi Konferensi Islam (OKI) berdiri pada tahun 1969 sebagai reaksi tidak langsung atas tindakan...
- Serbia terhadap masyarakat muslim Bosnia
 - Amerika terhadap Taliban-Afganistan
 - Yahudi Israel yang membakar Masjid Al-Aqsa
 - Amerika terhadap Iran
 - Amerika terhadap Lybia
29. Faktor-faktor di bawah ini merupakan pendorong Jepang menuju kepada politik imperialisme, *kecuali*...
- kemenangan Jepang atas Rusia 1905
 - memperluas industrialisasi
 - perpindahan penduduk ke negara lain

- D. ajaran *Kokko Ichui* yang ingin mempersatukan bangsa Jepang
 - E. negara Jepang wilayahnya sempit dan tandus serta pegunungan yang tidak baik untuk pertanian
- 30.** Mahatma Gandhi menganjurkan agar rakyat India melaksanakan swadeshi karena...
- A. Inggris tidak mungkin memenuhi kebutuhan rakyat India
 - B. India mampu memenuhi kebutuhan sendiri
 - C. Penduduk India cukup banyak dan daya belinya memadai
 - D. Produksi Inggris harganya mahal
 - E. Barang-barang buatan India mutu baik dan harga lebih murah
- 31.** Salah satu strategi militer Sekutu menjelang akhir perang Dunia II adalah...
- A. membuat garis pemisah yang tegas antara Blok Barat dan Timur di kota Berlin
 - B. pendudukan Polandia oleh tentara Inggris
 - C. tentara Amerika Serikat menduduki seluruh Jerman
 - D. Amerika Serikat dan Inggris memperkuat wilayah perbatasan Jerman dan Polandia
 - E. tentara Rusia menguasai seluruh wilayah Perancis yang berbatasan dengan Jerman
- 32.** Perkembangan penting dalam dunia perfilman Indonesia pada dekade pertama sejak kemerdekaan ditandai oleh kehadiran sutradara berbakat antara lain...
- A. Tan Tjeng Bok
 - B. Usmar Ismail
 - C. Teguh Karya
 - D. Miss Cicih
 - E. Garin Nugroho

Petunjuk B: dipergunakan dalam menjawab soal nomor 33 sampai nomor 50.

33. Tujuan utama didirikannya Organisasi Konferensi Islam (OKI) adalah menggalang kekuatan negara-negara Islam untuk menghadapi keangkuhan dan kesombongan Zionis Israel.

SEBAB

Lahirnya organisasi ini dipicu langsung oleh peristiwa pembakaran Masjid Al-Aqsa oleh Israel pada tahun pada tahun 1969.

34. Undang-undang gula yang diberlakukan pada masa Van Der Wall tahun 1870 merupakan puncak perjuangan melawan *Cultur Stelsel* di Hindia Belanda.

SEBAB

Undang-undang gula Van Der Wall memberi kesempatan seluas-luasnya bagi perkembangan pengusaha-pengusaha partikelir.

35. Muhamad Yamin mengusulkan dasar negara dengan menekankan pada lima dasar negara kebangsaan Republik Indonesia.

SEBAB

Muhamad Yamin mengusulkan persatuan, kekeluargaan, keseimbangan, musyawarah, dan keadilan sosial.

36. Meskipun secara militer Mesir mengalami kekalahan dalam perang tahun 1956, namun secara politik, pamor Mesir di bawah Gamal Abdul Nasser justru meningkat.

SEBAB

Pada tahun 1956 Inggris dan Perancis yang merasa dirugikan oleh kebijakan Nasser, menyerang dan menduduki Mesir.

37. Kerukunan antarumat beragama di Indonesia sudah tercipta sejak abad ke-8, yaitu pada masa Kerajaan Mataram Kuno.

SEBAB

Kerukunan itu tercermin dalam letak Candi Prambanan yang merupakan tempat beribadah agama Hindu yang tidak jauh dari letak Candi Mendut untuk agama Buddha.

38. Pada umumnya orang menyebut kebudayaan perunggu di Asia Tenggara sebagai kebudayaan Dongson.

SEBAB

Nama ini diambil berdasarkan nama tempat di Tonkin yang dijadikan penyelidikan pertama kebudayaan tersebut dan di daerah ini terdapat semua peninggalan masa perunggu.

39. Dalam rangka meningkatkan produksi pangan bagi rakyat, pemerintah Orde Baru pada tahun 1970-an menerapkan politik pertanian yang dikenal dengan istilah Panca Usaha Tani.

SEBAB

Salah satu program dari Panca Usaha Tani adalah penggunaan pupuk anorganik.

40. Sebelum tahun 1948, Partai Komunis Indonesia juga pernah melakukan pemberontakan.

SEBAB

Pada bulan November 1926 dan Januari 1927, Partai Komunis melakukan pemberontakan terhadap Pemerintah Kolonial di Banten dan di pantai Barat Sumatra.

41. Raja Charles I terlibat perang dengan pihak parlemen yang dipimpin oleh Oliver Cromwell pada tahun 1642—1649.

SEBAB

Parlemen tidak menyetujui ajaran Nicollo Machiavelli tentang kekuasaan yang mutlak yang dianut oleh Raja Charles I.

42. Walaupun masa pemerintahannya singkat, namun Daendels berhasil melakukan perubahan dalam sistem pemerintahan di Indonesia dengan meletakkan dasar-dasar pemerintahan menurut sistem Eropa.

SEBAB

Pada masa pemerintahan Daendels, Indonesia menjadi tiga provinsi dan 45 kabupaten.

43. Pada awal perkembangan agama Islam tidak terdapat kebudayaan Indonesia yang satu, yang ada adalah tradisi budaya antarwilayah yang saling berhubungan berdasarkan kelompok etnik dan linguistik khusus.

SEBAB

Menurut Ki Hajar Dewantara, kebudayaan nasional adalah puncak-puncak kebudayaan daerah.

44. Liberalisme yang terjadi dalam bidang ekonomi di Inggris pada abad ke-18 mempengaruhi juga bidang politik seiring dengan perkembangan nasionalisme di Amerika Serikat.

SEBAB

Perang kemerdekaan Amerika Serikat bertujuan membebaskan masyarakat dari pengaruh kaum bangsawan dan pedagang Inggris yang menguasai perdagangan teh di Boston.

45. Lahirnya partai-partai politik baru pada era Reformasi di Indonesia merupakan kenyataan objektif bahwa rakyat ingin menampilkan aspirasinya.

SEBAB

Pada era Orde Baru, aspirasi politik rakyat Indonesia mendapat tekanan dan dibatasi secara ketat oleh pemerintah.

46. Pada masa pemerintahan Daendels, peradilan yang berlaku bagi masyarakat bumi putra didasarkan pada peradilan adat.

SEBAB

Daendels hanya membuat perombakan untuk peradilan orang-orang Belanda dengan membentuk Dewan Peradilan.

47. Manifesto Kebudayaan (Manikebu) adalah slogan yang dilontarkan Bung Karno pada tahun 1964 dalam rangka menyatukan para seniman dan budayawan Indonesia untuk memenangkan revolusi.

SEBAB

Para seniman yang berada di bawah pengaruh Sosialis Komunis telah membentuk Lembaga Kebudayaan Rakyat (Lekra).

48. Kesaksian seorang Cina muslim, Ma-Huan, bahwa pada awal abad ke-15 telah terdapat komunitas muslim Cina yang berasal dari Kanton, Zangzhou, dan Quanzhou yang bermukim di dekat pelabuhan-pelabuhan Gresik, Tuban, dan Surabaya adalah hal yang wajar.

SEBAB

Daerah-daerah asal komunitas Cina muslim dan juga daerah Cina Selatan lain merupakan kantong-kantong Islam sebagai akibat persinggungan antara Cina-Arab pada abad ke-7.

49. Selain ditentang oleh pihak Belanda, kecuali *Indo Europeesch Verbond* (IEV), Petisi Soetardjo pada tanggal 15 Juli 1936 juga tidak disetujui oleh beberapa pihak Indonesia.

SEBAB

Pihak Indonesia yang tidak setuju dengan Petisi Soetardjo adalah Goesti M. Noer, caranya adalah dengan menengadahkan tangannya.

50. LEKRA menuduh para seniman dan budayawan yang menjadi pendukung MANIKEBU sebagai antek-antek Nekolim.

SEBAB

MANIKEBU dianggap dipengaruhi pemikiran-pemikiran Barat.

Petunjuk C: dipergunakan dalam menjawab soal nomor 51 sampai nomor 60.

- 51.** Pada tahun 1954, konflik antara Republik Demokrasi Vietnam dan Vietnam Selatan diselesaikan melalui meja perundingan di Jenewa, yang hasilnya...
1. Vietnam dibagi dua, Vietnam Selatan dengan ibukota Saigon dan Vietnam Utara dengan ibukota Hanoi.
 2. Pada tahun 1956 akan diselenggarakan pemilihan umum untuk menentukan kehendak rakyat dalam menentukan status Vietnam.
 3. Pasukan Perancis akan ditarik mundur dari seluruh Vietnam.
 4. Pasukan Amerika Serikat akan ditempatkan di Vietnam sebagai pasukan PBB penjaga perdamaian.
- 52.** Cita-cita nasionalisme Dr. Sun Yat Sen dan partainya Kun Zming Tang menginginkan Negara Cina baru yang berdasarkan atas San Min Chui yang antara lain berisi azas...
1. komunisme
 2. sosialisme
 3. liberalisme
 4. demokrasi
- 53.** Beberapa usaha yang dilakukan Uni Soviet di masa kejayaan kekuasaan komunis untuk menjamin kelanggannya adalah...
1. melaksanakan Molotov Plan
 2. membentuk Pakta Warsawa
 3. mendirikan Comecon
 4. melaksanakan Perang Dingin
- 54.** Gerakan Satyagraha yang dilancarkan Mahatma Gandhi membuat rakyat India...
1. melawan dengan cara kekerasan
 2. antipemerintah Inggris
 3. melakukan mogok kerja
 4. tidak mau bekerjasama
- 55.** Aksi militer Belanda terhadap Bali pada tahun 1948 adalah karena...
1. pada tahun 1841 Raja Klungkung membatalkan perjanjian secara sepihak
 2. penggunaan hak tawangkarang di Sanur dan Puputan Badung
 3. kekalahan tentara Belanda dalam perang Jaga Raya
 4. tindakan Kerajaan Buleleng menawan kapal Belanda di Peramcak
- 56.** Sumber-sumber pendapat VOC dalam abad ke-17 dan 18 berasal dari...
1. Preangerstelsel
 2. Contingenten
 3. Verplichte Leverantien
 4. Cultuurstelsel
- 57.** Peristiwa Lapangan Tianamen yang terjadi pada bulan Juni 1989 merupakan akibat dari...
1. tuntutan mahasiswa agar pemerintah Cina bersedia berdialog tentang masa depan

- Hongkong setelah kepergian Inggris
2. demonstrasi besar-besaran mahasiswa yang menuntut pengunduran diri Sekretaris Partai Komunis Cina Zhao Ziyang
 3. tuntutan agar pemerintah memberikan kebebasan politik yang lebih besar kepada masyarakat setelah Hongkong dikembalikan kepada Cina
 4. tuntutan mahasiswa Cina agar pemerintah memberantas korupsi dan lebih demokratis
- 58.** Ketika memegang pemerintahan di Hindia Belanda, Raffles melakukan beberapa perubahan penting antara lain...
1. Pemerintahan Inggris di Hindia Belanda melarang perdagangan budak
 2. Pulau Jawa dibagi dalam delapan belas karesidenan yang masing-masing dipimpin oleh seorang residen
 3. Pengadilan disesuaikan dengan pengadilan di Inggris
 4. Bupati dijadikan pegawai negeri biasa
- 59.** Tujuh Kaum rasionalis pada abad ke-17 menyebut abad pertengahan sebagai *The Dark Ages* di Eropa dengan alasan bahwa pada periode itu...
1. terjadi larangan berfikir bebas
 2. didominasi oleh dogma-dogma gereja
 3. terjadi isolasi Eropa oleh kekuatan Islam
 4. dikembangkan sistem masyarakat feodal
- 60.** Faktor yang menyebabkan budaya daerah tetap terpelihara baik di tengah-tengah masyarakat Indonesia modern adalah karena adanya keinginan untuk...
1. mempertahankan tradisi, bahasa, dan kepercayaan
 2. menyebarkan tradisi ke daerah lainnya
 3. menolak unsur budaya baru yang akan datang
 4. memadukan tradisi dengan unsur budaya baru

Petunjuk A: Pilih satu jawaban yang paling tepat

1. Peraturan Presiden RI No.25 Tahun 2010 mengatur tentang...
 - A. Rencana Pembangunan Jangka Pendek Nasional 2010—2011
 - B. Rencana Pembangunan Jangka Menengah Nasional 2010—2014
 - C. Rencana Pembangunan Jangka Panjang Nasional 2005—2025
 - D. Rencana Pembangunan Daerah 2010—2014
 - E. Rencana Pembangunan Nasional 2010—2014
2. Rencana Pembangunan Jangka Panjang Nasional (RPJPN) 2005—2025 yang ditetapkan dalam...
 - A. UU Nomor 17 Tahun 2006
 - B. UU Nomor 18 Tahun 2007
 - C. UU Nomor 17 Tahun 2008
 - D. UU Nomor 18 Tahun 2008
 - E. UU Nomor 17 Tahun 2007
3. Undang-Undang Nomor 25 Tahun 2004 mengatur tentang...
 - A. Sistem Perencanaan Pembangunan Nasional (SPPN)
 - B. Sistem Perencanaan Pembangunan Wilayah Barat (SPPWB)
 - C. Sistem Perencanaan Pembangunan Wilayah Timur (SPPWT)
 - D. Sistem Perencanaan Pembangunan Provinsi (SPPP)
 - E. Sistem Perencanaan Pembangunan Daerah (SPPD)
4. Usaha pemerintah untuk mempercepat pertumbuhan ekonomi dan masyarakat diusahakan masyarakat dapat menikmati dilakukan dengan berbagai kegiatan, *kecuali*...
 - A. subsidi
 - B. Jamkesmas
 - C. Bantuan Operasional Sekolah (BOS)
 - D. Program Keluarga Harapan (PKH)
 - E. UMKM
5. Visi pembangunan Nasional Tahun 2005—2025 adalah...
 - A. Indonesia yang mandiri, adil, dan makmur
 - B. Indonesia yang mandiri, maju, adil, dan makmur
 - C. Indonesia yang mandiri, maju, kuat, dan sejahtera
 - D. Indonesia yang mandiri, maju, kuat, dan makmur
 - E. Indonesia yang mandiri, maju, adil, dan sejahtera
6. Berikut adalah Misi Pembangunan Nasional Indonesia, *kecuali*...
 - A. Mewujudkan bangsa yang berdaya saing
 - B. Mewujudkan masyarakat demokratis berlandaskan hukum

- C. Mewujudkan Indonesia aman, damai, dan bersatu
 - D. Mewujudkan Indonesia asri dan lestari
 - E. Mewujudkan Indonesia berperan penting dalam pergaulan di Asia Tenggara
7. Sebagian besar sumber daya dan kebijakan akan diprioritaskan untuk menjamin implementasi beberapa prioritas nasional sesuai misi dan visi pemerintah 2010—2014, *kecuali...*
- A. reformasi birokrasi dan tata kelola
 - B. infrastruktur
 - C. kesehatan
 - D. ketahanan pangan
 - E. militer
8. Strategi dan arah kebijakan pembangunan kewilayahan sesuai RPJPN 2005—2025, *kecuali...*
- A. Mendorong pertumbuhan wilayah-wilayah potensial di Jawa-Bali dan Sumatera
 - B. Meningkatkan keterkaitan antar-wilayah melalui peningkatan perdagangan antarpulau untuk mendukung perekonomian domestik
 - C. Meningkatkan daya saing daerah melalui pengembangan sektor-sektor unggulan di tiap wilayah
 - D. Mendorong percepatan pembangunan daerah tertinggal, kawasan strategis dan cepat tumbuh, kawasan perbatasan, kawasan terdepan, kawasan terluar, dan daerah rawan bencana
 - E. Mendorong pengembangan wilayah laut dan sektor-sektor kelautan
9. Membantu masyarakat bersama penduduk miskin agar mereka berdaya dan akhirnya mampu berpartisipasi aktif dalam mengentaskan dirinya dari kemiskinan dan pada gilirannya mampu berpartisipasi dalam pembangunan di wilayahnya secara lebih luas, merupakan tujuan utama dari program...
- A. PNPM Mandiri
 - B. JPS
 - C. Bantuan Langsung Tunai
 - D. Program Keluarga Harapan (PKH)
 - E. UMKM
10. Penyelenggaraan Ujian Nasional (UN) untuk Sekolah Dasar (SD), SMP, dan SMA yang diadakan pemerintah ditujukan untuk...
- A. Pemerataan pendidikan
 - B. Studi banding mutu pendidikan antardaerah
 - C. Pemetaan hasil pendidikan
 - D. Menentukan kelulusan
 - E. Menilai pencapaian kompetensi lulusan
11. Program pemerintah Jaring Pengaman Sosial (JPS) bertujuan untuk...
- A. Mengatasi kemiskinan
 - B. Pemerataan pendapatan
 - C. Mengurangi dampak krisis ekonomi
 - D. Membantu program desa
 - E. Memberikan kesempatan belajar bagi siswa miskin

12. Pasca selesainya hutang Indonesia terhadap IMF, maka pemerintah melakukan berbagai upaya untuk menghimpun dana masyarakat untuk membiayai pembangunan dengan menawarkan...
- A. Sukuk D. Warrant
B. Obligasi E. Emiten
C. Saham
13. Hasil Ujian Nasional (UN) digunakan sebagai salah satu pertimbangan untuk...
- A. pemetaan mutu dan atau program pendidikan
B. dasar seleksi masuk jenjang pendidikan berikutnya
C. penentuan kelulusan peserta didik dari program dan atau satuan pendidikan
D. pembinaan dan pemberian bantuan kepada satuan pendidikan dalam rangka meningkatkan mutu pendidikan
E. Semua Benar
14. *The Millennium Development Goals* (MDGs) dimana Indonesia sebagai salah satu dari 189 negara yang menandatangani di tahun 2000 memiliki... tujuan.
- A. 7 D. 10
B. 8 E. 11
C. 9
15. Beberapa pilihan di bawah ini merupakan tujuan dari *The Millennium Development Goals* (MDGs) Indonesia, kecuali...
- A. Mengentaskan kemiskinan ekstrim dan kelaparan
B. Mencapai pendidikan dasar untuk semua
C. Mengurangi tingkat kematian anak
D. Meningkatkan kesehatan ibu
E. Memastikan kelestarian hutan
16. Kebijakan pemerintah yang berorientasi untuk memberantas korupsi, kolusi, dan nepotisme, maka diterbitkanlah UU Tentang Komisi Pemberantasan Tindak Pidana Korupsi, yaitu...
- A. UU Nomor 32 Tahun 1999
B. UU Nomor 30 Tahun 2000
C. UU Nomor 30 Tahun 2001
D. UU Nomor 30 Tahun 2002
E. UU Nomor 32 Tahun 2002
17. Dalam kebijakan pemerintah yang tercantum pada UU No.20 tahun 2003 tentang Sistem Pendidikan Nasional, diinstruksikan bahwa nilai anggaran (Nilai minimal anggaran tersebut tidak termasuk operasional dan biaya tenaga pendidik) pembangunan sektor pendidikan minimal 20% dari total...
- A. APBD/APBN
B. APBN
C. APBD
D. APBN dan CSR
E. CSR
18. Pemerintah RI memandang penting keberadaan organisasi internasional sebagai forum untuk membantu meningkatkan kapasitas pembangunan dan perdagangan negara-negara berkembang melalui tiga pilar

kegiatannya, yaitu riset dan analisa, *consensus building*, dan kerjasama teknik. Organisasi internasional yang dimaksud adalah...

- A. UNCTAD
- B. UNDP
- C. WTO
- D. UNIDO
- E. FAO

19. Dalam menjalin hubungan bilateral, Indonesia senantiasa mempromosikan bentuk kehidupan masyarakat yang menjunjung tinggi nilai-nilai saling menghormati, tidak mencampuri urusan dalam negeri negara lain, penolakan penggunaan kekerasan serta konsultasi dan mengutamakan konsensus dalam proses pengambilan keputusan. Saat ini Indonesia telah menjalin kerjasama bilateral dengan...

- A. 162 negara dan 8 kawasan
- B. 163 negara dan 8 kawasan
- C. 164 negara dan 7 kawasan
- D. 165 negara dan 8 kawasan
- E. 166 negara dan 9 kawasan

20. Kerja sama multilateral yang dilakukan melibatkan organisasi berikut, *kecuali*...

- A. G77 dan Cina
- B. NAM
- C. WTO (Tourism)
- D. South Center
- E. UNHCR

21. Untuk mengantisipasi kondisi darurat listrik pada tahun 2010, pemerintah telah mengambil beberapa langkah kebijakan untuk menyehatkan PLN, *kecuali*...

- A. Meningkatkan margin dari 5% menjadi 8%
- B. Pembangunan pembangkit listrik di desa
- C. Rasionalisasi Tarif Dasar Listrik
- D. Subsidi terarah ke masyarakat miskin
- E. Memberikan pinjaman tanpa bunga

22. *National Single Window (NSW)* adalah suatu sistem yang memungkinkan: *single submission of data and information; single and synchronous processing of data and information; dan single decision making for customs release and clearance of cargoes*. Keuntungan penerapan NSW di Indonesia, *kecuali*...

- A. Memfasilitasi percepatan proses penyelesaian kegiatan *customs release and clearance of cargoes*
- B. Menyediakan sistem pelayanan yang mudah, murah, nyaman, aman, dan memberi kepastian usaha.
- C. Menciptakan manajemen keuangan yang lebih baik, menghilangkan redundansi dan duplikasi data meningkatkan validitas dan akurasi data.
- D. Memudahkan pelaksanaan penegakan hukum oleh aparat pemerintah berkaitan dengan kegiatan ekspor-impor.
- E. Meningkatkan perlindungan atas kepentingan nasional dari ancaman serta mengoptimalkan penerimaan negara

23. Kebijakan pemerintah untuk mempercepat pengurangan jumlah masyarakat miskin di Indonesia dari 32 juta orang (14 %) pada tahun 2010 menjadi 8—10 %, maka diterbitkanlah Peraturan Presiden...
- Nomor 13 Tahun 1999
 - Nomor 14 Tahun 1999
 - Nomor 14 Tahun 2010
 - Nomor 15 Tahun 2010
 - Semua salah
24. Dalam pemerintahan Susilo Bambang Yudoyono dan Boediono dibentuk sebuah unit kerja yang bertugas membantu Presiden mencapai sasaran pembangunan nasional dengan penyelesaian penuh. Unit kerja tersebut dibentuk sesuai Perpres Nomor 54 Tahun 2009 dan disebut dengan...
- UKP3R
 - UKP-PPP
 - UKP2R
 - UKPPP
 - UKP-BBB
25. Prioritas pelaksanaan tugas UKP-PPP ditentukan dari waktu ke waktu oleh Presiden, meliputi bidang, *kecuali*...
- peningkatan kapasitas dan efektifitas sistem logistik nasional
 - peningkatan efektifitas dan percepatan pelaksanaan reformasi birokrasi dan perbaikan pelayanan umum
 - perbaikan iklim usaha dan investasi
 - peningkatan kinerja dan akuntabilitas Badan Usaha Milik Negara (BUMN) strategis
 - peningkatan kemampuan In-donesia mengatasi *global warming*
26. Inti dari pnstruksi presiden yang bertujuan mempertajam pencapaian prioritas pembangunan nasional (akselerasi pembangunan ekonomi, pengurangan pengangguran dan kemiskinan) tertuang dalam...
- Inpres No.1 Tahun 2009
 - Inpres No.1 Tahun 2010
 - Inpres No.2 Tahun 2009
 - Inpres No.2 Tahun 2010
 - Inpres No.3 Tahun 2010
27. Untuk meningkatkan efektivitas penanggulangan kemiskinan dan penciptaan lapangan kerja, pemerintah pada tahun 2007 meluncurkan program...
- PNPM Mandiri
 - BLT
 - BOS dan BOP
 - UMKM
 - KUK
28. Beberapa peraturan yang menjadi payung hukum utama untuk Penyediaan Dana Daerah Untuk Program Bersama (DDUPB) oleh Kota/Kabupaten yang diperlukan untuk PNPM Mandiri adalah...
- Peraturan Pemerintah Nomor 50 tahun 2007
 - Peraturan Pemerintah No.7 tahun 2008
 - Peraturan Menteri Keuangan No. 156/PMK.07/2008
 - Peraturan Menteri Keuanga No.168/PMK.07/2009
 - Semua benar

29. Kebijakan pemerintah untuk mengambil bagian dalam CAFTA yang mulai berlaku di awal tahun 2010 akan memberikan dampak...
- Buruk bagi kelangsungan industri di Indonesia
 - Biasa-biasa saja, artinya kelangsungan produk Indonesia tidak terpengaruh
 - Positif bagi kelangsungan industri di Indonesia apabila kita pintar memanfaatkannya
 - Mematikan industri kecil di Indonesia
 - Mempersempit pasar produk dan barang Indonesia
30. Program Jaminan Kesehatan Masyarakat (Jamkesmas) yang dibuat pemerintah ditujukan untuk masyarakat dalam pembiayaan pengobatan, terutama untuk membeli obat. Untuk itu, pemerintah memproduksi obat...
- paten
 - generik
 - assembling
 - OTC
 - bermerek
31. Tugas dan wewenang Undang-undang No.5 Tahun 1999 menjelaskan bahwa tugas dan wewenang Komisi Pengawas Persaingan Usaha adalah sebagai berikut...
- melakukan penilaian terhadap perjanjian yang dapat mengakibatkan terjadinya praktek monopoli dan atau persaingan usaha tidak sehat
 - melakukan penilaian terhadap pelaku usaha yang dapat mengakibatkan terjadinya praktek monopoli dan atau persaingan usaha tidak sehat
 - melakukan penilaian terhadap ada atau tidak adanya penyalahgunaan posisi dominan yang dapat mengakibatkan terjadinya praktek monopoli dan atau persaingan usaha tidak sehat
 - A dan B benar
 - B dan C benar
32. Dalam RPJMN 2010—2014 ini, dalam rangka mendukung terwujudnya Indonesia yang sejahtera, demokratis, dan berkeadilan, kebijakan pembangunan di bidang hukum dan aparatur diarahkan pada perbaikan *good governace* (tata kelola pemerintahan yang baik) dengan strategi seperti...
- peningkatan efektivitas peraturan perundang-undangan
 - peningkatan kinerja lembaga di bidang hukum
 - peningkatan penghormatan, pemajuan, dan penegakan HAM
 - peningkatan kualitas pelayanan publik
 - semua benar
33. Dalam RPJPN, prioritas kebijakan pengelolaan sumber daya alam dan lingkungan hidup pada RPJM 2010—2014 di antaranya adalah...
- penguatan kelembagaan dan peningkatan kesadaran masyarakat yang ditandai dengan berkembangnya proses rehabilitasi dan konservasi sumber daya

- alam dan lingkungan hidup yang disertai dengan menguatnya partisipasi aktif masyarakat
- B. terpeliharanya keanekaragaman hayati dan kekhasan sumber daya alam tropis lainnya yang dimanfaatkan untuk mewujudkan nilai tambah, daya saing bangsa, serta modal pembangunan nasional pada masa yang akan datang
 - C. mantapnya kelembagaan dan kapasitas antisipatif serta penanggulangan bencana di setiap tingkatan pemerintahan
 - D. terlaksananya pembangunan kelautan sebagai gerakan yang didukung oleh semua sektor
 - E. semua benar
- 34.** Arah kebijakan pembangunan pertahanan dan keamanan Indonesia di antaranya adalah...
- A. modernisasi alutsista serta penggantian alutsista yang umur teknisnya sudah tua dan membahayakan keselamatan prajurit
 - B. intensifikasi dan ekstensifikasi patroli keamanan laut oleh Badan Keamanan Laut (Bakamla) yang didukung oleh efektifitas komando dan pengendalian
 - C. percepatan pembentukan komponen Pam Swakarsa
 - D. peningkatan kualitas dan kuantitas pos pertahanan dan keamanan di wilayah perbatasan dan pulau terdepan (terluar) beserta penggelaran prajurit TNI dan Polri
 - E. A, B, dan D benar
- 35.** Dalam mencapai sasaran pembangunan, prioritas sub bidang politik luar negeri adalah peningkatan diplomasi dan kerja sama internasional dengan fokus prioritas di antaranya adalah...
- A. Peningkatan peran dan kepemimpinan Indonesia dalam ASEAN
 - B. Peningkatan kerja sama Selatan-Selatan
 - C. Pemantapan pelaksanaan diplomasi perbatasan
 - D. A dan C Benar
 - E. A, B, dan C benar
- 36.** Pertumbuhan ekonomi dapat didorong dari dua sisi, yakni sisi permintaan dan sisi penawaran. Dari sisi permintaan, ada empat komponen utama di dalamnya yang perlu mendapatkan perhatian, di antaranya adalah...
- A. investasi yang memegang peran penting bagi pertumbuhan ekonomi
 - B. ekspor yang juga merupakan sumber bagi pertumbuhan ekonomi
 - C. kebijakan menjaga daya beli
 - D. optimalisasi pengeluaran pemerintah dan pengelolaan kekayaan negara
 - E. semua benar
- 37.** Upaya meningkatkan daya beli masyarakat ditujukan untuk meningkatkan konsumsi masyarakat sebagai salah satu komponen permintaan domestik yang merupakan sumber utama pertumbuhan ekonomi. Daya

- beli masyarakat dijaga terutama melalui cara berikut, *kecuali...*
- A. menjaga stabilitas harga
 - B. mengadakan berbagai program pemberdayaan masyarakat dan bantuan sosial
 - C. meningkatkan kelancaran arus barang untuk menjaga ketersediaan barang terutama bahan pokok
 - D. meningkatkan perdagangan dalam negeri untuk mendorong transaksi perdagangan domestik dan meningkatkan kesempatan berusaha
 - E. Menjaga stabilitas moneter
38. Mengingat pertambahan penduduk Indonesia tergolong cepat, maka program dan kebijakan pemerintah dalam pengendalian kuantitas penduduk dilakukan melalui tiga fokus prioritas di antaranya adalah...
- A. revitalisasi program KB
 - B. penyerasian kebijakan pengendalian penduduk
 - C. peningkatan ketersediaan dan kualitas data dan informasi kependudukan yang memadai, akurat, dan tepat waktu
 - D. A dan B benar
 - E. A, B, dan C benar
39. Peningkatan akses dan kualitas pelayanan kesehatan dilakukan melalui delapan fokus prioritas di antaranya adalah...
- A. peningkatan kesehatan ibu, bayi, dan balita
 - B. perbaikan status gizi masyarakat
 - C. pengendalian penyakit menular serta penyakit tidak menular diikuti penyehatan lingkungan
 - D. pengembangan sumber daya manusia
 - E. semua benar
40. Peningkatan kualitas wajib belajar pendidikan dasar sembilan tahun yang merata melalui beberapa program berikut, *kecuali...*
- A. penyelenggaraan pendidikan dasar bermutu yang terjangkau bagi semua dalam kerangka pelaksanaan standar pelayanan minimal untuk mencapai standar nasional pendidikan
 - B. pemantapan/implementasi Bantuan Operasional Sekolah (BOS)
 - C. peningkatan daya tampung SMP/MTs/ sederajat terutama di daerah terpencil dan kepulauan
 - D. penurunan angka putus sekolah dan angka mengulang, peningkatan angka melanjutkan, serta penurunan rata-rata lama penyelesaian pendidikan di berbagai jenjang untuk mendukung peningkatan efisiensi internal pendidikan
 - E. harmonisasi pendidikan menengah kejuruan, pendidikan tinggi vokasi, dan pelatihan keterampilan untuk membangun sinergi dalam rangka merespon kebutuhan pasar yang dinamis

41. Sesuai UU Nomor 32 Tahun 2004, pemerintahan daerah menyelenggarakan urusan pemerintahan yang menjadi kewenangannya, kecuali urusan pemerintahan yang oleh undang-undang ini ditentukan menjadi urusan Pemerintah, *kecuali...*
- politik luar negeri
 - pertahanan
 - sumber daya alam
 - yustisi
 - moneter dan fiskal nasional
42. Pelimpahan wewenang pemerintahan oleh pemerintah kepada gubernur sebagai wakil pemerintah dan atau kepada instansi vertikal di wilayah tertentu disebut...
- Otonom
 - Otonomi
 - Desentralisasi
 - Dekonsentrasi
 - Alokasi Umum
43. Kewenangan daerah untuk mengelola sumber daya di wilayah laut sebagaimana dimaksud dalam UU Nomor 32 Tahun 2004 meliputi...
- eksplorasi, eksploitasi, konservasi, dan pengelolaan kekayaan laut
 - pengaturan administratif
 - pengaturan tata ruang
 - ikut serta dalam pertahanan kedaulatan negara
 - pengaturan keuangan
44. Sesuai UU Nomor 32 Tahun 2004, Gubernur karena jabatannya berkedudukan sebagai...
- Atasan Walikota dan Bupati
 - Atasan DPRD
 - Wakil Pemerintah Pusat
 - Pengelola Keuangan
 - Evaluator Program Pembangunan Daerah
45. Berdasarkan UU Nomor 32 Tahun 2004, DPRD memiliki fungsi...
- Judikasi, anggaran, dan pengawasan
 - Legislasi, anggaran, dan pengawasan
 - Legislasi, anggaran, dan evaluasi
 - Anggaran, monitoring, dan evaluasi
 - Judikasi, pembiayaan, dan pengawasan
46. Berdasarkan UU No.32 Tahun 2004, yang bukan tugas dan wewenang DPRD adalah...
- membentuk Perda
 - membahas dan menyetujui rancangan Perda tentang APBD bersama dengan kepala daerah
 - membentuk panitia pengawas pemilihan kepala daerah
 - membahas dan menyetujui rancangan Perda tentang APBD bersama dengan kepala daerah
 - memilih anggota KPUD dan meminta laporan KPUD dalam penyelenggaraan pemilihan kepala daerah
47. Berdasarkan UU No.32 Tahun 2004, DPRD mempunyai hak...
- interpelasi
 - angket

- C. menyatakan pendapat
 D. A dan B benar
 E. A, B, dan C benar
48. Anggota DPRD sesuai UU Nomor 32 Tahun 2004 mempunyai hak di antaranya, *kecuali*...
- A. Mengajukan rancangan Perda
 B. Mengajukan pertanyaan
 C. Membela diri
 D. Keuangan dan administratif
 E. Penyidikan
49. Dalam menjalankan tugas-tugasnya, DPRD memiliki beberapa alat kelengkapan, *kecuali*...
- A. pimpinan
 B. komisi
 C. panitia musyawarah
 D. badan musyawarah
 E. panitia anggaran
50. Sesuai UU Nomor 32 Tahun 2004, DPRD provinsi beranggotakan...
- A. 35—75 orang dan 4 komis
 B. 30—70 orang dan 4 komisi
 C. lebih dari 75 orang dan 4 komisi
 D. 35—75 orang dan 5 komisi
 E. 35—75 orang dan 3 komisi
51. Sesuai UU No 32 Tahun 2004, DPRD kabupaten/kota beranggotakan...
- A. 20—35 orang dan 3 komisi
 B. 20—35 orang dan 4 komisi
 C. 25—35 orang dan 3 komisi
 D. 25—35 orang dan 4 komisi
 E. lebih dari 35 orang dan 3 komisi
52. Perangkat daerah kabupaten/kota sesuai UU Nomor 32 Tahun 2004 adalah...
- A. kecamatan
 B. sekretariat DPRD
 C. dinas daerah
 D. lembaga teknis daerah
 E. A, B, C, dan D benar
53. Berikut ini sumber pendapatan daerah berdasarkan UU Nomor 32 Tahun 2004, *kecuali*...
- A. pajak daerah
 B. retribusi
 C. hasil kekayaan daerah yang dipisahkan
 D. dana perimbangan
 E. dana alokasi sementara
54. Dana perimbangan sebagaimana dimaksud dalam Pasal 157 huruf b dalam UU No.32 Tahun 2004 terdiri atas...
- A. Dana Bagi Hasil
 B. Dana Alokasi Umum
 C. Dana Alokasi Khusus
 D. A dan B benar
 E. A, B, dan C benar
55. Panitia pengawas pemilihan mempunyai tugas dan wewenang sesuai UU No.32 tahun 2004, *kecuali*...
- A. mengawasi semua tahapan penyelenggaraan pemilihan kepala daerah dan wakil kepala daerah
 B. menerima laporan pelanggaran peraturan perundang-undangan pemilihan kepala daerah dan wakil kepala daerah

- C. menyelesaikan sengketa yang timbul dalam penyelenggaraan pemilihan kepala daerah dan wakil kepala daerah
 - D. memroses temuan dan laporan yang tidak dapat diselesaikan
 - E. mengatur hubungan koordinasi antaranitia pengawasan pada semua tingkatan
56. Perimbangan keuangan pemerintah pusat dan pemerintah daerah diatur dalam...
- A. UU No.33 Tahun 2003
 - B. UU No.33 Tahun 2004
 - C. UU No.34 Tahun 2004
 - D. UU No.35 Tahun 2004
 - E. UU No.36 Tahun 2005
57. Sesuai UU No.33 Tahun 2004, Dana Alokasi Umum (DAU) adalah...
- A. dana yang bersumber dari pendapatan APBN dengan tujuan pemerataan dan mendanai kebutuhan daerah dalam rangka pelaksanaan desentralisasi
 - B. dana yang bersumber dari pendapatan APBD provinsi dengan tujuan pemerataan dan mendanai kebutuhan daerah dalam rangka pelaksanaan desentralisasi
 - C. dana yang bersumber dari pendapatan APBD kabupaten/kota yang dialokasikan dengan tujuan pemerataan dan mendanai kebutuhan daerah dalam rangka pelaksanaan desentralisasi
 - D. dana yang bersumber dari pendapatan Bank Indonesia dengan tujuan pemerataan dan mendanai kebutuhan daerah dalam rangka pelaksanaan desentralisasi
58. Sesuai UU No.33 Tahun 2004, Dana Dekonsentrasi adalah...
- A. dana yang berasal dari APBN yang dilaksanakan oleh gubernur sebagai wakil pemerintah yang mencakup semua penerimaan dan pengeluaran dalam rangka pelaksanaan dekonsentrasi, tidak termasuk dana yang dialokasikan untuk instansi vertikal pusat di daerah
 - B. dana yang berasal dari APBD Provinsi yang dilaksanakan oleh gubernur sebagai wakil pemerintah yang mencakup semua penerimaan dan pengeluaran dalam rangka pelaksanaan dekonsentrasi, tidak termasuk dana yang dialokasikan untuk instansi vertikal pusat di daerah.
 - C. dana yang berasal dari APBD kabupaten/kota yang dilaksanakan oleh gubernur sebagai wakil pemerintah yang mencakup semua penerimaan dan pengeluaran dalam rangka pelaksanaan dekonsentrasi,

- tidak termasuk dana yang dialokasikan untuk instansi vertikal pusat di daerah
- D. dana yang berasal dari Bank Indonesia yang dilaksanakan oleh gubernur sebagai wakil pemerintah yang mencakup semua penerimaan dan pengeluaran dalam rangka pelaksanaan dekonsentrasi, tidak termasuk dana yang dialokasikan untuk instansi vertikal pusat di daerah
- E. dana yang berasal dari APBN yang dilaksanakan oleh gubernur sebagai wakil pemerintah yang mencakup semua penerimaan dan pengeluaran dalam rangka pelaksanaan dekonsentrasi, termasuk dana yang dialokasikan untuk instansi vertikal pusat di daerah
- 59.** Anggaran Pendapatan Belanja Daerah (APBD) sesuai UU Nomor 33 Tahun 2004 mempunyai fungsi orotisasi, perencanaan, dan...
- A. pengawasan
 B. alokasi
 C. distribusi
 D. A, B, dan C benar
 E. B dan C benar
- 60.** UU Nomor 32 Tahun 2004 tentang Pemerintahan Daerah merupakan revisi dari...
- A. UU Nomor 22 Tahun 1999
 B. UU Nomor 25 Tahun 1999
 C. UU Nomor 22 Tahun 2000
 D. UU Nomor 25 Tahun 2000
 E. UU Nomor 12 Tahun 1999
- 61.** Untuk mewujudkan pasar bebas ASEAN atau penyatuan masyarakat ekonomi ASEAN (ASEAN Economic Community/AEC) di 2015, maka seluruh negara ASEAN harus melakukan liberalisasi secara bebas dalam bidang?
- A. perdagangan barang, jasa, investasi, dan tenaga terampil
 B. perdagangan barang, jasa, dan investasi
 C. perdagangan barang dan investasi
 D. perdagangan barang dan arus modal
 E. investasi, arus modal, dan tenaga terampil
- 62.** Mengacu pada UU No. 42 Tahun 2008 tentang Pemilu Presiden dan Wakil Presiden (Bab III Pasal 9), jumlah calon presiden/wapres pada Pilpres 2014 maksimal . . . pasang?
- A. 3 D. 6
 B. 4 E. 7
 C. 5
- 63.** Dalam rangka melindungi dan sekaligus mengoptimalkan pemanfaatan mineral dan batu bara bagi kepentingan bangsa, negara, dan masyarakat, maka diterbitkanlah undang-undang tentang pertambangan mineral dan batu bara, yaitu:

- A. UU No. 4 Tahun 2008
 - B. UU No. 4 Tahun 2009
 - C. UU No. 4 Tahun 2010
 - D. UU No. 4 Tahun 2011
 - E. UU No. 4 Tahun 2013
- 64.** Sesuai dengan Peraturan Presiden No. 111 Tahun 2013 tentang Perubahan Atas Peraturan Presiden No.12 Tahun 2013 tentang Jaminan Kesehatan, maka Badan Penyelenggara Jaminan Sosial Kesehatan (BPJS Kesehatan) adalah badan hukum publik yang bertanggung jawab kepada
- A. Presiden
 - B. Menteri BUMN
 - C. Lembaga Publik
 - D. Menteri Keuangan
 - E. Lembaga Independen
- 65.** Pada tanggal 9 April 2014 akan diselenggarakan pemilu legislatif dan tanggal 9 Juli 2014 akan diselenggarakan pemilu presiden/wakil presiden. UU tentang Penyelenggara Pemilihan Umum di Indonesia diatur dalam:
- A. UU No. 12 Tahun 2006
 - B. UU No. 22 Tahun 2007
 - C. UU No. 32 Tahun 2009
 - D. UU No. 42 Tahun 2012
 - E. UU No. 22 Tahun 2013
- 66.** Daftar Pemilih Tetap (DPT) Pemilu 2014 adalah sebanyak
- A. 186.569.233 jiwa
 - B. 186.659.233 jiwa
 - C. 196.569.233 jiwa
 - D. 176.659.233 jiwa
 - E. 186.569.332 jiwa

TIPS PERSIAPAN TES CPNS

Menjalani tes masuk CPNS perlu persiapan yang matang, baik persiapan fisik dan mental.

Persiapan Fisik

- 1) Membiasakan diri menjalani pola hidup sehat, misalnya rajin mandi, gosok gigi, cukup istirahat, dan apabila terserang gejala penyakit harus segera ditangani
- 2) Membiasakan diri untuk menjalani pola makan yang sehat sedari dini. Misalnya makan secukupnya dan teratur, pilih bahan makanan yang segar dan bergizi, serta hindari makanan yang mengandung perasa, pengawet, dan pewarna kimia.
- 3) Menghindarkan hal-hal yang bisa merusak kesehatan, seperti merokok, minuman keras, dan narkoba.
- 4) Rajin olahraga
- 5) Cukup istirahat terutama di hari-hari menjelang tes.
- 6) Membersihkan diri dan memelihara kepantasan berbusana.
- 7) Persiapan perlengkapan tes, seperti nomor tes, ketentuan busana/pakaian, perlengkapan tulis lengkap, serta alas kaki dan aksesoris.

Persiapan Mental

Berikut persiapan mental yang perlu dilakukan antara lain sebagai berikut.

- 1) Doa tiada henti.
- 2) Restu kedua orangtua dan keluarga.
- 3) Pemikiran positif dan jauh ke depan.
- 4) Hindari "3M", yaitu Malas, Malu, dan Mangkir.
- 5) Rajin mencari informasi terkait.
- 6) Tidak tergesa-gesa dan juga tak terlalu lambat.

Petunjuk A: Pilih satu jawaban yang paling tepat

Soal nomor 1—5 berhubungan dengan wacana berikut ini.

Kecepatan komputer mengolah informasi sangat ditentukan oleh prosesornya. Dalam teknologi digital silikon (konvensional), untuk meningkatkan kecepatan prosesor, kerapatan transistor dalam chip prosesor harus ditingkatkan. Upaya meningkatkan kerapatan transistor ini tidak mungkin dapat dilakukan terus-menerus tanpa batas karena suatu saat pasti tidak akan diperkecil lagi. Pada keadaan ini perlu ditemukan teknologi baru, misalnya teknologi kuantum, untuk meningkatkan kecepatan prosesor.

Istilah kuantum (*quantum*) belakangan ini mulai populer dan sering digunakan dalam berbagai konsep yang memperkenalkan suatu paradigma baru, *quantum learning*, *quantum teaching*, *quantum bussiness*, dan sebagainya. Kiranya tidak berlebihan jika dikatakan bahwa istilah kuantum pertama kali diperkenalkan oleh Max Planck, seorang fisikawan Jerman, dalam teori kuantum cahaya untuk menjelaskan radiasi benda hitam, secara tidak langsung teori inilah yang melahirkan fisika kuantum yang mempunyai efek dominan pada sistem dalam skala atomik.

Sejalan dengan ilmu fisika dan informasi, belakangan ini telah mulai dikembangkan komputasi kuantum yang menggunakan prinsip-prinsip fisika kuantum. Komputasi kuantum ini nantinya diharapkan dapat melahirkan teknologi kuantum yang memungkinkan terobosan teknologi untuk mewujudkan komputer masa depan (komputer kuantum) yang bekerja dengan cara yang sama sekali berbeda dengan komputer konvensional yang dikenal saat ini.

1. Max Planck, seorang fisikawan Jerman, yang secara tak langsung melahirkan teori...
 - A. komputasi kuantum
 - B. teknologi kuantum
 - C. cahaya kuantum
 - D. fisika kuantum
 - E. atom kuantum
2. Kata kuantum yang terdapat dalam teks di atas bermakna...
 - A. banyaknya (jumlah) sesuatu
 - B. energi yang tidak dapat dipecah-pecah lagi
 - C. kecepatan
 - D. lompatan yang tergesa-gesa
 - E. perubahan

3. Untuk meningkatkan kecepatan prosesor pada masa yang akan datang diperlukan teknologi baru yang disebut teknologi komputer kuantum, yang cara kerjanya sama sekali berbeda dengan komputer konvensional saat ini. Pernyataan di atas terdapat pada paragraf...
- A. pertama
 - B. kedua
 - C. ketiga
 - D. pertama dan ketiga
 - E. kedua dan ketiga
4. Kecepatan pengolahan informasi masa depan dalam sistem komputer yang berteknologi digital silikon, seperti sekarang, tidak akan lagi diharapkan maksimum karena...
- A. chip prosesoranya bermasalah
 - B. ukuran transistornya tidak dapat lagi diperkecil
 - C. transistornya sudah lemah
 - D. teknologi bersifat konvensional
 - E. kurang efektif
5. Harapan penulis dari teks di atas tertuang pada...
- A. paragraf 1
 - B. paragraf 2
 - C. paragraf 3
 - D. paragraf 1 dan 2
 - E. paragraf 1 dan 3

Soal nomor 6—9 berdasarkan pada bacaan berikut ini.

Perlu dijelaskan bahwa sebagai aparatus komunikasi, bahasa

memiliki rupa-rupa keterbatasan dan ketidaksempurnaan. Banyak kekuranglengkapan yang melekat erat (*inheren*) di dalam sosok bahasa itu sendiri, yang pada gilirannya justru dapat mencuatkan aneka kesalahpahaman. Sebab pertama dari kekuranglengkapan dan kekurangsempurnaan bahasa ialah penandaan atau penyimbolan unsur-unsur kebahasaan. Penandaan komponen-komponen bahasa tersebut lazimnya dilakukan baik secara konvensional maupun inkonvensional.

Penyimbolan secara konvensional dilaksanakan atas dasar kesepahaman dan kesepakatan bersama di antara sesama warga pemakaian bahasa dalam sebuah masyarakat bahasa. Karena dasar utamanya adalah kesepakatan atau konvensi, maka lazimnya hasil penyimbolan yang demikian itu tidak banyak menghadirkan persoalan. Ambillah contoh kata Jawa *segawon* yang dalam bahasa Indonesia anjing, dan dalam bahasa Inggris *dog*. Penamaan terhadap sosok binatang piaraan yang buas, berbulu bagus, tidak terlalu besar, dan sukanya meraung-raung keras itu dilakukan secara konvensional. Karena simbol tersebut muncul dalam kesepakatan atau kesepahaman bersama, tidak ditemukan persoalan di dalam praktik komunikasi.

Penyimbolan yang kedua dilakukan secara arbitrer. Artinya, satuan lingual tertentu digunakan untuk

menyimboli sesuatu entitas di alam raya ini secara semena-mena dan tidak selalu jelas alasan dan justifikasinya. Karena itu, simbolisasi yang demikian rentan terhadap aneka kesamaran dan ketaksaan. Sejumlah pakar bahkan dengan tegas menyebutkan, kesamaran dan ketaksaan tersebut sesungguhnya merupakan sifat kebahasaan melekat, sebagai akibat yang tidak terhindarkan lagi dari simbolisasi arbitrer itu.

6. Makna kata berikut ini identik dengan kata *ketaksaan*, kecuali...
 - A. kekaburan
 - B. kegelapan
 - C. keraguan
 - D. ambiguitas
 - E. kesamaran
7. Jika kata *arbitrer* diartikan sebagai semena-mena, maka makna kata *arbitrer* adalah...
 - A. orang yang sering melakukan pekerjaan secara sesuka hatinya
 - B. orang yang dipercaya untuk menjadi penengah atau pemutus antara dua belah pihak yang sedang bersengketa
 - C. orang yang sering mengartikan suatu kata sesuka hatinya
 - D. orang yang pekerjaannya menjadi perantara perdagangan antara penjual dan pembeli
 - E. orang yang selalu berkata bohong
8. Masalah utama yang dibicarakan dalam paragraf pertama pada teks di atas adalah...
 - A. Bahasa memiliki rupa-rupa keterbatasan dan ketidaksempurnaan.
 - B. Kekuranglengkapan di dalam sosok bahasa dapat mencuatkan kesalahpahaman.
 - C. Penyebab kekuranglengkapan dan kekurangsempurnaan bahasa.
 - D. Penandaan unsur-unsur kebahasaan dilakukan baik secara konvensional maupun inkonvensional.
 - E. Simbolisasi yang arbitrer rentan terhadap ketaksaan.
9. Kesimpulan dari teks di atas adalah...
 - A. Kesamaran dan ketaksaan di dalam sosok bahasa adalah suatu keniscayaan.
 - B. Kesamaran dan ketaksaan di dalam sosok bahasa merupakan hal yang bisa dihindari.
 - C. Kesamaran dan ketaksaan di dalam sosok bahasa terjadi sebagai akibat simbolisasi.
 - D. Kesamaran dan ketaksaan di dalam sosok bahasa bisa memunculkan aneka kesalahpahaman.
 - E. Kesamaran dan ketaksaan di dalam sosok bahasa seringkali terjadi

Pada soal 10—11 didasarkan pada keterangan berikut.

Fokus sopir dalam kendaraan yang sedang melaju adalah melihat ke depan melalui kaca depan, bukan pada kaca spion. Fokus pada kaca spion akan memengaruhi laju kendaraan dan bukan tidak mungkin berakibat kecelakaan. Penggunaan spion pun hanya sewaktu-waktu dan setiap kali penggunaannya hanya untuk sekejap, tidak untuk berlama-lama.

10. Ide pokok paragraf di atas adalah...
- A. Tugas utama sopir adalah melihat kaca depan.
 - B. Penggunaan kaca spion cukup sewaktu-waktu.
 - C. Pengaruh kaca spion terhadap laju kendaraan dan kecelakaan.
 - D. Sopir harus melihat ke depan.
 - E. Sopir harus sering melihat kaca spion.
11. Dari bacaan di atas dapat disimpulkan bahwa...
- A. Kaca spion berbahaya.
 - B. Kaca spion dapat menambah laju kendaraan.
 - C. Kaca spion digunakan setiap waktu.
 - D. Kaca spion dilihat secara sekilas saja.
 - E. Kaca spion tidak terlalu penting bagi pengendara.

Untuk menjawab nomor 12—16, bacalah kutipan karangan di bawah ini secara teliti kemudian jawablah pertanyaan selanjutnya.

(1) Dunia dewasa ini dicemaskan oleh perilaku organisasi kapitalis global yang ingin menguasai seluruh aspek kehidupan manusia. (2) Sebagian dari anak-anak negeri yang sedang berkembang yang memiliki keterampilan intelektual terjerumus menjadi mitra modal asing dengan mengorbankan kepentingan bangsanya. (3) Sungguh sangat memprihatinkan keadaan itu. (4) Sebagian besar rakyat di negeri sedang berkembang miskin, menderita, dan sengsara, padahal sumber alamnya melimpah ruah, cukup untuk hidup layak dan manusiawi.

(1) Kondisi kehidupan rakyat di negeri sedang berkembang, termasuk di Indonesia, saat ini sungguh mengharukan. (2) Kaum miskin makin bertambah banyak dari tahun ke tahun, demikian juga kaum pengangguran. (3) Negara nampaknya kurang menaruh perhatian terhadap mereka, karena pejabatnya sibuk melayani kaum kapitalis global. (4) Kaum ilmuwan disibukkan oleh proyek-proyek riset yang dibiayai oleh organisasi non pemerintah (NGO = Non Government Organization) negara kaya dan kaum politisinya disibukkan oleh berbagai pembuatan kebijakan yang menguntungkan kaum kapitalis global.

12. Kalimat nomor (4) dalam paragraf kedua di atas...
- sudah benar sehingga tidak perlu perbaikan
 - benar, tetapi dengan perbaikan non pemerintah menjadi non-pemerintah
 - benar, tetapi dengan perbaikan *Non Government Organization* menjadi *non-government organization*
 - benar, tetapi dengan perbaikan B dan C
 - tidak benar, banyak yang perlu diperbaiki
13. Topik paragraf kedua di atas adalah...
- jumlah orang miskin yang makin bertambah
 - kurangnya perhatian negara terhadap orang miskin
 - kehidupan rakyat di negara berkembang yang mengharukan
 - ilmuwan dan politikus yang berpihak pada kaum kapitalis
 - kebijakan kaum politisi yang menguntungkan kaum kapitalis
14. Pola kalimat nomor (3) dalam paragraf pertama di atas adalah...
- SP
 - SPK
 - PS
 - KPS
 - SPO
15. Subyek kalimat nomor (1) dalam paragraf pertama di atas adalah...
- dunia dewasa ini
 - dunia
 - perilaku organisasi kapitalis global
 - seluruh aspek kehidupan manusia
 - dunia dewasa
16. Pokok pikiran paragraf di atas adalah...
- keprihatinan penulis terhadap sebagian intelektual di negara berkembang
 - keprihatinan penulis terhadap penderitaan rakyat di negara berkembang
 - kecemasan penulis terhadap organisasi kapitalis global
 - kecemasan penulis terhadap kesengsaraan rakyat di negara berkembang
 - kecemasan penulis terhadap perilaku kaum kapitalis
17. Ihwal pemasaran ini Manulang (1986 : 8) mengatakan bahwa pemasaran adalah fungsi manajemen yang mengorganisasi dan menjuruskan semua kegiatan perusahaan yang meliputi penilaian dan perubahan tenaga beli konsumen menjadi permintaan yang efektif terhadap suatu barang atau jasa tersebut kepada konsumen terakhir atau pemakai sehingga perusahaan dapat mencapai laba atau tujuan lain ditetapkan.
- Penulisan kutipan berikut itu benar karena...
- Kutipan langsung lebih dari 4 baris tidak dibubuhkan tanda petik

- B. Kutipan langsung tidak bertanda petik
- C. Bukan kutipan langsung
- D. Kutipan tidak langsung
- E. Berbentuk saduran
18. Penulisan daftar pustaka yang benar yang sumbernya dari makalah adalah...
- A. Abdullah Baikuni, Ahmad Kohir, Mohammad Hakim, dan Abdul Aziz 1990. *Ekonomi Negara Berkembang*. Makalah Seminar 12—15 Mei 1990 di Jakarta
- B. Baikuni, Abdullah, Ahmad Kohir, Mohammad Hakim, dan Abdul Aziz 1990. *Ekonomi Negara Berkembang*. Makalah Seminar 12—15 Mei 1990 di Jakarta.
- C. Baikuni, Abdullah dkk.1990. *Ekonomi Negara Berkembang*. Makalah Seminar 12-15 Mei 1990 di Jakarta.
- D. Baikuni, Abdullah et. al 1990. "Ekonomi Negara Berkembang". Makalah Seminar 12—15 Mei 1990 di Jakarta.
- E. Abdullah Baikuni, dkk 1990. *Ekonomi Negara Berkembang*. Makalah Seminar 12—15 Mei 1990 di Jakarta.
19. Yang harus dimuat dalam bab penutup suatu karangan ilmiah adalah...
- A. ikhtisar pendahuluan
- B. rangkuman dan isi serta saran
- C. kesimpulan dan hasil analisis
- D. kesimpulan dan saran
- E. rangkuman dan saran
20. "Bunga bank yang ideal untuk investasi adalah yang berkisar antara 11% sampai 12%" menurut Sastrowardojo (1991 : 3)
Pernyataan Sastrowardojo merupakan...
- A. kutipan tak langsung
- B. kutipan langsung
- C. bukan kutipan
- D. saduran
- E. kalimat langsung
21. Penulisan yang benar dalam daftar pustaka yang sumbernya dari buku adalah...
- A. Selo Sumardjan dan Winarno Surachmad. 1977. *Metode Penelitian Masyarakat*. Jakarta: Gramedia.
- B. Selo Sumarjan dan Winarno Surachmad. 1977. *Metode Penelitian Masyarakat*. Jakarta: Gramedia.
- C. Sumarjan, Selo dan Surachmad, Winarno. 1977.
- D. Sumarjan, Selo dan Surachmad, Winarno. 1977. "Metode Penelitian Masyarakat". Jakarta: Gramedia.
- E. Metode Penelitian Masyarakat. Selo, Sumarjan dan Winarno, Surachmad. 1977. Jakarta: Gramedia.
22. Mana yang tepat dan betul?
- A. Namun demikian,...
- B. Namun begitu,...
- C. Walaupun demikian,...

- D. Maka dari itu,...
- E. Walaupun begitu,...
23. Mana yang benar?
- A. Hari Ulang Tahun ABRI XXV
- B. Hari Ulang Tahun ke XXV ABRI
- C. Hari Ulang Tahun ABRI ke XXV
- D. Hari Ulang Tahun XXV ABRI
- E. Hari Ulang Tahun ABRI Ke-25
24. Mana yang baku tulisannya?
- A. Kita harus mengindonesiakan kata-kata asing.
- B. Kita harus meng-Indonesia-kan kata-kata asing.
- C. Kita harus mengIndonesiakan kata-kata asing.
- D. Kita harus meng-Indonesiakan kata-kata asing.
- E. Kita harus meng-indonesiakan kata-kata asing.
25. Penulisan kata berikut ini semua salah, *kecuali*...
- A. danau toba
- B. Bahasa Indonesia
- C. Komoditi
- D. Persentasi
- E. Kwitansi
26. Mana yang betul?
- A. a/n Menteri Pendidikan dan Kebudayaan
- B. Lampiran 2 (dua) eksemplar
- C. Ayah memesan 300 ekor ayam
- D. Tahun Hijriyah 1408
- E. 4 buah mangga
27. Kata *kudapan* dari kata...
- A. catering
- B. cake
- C. snack
- D. tissue
- E. dessert
28. Kata *ranking* padanannya dalam bahasa Indonesia adalah...
- A. juara
- B. utama
- C. pemeringkatan
- D. peringkat
- E. urutan
29. *Pasar Swalayan* diterjemahkan dari kata...
- A. *departement store*
- B. *supermarket*
- C. *shopping centre*
- D. *fair*
- E. *mall*
30. Kata *free parking* sebaiknya diterjemahkan menjadi...
- A. bebas parkir
- B. dilarang parkir
- C. boleh parkir
- D. parkir gratis atau parkir cuma-cuma
- E. parkir berbayar
31. Mana yang betul?
- A. kait-mengkait, mengkoordinir
- B. mencolok, mencolek
- C. menterjemahkan, mentaati
- D. menyontoh, menyicipi
- E. menyuri, menyuntik
32. Mana yang benar ejaannya?
- A. Ia baru saja membaca buku Teknis Penulisan Ilmiah Populer.

- B. Ia baru saja membaca buku “Teknik Penulisan Ilmiah Populer”.
- C. Ia baru saja membaca buku *Teknik Penulisan Ilmiah Populer*.
- D. Ia baru saja membaca buku TEKNIK PENULISAN ILMIAH POPULER.
- E. Ia baru saja membaca buku *Teknik Penulisan Ilmiah Populer*.
- 33.** Mana yang baku tulisannya?
- A. semi profesional, Amir Siregar, SH, maghrib
- B. dari tanggal 7—17 November 2000, beritahukan
- C. subsistem, nonbaku
- D. sipengirim, akhlak
- E. selasivikasi, takwa
- 34.** Penulisan yang baku adalah...
- A. Februari, Syaraf, Rp2.500,00, diujicobakan
- B. Tahun 550-an, lambang bilangan, ekstrakurikuler
- C. efektif, kwis, susu ultra, mentik
- D. komplek, wassalam, halayak, di seberang jalan
- E. bahasanya, trilyun, propinsi, asas
- 35.** Pemakaian tanda koma di bawah ini salah, *kecuali*...
- A. Presiden Republik Indonesia, Abdurrahman Wahid, adalah seorang kiai.
- B. Kami berpendapat, bahwa hal itu tidak begitu menguntungkan.
- C. Waktu itu, saya masih kuliah di Rawamangun.
- D. Indonesia, adalah negara yang berdasarkan negara hukum.
- E. 10.000 penonton memadati Gelora Bung Karno tadi sore
- 36.** Penulisan kalimat berikut ini semua salah, *kecuali* kalimat...
- A. Daripada duduk melamun lebih baik berjalan-jalan.
- B. Kami sudah mencarinya kian ke mari, tetapi juga belum juga ditemukan.
- C. Di sekolah kami, misalnya. Tidak ada mahasiswa yang mendapat bea siswa.
- D. Sejak AKU terdapat pada buku “Deru Campur Aku”.
- E. Seandainya aku ada di sana. Aku bisa saja membantunya.
- 37.** Penulisan kalimat berikut ini salah, *kecuali*...
- A. Kita memerlukan: modal, tenaga ahli, dan teknologi tepat guna.
- B. “Saya gembira sekali.” kata ayah, “karena engkau dapat menyelesaikan sekolah tepat pada waktunya.”
- C. Jadi, penyelesaiannya tidaklah semudah yang diperkirakan.
- D. Faktor-faktor produksi menyangkut masalah (a) alam, (b) tenaga kerja, (c) modal.
- E. Ayah bekerja di kantor sedangkan ibu memasak di dapur.
- 38.** Penulisan yang tidak sesuai dengan struktur kalimat dan ejaan yang berlaku sekarang adalah...
- A. Walaupun ia berpangkat koprал ia tetap gembira dalam menjalankan tugas.

- B. Tuhan selalu menunjukkan jalan yang benar kepada hamba-Nya yang saleh.
- C. Malaikat Jibril adalah malaikat yang menjadi perantara dalam penyampaian firman Allah kepada Rasul-Nya.
- D. Kepada Engkau kami menyembah dan kepada Engkau pula kami meminta pertolongan.
- E. Namun, kenaikan harga minyak di pasar internasional justru membebani keuangan negara.
39. Pemakaian tanda penghubung di bawah ini benar, *kecuali*...
- A. Be-revolusi tidak sama maknanya dengan berevolusi
- B. Ia terus-menerus mendapat penghargaan.
- C. KTPnya baru saja diganti dengan KTP-Jawa Barat.
- D. "Ada lima uang 1000-an di kantongku." Kata Budi.
- E. Ayu memiliki uang lima puluh-ribuan baru.
40. Pemakaian titik (.) di bawah ini semua salah, *kecuali*...
- A. Ia bukan lulusan FEUI. Melainkan lulusan STAN
- B. Jakarta, 4 November 2004.
- C. Memasyarakatkan suku terasing adalah salah satu tugas Departemen Sosial R.I.
- D. Lihat halaman 2.345 dan seterusnya.
- E. Ia bersekolah di SMP Pekayon.
41. Penulisan kata berikut ini benar, *kecuali*...
- A. antarbangsa
- B. subbab
- C. kemari
- D. daripada
- E. se-jakarta
42. Dalam rapat itu membahas kemungkinan pembukaan bank di desa-desa. Kalimat ini tidak benar karena...
- A. tidak berpredikat
- B. tidak bersubyek
- C. tidak berobyek
- D. tidak berketerangan
- E. tidak memiliki kata penghubung
43. Berikut ini yang *bukan* merupakan kalimat adalah...
- A. Penyanyi yang berwajah tampan itu tampil sangat memukau.
- B. Ayahnya di Surabaya beberapa hari untuk keperluan dinas.
- C. Tetangganya yang paling kaya itu membantu pembangunan masjid itu.
- D. Kakaknya adalah wartawan majalah *Tempo*.
- E. Wanita itu berparas cantik
44. Kata *activity* di serap ke dalam bahasa Indonesia menjadi...
- A. aktiviti
- B. aktivitas
- C. aktifitas
- D. aktifiti
- E. aktifity
45. Kalimat berikut ini yang mempunyai keterangan adalah...
- A. Mereka sedang membicarakan masa lalunya.

- B. Pejabat itu berkata bahwa OPEC tidak dapat menurunkan produksi minyaknya.
- C. Semua barang-barang itu mereka temukan juga.
- D. Peralatannya tampak megah.
- E. Budi memakai sepatu baru hari ini.
46. Kalimat yang penyusunnya (strukturalnya) sesuai dengan kaidah bahasa adalah...
- A. Kertas pertama kali ditemukan di Cina.
- B. Selama enam ratus tahun tidak keluar dari daerah Cina.
- C. Setelah dipelajari caranya, kemudian baru dibuat di Indonesia.
- D. Akhirnya bisa masuk dan dipasarkan di Indonesia.
- E. Tidak mungkin terjadi seperti ini.
47. Berikut ini *bukan* merupakan kalimat, *kecuali*...
- A. Mendirikan pabrik baja di Cilegon.
- B. Dalam ruangan itu memerlukan tiga buah kursi.
- C. Berenang itu menyehatkan badan.
- D. Seminar itu memperoleh masukan tentang kontroversi amandemen UUD 1945.
- E. Perlu keuletan untuk membuat suatu karya seni.
48. Penulisan daftar pustaka yang benar adalah...
- A. Sumitro Djojohadikusumo 1992. "Prospek Ekonomi Indonesia". Dalam Berita Buana Kamis, 4 April 1992 Jakarta.
- B. Sumitro Djojohadikusumo. 1992. Prospek Ekonomi Indonesia. Dalam Berita Buana Kamis, 4 April 1992 Jakarta.
- C. Djojohadikusumo, Sumitro. 1992. "Prospek Ekonomi Indonesia". Dalam Berita Buana Kamis, 4 April 1992 Jakarta.
- D. Djojohadikusumo, Sumitro. 1992. Prospek Ekonomi Indonesia. Dalam Berita Buana Kamis, 4 April 1992 Jakarta.
- E. Djojohadikusumo, Sumitro. 1992. "Prospek Ekonomi Indonesia". Dalam Berita Buana Kamis, 4 April 1992 Jakarta.
49. Penulisan bentuk kata di bawah ini salah, *kecuali*...
- A. Dua kesebelasan itu akhirnya sepakat untuk bertanding-ulang walaupun jadwalnya belum ditentukan.
- B. Dua kesebelasan itu akhirnya sepakat untuk bertanding walaupun jadwalnya belum ditentukan.
- C. Dua kesebelasan itu akhirnya sepakat untuk bertanding ulang walaupun jadwalnya belum ditentukan.
- D. Dua kesebelasan itu akhirnya sepakat untuk bertanding walaupun jadualnya belum ditentukan.
- E. Dua kesebelasan itu, akhirnya sepakat untuk bertanding

walaupun jadwalnya belum ditentukan.

50. Pemakaian titik (.) di bawah ini semua benar, *kecuali*...

- A. Ia bukan lulusan U.I. melainkan lulusan I.P.B.
- B. Jakarta, 22 Juli 2003
- C. Memasyarakatkan suku terasing adalah salah satu tugas Departemen Sosial RI.
- D. Lihat halaman 2345 dan seterusnya.
- E. Ia lahir di tahun 1978.

51. Penulisan kata-kata yang digaris-bawahi dalam kalimat berikut ini semuanya benar, *kecuali*...

- A. Polisi itu selalu mengawasi gerak-gerik penjahat yang sedang diincarnya.
- B. Amerika Serikat sedang mengujicobakan pesawat yang baru selesai dibuatnya.
- C. Pemerintah RI sedang melakukan kerjasama ekonomi dengan pemerintah Singapura.
- D. Setiap mahasiswa dituntut berperilaku sopan terhadap dosennya.
- E. Ia harus mempertanggung jawabkan semua kesalahannya.

52. Penulisan di bawah ini salah, *kecuali*...

- A. Dalam Surat Kabar Media Indonesia terdapat berita pembunuhan massal di Jakarta.
- B. Dalam surat kabar *Media Indonesia* terdapat berita pembunuhan massal di Jakarta.

C. Dalam surat kabar Media Indonesia terdapat berita pembunuhan massal di Jakarta.

D. Dalam Surat Kabar *Media Indonesia* terdapat berita pembunuhan massal di Jakarta.

E. Dalam Surat Kabar Media Indonesia.

53. Pemenggalan suku kata di bawah ini benar, *kecuali*...

- A. in-stru-men
- B. be-la-jar
- C. cap-lok
- D. akh-lak
- E. transak-si

54. Ejaan kalimat berikut salah, *kecuali*...

- A. Kami bekerja di departemen Keuangan.
- B. Pesta perkawinannya dihadiri para Menteri.
- C. Mereka tinggal di Jalan Diponegoro 59, Jakarta.
- D. Pameran itu dibuka oleh Menteri Pendidikan Nasional Malik Fajar.
- E. Seorang Gubernur sedang meninjau kawasan padat penduduk.

55. Karena objek penelitian terlalu luas, maka pengumpulan data dibatasi pada daerah pertokoan. Kalimat di atas belum efektif karena...

- A. adanya tanda koma
- B. adanya kata maka
- C. anak kalimat mendahului induk kalimat
- D. kalimat ini bukan kalimat tunggal
- E. adanya kata karena

56. Kalimat-kalimat di bawah ini merupakan rangkaian kalimat yang terdapat dalam sebuah paragraf. Akan tetapi, susunan kalimat itu tidak tepat.

- (1) Oleh sebab itu, peranan masyarakat sangat diharapkan demi lancarnya upaya peringatan itu.
- (2) Pada dasarnya, penyelenggaraan peringatan hari kemerdekaan yang diadakan oleh Karang Taruna bersifat gotong royong.
- (3) Dengan demikian, kerja sama pemuda dan masyarakat terlihat dalam wujud yang nyata.

Urutan yang benar adalah...

- A. (1), (2), (3)
- B. (3), (2), (1)
- C. (1), (3), (2)
- D. (2), (1), (3)
- E. (3), (1), (2)

57. Kalimat topik yang baik (ideal) dalam sebuah paragraf adalah kalimat...

- A. yang luas (panjang)
- B. yang panjang dan lebih merinci
- C. yang sederhana, umum, dan tidak berbelit-belit
- D. majemuk bertingkat
- E. yang singkat

58. Pemakaian huruf kapital di bawah ini salah, *kecuali*...

- A. Dia bekerja sebagai Perawat di rumah sakit medistra sejak tahun 1995.
- B. Dia bekerja sebagai perawat di rumah sakit Medistra sejak tahun 1995.

C. Dia bekerja sebagai perawat di Rumah Sakit Medistra sejak tahun 1995.

D. Dia bekerja sebagai Perawat di Rumah Sakit Medistra sejak tahun 1995.

E. Dia bekerja sebagai Perawat di rumah sakit Medistra sejak tahun 1995.

59. Bahasa Indonesia sebagai bahasa negara terdapat dalam UUD 1945...

- A. Pasal 26
- B. Pasal 27
- C. Pasal 35
- D. Pasal 36
- E. Pasal 37

60. Pemakaian kata yang tidak boros (mubazir) terdapat pada kalimat...

- A. Agar dapat berbahasa Indonesia yang benar kita harus menguasai kaidahnya.
- B. Kita harus menguasai kaidah bahasa Indonesia agar supaya dapat berbahasa dengan baik.
- C. Daftar-daftar nama peserta sepak bola dunia telah disebarluaskan ke masyarakat.
- D. Demi untuk kecermatan berpikir, mari kita tingkatkan mutu pemakaian bahasa Indonesia.
- E. Supaya tidak mengalami terlalu banyak banyak kesulitan ujian, sebaiknya perlu banyak berlatih mengerjakan soal.

Petunjuk A: Pilih satu jawaban yang paling tepat

This text is for questions 1–5.

A little more than a hundred years ago, a scientist in Medford, Massachusetts was trying to help local industry. Instead of helping local industry, however, he caused a major problem with the local environment.

The scientist thought that it would be good idea to try to develop the silk making industry in Medford. He knew that the silk industry in Asia was successful because of the silkworm, a caterpillar that ate only mulberry leaves. Mulberry trees did not grow in Medford so the scientist decided to work on developing a type of silk making worm that would eat the type of tree leaves in Medford.

His plan was to create a worm that was a cross between the silkworm and another type of imported worm that would eat the types of leaves around Medford. Unfortunately, his plan did not turn out as he wanted. He was not able to come up with a silk producing worm. However, the worm that he imported did like to eat the leaves of the trees around Medford.

1. The expression “a cross between” in paragraph 3 could be best replaced by...
 - A. an enemy of
 - B. a combination of
 - C. a predecessor of
 - D. an invention of
 - E. a change of
2. It can be inferred from the passage that the silk making industry...
 - A. never got started in Medford
 - B. produced lower quality silk
 - C. is still being developed
 - D. became quite successful
 - E. has a good improvement
3. The word “major” in paragraph 1 would be best replaced by...
 - A. military
 - B. huge
 - C. solvable
 - D. minuscule
 - E. little
4. The situation in this passage took place approximately...
 - A. a decade ago
 - B. two decade ago
 - C. a century ago
 - D. two centuries ago
 - E. four years ago
5. Finally, the scientist considered... a new type of worm.

- A. to create
- B. creates
- C. created
- D. creating
- E. to creating

This text is for questions 6–10.

The Hollywood sign in the hills that line the northern border of Los Angeles is a famous landmark recognized **the world over**. The white painted, 50 foot high, sheet metal letters can be seen from great distances across the Los Angeles basin.

The sign was not constructed, as one might suppose, by the movie business as a means of celebrating the importance of Hollywood to this industry; instead, it was first constructed in 1923 as a means of advertising homes for sale in a 500 acre housing subdivision in a part of Los Angeles called A “Hollywoodland”. The sign that was constructed at the time of course, said “Hollywoodland”. Over the years, people began referring to the area by the shortened version “Hollywood,” and after the sign and its site were donated to the city in 1945, the last four letters were removed.

The sign suffered from years of disrepair and in 1973 it needed to be completely replaced, at a cost of \$27,700 per letter. Various celebrities were instrumental in helping to raise needed funds. Rock star Alice

Cooper, for example, bought an “O” in memory of Groucho Marx, and Hugh Hefner of Playboy fame held a benefit party to raise the money for the “Y”. The construction of the new sign was finally completed in 1978.

6. Which of the following is NOT mentioned about Hollywoodland?
 - A. It was formerly the name on the sign in the hills.
 - B. There were houses for sale there.
 - C. It was the most expensive area of Los Angeles.
 - D. It used to be the name of an area of Los Angeles.
 - E. Its site were donated to the city in 1945.
7. The pronoun “it” in line 13 refers to...
 - A. the movie business
 - B. the importance of Hollywood
 - C. this industry
 - D. the sign
 - E. the housing
8. It can be inferred from the passage that most people think that the Hollywood sign was first constructed by...
 - A. the movie industry
 - B. a construction company
 - C. the city of Los Angeles
 - D. an advertising company
 - E. the government

9. The expression “the world over” in line 4 could be best replaced by...
- on top of the world
 - in the entire of the world
 - in the skies
 - in the northern parts of the world
 - in out of the world
10. What is the topic of the passage?
- A famous city
 - World landmarks
 - Hollywood versus Hollywoodland
 - A famous Sign
 - A big sign
11. He... to get some cards for this birthday, but more arrived.
- promised
 - expected
 - assumed
 - supposed
 - wished
12. The BNN is conducting far-reaching research to determine the psychological affects of using drug.
- extensive
 - prevalent
 - refined
 - tentative
 - subsidiary
13. Seroja veterans are veterans who have fought for independence and preserved the sovereignty of the Republic of Indonesia in East Timor (timor leste).
- developed
 - filled
 - guarded
 - claimed
 - marked
14. The police officers arrested Tommy successfully by tracing his phone number.
- detained
 - advice
 - mingled
 - bring
 - chase
15. The main program of the ruling party is to eradicated poverty and illiteracy.
- enhance
 - expose
 - expose
 - vanish
 - gain
16. Many people consider Egypt’s pyramid very remarkable and puzzling ancient’s monuments.
- unusual
 - arable
 - ordinary
 - beautiful
 - awful
17. Ah! I found our tickets. Here...
- we are
 - they are
 - are they
 - these are
 - they were
18. I was surprised, because I didn’t... such warm welcome from her family.
- realize
 - concentrate
 - anticipate
 - exercise
 - know
19. A police officer has the... to give you’re a ticket for a traffic violation.
- authority
 - generosity
 - privilege
 - requirement
 - majority

20. The company decided to get... one of its branches.
 A. over with
 B. ride of
 C. through with
 D. out of
 E. along with
21. Sukarno's ideas written in Indonesia movement book have... the progress of the Indonesia democracy.
 A. stimulated
 B. encouraged
 C. discouraged
 D. encountered
 E. elevated
22. The football game will start soon and stadium is... with people.
 A. teeming
 B. teaming
 C. timing
 D. taming
 E. stunning
23. Please don't ask about me..., I am truly faithful to our president.
 A. honestly
 B. trustworthiness
 C. loyalty
 D. sympathy
 E. wisely
24. Amien Rais is obviously a man of...
 A. metal
 B. mete
 C. meddle
 D. mettle
 E. middle
25. He tried to... the river by swimming.
 A. go about
 B. go through
 C. go over
 D. go after
 E. go with
26. The smell of the breakfast cooking... him to get up.
 A. enhanced
 B. enticed
 C. enervated
 D. emulated
 E. encomtered
27. Tina wouldn't give Joshua this toy back, so he took it from her by...
 A. hard
 B. power
 C. force
 D. strong
 E. mean
28. If you try long enough, you are... to succeed.
 A. hard
 B. bind
 C. band
 D. bound
 E. bond
29. The dollar exchange rate isn't too... just now. Let's change our money next week.
 A. faithful
 B. favor
 C. favorable
 D. favorite
 E. far
30. I don't mind where we go. Let's just... about Senayan Park for a while.
 A. travel
 B. wander
 C. voyage
 D. wonder
 E. walking
31. Fast food restaurant have become popular because many working people want...
 A. to eat quickly and cheaply
 B. eating quickly and cheaply
 C. eat quickly and cheaply
 D. the eat quickly and cheaply
 E. eat quick and cheap

32. Dinna didn't like our new roommate, and...
- I don't too
 - neither I did
 - neither did I
 - I didn't also
 - either do I
33. In many ways, riding a bicycle is similar to...
- the driving of a motorcycle
 - when you drive a motorcycle
 - driving a motorbike
 - when driving a motorbike
 - drives a motorbike
34. The living room was... that I had to move to another room continue my reading.
- much noisy
 - too noisy
 - so noisy
 - very noisy
 - noisy enough
35. Only after food has been dried and canned...
- that is should be stored for later consumption
 - should be stored for later consumption
 - should it be stored for later consumption
 - it should be stored for later consumption
 - for later consumption should be stored
36. Ima advised... the secondhand car.
- her friend to not purchase
 - her friend not to purchase
 - her friend does not purchase
 - her friend will not purchase
 - her friend do not purchase
37. Sumbawa is not quite fertile,... it is very good for breeding cattle.
- since
 - yet
 - as
 - for
 - while
38. The government will make business-man... his loan.
- pays
 - pay
 - would pay
 - to pay
 - paid
39. The customer had... the shoes before six o'clock in the evening.
- deliver's
 - deliver
 - delivered
 - delivering
 - delivers
40. Azis wishes he... to Ikranegara's play on the 30th of November last year.
- had gone
 - went
 - has gone
 - were going
 - gone
41. I found the mathematics problem to be...
- exceedingly difficult
 - real difficult
 - rather difficultly
 - very much difficult
 - more difficult

42. I am now... tea without sugar.
 A. accustomed to drink
 B. accustomed to drinking
 C. have the custom to drink
 D. accustoming in drinking
 E. accustom drinking
43. Consult... for questions about SARS.
 A. the two index
 B. second index
 C. index numbering two
 D. index two
 E. two of index
44. She went to the office by taxi, but she... by bus.
 A. might of gone
 B. should gone
 C. could have gone
 D. ought have gone
 E. must have gone
45. Not until a monkey is several years old... to exhibit signs of independence from its mother.
 A. it begins
 B. does it begins
 C. and begins
 D. beginning
 E. at the beginning
46. Pranadjaja contributed a great deal to Indonesian music by..
 A. singing, teaching, and lecturing
 B. singing, as a teacher and lecturer
 C. singing, a teacher and lecturing
 D. singing, teaching and as a lecturer
 E. singing, a teacher and a lecturer
47. I should... because his grades are poor.
 A. force my second son study
 B. insist on my second son studying
 C. make my second son study
 D. tell my second son study
 E. let my second son study
48. Of the two cars my father bought...
 A. the most expensive
 B. the least expensive
 C. the less expensive
 D. the one most expensive
 E. the more expansive
49. I am worried about the test, and...
 A. also is he D. so he does
 B. so is he E. also he is
 C. he is so
50. He has been sitting in the library every night... the last four months.
 A. since D. for
 B. until E. after
 C. before
51. Please write out the answers of the questions at the end of..
 A. fourth page
 B. four page
 C. page four
 D. page the four
 E. fourth of pages
52. The light is out in her room, she...
 A. must go to bed
 B. must have gone to bed

- C. must gone to bed
- D. must be gone to bed
- E. must been gone to bed

53. I'd rather you... anything about it for the time being.

- A. do
- B. didn't do
- C. don't
- D. didn't
- E. not to do

54. He's already read the letter,...?

- A. hasn't he
- B. isn't he
- C. doesn't he
- D. hasn't it
- E. didn't he

55. Jim said that he wouldn't mind... for an hour.

- A. to wait for her
- B. wait for her
- C. waiting for her
- D. for waiting her
- E. wait her

In each of the following sentences, four words or phrases have been underlined. Choose the one word or phrase which would not be appropriate in standard written English.

56. Unlike most animals, the turtle lives

effortlessly in the water and land.

- A
- B
- C
- D
- E

57. The geology professor told

the class in 1751 that nickel

was discovered; it is a mental which

imagnets attract.

- D
- E

58. The Library of Congress, with a larger number of books in

its stacks,attracts students from

most every state in the Union.

- B
- C
- D
- E

59. When a patient's blood pressure is

much higher than it should be a

doctor usually insists that he

will not smoke.

- A
- B
- C
- D
- E

60. A body of volunteers have been

organized to aid the helpless in their

struggle for survival.

- C
- D
- E

Petunjuk A: Pilih satu jawaban yang paling tepat

1. Simbol modernitas dan martir demokrasi Pakistan adalah...
 - A. Zulfiqar Ali Bhutto
 - B. Benazir Bhutto
 - C. Nawaz Sharif
 - D. Pervez Musharraf
 - E. Yousaf Raza Gillani
2. Penerima hadiah Nobel bidang Kimia tahun 2009 adalah...
 - A. Venki Ramakrishnan, Thomas A. Steitz, dan Ada E. Yonath
 - B. Osamu Shimomura, Martin Chalfie, dan Roger Yonchien Tsien
 - C. Gerhard Ertl
 - D. Roger David Kornberg
 - E. Ahmed Hassan Zewail
3. Penerima hadiah Nobel di bidang perdamaian di tahun 2008 adalah...
 - A. Martti Oiva Kalevi Ahtisaari (Finlandia)
 - B. Muhammad Yunus (Bangladesh)
 - C. Albert Arnold Gore (Amerika Serikat)
 - D. Mohamed El Baradei (Mesir)
 - E. Wangari Muta Maathai (Kenya)
4. Konferensi Perubahan Iklim (7—11 Desember 2009) yang diselenggarakan oleh PBB berlangsung di...
 - A. Norwegia
 - B. Denmark
 - C. Belanda
 - D. Swedia
 - E. Finlandia
5. Fauna khas dari Provinsi Sulawesi Tengah adalah...
 - A. Anoa
 - B. Rangkong
 - C. Maleo
 - D. Tarsius
 - E. Nuri Raja
6. Orang Indonesia yang meraih pertama kali Medali Olimpiade adalah...
 - A. Chris John
 - B. Ellyas Pical
 - C. Susi Susanti
 - D. Alan Budi Kusuma
 - E. Yayuk Basuki
7. Dalam SEA GAMES 2011 di Indonesia, Indonesia memperoleh medali sebanyak 182 dan menempatkan Indonesia berada di urutan...
 - A. Pertama
 - B. Kedua
 - C. Ketiga
 - D. Keempat
 - E. Kelima
8. Dalam pertandingan final Liga Champions tahun 2012/2013, kesebelasan Borussia Dortmund dikalahkan oleh...
 - A. Chelsea
 - B. AC Milan
 - C. FC Barcelona
 - D. FC Porto
 - E. Bayer Munich

9. Sepak bola Piala Dunia 2014 diselenggarakan di...
- Brasil
 - Inggris
 - Afrika Selatan
 - Amerika Serikat
 - Jerman
10. Dalam pemilihan Miss World 2013, Yu Wenxia dari China menyerahkan mahkotanya kepada...
- Jing Yao Wang
 - Megan Young
 - Chutima Durongdej
 - Stefanía Fernández
 - Marigona Dragusha
11. Aktris dan produser film Indonesia yang menjadi salah satu anggota Dewan Juri Festival Film Internasional Cannes (FFIC) ke-55 di Perancis, 15—26 Mei 2002 adalah...
- Teguh Karya
 - Garin Nugroho
 - Jajang C. Noer
 - Christine Hakim
 - El Manik
12. Lagu daerah Anak Kambing Saya berasal dari...
- Jawa Barat
 - Jawa Timur
 - Nusa Tenggara Barat
 - Nusa Tenggara Timur
 - Jawa Tengah
13. Siapakah pejuang HAM yang telah lama berjuang di Papua mendapat anugrah Yap Thian Hien pada tahun 2009?
- Kelly Kwalik
 - Yohanes Jonga
 - Barnabas Suebu
 - Agus Alue Alea
 - Annike
14. Hari Anti Korupsi Internasional setiap tahun jatuh pada tanggal...
- 10 Desember
 - 9 Desember
 - 9 November
 - 10 September
 - 19 Desember
15. Gedung tertinggi di dunia saat ini adalah...
- Menara Petronas di Kuala Lumpur
 - Burj di Dubai
 - Sears Tower di Chicago
 - 1 World Trade di New York
 - Taipe 101 di Taipe
16. Pasca kemenangan pasangan Susilo Bambang Yudoyono dan Budiono, KADIN Indonesia bekerja sama dengan pemerintah mengadakan *National Summit* pada 29—30 Oktober 2009 dengan peserta, *kecuali*...
- Tokoh Masyarakat atau Pemuka Agama
 - Bupati/Walikota
 - Gubernur
 - Menteri
 - Kepala Badan Usaha Milik Negara (BUMN)

17. Pada pemilu 1990 partai prodemokrasi pimpinan Aung San Suu Kyi memenangi 82% suara, namun hasil pemilu ini tidak diakui rezim militer yang dipimpin oleh jenderal...
- Thein Sein
 - Soe Win
 - Than Shwe
 - Ibrahim Gambari
 - Shan
18. Unsur pimpinan MPR RI 2009—2014 yang berasal dari DPD adalah...
- Taufik Kiemas
 - Hajrianto Tohari
 - Ahmad Farhan Namid
 - Melani Leimeina Suharli
 - Lukman Hakim Saefuddin
19. Pasca keluarnya Keppres pengaktifan kembali Bibit Samad Rianto dan Chandra Hamzah, maka dua ketua KPK yang menyerahkan jabatannya kepada Bibit dan Chandra adalah...
- Tumpak Hatorangan Panggabean dan Achmad Santosa
 - Teten Masduki dan Waluyo
 - Achmad Santosa dan Waluyo
 - Yasin dan Achmad Santosa
 - Tumpak Hatorangan Panggabean dan Waluyo
20. Rival utama Barack Obama dalam perebutan calon presiden dari Partai Demokrat adalah...
- Bill Clinton
 - Al Gore
 - George Bush
 - Hilary Clinton
 - John Mc Cain
21. Presiden India dari golongan perempuan adalah...
- Sonia Gandhi
 - Pratibha Patil
 - Indra Gandhi
 - Shashank Rohatgi
 - Payal Rohatgi
22. Penerima hadiah Nobel bidang Ekonomi tahun 2009 adalah...
- Elinor Ostrom dan Oliver E. Williamson
 - Paul Krugman
 - Edmund Phelps
 - Joseph E. Stiglitz
 - Finn E. Kydland dan Edward C. Prescott
23. Penerima hadiah Nobel bidang perdamaian (usaha yang luar biasa untuk memperkuat diplomasi internasional dan kerjasama antarbangsa) adalah...
- Martti Oiva Kalevi Ahtisaari (Finlandia)
 - Obama (Amerika Serikat)
 - Muhammad Yunus (Bangladesh)
 - Albert Arnold Gore (Amerika Serikat)
 - Mohamed El Baradei (Mesir)
24. Gempa bumi di Padang, Sumatera Barat berkekuatan 7,6 SR terjadi pada tanggal...
- 27 September 2009
 - 28 September 2009
 - 29 September 2009
 - 30 September 2009
 - 1 Oktober 2009

25. Beruang madu merupakan salah satu fauna khas yang berasal dari Provinsi...
- Sumatera Barat
 - Sumatera Selatan
 - Bengkulu
 - Lampung
 - Sulawesi Utara
26. Pesepak bola terbaik Asia 2013 penerima menerima penghargaan untuk kategori AFC Asian International Player of The Year Award adalah...
- Yuto Nagatomo
 - Keisuke Honda
 - Son Heung-min
 - Kagawa
 - Bambang Pamungkas
27. Final sepak bola Piala Konfederasi 2013 dimenangkan oleh Brazil saat mengalahkan...
- Argentina
 - Spanyol
 - Uni Emirat Arab
 - Korea
 - Syria
28. Peraih penghargaan sebagai Pemeran Pendukung Wanita Terbaik di FFI 2013 di Semarang adalah...
- Jajang C. Noor
 - Rahayu Effendi
 - Cristina Hakim
 - Rina Wijaya
 - Yati Octavia
29. Pesepak bola yang memperoleh rekor mendapat Gelar Ballon d'Or terbanyak hingga saat ini (2013) adalah adalah...
- Lionel Messi
 - Christiano Ronaldo
 - David Beckham
 - Ronaldinho
 - Kaka'
30. Gelar Putri Indonesia 2013 diraih oleh...
- Whulandary Herman
 - Melanie Putria
 - Sarinah Aria Putri
 - Natalie Pertiwi Hermanto, B.A
 - Maria Selena
31. Penetapan Batik sebagai Warisan Budaya (UNESCO *representative list of intangible cultural heritage of humanity*) berlangsung di...
- Kuwait, 28 Sep—1 Okt 2009
 - Uni Emirat Arab, 28 September—2 Oktober 2009
 - London, 28 Sep—Okt 2009
 - Kairo, 29 Sep—2 Okt 2009
 - New York, 30 Sep—2 Okt 2009
32. Dalam pemilihan Miss World 2013 di Indonesia, terpilih ratu sejagat yang berasal dari...
- Meksiko
 - Puerto Rico
 - Gibraltar
 - Filipina
 - Afrika Selatan
33. Lagu daerah *Injit-injit Semut* berasal dari...
- Lampung

- B. Sumatera Barat
C. Jambi
D. Jawa Tengah
E. Kalimantan Selatan
34. Penghentian proses kasus Bibit Samad Rianto dan Chandra Hamzah dilakukan melalui...
- A. Surat Keputusan Penghentian Penyelidikan Perkara (SKP3)
B. Surat Ketetapan Penghentian Penuntutan (SKP2)
C. Surat Keputusan Penghentian Penuntutan (SKP2)
D. Surat Ketetapan Penghentian Penuntutan Perkara (SKP3)
E. Keputusan Presiden (Keppres)
35. Mata uang negara Republik Rakyat Cina adalah...
- A. Yuan D. Won
B. Peso E. Bath
C. Dolar
36. Untuk mengungkap Skandal Bank Century 2009, maka untuk pertama kali hak angket didukung oleh semua fraksi secara aklamasi. Ketua pansus skandal Bank Century adalah Idrus Marham yang berasal dari partai...
- A. Demokrat
B. PDI Perjuangan
C. Golkar
D. PKS
E. PAN
37. Provinsi termuda di Indonesia adalah...
- A. Sulawesi Barat
B. Kalimantan Utara
C. Riau Kepulauan
D. Papua Barat
E. Maluku Utara
38. Perdana Menteri Jepang yang berasal dari Partai Oposisi setelah lebih dari 50 tahun Jepang dipimpin dari Partai Demokrat Liberal adalah...
- A. Taro Aso
B. Yukio Hatoyama
D. Yasuo Fukuda
C. Shinzo Abe
E. Junichiro Koizumi
39. *Asian Parliamentary Assembly* (APA) ke empat tahun 2009 berlangsung di...
- A. Gedung Juang 45 Jakarta
B. Gedung DPR/MPR Jakarta
C. Gedung Merdeka Bandung
D. Gedung JCC Jakarta
E. Gelora Bung Karno Jakarta
40. Di antara nama-nama berikut yang bukan staf khusus Presiden Indonesia Susilo Bambang Yudhoyono periode 2009—2014 adalah...
- A. Daniel Sparingga
B. Heru Lelono
C. Deny Indrayana
D. Kajung Marijan
E. Julian Pasha
41. Alat musik tiup digunakan penonton di setiap pertandingan selama perhelatan sepak bola Piala Dunia 2014 adalah...
- A. Jabulani
B. Vuvuzela
C. Jebule
D. Caxirola
E. Jabuvela

42. Penerima hadiah Nobel bidang Bahasa dan Sastra tahun 2009 adalah...
- Harold Pinter
 - Ferit Orhan Pamuk
 - Doris Lessing
 - Jean-Marie Gustave Le Clézio
 - Herta Müller
43. Penerima hadiah Nobel bidang kedokteran tahun 2009 adalah...
- Carol W. Greider, Elizabeth Blackburn, dan Jack W. Szostak
 - Harald zur Hausen, Françoise Barré-Sinoussi dan Luc Montagnier
 - Mario Capecchi, Martin Evans, dan Oliver Smithies
 - Andrew Fire dan Craig C. Mello
 - Oliver Smithies, Andrew Fire dan Craig C. Mello
44. Organisasi lingkungan hidup yang aktif melakukan protes terhadap deforestasi adalah...
- WWF
 - Greenpeace
 - WHO
 - FAO
 - OPEC
45. Ayam bekisar merupakan salah satu fauna khas yang berasal dari provinsi...
- Jawa Barat
 - Jawa Tengah
 - Yogyakarta
 - Jawa Timur
 - Bali
46. Petinju Indonesia Christian Johannes (Chris John) merupakan orang ketiga yang meraih gelar juara tinju dunia dari Indonesia. Lawan tanding ulang Chris John dalam perebutan gelar di akhir 2009 adalah...
- Juan Manuel Marquez
 - Renan Acosta
 - Jose Cheo Rojas
 - Ricardo Rocky Juarez
 - Roinet Caballero
47. Sejak diberlangsukannya SEA GAMES tahun 1959, negara yang memperoleh jumlah Medali Emas terbanyak hingga sekarang adalah negara...
- Indonesia
 - Malaysia
 - Thailand
 - Laos
 - Brunei Darussalam
48. Negara yang dikalahkan oleh Evan Dimas dkk dengan skor 3-0, sekaligus meloloskan Indonesia ke putaran final Piala Asia di Myanmar 2014 adalah...
- Korea Utara
 - Malaysia
 - Jepang
 - Korea Selatan
 - Thailand
49. Miss Indonesia 2013 diberikan kepada...
- Vania Larissa
 - Nadya
 - Karenina Sunny Halim
 - Leida
 - Viviane

50. Film terbaik dalam Festival Film Asia Pasifik ke-53 di Kaoshiung, Taiwan adalah...
- Jamila
 - At Stake
 - Laskar Pelangi
 - Hungry is The Tiger
 - Perempuan Berkalung Sorban
51. Festival Film Indonesia 2013, pemeran pria terbaik diberikan kepada...
- Epy Kusnandar
 - Ari Wibowo
 - Tio Pakusadewo
 - Aria Kusumadewa
 - Reza Rahardian
52. Tarian adat yang berasal dari Kalimantan Barat adalah...
- Tari Monong
 - Tari Baksa Kembang
 - Tari Seudati
 - Tari Serampang Dua Belas
 - Tari Payung
53. UU No. 23 Tahun 2004 adalah tentang...
- Perlindungan anak
 - Kejahatan Dalam Rumah Tangga
 - Perkawinan
 - Pengadilan HAM
 - Pers
54. Anggota Tim 8 yang dibentuk Presiden Susilo Bambang Yudhoyono dalam kasus Bibit Samad Rianto dan Chandra Hamzah yang tidak berlatar belakang hukum adalah...
- Todung Mulya Lubis
 - Deny Indrayana
 - Hikmahanto Juwana
 - Amir Syarifudin
 - Anis Baswedan
55. Negara yang paling kecil korupsinya di dunia adalah...
- Amerika Serikat
 - Finlandia
 - Denmark
 - Jerman
 - Inggris
56. Dari daftar nama di bawah ini, salah satunya bukanlah Anggota Badan Pemeriksa Keuangan (BPK) periode 2009—2014, yaitu...
- Taufiequrahman Ruki
 - Dharma Bakti
 - Hasan Bisri
 - Hadi Purnomo
 - Rizal Djali
57. Perdana Menteri Malaysia yang terpaksa menyerahkan jabatannya kepada penggantinya pada April 2008 akibat kehilangan banyak kursi di parlemen adalah...
- Anwar Ibrahim
 - Mahatir Mohamad
 - Tun Abdul Rajak
 - Najib Razak
 - Abdullah Achmad Badawi
58. Superstar pop dunia asal Amerika yang diangkat menjadi Duta *Goodwill* UNICEF adalah,...
- Katy Perry
 - Rihanna

- C. Madonna
D. Jessica Simpson
E. Mariah Carey
59. Nama-nama ketua partai dari partai-partai peserta pemilu 2014 di Indonesia, *kecuali*...
- A. Anas Urbaningrum
B. Wiranto
C. Anis Matta
D. Aburizal Bakrie
E. Prabowo Subianto
60. Pertemuan tingkat tinggi APEC 2013 diselenggarakan di...
- A. Malaysia
B. Singapura
C. Tokyo
D. Peru
E. Indonesia
61. Dewa cinta dalam mitologi Yunani disebut...
- A. Cupid D. Hera
B. Mars E. Atlas
C. Athena
62. Kota di Inggris yang dilewati garis khatulistiwa (ekuator) adalah...
- A. Greenland D. Greenwich
B. Greenday E. Manchester
C. London
63. Berikut ini perusahaan otomotif asal Perancis adalah...
- A. BMW D. Volvo
B. Peugeot E. Ferrari
C. Porsche
64. Novel Ketika Cinta Bertasbih dan Ayat-Ayat Cinta merupakan karangan dari...
- A. Andrea Hirata
B. Habib Rizieq Shihab
C. Habiburrahman El Shirazy
D. Asma Nadia
E. Mira Lesmana
65. Berikut ini yang bukan merupakan browser internet adalah...
- A. Mozilla Firefox
B. Internet Explorer
C. Opera
D. Windows Explorer
E. Safari
66. Novel terakhir dari tetralogi Twilight karya Stephanie Meyer berjudul...
- A. Deathly Hallows
B. Eclipse
C. New Moon
D. Half Blood Prince
E. Breaking Dawn
67. Yang bukan merupakan sistem operasi adalah...
- A. Ubuntu D. Machintosh
B. Linux E. Windows
C. Microsoft
68. Mata uang tertinggi saat ini adalah...
- A. Euro
B. Poundsterling
C. Gulden
D. Dollar Amerika
E. Peso

69. Sekretaris Jenderal PBB saat ini (2013) berasal dari Negara...
- Afrika Selatan
 - Jepang
 - Perancis
 - Amerika Serikat
 - Korea Selatan
70. Final liga Champions 2013 antara FC Bayern Munich vs Borussia Dortmund dilangsungkan di Kota...
- Roma
 - Madrid
 - London
 - Paris
 - Milan
71. Artis/pelawak yang namanya terkenal lewat acara Bukan Empat Mata adalah...
- Tukul Arwana
 - Komeng
 - Olga Syahputra
 - Ronald Surapradja
 - Budi Anduk
72. Berikut ini parpol yang mendukung pencalonan Capres-Cawapres Wiranto-Hary Tanoesoedibjo pada Pemilu 2014 adalah...
- PKS
 - Gerindra
 - Hanura
 - Golkar
 - PDI-P
73. Pemain sepak bola yang baru saja memecahkan rekor transfer 2013 sebagai pemain termahal dunia adalah...
- Zlatan Ibrahimovic
 - Robin Van Persie
 - Samuel Eto'o
 - Gareth Bale
 - Lionel Messi
74. Ibu rumah tangga yang menjadi terdakwa kasus pencemaran nama baik terhadap rumah sakit OMNI Internasional Alam Sutera bernama...
- Prita Mulyasari
 - Manohara Odelia Pinot
 - Nirmala Bonat
 - Anadina Rahmawati
 - Anastasya Mayami
75. Model muda asal Indonesia yang menjadi korban kekerasan dalam rumah tangga oleh putra Sultan Kelantan Malaysia adalah...
- Nirmala Bonat
 - Manohara Odelia Pinot
 - Catherine Wilson
 - Nadine Chandrawinata
 - Prita Mulyasari
76. Direktur PT Putera Rajawali Banjaran yang dibunuh dan menjadi perbincangan hangat di Indonesia beberapa waktu lalu adalah...
- Nasrudin Zulkarnaen
 - Antasari Azhar
 - Munir
 - Rahmat Gobel
 - Aburizal Bakrie
77. Menlu AS saat ini (kabinet Barack Obama) adalah istri dari mantan presiden AS yang bernama...
- John Kennedy
 - Ronald Reagan
 - Bill Clinton
 - Abraham Lincoln
 - George W. Bush

78. Mantan Presiden RI Megawati Soekarnoputri adalah Presiden Indonesia ke...
- A. tiga D. enam
B. empat E. tujuh
C. lima
79. Julukan bola yang digunakan dalam pertandingan sepak bola Piala Dunia 2014 adalah ...
- A. Vuvuzela
B. Brazuca
C. Jabulani
D. Soccer Ball
E. Waka-waka
80. KTT APEC yang berlasung pada bulan Oktober 2013 baru-baru ini dilaksanakan di Indonesia bertempat di Provinsi...
- A. Bali
B. Jawa Barat
C. Lampung
D. NTT
E. Jawa Timur
81. Novel laris asli Indonesia berjudul Laskar Pelangi adalah karangan dari...
- A. Habiburrahman El-Shirazy
B. Raditya Dika
C. Djenar Maesa Ayu
D. Andrea Hirata
E. Andri Kirata
82. Judul buku terakhir dari kisah cerita Harry Potter karya J.K Rowling adalah...
- A. Harry Potter and the Deathly Hallows
B. Harry Potter and the Prisoner of Azkaban
C. Harry Potter and the Order of the Phoenix
D. Harry Potter and the Goblet of Fire
E. Harry Potter and Devil's Magician
83. Pemain sepak bola terbaik dunia 2012 versi FIFA adalah...
- A. Ricardo Kaka'
B. Lionel Messi
C. Ronaldinho
D. Cristiano Ronaldo
E. Fernando Torres
84. Negara juara EURO 2012 lalu adalah...
- A. Spanyol D. Inggris
B. Jerman E. Belanda
C. Italia
85. Presiden SBY merupakan Presiden Indonesia yang ke...
- A. 4 D. 7
B. 5 E. 3
C. 6
86. Berikut ini termasuk dalam browser internet, *kecuali*...
- A. Opera D. Flock
B. Android E. Safari
C. Google Chrome
87. Dalam dunia teknologi, sering kali anda mendengar www. Kepanjangan dari www adalah...
- A. World Wide Web
B. World Web Wide

- C. Wide World Web
 - D. Web World Wide
 - E. Word Width Web
- 88.** Perdana Menteri Israel pada tahun 2005—2009 adalah...
- A. Ariel Sharon
 - B. Ehud Olmert
 - C. Ehud Barak
 - D. Mahmud Abbas
 - E. Barrack Olmertz
- 89.** Presiden Amerika Serikat yang baru Barack Obama berasal dari partai...
- A. Partai Demokrat
 - B. Partai Republik
 - C. Partai Buruh
 - D. Partai Kerakyatan
 - E. Partai Sosialis Kebangsaan
- 90.** Pemberontakan Karto Suwiryo 19 Desember 1948 terjadi di...
- A. Sumatra Barat
 - B. Jawa Barat
 - C. Kalimantan Barat
 - D. NTB
 - E. Lampung
- 91.** Pemerintah Indonesia (2009) telah menerbitkan dan menjual obligasi senilai lebih dari Rp150 triliun, dengan tujuan utamanya adalah...
- A. mendorong perkembangan usaha swasta
 - B. melunasi hutang swasta nasional
 - C. menutup kekurangan anggaran pembangunan
 - D. memacu pertumbuhan ekonomi nasional
 - E. memperoleh suntikan dana murah dari dalam negeri
- 92.** Berikut ini nilai-nilai positif dari upaya pemerintah untuk memberi otonomi yang lebih luas kepada Perguruan Tinggi terutama untuk...
- A. melepaskan beban pemerintah dalam pendanaan operasional
 - B. memacu pertumbuhan ekonomi dan kemakmuran rakyat
 - C. memacu perkembangan perguruan tinggi yang bersangkutan
 - D. meningkatkan peran swasta dalam penyelenggaraan pendidikan
 - E. memberi peluang lebih besar kepada masyarakat untuk memperoleh pendidikan tinggi
- 93.** Tantangan yang dihadapi bangsa Indonesia dalam menyongsong pasar bebas Asia-Pasific tahun 2020 harus dijawab terutama dengan...
- A. meningkatkan sumber daya manusia
 - B. mengusahakan modal yang memadai
 - C. mengolah kekayaan alam yang melimpah
 - D. mendapat bantuan teknologi tinggi
 - E. menumbuhkan kecintaan pada produk dalam negeri
- 94.** Pemindahan penduduk dari satu pulau ke pulau lain yang dikenal sebagai

program transmigrasi akan lebih efektif apabila dilakukan dengan...

- A. peningkatan sarana sosial
- B. penyediaan lapangan kerja
- C. perumahan yang memadai
- D. pemerataan lapangan kerja
- E. memperbanyak modal transportasi dari daerah asal ke lokasi transmigrasi

95. Waduk Gajah Mungkur terletak di Provinsi...

- A. DI Yogyakarta
- B. Jawa Timur
- C. Jawa Barat
- D. Lampung
- E. Jawa Tengah

96. Berikut ini pengaruh positif dari kebijakan kebebasan pers yang dikeluarkan oleh pemerintah, *kecuali*...

- A. unsur budaya asing berkembang pesat
- B. perkembangan ilmu pengetahuan
- C. keberanian mengekspresikan opini
- D. kontrol masyarakat terhadap pemerintah
- E. memberikan kemudahan terhadap ijin mendirikan media informasi

97. Dana Jaringan Pengaman Sosial (JPS) yang disalurkan oleh pemerintah bertujuan untuk...

- A. menunjang kelancaran pembangunan

- B. mengembangkan desa tertinggal
- C. memberantas masalah kemiskinan
- D. mengatasi dampak krisis ekonomi
- E. memberikan kompensasi kepada masyarakat miskin akibat kenaikan harga BBM

98. Danau Laut Tawar berada di Provinsi...

- A. Aceh
- B. Jambi
- C. Riau
- D. Sulawesi Tengah
- E. Sumatera Selatan

99. Perjanjian Linggar Jati 25 Maret 1947 berisi...

- A. Belanda mengakui kemerdekaan negara Republik Indonesia
- B. Belanda mengakui kedaulatan Republik Indonesia kecuali Irian Barat
- C. Belanda mengakui kedaulatan RI atas Sumatera, Jawa, dan Madura
- D. Belanda mengakui kedaulatan RI dari Sabang sampai Merauke
- E. Belanda mengakui kedaulatan Republik Indonesia Serikat

100. Berikut adalah ciri-ciri pasar persaingan sempurna, *kecuali*...

- A. terdapat banyak penjual dan pembeli
- B. produk yang dihasilkan umumnya tidak bermutu
- C. penjual tidak bisa seenaknya menetapkan harga
- D. penjual dan pembeli bebas keluar masuk pasar

- E. barang yang diperdagangkan homogen
101. Lagu Burung Tantina berasal dari...
- Sulawesi Selatan
 - Papua
 - Sulawesi Utara
 - Maluku
 - NTT
102. Achmad seorang siswa di SMU masuk menjadi anggota koperasi sekolahnya agar dapat meningkatkan pengetahuan dan keterampilan berkoperasi serta jika Achmad lulus dari SMU sudah memiliki bekal berkoperasi untuk terjun ke masyarakat. Hal ini sudah sesuai dengan... koperasi sekolah.
- azas
 - landasan
 - prinsip
 - ciri-ciri
 - tujuan
103. Lagu *Goro-gorone* merupakan lagu daerah yang berasal dari...
- Maluku
 - Jawa Tengah
 - Sumatra Selatan
 - Papua
 - Kalimantan Barat
104. Berikut ini yang termasuk pengeluaran rutin APBN, *kecuali*...
- belanja barang
 - subsidi BBM
 - gaji Pegawai Negeri Sipil (PNS)
 - bunga dan cicilan utang luar negeri
 - biaya kedutaan di luar negeri
105. Manajer yang bertanggung jawab atas karyawan mogok kerja adalah manajer...
- personalia
 - keuangan
 - produksi
 - perencanaan
 - pemasaran
106. Seorang yang akan pinjam uang di bank dengan menyerahkan sertifikat tanah sebagai jaminan utangnya, hal ini berarti bank tersebut menetapkan syarat kredit...
- capital
 - capacity
 - character
 - collateral
 - condition
107. Sarkofagus adalah peninggalan zaman...
- Paleolithikum
 - Mesolithikum
 - Neolithikum
 - Arkaekum
 - Megalithikum
108. Tugas-tugas pokok bank umum sebagai berikut, *kecuali*...
- melaksanakan kebijakan moneter
 - menghimpun dana dari pihak ketiga
 - memberikan kredit
 - transfer keuangan
 - intermediasi dari pihak pemilik uang dan yang membutuhkan uang
109. Berikut ini yang merupakan candi peninggalan kerajaan Sriwijaya adalah...

- A. Candi Bajang Ratu
 B. Candi Arjuna
 C. Candi Muara Takus
 D. Candi Boko
 E. Candi Gedong Songo
- 110.** Terjadinya pencemaran disebabkan aktivitas manusia seperti di bawah ini, *kecuali*...
- A. Kegiatan industri menghasilkan limbah radioaktif
 B. Kegiatan penambangan yang menimbulkan pencemaran udara
 C. Kegiatan transportasi berupa kepulan asap
 D. Residu pertanian akibat penggunaan pestisida
 E. Penggunaan pupuk kompos
- 111.** Dalam menghadapi era perdagangan bebas dunia, negara yang tergabung dalam ASEAN telah membentuk organisasi perdagangan yang disebut dengan...
- A. APEC D. EAEC
 B. AFTA E. NIC
 C. GATT
- 112.** Instrumen pasar modal yang memberikan penghasilan tetap bagi penanam modal adalah...
- A. saham
 B. reksadana
 C. deposito
 D. saham preferen
 E. obligasi
- 113.** Tiga tokoh penting yang merumuskan teks/naskah proklamasi kemerdekaan Indonesia adalah...
- A. Drs. Moh. Hatta, Mr. Ahmad Soebardjo, Ir. Soekarno
 B. Otto Iskandardinata, Sayuti Melik, Laksamana Maeda
 C. Ir. Soekarno, Sayuti Melik, Laksamana Maeda
 D. Laksamana Maeda, Ir. Soekarno, Soekarni
 E. Sayuti Melik, Soekarni, B.M. Diah
- 114.** Kemajemukan masyarakat Indonesia berdasarkan jenis agama ditandai dengan keanekaragaman dalam hal cara beribadah berdasarkan...
- A. asal-usul agama
 B. para penyebar agama
 C. ajaran dalam kitab suci
 D. para tokoh agama
 E. tempat ibadahnya
- 115.** Lembaga kerja sama internasional di bidang perdagangan dimana Indonesia menjadi salah satu anggotanya adalah...
- A. International Bank for Reconstruction Development (IBRD)
 B. International Labour Organization (ILO)
 C. International Monetary Fund (IMF)
 D. Association of South East Asian Nation (ASEAN)
 E. World Trade Organization (WTO)
- 116.** Kitab Bharatayuda berasal dari zaman kerajaan Kediri yang ditulis oleh...
- A. Mpu Kanwa dan Mpu Gandring
 B. Mpu Sedah dan Mpu Panuluh

- C. Mpu Prapanca dan Mpu Tantar
 D. Mpu Sedah dan Mpu Candang
 E. Mpu Prapanca dan Mpu Kanwa
117. Pembangunan fisik (gedung/jalan) tanpa mengindahkan AMDAL (Analisis Dampak Lingkungan) akan menimbulkan terjadinya...
- A. pencemaran air, udara, tanah, dan suara
 B. pengangguran besar-besaran
 C. mutu produksi cenderung rendah
 D. ongkos produksi terlalu tinggi
 E. keresahan masyarakat sekitar
118. Salah satu manfaat APEC bagi Indonesia pada era perdagangan bebas adalah...
- A. mempercepat usaha-usaha untuk menghilangkan proteksi
 B. meningkatkan volume perdagangan ke negara-negara anggota
 C. mengadopsi tujuan jangka panjang dari perdagangan dan investasi
 D. mengembangkan sumber daya manusia dan sumber daya alam
 E. meneruskan konsultasi mengenai strategi pertumbuhan ekonomi
119. Kaidah untuk mengatur perilaku individu atau kelompok dalam masyarakat yang berlaku secara tegas, tertulis, dan disertai sanksi tergolong jenis...
- A. norma tata kelakuan
 B. norma kebiasaan
 C. norma kelaziman
 D. norma adat
 E. norma hukum
120. Institusi yang paling bertanggung jawab dalam menjaga kestabilan ekonomi dunia adalah...
- A. WTO
 B. CGI
 C. PBB
 D. IMF
 E. LSM
121. Segala sesuatu yang berguna bagi unsur fisik manusia merupakan pengertian dari...
- A. Material
 B. Vital
 C. Moral
 D. Religious
 E. Estetika
122. Yang dimaksud dengan keseimbangan dalam pembangunan Indonesia adalah...
- A. Manusia Indonesia merupakan subjek pembangunan
 B. Kebenaran, kebaikan, dan keadilan menurut Tuhan
 C. Mandiri dan meminta bantuan dilakukan seimbang
 D. Iptek, prasyarat untuk sejajar dengan negara maju
 E. Wujudkan perimbangan fisik, mental, dan keadilan
123. Hukum dasar suatu negara yang tidak tertulis disebut...
- A. deklarasi
 B. adopsi
 C. konferensi
 D. konvensasi
 E. konvensi
124. Dalam masyarakat multikultural hendaknya dikembangkan sikap...
- A. toleransi dan empati
 B. egois dan monopoli

- C. diskriminasi
 D. bekerjasama hanya dengan satu suku
 E. saling mencurigai antaretnis
- 125.** Berdasarkan Deklarasi Djuanda tanggal 13 Desember 1957, wilayah laut Negara Republik Indonesia adalah...
- A. Tiga mil diukur dari garis terluar masing-masing pulau Indonesia
 B. Tiga mil diukur dari garis terluar pulau-pulau yang terluar
 C. Dua belas mil diukur dari garis terluar masing-masing pulau Indonesia
 D. Dua belas mil diukur dari garis terluar pulau-pulau terluar Indonesia
 E. Dua ratus mil diukur dari garis terluar pulau-pulau terluar Indonesia
- 126.** Keanekaragaman budaya yang memiliki keunikan ciri, baik sosial maupun budaya merupakan pengertian dari...
- A. dinamika kebudayaan
 B. unsur kebudayaan
 C. kehidupan masyarakat multikultural
 D. diferensiasi kebudayaan
 E. revolusi kebudayaan
- 127.** Massa udara (awan) yang dibawa oleh angin mendaki lereng pegunungan, kemudian terjadi kondensasi dan akhirnya turun sebagai hujan...
- A. orografis D. musim
 B. frontal E. siklon
 C. zenital
- 128.** Dalam tata urutan perundang-undangan yang berlaku di Indonesia, UUD 1945 merupakan...
- A. Hukum kebiasaan masyarakat yang tertulis
 B. Satu-satunya sumber hukum bagi penegak hukum
 C. Kebiasaan hukum yang tertulis
 D. Sumber hukum yang tertulis dan tertinggi
 E. Sumber dari segala sumber hukum yang tertulis
- 129.** Pada hakikatnya, manusia adalah makhluk pribadi dan sekaligus makhluk sosial. Sebagai makhluk sosial, manusia mempunyai kecenderungan untuk...
- A. berinteraksi D. berkuasa
 B. berkompetisi E. berbeda
 C. bekerjasama
- 130.** Pelaksanaan SEA GAMES ke-27 tahun 2013 dilaksanakan di...
- A. Vietnam D. Malaysia
 B. Filipina E. Laos
 C. Nyanmar
- 131.** Adanya pemberian “uang jempitan” dari pihak perempuan kepada laki-laki dalam sistem perkawinan adat Minangkabau, menunjukkan kuatnya...
- A. “Gengsi laki-laki”
 B. “Gengsi perempuan”
 C. Syariat Islam
 D. Sistem Matrilineal
 E. Kesatuan “semandai”
- 132.** Jumlah anggota Dewan Perwakilan Daerah (DPD) yang ada di MPR adalah...

- A. 99
- B. 102
- C. 132
- D. 165
- E. 175

133. Faktor utama yang menyebabkan Indonesia sering mengalami gempa bumi tektonik adalah...

- A. Banyaknya gunung api di Indonesia
- B. Pertemuan tiga lempeng tektonik di Indonesia
- C. Pertemuan dua lempeng tektonik di Indonesia
- D. Indonesia merupakan negara kepulauan
- E. Letak Indonesia di antara dua benua

134. Jumlah kursi di DPR yang diperebutkan dalam pemilu 2014 berjumlah...

- A. 550
- B. 560
- C. 600
- D. 650
- E. 700

135. Final Liga Champions tahun 2013 dimenangkan klub sepak bola...

- A. Everton
- B. Barcelona
- C. Chelsea
- D. Bayern Munich
- E. Manchester United

136. Menurut peraturan perundang-undangan yang berlaku, pemberantasan korupsi, kolusi, dan nepotisme harus dilakukan secara tegas terhadap siapa saja, dengan memperhatikan asas praduga tak bersalah, yakni seseorang dianggap tidak bersalah...

- A. sebelum menjadi terdakwa dalam tindak pidana yang dituduhkan
- B. sebelum menjadi tersangka bahwa dia melakukan kesalahan

- C. sebelum diperoleh bukti-bukti yang kuat tentang kesalahannya
- D. sebelum berlaku keputusan hakim yang menyatakan bersalah
- E. sebelum ada keputusan banding dari pengadilan yang lebih tinggi

137. Alat yang digunakan untuk memperbesar atau memperkecil skala peta adalah...

- A. anemometer
- B. pantograf
- C. barometer
- D. regenmeter
- E. altimeter

138. Hal yang amat penting diperhatikan dalam pelaksanaan otonomi daerah adalah...

- A. Optimalisasi pemanfaatan kekayaan daerah
- B. Pelestarian nilai-nilai tradisional daerah
- C. Kukuhnya persatuan dan kesatuan bangsa
- D. Perencanaan terpadu pembangunan daerah
- E. Sumber daya manusia berkualitas

139. Proses geologi yang melatarbelakangi terbentuknya Danau Toba adalah...

- A. vulkanisme
- B. tektonisme
- C. pengendapan
- D. vulkano-tektonik
- E. pembendungan aliran sungai

140. Perjuangan Serikat Islam merupakan pergerakan...

- A. dagang
- B. sosial

- C. nasional
D. kepercayaan
E. agama
141. Perjuangan pergerakan Budi Utomo dimaksudkan dalam rangka mewujudkan...
- A. cita-cita kebangsaan
B. cita-cita kaum intelektual
C. penghapusan kebodohan
D. penghapusan feodalisme
E. kesetaraan pendidikan
142. Penyebab utama terjadinya perang Paderi tahun 1821—1837 di Sumatra Barat adalah...
- A. persoalan warisan
B. persoalan adat
C. sengketa tanah
D. keyakinan beragama
E. perebutan kekuasaan
143. Pemerintah berdasar atas Sistem Konstitusi (hukum dasar), tidak bersifat absolutisme. Apa yang dimaksud dengan absolutisme?
- A. kekuasaan yang terbatas
B. kekuasaan yang sangat terbatas
C. kekuasaan tidak tak terbatas
D. kekuasaan yang semi terbatas
E. kekuasaan yang tidak terbatas
144. Tim RRC sampai tahun 2013 telah menjuarai Sudirman Cup sebanyak...
- A. 5
B. 6
C. 7
D. 8
E. 9
145. Menteri-menteri Lingkungan Hidup dari negara-negara anggota ASEAN dewasa ini menggalang kerja sama dan memberi perhatian serius dalam mengatasi masalah bersama, yakni...
- A. polusi tanah karena limbah plastik
B. larangan pemanfaatan kayu tropis
C. kesadaran rakyat tentang lingkungan
D. masalah asap dan kebakaran hutan
E. pencemaran laut
146. Kekuasaan kehakiman adalah kekuasaan yang merdeka, artinya...
- A. tidak bertanggung jawab kepada presiden
B. terlepas dari pengaruh kekuasaan pemerintah
C. ditetapkan oleh DPR
D. ditetapkan oleh MPR
E. ditetapkan oleh DPR dan Presiden
147. Pelaksanaan program pendidikan Paket A dan Paket B dimaksudkan dalam rangka...
- A. mendukung Program Wajib Belajar 9 tahun
B. meningkatkan kecerdasan masyarakat
C. memberikan bekal keterampilan
D. memberantas buta pengetahuan dasar
E. mendukung Program Wajib Belajar 12 Tahun
148. Negara Indonesia berdasarkan atas hukum (rechtsstaat) tidak berdasarkan atas...
- A. Kekuasaan belaka
B. Lembaga negara

- C. Kedaulatan Rakyat
 D. Majelis Permusyawaratan Rakyat
 E. DPR
149. Lagu kebangsaan Indonesia Raya dikumandangkan di depan umum untuk pertama kalinya ketika...
 A. Proklamasi Kemerdekaan RI
 B. Dibentuknya BPUPKI
 C. Peristiwa Sumpah Pemuda
 D. Pembuatan Naskah Proklamasi
 E. Hari Kesaktian Pancasila
150. Sebuah bujur sangkar P luasnya 64 dan sisinya x . Q adalah sebuah empat persegi panjang dimana salah satu sisinya 4 dan sisi lainnya y . Bila $P = Q$, maka...
 A. $x > y$ D. $x = 2y$
 B. $x < y$ E. $x > 2y$
 C. $x = y$
151. Harga logam mulia emas saat ini meningkat tajam. Simbol kimia dari emas adalah...
 A. Ze D. Au
 B. Ha E. Ar
 C. Cu
152. Menurut UU Nomor 22 Tahun 1999 tentang otonomi daerah, bidang yang masih menjadi wewenang pemerintah pusat adalah...
 A. Pendidikan
 B. Pertanian
 C. Agama
 D. Perhubungan
 E. Perdagangan
153. Peribahasa yang bermakana “rendah hati” adalah...
 A. Seperti menjilat air ludah sendiri.
 B. Air tenang menghanyutkan
 C. Pohon pisang tak akan berbuah dua kali
 D. Seperti padi, kian berisi kian merunduk
 E. Punuk merindukan bulan
154. Antiseptik : Kuman = Singa : ...
 A. Rusa D. Binatang
 B. Peluru E. Buas
 C. Sirkus
155. Yang dimaksud dengan topik dalam sebuah paragraf ialah...
 A. Judul
 B. Kepala karangan
 C. Pokok pikiran dalam sebuah paragraf
 D. Kalimat utama
 E. Essay
156. Berikut ini yang merupakan kalimat majemuk setara adalah...
 A. Ketika dia datang, saya pergi.
 B. Saya datang, dia pergi.
 C. Beberapa hari yang lalu Jakarta dilanda banjir.
 D. Kami berpacu dengan waktu.
 E. Kami pergi bersama-sama
157. Penyakit jantung dapat dipicu oleh tingginya kolestrol berbahaya jenis...
 A. HDL D. LCD
 B. HCL E. Diabetes
 C. LDL
158. Gunung tertinggi di dunia dengan tinggi 8.850 m di atas permukaan air adalah...

- A. Kilimanjaro D. El Misti
 B. Mount Everest E. Fuji
 C. Guallatiri
- 159.** Proyeksi peta dalam kartografi diperlukan untuk...
- A. memperbesar peta
 B. menggambar muka bumi yang bulat ke gambar datar
 C. memperkecil peta
 D. mengetahui luas daerah pada peta
 E. Menganalisis peta
- 160.** Penyanyi tema lagu (*soundtrack*) dalam film Ayat-Ayat Cinta adalah...
- A. Ruth Sahanaya D. Titi DJ
 B. Krisdayanti E. Anang
 C. Rossa
- 161.** Peta berskala 1 : 200.000 diperbesar menjadi 4 kali, maka skala peta tersebut menjadi...
- A. 1 : 800.000 D. 1 : 25.000
 B. 1 : 100.000 E. 1 : 500.000
 C. 1 : 50.000
- 162.** Teknologi komunikasi dengan menggunakan telepon melalui saluran internet adalah...
- A. VOIP D. Intercom
 B. Voice Call E. Android
 C. Free Talk
- 163.** Nilai suatu barang/jasa yang dikorbankan untuk mendapatkan barang/jasa yang lain, dalam istilah ekonomi disebut...
- A. Replacement Cost
 B. Opportunity Cost
- C. Explicit Cost
 D. Sunk Cost
 E. Fix Cost
- 164.** Dalam pasar persaingan sempurna harga pasar akan...
- A. mengarah sama dengan biaya produksi
 B. mengarah lebih rendah dari biaya produksi
 C. tidak terpengaruh biaya produksi
 D. tidak ada hubungannya dengan biaya produksi
 E. tetap
- 165.** Faktor-faktor yang mempengaruhi uang beredar dalam masyarakat adalah...
- A. jumlah penduduk dan motivasi investor asing
 B. tingkat pendapatan dan motivasi investor asing
 C. struktur ekonomi masyarakat dan tingkat pendapatan
 D. struktur ekonomi masyarakat dan hubungan luar negeri
 E. jumlah tabungan masyarakat
- 166.** Provinsi termuda di Indonesia yang resmi disahkan pada rapat paripurna DPR pada tanggal 25 Oktober 2012 adalah...
- A. Kepulauan Riau
 B. Sulawesi Barat
 C. Papua Barat
 D. Kalimantan Utara
 E. Banten

167. Pendiri dari perusahaan software komputer raksasa Microsoft dan merupakan salah satu orang terkaya di dunia adalah...
- Bill Cosby
 - Bill Gates
 - Garret Gates
 - Linus Travolt
 - Michael Dell
168. Berikut ini merupakan pola penyebaran/penularan HIV yang menyebabkan penyakit AIDS, *kecuali*...
- Narkoba melalui jarum suntik yang dipakai bersama
 - Perilaku sex bebas
 - Kontak kulit langsung dengan pengidap HIV
 - Transfusi darah dari pengidap HIV
 - Berhubungan badan
169. Terjadinya bencana alam dan perubahan iklim yang signifikan merupakan salah satu dampak dari...
- Global Warning
 - Global Climate
 - Climate Changes
 - Global Warming
 - El-Nino
170. Berikut ini faktor-faktor yang merupakan aspek Trigatra, *kecuali*...
- posisi dan letak geografis
 - keadaan ekonomi dan stabilisasi umum
 - keadaan dan kekayaan alam
 - keadaan penduduk
 - kemampuan penduduk
171. Gaya pemimpin yang memberikan wewenang secara luas kepada para bawahan, dan selalu mengikutsertakan bawahan sebagai suatu tim yang utuh dalam pemecahan masalah dikenal dengan gaya pemimpin...
- Otoriter
 - Bebas/Laize Faire
 - Demokratis
 - Birokratis
 - Pragmatis
172. Proses perubahan bentuk morfem pada tata bahasa karena pengaruh lingkungan yang dimasukinya disebut...
- Alofon
 - Afiliasi
 - Konfiksasi
 - Alomorf
 - Morfem
173. Di bawah ini merupakan tingkatan kebutuhan manusia yang dikemukakan oleh Abraham Maslow adalah kebutuhan...
- fisiologis, keamanan dan keselamatan, sosial, penghargaan, dan aktualisasi diri
 - sosial, penghargaan, keamanan dan keselamatan, aktualisasi diri
 - keamanan dan keselamatan, finansial, fisiologis, sosial
 - penghargaan, keamanan dan keselamatan, fisiologis, sosial
 - rohani
174. Program laboratorium milik angkatan Laut AS yang dibekukan berada di Indonesia dan pernah menimbulkan masalah berkaitan dengan isu

flu burung dan rekayasa perang biologis adalah...

- A. L-AVIAN
- B. NAMRU-2
- C. NAMRI-2
- D. LABFOR
- E. JICA

175. Blok Cepu yang menghasilkan minyak bumi dikuasai oleh perusahaan...

- A. Pertamina
- B. Exxon Mobile
- C. Shell Petroleum
- D. Petronas Synthium
- E. Chevron

176. Pernyataan ingkaran dari “Semua orang menganggap matematika sulit” adalah...

- A. Beberapa orang menganggap matematika sulit.
- B. Semua orang menganggap matematika tidak sulit.
- C. Ada orang yang menganggap matematika tidak sulit.
- D. Tidak seorangpun yang menganggap matematika sulit.
- E. Sebagian besar orang menganggap matematika tidak sulit.

177. Pada kejuaraan Bulu Tangkis Piala Thomas dan Uber tahun 2008 di Jakarta, posisi Indonesia adalah...

- A. runner-up Uber dan semifinalis Thomas
- B. runner-up Thomas dan semifinalis Uber
- C. runner-up Thomas dan Uber
- D. semifinalis Thomas dan Uber
- E. juara Uber Cup

178. Untuk menyesuaikan kenaikan harga BBM tahun 2008, maka pemerintah memberlakukan kompensasi berupa program BLT Plus bagi rakyat miskin. Yang dimaksud BLT Plus adalah...

- A. Bantuan Langsung Tunai dan pembukaan lapangan kerja
- B. Bantuan Langsung Tunai dan beberapa jenis sembako
- C. Bantuan Langsung Tunai dan pendidikan gratis
- D. Bantuan Langsung Tunai dan pelayanan kesehatan gratis
- E. Bantuan Langsung Tunai dan subsidi BBM

179. Riset yang bertujuan untuk menentukan hubungan dari suatu sebab akibat disebut...

- A. Riset Deskriptif
- B. Riset Kausatif
- C. Riset Eksploratif
- D. Riset Verifikatif
- E. Riset Dedukatif

180. Penemu mesin cetak yang sekarang menjadi salah satu alat penting untuk menyebarkan informasi adalah...

- A. Johannes Guttenberg berasal dari negara Jerman
- B. James Watt berasal dari negara Inggris
- C. Marconi berasal dari negara Italia
- D. Thomas Alfa Edison berasal dari negara Amerika Serikat
- E. Flenning Delf

181. Yang dimaksud dengan 3G dalam dunia telepon seluler adalah...
- Handphone Third Generation
 - Handphone Go Global Generation
 - Handphone Global Governmental Group
 - Handphone Global Generation Gogling
 - GPRS
182. Ciri-ciri berikut terdapat dalam masyarakat pedesaan, *kecuali*...
- mata pencaharian bersifat homogen
 - menghargai waktu
 - tidak individualistis
 - memiliki ikatan batin yang kuat
 - hubungan kekerabatan tinggi
183. Siswa yang memperoleh skor 90 dalam mata pelajaran X tidak dapat diartikan memiliki kemampuan dua kali dibandingkan siswa yang memiliki skor 45. Hal ini disebabkan skor di atas merupakan...
- Skala Interval
 - Skala Nominal
 - Skala Ordinal
 - Skala Ratio
 - Skala mutlak
184. Di bawah ini adalah faktor-faktor yang mempengaruhi struktur umur penduduk, *kecuali*...
- Fertilitas
 - Mortalitas
 - Migrasi
 - Perkawinan
 - Penyakit
185. Penulisan tahun 1998 dalam angka Romawi yang tepat adalah...
- MCMXCVIII
 - MCDXCVIII
 - MVMXLVIII
 - MCDXLVIII
 - MCDLXIX
186. Hari Pendidikan Nasional diperingati setiap tanggal 2 Mei, sedangkan hari Statistik diperingati setiap tanggal...
- 23 September
 - 24 september
 - 25 September
 - 26 September
 - 12 Juli
187. Perpindahan penduduk karena sering sakit akibat cuaca yang tidak cocok disebut...
- Migrasi Psikososial
 - Migrasi Fisiososial
 - Migrasi Internal
 - Migrasi Primer
 - Migrasi Medis
188. Di antara unsur-unsur berikut yang tidak diperlukan dalam komunikasi adalah...
- komunikator dan komunikan
 - media dan saluran
 - pesan atau message
 - gangguan komunikasi
 - infiltrasi
189. Penyakit takut pada ketinggian disebut...
- algoratfobia
 - autofobia
 - akrofobia
 - demofobia
 - kleptomania

190. Agar tidak keliru dalam menentukan kemampuan siswa di antara rekan-rekan sekelasnya, maka sangat diperlukan...
- skor siswa yang bersangkutan
 - rata-rata skor teman sekelasnya
 - jumlah teman sekelasnya
 - jawaban A, B, dan C semua benar
 - skor terendah dan tertinggi
191. Peran-peran berikut merupakan tugas/fungsi yang harus dilakukan oleh seorang guru, *kecuali*...
- Manager
 - Diagnostician
 - Evaluator
 - Eksplorator
 - Coach
192. Klub sepak bola yang masuk babak final Piala Champions tahun 2013 adalah...
- Chelsea dan Manchester United
 - Chelsea dan Barcelona
 - Liverpool dan Manchester United
 - Liverpool dan Chelsea
 - FC Bayern Munich dan Borussia Dortmund
193. Dalam bidang medis, analgetik digunakan untuk...
- meredakan kejang
 - melawan/penawar bisa
 - menghilangkan rasa nyeri
 - mematikan kuman
 - menghilangkan bakteri
194. Sejak proklamasi kemerdekaan Republik Indonesia, pemerintah kita pernah memiliki...
- 5 Presiden dan 9 Wakil Presiden
 - 6 Presiden dan 10 Wakil Presiden
 - 6 Presiden dan 9 Wakil Presiden
 - 5 Presiden dan 10 Wakil Presiden
 - 5 Presiden dan 11 Wakil Presiden
195. Galileo Gallilei (1564—1642) merupakan seorang ahli yang menemukan...
- Elektro Kardigram
 - Elektro Magnet
 - Teleskop Bintang
 - Stetoskop
 - Radio
196. Maimun adalah nama istana raja yang terletak di kota...
- Medan
 - Cirebon
 - Padang
 - Palembang
 - Bukit tinggi
197. Tari Ronggeng adalah tarian dari daerah...
- Lampung
 - DIY (Jawa)
 - Jawa Barat (Sunda)
 - DKI Jakarta (Betawi)
 - Banten
198. Indonesia mencanangkan tahun 2008 menjadi Visit Indonesia Year. Salah satu organisasi PBB yang menangani pariwisata dunia adalah...
- WTO
 - WHO
 - WMO
 - WIPO
 - UNTAC

199. Harga minyak mentah dunia saat ini sudah menembus level US\$130 per barel, 1 barel sama dengan...
- A. 159,98 liter D. 158,88 liter
B. 158,99 liter E. 160,00 liter
C. 159,89 liter
200. Petinju Indonesia yang memegang gelar juara dunia kelas bulu WBA sejak tahun 2003 dan sudah berhasil mempertahankan gelar sebanyak 10 kali adalah...
- A. Chris John
B. A. Rachman
C. Rahman Kili-Kili
D. Nico Thomas
E. Syamsul Arifin
201. Sebagai bentuk penghargaan kepada jasa para pahlawan nasional, nama pahlawan Cilik Riwut dijadikan nama bandara di...
- A. Balikpapan
B. Pontianak
C. Semarang
D. Palangkaraya
E. Samarinda
202. Sekretaris Jenderal PBB kedelapan yang dilantik pada tanggal 14 Desember 2006 adalah...
- A. Kofi Annan dari Ghana
B. Boutros Boutros Ghali dari Mesir
C. Javier Perez de Cuellar dari Peru
D. Ban Ki-Moon dari Korea Selatan
E. Kurt Waldhermeir dari Austria
203. Salah satu judul lagu dari Slank yang diciptakan dan dinyanyikan dan isinya tentang korupsi adalah...
- A. Gosip Jalanan
B. Gosip Pejabat
C. Oemar Bakrie
D. Virus
E. Bento
204. Presiden Amerika Serikat dari partai Demokrat yang pernah bersekolah di Indonesia adalah...
- A. Kennedy, Jr
B. Barack Obama
C. John Mc Cain
D. Hillary Clinton
E. Jhon Kerry
205. Planet dalam tata surya berdasarkan IAU (*International Astronomi Union*) yang bentuknya menyerupai cincin adalah...
- A. Saturnus D. Yupiter
B. Merkurius E. Saturnus
C. Mars
206. Anggota MPR hasil amandemen UUD 1945 terakhir terdiri dari...
- A. Anggota DPR ditambah utusan daerah
B. Separuh anggota DPR dan anggota DPD
C. Anggota DPR dan anggota DPD
D. Anggota DPR dan separuh anggota DPD
E. Anggota DPR dan Ulama
207. Pada bulan Mei tahun 2008 SK. Tri Murti istri Sayuti Melik telah meninggal dunia di Jakarta. Sayuti

Melik sangat berjasa terhadap bangsa Indonesia sebagai...

- A. Penulis naskah proklamasi
- B. Pengetik naskah proklamasi
- C. Penggagas naskah proklamasi
- D. Pembaca naskah proklamasi
- E. Pembisik naskah proklamasi

208. Di museum Pos, di samping memuat ratusan ribu koleksi prangko dari dalam dan luar negeri, tapi juga dipamerkan berbagai tiruan benda-benda bersejarah yang terkait dengan pos serta metode peralatan pos dari masa ke masa. Museum Pos berada di kota...

- A. Bandung
- B. Jakarta
- C. Yogyakarta
- D. Surabaya
- E. Medan

209. Peraih hadiah Nobel Perdamaian dari Timor Leste adalah...

- A. Fransisco "Lu Olo" Gutteres
- B. Yose Ramos Horta
- C. Xanana Gusmao
- D. Mari Alkatiri
- E. Alfredo

210. Sutradara dan aktor film terkenal yang terpilih menjadi wakil gubernur Jawa Barat mendampingi Ahmad Heriawan pada PILKADA Jawa Barat tahun 2013 adalah...

- A. Sophan Sofian
- B. Rano Karno
- C. Dedy Mizwar
- D. Anwar Fuadi
- E. Benyamin Sueb

211. Memori semi konduktor yang isinya tidak diubah, kecuali dengan memusnahkan unit penyimpanan disebut...

- A. RAM (*Random Access Memory*)
- B. ROM (*Read Only Memory*)
- C. RAID (*Redundant Array of Independent Disc*)
- D. SMP (*Symmetric Multi Processing*)
- E. CAD

212. Tim Nasional yang menangani bencana alam Lumpur Lapindo di sidoarjo disebut BPPLS. BPPLS singkatan dari...

- A. Badan Pekerja Penanggulangan Lumpur Sidoarjo
- B. Badan Proyek Penanggulangan Lumpur Sidoarjo
- C. Badan Pelaksana Penanggulangan Lumpur Sidoarjo
- D. Badan Penanggulangan Pelaksanaan Lumpur Sidoarjo
- E. Badan Petugas Penanggulangan Lumpur Sidoarjo

213. Salah satu organisasi PBB yang menangani masalah anak dan pendidikan adalah...

- A. ILO
- B. UNICEF
- C. FAO
- D. UNESCO
- E. UNITER

214. Fisikawan Inggris yang dikenal luas di dunia karena penelitiannya di bidang "lubang hitam" dalam bukunya *A Brief History of Time* adalah...

- A. Stephan Hawking
- B. Wilhelm C. Rontgen
- C. Neils Bohr
- D. Albert Einstein
- E. J.K Rowling

- 215.** Dalam suatu diskusi sebaiknya memberikan saran yang konstruktif. Lawan kata konstruktif adalah...
- A. Agresif D. Represif
B. Destruktif E. Permisif
C. Defensif
- 216.** Fungsi partai politik dalam kehidupan bernegara antara lain sebagai sarana...
- A. Latihan dan pengkaderisasian simpatisan partai
B. Pengendalian berbagai kepentingan masyarakat
C. Pengendalian simpatisan partai
D. Pembentukan partai politik
E. Diskusi
- 217.** Kantor berita Amerika Serikat adalah...
- A. AP (*Associated Press*)
B. Reuter/PA (*Press Association*)
C. NNA (*National News Agency*)
D. CAN (*Central News Agency Inc*)
E. USA News
- 218.** Faktor dominan yang dapat mempengaruhi keberhasilan otonomi daerah adalah...
- A. Tingginya tingkat Pendapatan Asli Daerah (PAD)
B. Tertib manajemen dan tingginya PAD
C. Ketersediaan sumber daya yang melimpah
D. Tingginya tingkat mobilitas dana
E. DPRD
- 219.** Ketua Komisi Kebenaran dan Persahabatan (KKP) Indonesia-Timor Leste untuk Indonesia adalah...
- A. Benjamin Mangkudilaga
B. Jimly Ashiddiqie
C. Hamid Awaludin
D. Hendarman Supandji
E. Jend (Purn) Wiranto
- 220.** Badan Intelejen Nasional (BIN) sebagai sebuah instansi bertanggung jawab kepada...
- A. DEPHANKAM
B. MENKO POLKAM
C. PANGTI ABRI
D. Presiden
E. DPR
- 221.** Semua guru adalah pegawai negeri, sebagian guru adalah pelukis, maka yang tidak sesuai dengan pernyataan di atas adalah...
- A. Sebagian pelukis adalah pegawai negeri.
B. Sebagian pegawai negeri adalah guru.
C. Sebagian pelukis adalah guru.
D. Semua pelukis adalah guru.
E. Sebagai guru adalah pegawai negeri dan pelukis.
- 222.** ASCII (*American Standard Code for Information Interchange*) adalah kode 7-bit yang digunakan untuk mempresentasikan karakter, *kecuali*...
- A. Karakter numerik
B. Karakter abjad
C. Karakter yang dapat dicetak
D. Karakter logika
E. Karakter angka

- 223.** Jangan takut kepadanya, anjing menyalak takkan menggigit. Kalimat berikut yang menggunakan peribahasa yang semakna dengan peribahasa di atas adalah...
- Tidak usah dipikirkan, anjing menggonggong kafilah berlalu.
 - Tidak usah takut padanya, ia seperti harimau mengaum takkan menangkap.
 - Dia hanya seperti kerbau menanduk anaknya, jangan khawatir.
 - Orang-orang yang imannya kurang, hidupnya seperti berebut tulang.
 - Takut boleh, tetapi jangan risau.
- 224.** Skor ujian 86 dalam suatu mata kuliah tidak berarti memiliki kemampuan 2 kali lipat dibandingkan mereka yang memperoleh skor 43. Hal ini disebabkan karena skor ujian merupakan...
- Skala Interval
 - Skala Nominal
 - Skala Ordinal
 - Skala Ratio
 - Skala mutlak
- 225.** Juara tunggal putra kejuaraan bulu tangkis Djarum Indonesia Open Super Series yang berlangsung tanggal 7—13 Mei 2007 di Jakarta berasal dari...
- Indonesia
 - China
 - Malaysia
 - Korea Selatan
 - Jepang
- 226.** 10^6 byte disebut...
- Mega byte
 - Giga byte
 - Tera byte
 - Hexa byte
 - Tetra byte
- 227.** Nama penghargaan tertinggi bidang film di dunia adalah...
- Academy Award
 - Grammy Award
 - Panasonic Award
 - Music Award
 - Globe Award
- 228.** Menurut data FAO pada 2000-2005, terdapat 3 dari 44 negara yang dikategorikan sebagai negara penghancur hutan tercepat di dunia, yaitu...
- Indonesia, Zimbabwe, Myanmar
 - Indonesia, Brasil, Myanmar
 - Zimbabwe, Myanmar, Brasil
 - Zimbabwe, Brasil, Indonesia
 - Indonesia, Bolivia, Argentina
- 229.** Ketua KPK baru yang terpilih pada tanggal 3 Desember 2011 melalui voting oleh 56 orang dari unsur pimpinan dan anggota Komisi III asal sembilan fraksi DPR adalah...
- Bambang Widjojanto
 - Abraham Samad
 - Busyro Muqoddas
 - Johan Budi
 - Antasari Azhar
- 230.** Jumlah provinsi di Indonesia yang telah disahkan pemerintah sampai dengan tahun 2007 sebanyak...
- 31
 - 32
 - 33
 - 34
 - 30

231. Imunisasi DPT diberikan kepada bayi untuk mencegah penyakit...
- Cacar
 - Difteri
 - Campak
 - TBC
 - Demam Berdarah
232. Salah satu yang bukan merupakan Lembaga Non Departemen adalah...
- Badan Kepegawaian Negara (BKN)
 - Badan Pusat Statistik (BPS)
 - Badan Usaha Milik Negara (BUMN)
 - Lembaga Administrasi Negara (LAN)
 - Arsip Nasional Republik Indonesia (ANRI)
233. Undang-undang tentang Sistem Pendidikan Nasional yang baru diberlakukan adalah...
- UU Nomor 20 Tahun 2003
 - UU Nomor 30 Tahun 2004
 - UU Nomor 20 Tahun 2004
 - UU Nomor 30 Tahun 2003
 - UU Nomor 19 Tahun 2003
234. Tergulingnya presiden Mesir terpilih memicu gelombang besar unjuk rasa rakyat Mesir di berbagai penjuru kota. Siapakah nama presiden Mesir terguling...
- Mo hammad Morsi
 - Husni Mubarak
 - Moamar Khadaffi
 - Saddam Husein
 - Yasser Arafat
235. Syarat-syarat suatu ilmu (*science*) adalah sebagai berikut, *kecuali*...
- Berisi kumpulan pengetahuan
 - Menggunakan kekuatan pemikiran
 - Tersusun secara sistematis
 - Dapat dikontrol secara subjektif
 - Terukur
236. Mantan petenis nomor satu dunia asal Amerika Serikat yang lahir di Yugoslavia dan peraih sembilan gelar Grand Slam tunggal adalah...
- Serena Jameka Williams
 - Venus Williams
 - Martina Hingis
 - Nadia Petrova
 - Monica Sales
237. Undang-undang yang menjadi landasan pengaturan otonomi daerah adalah...
- UU Nomor 22 tahun 1998
 - UU Nomor 22 tahun 1999
 - UU Nomor 32 tahun 1998
 - UU Nomor 32 tahun 1999
 - UU Nomor 23 tahun 1999
238. Komunikasi adalah pengiriman warta dari seorang/kelompok/lembaga yang berisi berbagai keterangan kepada pihak lain yang dapat berbentuk...
- Transformasi Informasi
 - Komunikasi Transaksi
 - Komunikasi Interaksi
 - Jawaban A, B, C benar semua
 - Transformasi Struktural
239. Beberapa alternatif jawaban berikut merupakan faktor penyebab kemiskinan, *kecuali*...

- A. Pendidikan rendah
 - B. Keterbatasan lapangan kerja, modal, dan sumber alam
 - C. Rendahnya motivasi calon tenaga kerja
 - D. Malas bekerja dan beban keluarga
 - E. Daerahnya terisolir
- 240.** Penyanyi Katon Bagaskara bersama istrinya Ira Wibowo pada akhir April 2007 berkampanye antinarkoba di Jakarta pada acara GIAM, yaitu...
- A. Gerakan Indonesia Anti Mabuk
 - B. Gerakan Indonesia Anti Madat
 - C. Gerakan Islam Anti Madat
 - D. Gerakan Islam Anti Mabuk
 - E. Gerakan Indonesia Anti Malaria
- 241.** Piramida penduduk suatu daerah pada umumnya menggambarkan...
- A. Jumlah penduduk menurut jenis kelamin
 - B. Jumlah penduduk menurut kelompok umur
 - C. Jumlah penduduk menurut jenis kelamin dan kelompok umur
 - D. Jumlah penduduk menurut jenis kelamin dan kewarganegaraan
 - E. Jumlah penduduk yang lahir
- 242.** Hasil pertanian yang bukan merupakan bahan baku etanol adalah...
- A. Kacang tanah
 - B. Jagung
 - C. Ubi kayu
 - D. Tebu
 - E. Kelapa Sawit
- 243.** Pembagian penduduk dalam suatu masyarakat menjadi lapisan-lapisan sosial dapat dilakukan melalui pendekatan-pendekatan berikut, *kecuali*...
- A. Ekonomi
 - B. Keturunan
 - C. Kekuatan
 - D. Kekuasaan
 - E. Status Sosial
- 244.** Kegiatan sensus yang menjadi tugas Badan Pusat Statistik adalah...
- A. Sensus Penduduk
 - B. Sensus Pertanian
 - C. Sensus Ekonomi
 - D. Jawaban A, B, C benar semua
 - E. Sensus Perkawinan
- 245.** Direktur Jenderal, Sekretaris Jenderal, dan Inspektur Jenderal merupakan pejabat-pejabat yang berada di bawah koordinasi...
- A. Menteri Koordinator
 - B. Menteri Negara
 - C. Menteri Muda
 - D. Menteri
 - E. Wakil Menteri
- 246.** Cabang olahraga berikut yang dipertandingkan dalam olimpiade musim panas terakhir adalah...
- A. Selancar
 - B. Catur
 - C. Kano
 - D. Ski air
 - E. Rafting
- 247.** Bilangan 2007 kalau ditulis dengan lambang bilangan Remawi adalah...

- A. DDVII
- B. DDOVI
- C. MMVII
- D. MMOVII
- E. MMCVII

248. “Opera Jawa” meraih penghargaan tertinggi “Best Film Asia 2007” dalam festival film Singapura ke-20 pada tanggal 20 April 2007, adalah karya sutradara muda...

- A. Garin Nugroho
- B. Arswendo Atmowiloto
- C. Riri Riza
- D. Hanung Bramantyo
- E. Mira Lesmana

249. Danau Triwarna Kelimutu atau sering disebut danau muda-mudi, terletak di provinsi...

- A. Nusa Tenggara Barat
- B. Nusa Tenggara Timur
- C. Maluku
- D. Maluku Utara
- E. Papua

250. Kesebelasan sepak bola antarklub di dataran Eropa yang berhasil lolos hingga babak semi final Piala Champions tahun 2013 adalah...

- A. Manchester United, Chelsea, Liverpool, dan AC Milan
- B. Chelsea, Liverpool, Manchester United, dan Bayern Munchen
- C. AC Milan, Bayern Munchen, Chelsea, dan Liverpool
- D. Liverpool, AC Milan, Chelsea, dan Bayern Munchen
- E. Barcelona, Real Madrid, Bayern Munchen, dan Borussia Dortmund

251. Tabungan A lebih banyak daripada tabungan B dan C. Tabungan B lebih banyak daripada tabungan C. Tabungan D lebih banyak daripada tabungan A dan C. Pernyataan yang paling benar adalah...

- A. Tabungan A lebih banyak daripada tabungan D
- B. Tabungan D dan C sama dengan tabungan A dan B
- C. C mempunyai tabungan paling sedikit
- D. A mempunyai tabungan paling banyak
- E. Tabungan A sama dengan tabungan D

252. Padanan kata SAYA : ANDA : KITA adalah...

- A. anda : dia : mereka
- B. kami : dia : mereka
- C. jeruk : air : manis
- D. sirup : air : manis
- E. aku : daku : saya

253. Setiap manusia berusaha memperoleh kepuasan tertinggi mungkin dari barang-barang yang dimilikinya. Kepuasan kebutuhan terhadap beberapa jenis barang secara kombinasi disebut pemuasan...

- A. Vertikal
- B. Diagonal
- C. Horizontal
- D. Internal
- E. Komplementer

254. Dalam teori kuantitas (Persamaan Fisher) $MV = PT$, bila V dan T diasumsikan tetap, maka uang

beredar harus dikurangi untuk menahan...

- A. Penurunan harga
- B. Peningkatan laju inflasi
- C. Depresiasi kurs mata uang
- D. Peningkatan jumlah output
- E. Apresiasi kurs mata uang

255. Hujan yang terjadi karena angin yang bertiup menaiki lereng pegunungan disebut...

- A. Zenital
- B. Orografis
- C. Siklon
- D. Konveksi
- E. Lokal

256. Di antara alternatif jawaban berikut, yang tidak termasuk dalam wujud/ hasil kebudayaan manusia adalah...

- A. ide, gagasan, norma
- B. interaksi, pergaulan
- C. benda-benda hasil karya manusia
- D. impian, ilusi
- E. artefak

257. Kebijakan fiskal digunakan untuk mengatasi masalah-masalah ekonomi, yang termasuk kebijakan fiskal adalah...

- A. Menaikkan suku bunga
- B. Menaikkan jumlah subsidi
- C. Membuka luas kesempatan penanaman modal
- D. Memberlakukan sistem padat karya
- E. Membatasi jumlah uang beredar

258. Pada susunan tata surya, planet yang letaknya paling dekat dengan matahari adalah...

- A. Merkurius
- B. Saturnus
- C. Neptunus
- D. Pluto
- E. Bumi

259. Dua negara produsen CPO (minyak mentah kelapa sawit) terbesar di dunia adalah...

- A. Indonesia, Thailand
- B. Malaysia, Indonesia
- C. Indonesia, Nigeria
- D. Malaysia, Nigeria
- E. Malaysia, Thailand

260. Berikut ini adalah tuntutan buruh pada hari demo buruh internasional 1 Mei 2013, *kecuali*...

- A. Kenaikan upah sebesar 50%
- B. Jaminan kesehatan nasional
- C. Hapus *outsourcing*
- D. Cabut Undang-Undang Organisasi Masyarakat
- E. Cabut Rancangan Undang-Undang (RUU) Pembantu Rumah Tangga (PRT)

261. Proses pembangunan tidak saja menumbuhkan nilai-nilai kemanusiaan, tetapi juga menimbulkan banyak masalah baru.

Kalimat di atas menggunakan gaya bahasa...

- A. Personifikasi
- B. Metafora
- C. Hiperbola
- D. Metonimia
- E. Sinisme

262. Nilai Tukar Petani (NTP) pada bulan April 2009 sebesar 108, sedangkan pada bulan Januari 2009 sebesar 97. Dari data tersebut dapat disimpulkan bahwa...

- A. Memberikan indikasi tingkat kesejahteraan petani meningkat
 B. Tingkat ketahanan petani meningkat
 C. Kemampuan petani untuk membeli sarana produksi meningkat
 D. Kemampuan membayar cicilan hutang bank meningkat
 E. Uji ketahanan petani sesuai standar
- 263.** Industri yang bahan bakunya diperoleh langsung dari alam disebut dengan...
 A. Eksploitatif
 B. Manufaktur
 C. Ekstraktif
 D. Fasilitatif
 E. Galian
- 264.** Sungai terpanjang di dunia adalah...
 A. Sungai Amazon di Amerika Selatan
 B. Sungai Missisipi di Amerika Utara
 C. Sungai Nil di Afrika
 D. Sungai Yangise-Kiang di Asia
 E. Sungai Rhain
- 265.** Tumbuh-tumbuhan membutuhkan air untuk tumbuh, hidup, dan berkembang biak.
 Binatang membutuhkan air untuk minum dan berkembang biak.
 Manusia membutuhkan air untuk minum, mandi, mencuci, dan memasak.
- Kesimpulan: Tumbuh-tumbuhan, binatang, dan manusia membutuhkan air.
 Kesimpulan di atas diambil secara...
 A. Deduktif D. Analogi
 B. Induktif E. Persuasif
 C. Korelatif
- 266.** Badan Pusat Statistik sebagai Lembaga Non Departemen, berada di bawah naungan dan bertanggung jawab langsung kepada...
 A. Bappenas
 B. Presiden
 C. Wakil Presiden
 D. Sekretariat Negara
 E. Unit Kerja Presiden
- 267.** Film animasi yang berhasil memenangkan *Animated Feature Film* di ajang Academy Awards 2013 atau Oscars yang ke-85 yang digelar di The Dolby Theatre, California adalah...
 A. Brave
 B. Frankenweenie
 C. ParaNorman
 D. The Pirates
 E. Wreck-It Ralph
- 268.** Aktris terbaik dalam ajang penyerahan Piala Oscar 2013 adalah...
 A. Jennifer Lawrence
 B. Jessica Chastain
 C. Emmanuella Riva
 D. Quvenzhane Wallis
 E. Naomi Watts

269. Kapal yang membawa misi kemanusiaan ke wilayah Gaza dan mendapat serangan dari tentara Israel serta mengakibatkan meninggalnya belasan aktivis adalah...

- A. Pavi Marmara
- B. Flotilla
- C. Mavi Marmara
- D. Kiswa
- E. Yron Zamir

270. Kejuaraan bulu tangkis untuk memperebutkan Piala Thomas dan Uber 2012 berlangsung di...

- A. Singapura
- B. Thailand
- C. Malaysia
- D. Vietnam
- E. China

271. Kepala Badan Kebijakan Fiskal Departemen Keuangan RI yang mengundurkan diri tahun 2010 dan kembali menjadi dosen di Universitas Gajah Mada dan saat ini menjabat sebagai Direktur Jenderal Haji dan Umroh Kementerian Agama Republik Indonesia adalah...

- A. Agus Martowardojo
- B. Raden Pardede
- C. Anggito Abimanyu
- D. Mulia Nasution
- E. Agus Suprianto

272. Tren kepemilikan *software* dimana kita bebas untuk menggunakan dan mendistribusikannya disebut...

- A. Freeware
- B. Shareware
- C. Alloware
- D. Open Source
- E. Copyrighted

273. Yang dimaksud dengan 1 MB adalah...

- A. 1.024 byte
- B. 1.000 kb
- C. 1 karakter
- D. 1.024 kb
- E. 1.024 bit

274. #include<stdio.h>

```
main()
{
printf("bahasa algor")
}
```

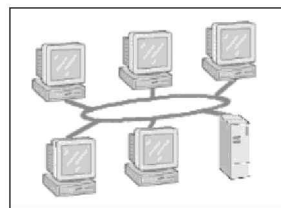
syntaks di atas merupakan syntaks dari bahasa pemrograman...

- A. Pascal
- B. C
- C. Java
- D. Visual Basic
- E. Fortran

275. Bentuk dari bilangan biner 255 adalah...

- A. 11111111
- B. 11111110
- C. 11111100
- D. 11111000
- E. 11110000

276. Gambar di bawah merupakan topologi jaringan yang disebut...



- A. Star
- B. Ring
- C. Bus
- D. Tree
- E. Mess


277. Yang membuat ukuran dari komputer generasi pertama menjadi sangat besar adalah...

- A. Penggunaan Vacum Tube
- B. Penggunaan monitor CRT

- C. Penggunaan memory jenis RDRAM
- D. Penggunaan Disket sebagai media penyimpanan utamanya
- E. Penggunaan casing yang besar
- 278.** Suatu aplikasi yang dapat menentukan informasi yang dapat keluar masuk melalui suatu jaringan disebut dengan...
- A. Antivirus D. Access Point
- B. Firewall E. Spam filter
- C. Popup blocker
- 279.** Sekumpulan PC yang terkoneksi dalam area yang relatif kecil dan biasanya masih dalam satu gedung disebut...
- A. LAN D. Internet
- B. WAN E. Intranet
- C. MAN
- 280.** Suatu protokol LAN yang dikembangkan pada tahun 1976 oleh Xerox Corp. dan merupakan salah satu standar LAN yang digunakan saat ini adalah...
- A. Ethernet D. Access Point
- B. Internet E. IP Address
- C. TCP/IP
- 281.** Sebuah program berbahaya yang disisipkan pada komputer korban dengan cara disamarkan menjadi sebuah program yang tampak tidak berbahaya disebut...
- A. Bugs D. Worm
- B. Trojan E. Logic Bomb
- C. Virus
- 282.** Modem merupakan singkatan dari...
- A. Modul demonstrator
- B. Modern demonstrator
- C. Modulus demodukitor
- D. Modulus demodulator
- E. Modulator demodulator
- 283.** Terdapat dua jenis monitor, yaitu jenis CRT dan LCD. LCD singkatan dari...
- A. Liquid Crystal Display
- B. Layer Crystal Display
- C. Liquid Crispy Display
- D. Liquid Crystal Drawing
- E. Liquid Catode Display
- 284.** Perangkat terpenting pada komputer yang disajikan media untuk memasang peralatan, seperti processor, memory, dan VGA Card disebut dengan...
- A. CPU
- B. Casing
- C. Monitor
- D. Motherboard
- E. Printer
- 285.** Berikut ini merupakan alat penyimpan data, *kecuali*...
- A. Disket D. Harddisk
- B. CD E. Flashdisk
- C. Monitor
- 286.** Keyboard yang sekarang ini digunakan merupakan alat masukan yang menggunakan tata letak berbasis...
- A. QWERTY D. TYQWER
- B. Standar E. ASCII
- C. Internasional

- 287.** Dalam DOS, cara untuk mengkopir sebuah file yang bernama "data.doc" dari drive A: ke drive C: adalah...
- A. A:/>copy A:\data.doc C:\
 - B. A:/>copy C:\data.doc A:\
 - C. A:/>copy data.doc A:\ C:\
 - D. A:/>copy data.doc C:\ A:\
 - E. A:/>copy A:\ C:\ data.doc
- 288.** Di bawah ini yang bukan merupakan sistem operasi pada komputer adalah...
- A. MS DOS
 - B. Symbian
 - C. Windows
 - D. MAC-OS
 - E. UNIX
- 289.** SCSI dan IDE merupakan jenis perangkat keras...
- A. Harddisk
 - B. Monitor
 - C. CD-ROM
 - D. Keyboard
 - E. Mouse
- 290.** Sekeping CD memiliki kapasitas penyimpanan sebesar...
- A. 360 kb
 - B. 1,44 mg
 - C. 720 kb
 - D. 4 gb
 - E. 700 mb
- 291.** Perangkat lunak MS Word merupakan aplikasi pengolahan kata yang sama dengan...
- A. MS Excel
 - B. MS Frontpage
 - C. Star Office Writer
 - D. Mathlab
 - E. Adobe Acrobat Reader
- 292.** Kapanjangan dari HTML adalah...
- A. Hyper Text Mark up Language
 - B. Hash Transfer Mark up Language
 - C. Hyper Transfer Mark up Language
 - D. Hyper Text Message Language
 - E. Hyper Text Make up Language
- 293.** Tipe memori yang memiliki kecepatan akses paling tinggi adalah...
- A. Register
 - B. Cache memory
 - C. Disk cache
 - D. Magnetik Disk
 - E. Optikal Disk
- 294.** Bentuk bilangan biner dari 156 adalah...
- A. 10011100
 - B. 10011110
 - C. 11001101
 - D. 10011101
 - E. 10011010
- 295.** Tempat penyimpanan sementara dimana program dan data yang akan diproses oleh prosesor adalah...
- A. Prosessor
 - B. Motherboard
 - C. Memory
 - D. Hardisk
 - E. I/O device
- 296.** Aplikasi Microsoft Office yang digunakan untuk membuat dan mengubah perhitungan data disebut...
- A. MS Word
 - B. MS Excel
 - C. MS Frontpage
 - D. MS Acces
 - E. MS Powerpoint

- 297.** OS yang dikembangkan oleh Microsoft dan IBM adalah...
- A. Windows D. Linux
B. BIOS E. Machintosh
C. UNIX
- 298.** Topologi yang membentuk bintang dengan HUB sebagai pusatnya disebut...
- A. topologi Ring
B. topologi Bus
C. topologi Star
D. topologi Komputer
E. topologi Jaringan
- 299.** Istilah untuk menghubungkan lebih dari dua buah komputer dengan menggunakan HUB disebut...
- A. straight D. serial
B. crossover E. star
C. frekuensi
- 300.** Konektor yang memiliki delapan pin sebagai media transformasi data disebut dengan...
- A. konektor RJ-45
B. konektor BNC RG-45
C. konektor ST
D. konektor RJ-12
E. konektor RG-45
- 301.** Juara dunia sepak bola 2010 yang diselenggarakan di Afrika Selatan adalah ...
- A. Belanda D. Uruguay
B. Spanyol E. Ghana
C. Jerman
- 302.** Di bawah ini adalah tim sepak bola yang mewakili Benua Afrika di final Piala Dunia 2014 di Brazil, kecuali ...
- A. Afrika Selatan D. Nigeria
B. Ghana E. Kamerun
C. Pantai Gading
- 303.** Julukan bola yang digunakan dalam pertandingan sepak bola Piala Dunia 2010 adalah ...
- A. Vuvuzela D. Soccer Ball
B. Adidas E. Waka-waka
C. Jabulani
- 304.** Pencetak tiga gol saat Timnas Indonesia U-19 menang 3-2 atas Korea Selatan U-19 di penyisihan Piala Asia U19 2013 adalah ...
- A. Evan Dimas
B. Bambang Pamungkas
C. Andik Vermansyah
D. Maldini
E. Ilham Udin
- 305.** Pelatih yang sukses membawa Timnas Indonesia U-19 menjuarai Piala AFF Suzuki 2013 adalah...
- A. Indra Sjafri D. Benny Dollo
B. Alfred Riedl E. Aji Santoso
C. Rahmad Darmawan
- 306.** Film terbaik peraih Piala Oscar tahun 2013 adalah...
- A. Artist
B. Argo
C. Django Unchained
D. Silver Linings Playbook
E. Amour



Tes Bakat Skolastik & **Tes** Potensi Akademik

TES HUBUNGAN KATA

SINONIM

ANTONIM

ANALOGI

PENALARAN LOGIS

PENALARAN NUMERIK

PENALARAN ANALITIS

PENALARAN SPASIAL

TES DAYA INGAT

TES KETELITIAN

Petunjuk A: Pilih satu jawaban yang paling tepat



A. Soal Latihan Sinonim

1. MUFAKAT
A. Rapat
B. Musyawarah
C. Demokratis
D. Abstain
E. Setuju
2. MAYA
A. Alam
B. Khayalan
C. Nyata
D. Teknologi
E. Rabun
3. MOTIF
A. Motivasi
B. Pola
C. Semangat
D. Gambar
E. Wujud
4. FLUKTUASI
A. Kadar
B. Perubahan
C. Gejala
D. Perhitungan
E. Grafik
5. INTERPRETASI
A. Dugaan
B. Tafsir
C. Rekaan
D. Perkataan
E. Perkiraan
6. ANALOGI
A. Mulut
B. Persamaan
C. Ilmu
D. Perbedaan
E. Sinonim
7. REALITAS
A. Maya
B. Abstrak
C. Fokus
D. Kenyataan
E. Bukti
8. KONVENSI
A. Kesepakatan
B. Perdamaian
C. Negosiasi
D. Harapan
E. Undangan
9. INSTITUSI
A. Sosial
B. Lembaga
C. Intuisi
D. Budaya
E. Hasrat
10. ELASTIS
A. Kenyal
B. Kaku
C. Solid
D. Konkrit
E. Fleksibel
11. MUKADIMAH
A. Pembukaan
B. Preambul
C. Konsitusi
D. Undang-undang
E. Peraturan
12. GRATIFIKASI
A. Bantuan
B. Sumbangan
C. Sogok
D. Imbalan
E. Undangan

- 13. DESIBEL**
 A. Intensitas
 B. Identitas
 C. Suara
 D. Satuan ukuran
 E. Getaran
- 14. DESERSI**
 A. Resesi
 B. Melarikan diri
 C. Berani
 D. Sopan
 E. Wajib lapor
- 15. BULEVAR**
 A. Adimarga
 B. Jalan
 C. Gang
 D. Reguler
 E. Ramai
- 16. ADAT**
 A. Hukum
 B. Tata
 C. Kebiasaan
 D. Akal
 E. Sosial
- 17. PREMI**
 A. Komisi
 B. Iuran
 C. Obligasi
 D. Asuransi
 E. Emisi
- 18. STAGNAN**
 A. Lancar
 B. Mulus
 C. Tersendat
 D. Terbagi
 E. Sempit
- 19. DIKTE**
 A. Paksa
 B. Diktator
 C. Arahkan
 D. Imla
 E. Perintah
- 20. SPIRAL**
 A. Bulatan
 B. Sulur batang
 C. Kawat
 D. Lurus
 E. Melengkung
- 21. SKEPTIS**
 A. Yakin
 B. Benar
 C. Ragu-ragu
 D. Percaya
 E. Motivasi
- 22. SISTEMATIK**
 A. Penggolongan
 B. Susunan
 C. Serentak
 D. Optimistik
 E. Tematik
- 23. SINYAL**
 A. Bunyi
 B. Tanda
 C. Bukti
 D. Arah
 E. Sirene
- 24. ISTAL**
 A. Istana
 B. Kandang kuda
 C. Sangkar
 D. Lapangan
 E. Kanal
- 25. ASA**
 A. Angan-angan
 B. Harapan
 C. Keputusan
 D. Damai
 E. Mimpi
- 26. MADAT**
 A. Vitamin
 B. Obat
 C. Candu
 D. Cerutu
 E. Tembakau
- 27. ASUMSI**
 A. Dugaan
 B. Perhitungan
 C. Cadangan
 D. Ramal
 E. Estimasi

- 28. STRATA**
 A. Proses
 B. Cara
 C. Citra
 D. Lapisan
 E. Brahmana
- 29. PIALANG**
 A. Pembeli
 B. Saham
 C. Penjual
 D. Makelar
 E. Emiten
- 30. STIMULUS**
 A. Perangsang
 B. Tarikan
 C. Pengabaian
 D. Permintaan
 E. Kebijakan
- 31. MOMENTUM**
 A. Tekanan
 B. Kesempatan
 C. Dorongan
 D. Adendum
 E. Tumbukan
- 32. ALOKASI**
 A. Penyebaran
 B. Pemindahan
 C. Pembagian
 D. Anggaran
 E. Aneksi
- 33. GABUNGAN**
 A. Kelompok
 B. Fusi
 C. Perserikatan
 D. Berkumpul
 E. Partai
- 34. DAUR**
 A. Ulang
 B. Siklus
 C. Proses
 D. Sampah
 E. Olah
- 35. INTERAKSI**
 A. Transaksi
 B. Komunikasi
 C. Hubungan
 D. Sosial
 E. Transaksi
- 36. PARTIKELIR**
 A. Tukang parkir
 B. Partisan
 C. Partisi
 D. Swasta
 E. Entrepreneur
- 37. PANDEMI**
 A. Anatomi
 B. Geografi
 C. Wabah
 D. Epidemik
 E. Kesehatan
- 38. ENTAS**
 A. Masuk
 B. Tinggi
 C. Angkat
 D. Tahan
 E. Stagnan
- 39. EMITEN**
 A. Komitmen
 B. Badan usaha
 C. Saham
 D. Surat berharga
 E. Pialang
- 40. EMISI**
 A. Pancaran
 B. Gas
 C. Emiten
 D. Buang
 E. Komisi
- 41. NATALITAS**
 A. Kematian
 B. Migrasi
 C. Kelahiran
 D. Hari raya
 E. Penduduk
- 42. CANTIK**
 A. Rupa
 B. Rapih
 C. Elok
 D. Teratur
 E. Muka

43. KOTOR

- A. Anoda
- B. Motor
- C. Sampan
- D. Tidak patut
- E. Runyam

44. GARASI

- A. Tidak usah bayar
- B. Tempat penyimpanan mobil
- C. Pengampunan hukuman
- D. Alat untuk memotong kayu
- E. Gerenda

45. KULMINASI

- A. Tingkatan tertinggi
- B. Tempat mendinginkan sesuatu
- C. Keadaan emosi sekarang
- D. Panas terik matahari
- E. Optimum

46. KONTRADIKSI

- A. Penandatanganan kontrak
- B. Pertentangan
- C. Perjanjian
- D. Perdebatan
- E. Perselisihan

47. KREASI

- A. Kemampuan berpikir
- B. Rencana
- C. Inovasi
- D. Ciptaan
- E. Khayal

48. SAPTA

- A. Marga
- B. Sumpah
- C. Prasetya
- D. Bilangan
- E. Enam

49. HOMOGEN

- A. Seimbang
- B. Harmonis
- C. Sepadan
- D. Sejenis
- E. Senyawa

50. TIMPANG

- A. Kesal
- B. Ganjil
- C. Aneh
- D. Senjang
- E. Fluktuatif



B. Soal Latihan Antonim

1. SIMPATI
A. Suka D. Sombong
B. Iri E. Benci
C. Jahat
2. NODA
A. Kotor D. Sabun
B. Cuci E. Rapi
C. Suci
3. FENOMENA
A. Kejadian D. Angan-angan
B. Peristiwa E. Prinsip
C. Ramalan
4. BELIA
A. Dewasa D. Kakak
B. Yuniior E. Balita
C. Senior
5. WEDANA
A. Bupati D. Kabupaten
B. Camat E. Pendopo
C. Lurah
6. TESTAMEN
A. Wasiat
B. Warisan
C. Ramalan
D. Tidak berpesan
E. Ahli waris
7. TERATUR
A. Rapih D. Terarah
B. Rusuh E. Ruwet
C. Sistematis
8. STABIL
A. Normal D. Seimbang
B. Labil E. Anomali
C. Tenang
9. SIGNIFIKAN
A. Berarti D. Menang
B. Penting E. Dekat
C. Tak berarti
10. SAH
A. Sah D. Cacat
B. Wajib E. Benar
C. Sempurna
11. STAGNAN
A. Progresif D. Baku
B. Konstan E. Aktif
C. Berhenti
12. OPTIMIS
A. Peragu D. Rendah hati
B. Putus asa E. Gairah
C. Premis
13. KESEMPATAN
A. Peluang D. Keadaan
B. Ancaman E. Hambatan
C. Kemungkinan
14. PARADOKS
A. Kebalikan D. Selaras
B. Berbeda E. Kenyataan
C. Bertentangan

15. SETELAH

- A. Pra
- B. Akan
- C. Pasca
- D. Melintas
- E. Sudah

16. PAKAR

- A. Spesialis
- B. Perintis
- C. Pioner
- D. Awam
- E. Ahli

17. ORTODOKS

- A. Kuno
- B. Mutakhir
- C. Sekte
- D. Kolot
- E. Dahulu

18. NORMAL

- A. Sinkron
- B. Tanpa cacat
- C. Anomali
- D. Waras
- E. Sesuai

19. NISBI

- A. Relatif
- B. Mutlak
- C. Abstrak
- D. Tergantung
- E. Usaha

20. NETRAL

- A. Abstain
- B. Berpihak
- C. Sejalan
- D. Tidak terikat
- E. Koalisi

21. BERANI

- A. Garang
- B. Gentar
- C. Nekat
- D. Sabar
- E. Tegar

22. MITRA

- A. Bagian
- B. Kompetitor
- C. Serikat
- D. Teman
- E. Akrab

23. MENYAMBUNG

- A. Meneruskan
- B. Merangkai
- C. Memotong
- D. Menyulam
- E. Partisipasi

24. MENTAL

- A. Jiwa
- B. Sikap
- C. Raga
- D. Watak
- E. Pikiran

25. MAYOR

- A. Perwira tinggi
- B. Minor
- C. Tenor
- D. Alto
- E. Banyak

26. MAKAR

- A. Akal busuk
- B. Berpihak
- C. Teroris
- D. Tipu muslih
- E. Anarki

27. KUANTITAS

- A. Mutu
- B. Jaminan
- C. Kuintal
- D. Jumlah
- E. Realitas

28. KONTRADIKSI

- A. Selaras
- B. Ambigu
- C. Seimbang
- D. Pertentangan
- E. Perbedaan

29. BERUBAH

- A. Konstan
- B. Progresif
- C. Spekulatif
- D. Asing
- E. Tukar

30. ABSTRAK

- A. Maya
- B. Konkrit
- C. Kabur
- D. Visual
- E. Diagramatik

- 31. KONDUKTOR**
 A. Perantara
 B. Penyelaras
 C. Penyalur
 D. Penghambat
 E. Karet
- 32. INDIVIDUAL**
 A. Selektif
 B. Berkelompok
 C. Kolektif
 D. Single
 E. Primordial
- 33. KOHESI**
 A. Bebas
 B. Adhesi
 C. Keterikatan
 D. Hubungan
 E. Transfusi
- 34. MINI**
 A. Jumbo
 B. Kecil
 C. Super
 D. Sedikit
 E. Mikro
- 35. PERKENALAN**
 A. Pertemanan
 B. Introduksi
 C. Tanda-tanda
 D. Penutup
 E. Prakata
- 36. KONTINU**
 A. Istimewa
 B. Rutin
 C. Khusus
 D. Insidental
 E. Tidak jadi
- 37. HOMOGEN**
 A. Sejenis
 B. Harmonis
 C. Heterogen
 D. Multi
 E. Senyawa
- 38. KONTAN**
 A. Gratis
 B. Bayar
 C. Hutang
 D. Tunai
 E. Deposit
- 39. TANDUS**
 A. Berbatu
 B. Subur
 C. Kering
 D. Gersang
 E. Basah
- 40. GASAL**
 A. Semester
 B. Ganjil
 C. Genap
 D. Caturwulan
 E. Mid-semester
- 41. MONOLOG**
 A. Epilogi
 B. Prolog
 C. Dialog
 D. Interaktif
 E. Trilogi
- 42. KACAU**
 A. Rawan
 B. Normal
 C. Hancur
 D. Chaos
 E. Runyam
- 43. IMITASI**
 A. Autentik
 B. Semu
 C. Palsu
 D. Orisinil
 E. Samak
- 44. RASA KASIH**
 A. Acuh
 B. Antipati
 C. Apatis
 D. Peduli
 E. Iba
- 45. ANTAGONIS**
 A. Menurut
 B. Sejalan
 C. Selaras
 D. Seimbang
 E. Terbalik



C. Soal Latihan Analogi

1. MENDOBRAK berhubungan dengan ..., sebagaimana UANG berhubungan dengan...
 - A. Pintu : Menabung
 - B. Meja : Meminjam
 - C. Paksa : Dompot
 - D. Pintu : Merampok
 - E. Menendang : Membeli
2. ...berhubungan dengan KABIN, sebagaimana... berhubungan dengan RUANGAN.
 - A. Perahu : Gedung
 - B. Pilot : Supir
 - C. Pesawat terbang : Rumah
 - D. Udara : Darat
 - E. Pintu : Bagasi
3. ... berhubungan dengan PENJUALAN, sebagaimana IBADAH berhubungan dengan...
 - A. Pembelian : Dosa
 - B. Keuntungan : Pahala
 - C. Toko : Lapangan
 - D. Uang : Buku
 - E. Warung : Doa
4. ...berhubungan dengan LAPAR, sebagaimana LAMPU berhubungan dengan...
 - A. Kenyang : Api
 - B. Nasi : Pijar
 - C. Gemuk : Terang
 - D. Minum : Benderang
 - E. Makan : Gelap
5. ...berhubungan dengan ZEBRA, sebagaimana ANTISEPTIK berhubungan dengan...
 - A. Kuman : Penyakit
 - B. Kuda : Hama
 - C. Harimau : Obat
 - D. Tikus : Kotor
 - E. Singa : Oksigen
6. LIHAT : CARI = SENTUH ...
 - A. Rasa
 - B. Nervous
 - C. Tangan
 - D. Singgung
 - E. Raba
7. AIR : POMPA = DARAH ...
 - A. Arteri
 - B. Vena
 - C. Jantung
 - D. Arus
 - E. Paru-paru
8. FISILOGI : TUMBUHAN
 - A. Pathologi : Hama
 - B. Teologi : Khotbah
 - C. Manajemen : Perusahaan
 - D. Onkology : Ilmu
 - E. Racun : Madu
9. UROLOGI : ALAT KELAMIN
 - A. Botani : Tumbuhan
 - B. Sosiologi : Desa
 - C. Farmasi : Obat
 - D. Keuangan : Perusahaan
 - E. Sosiologi : Hukum

10. SUTRADARA : FILM
 A. Komponis : Simponi
 B. Aktor : Panggung
 C. Konduktor : Orkestra
 D. Lagu : Penyanyi
 E. Baut : Obeng
11. SAPI : RUMPUT
 A. Lembu : Susu
 B. Kapal Laut : Baling-baling
 C. Penyakit : Bakteri
 D. Motor : Bensin
 E. Herbivora : Hewan
12. BULAT : LINGKARAN
 A. Bola : Jari-jari
 B. Mulus : Rata
 C. Asah : Kapak
 D. Persegi : Garis
 E. Segi empat : Segitiga
13. FILOLOGI : ILMU
 A. Perpustakaan : Buku
 B. Astrologi : Galaksi
 C. Bakau : Pohon
 D. Teori : Fakta
 E. Ikan : Pisces
14. DANA : PENGGELAPAN
 A. Uang : Bank
 B. Hak Cipta : Penjiplakan
 C. Dana : Perbankan
 D. Cek : Penolakan
 E. Karya : Kreatif
15. AKTOR : PANGGUNG
 A. Dosen : Perpustakaan
 B. Satpam : Pos keamanan
 C. Lapangan : Bola
 D. Konduktor : Musik
 E. Seniman : Artis
16. ...berhubungan dengan DERAJAT, sebagaimana KILOGRAM berhubungan dengan....
 A. Temperatur : Berat
 B. Tenis : Servis
 C. Massa : Usaha
 D. Cahaya : Optik
 E. Kelvin : Ohm
17. ...berhubungan dengan TOKO, sebagaimana BANK berhubungan dengan...
 A. Tabungan : Deposito
 B. Pinjaman : Nasabah
 C. Museum : Artis
 D. Pelayan : Teller
 E. Karyawan : Mall
18. RAJA : TAHTA = HAKIM : ...
 A. Pengacara
 B. Mahkamah
 C. Terdakwa
 D. Pemeriksaan Pengadilan
 E. Konstitusi
19. GERGAJI : KAYU
 A. Sendok : Makan
 B. Sepatu : Kaki
 C. Gunting : Kertas
 D. Pensil : Penghapus
 E. Baju : Badan
20. BOTAK : RAMBUT
 A. Gundul : Hutan
 B. Uban : Rambut

- C. Bugil : Pakaian
 D. Mogok : Mobil
 E. Sari : Pati
21. ...berhubungan dengan SISWA, sebagaimana DOSEN berhubungan dengan...
 A. Guru – Perguruan tinggi
 B. Guru – Kuliah
 C. Mahasiswa – Guru
 D. Belajar – Pengajar
 E. SMA – Mahasiswa
22. ...berhubungan dengan TULANG, sebagaimana GEDUNG berhubungan dengan...
 A. Belulang – Ber-AC
 B. Tinggal – Bertingkat
 C. Tua – Kota
 D. Tubuh – Rangka
 E. Kurus – Kokoh
23. ...berhubungan dengan KAPAL, sebagaimana PESAWAT UDARA berhubungan dengan...
 A. Angkatan laut – Angkatan darat
 B. Pelaut – Penerbang
 C. Prajurit – Pilot
 D. Ikan – Polusi
 E. Sungai – Oksigen
24. BAJU : PAKAIAN = BERAS : ...
 A. Padi D. Petani
 B. Pangan E. Desa
 C. Sawah
25. BULU HIDUNG : UDARA = ALIS :
 ...
- A. Hitam D. Kotor
 B. Keringat E. Debu
 C. Mata
26. GIGI TARING : KARNIVORA
 A. Cakar : Binatang buas
 B. Tajam : Mata
 C. Sayap : Terbang
 D. Ekor : Binatang
 E. Paruh : Makan
27. CACING : ULAR
 A. Singa : Harimau
 B. Kambing : Sapi
 C. Biawak : Komodo
 D. Hiu : Paus
 E. Merpati : Elang
28. LAUT : SAMUDRA
 A. Sungai : Laut
 B. Danau : Air
 C. Bukit : Lembah
 D. Pulau : Benua
 E. Delta : Laut
29. ORANG BODOH : ILMU
 A. Orang miskin : Derma
 B. Orang mengemis : Lapar
 C. Orang menganggur : Kerja
 D. Orang bekerja : Gaji
 E. Orang kaya : Harta
30. GURU : SEKOLAH
 A. Penebang pohon : Pabrik
 B. Musisi : Piano
 C. Pengacara : Panggung
 D. Penyanyi : Suara
 E. Petani : Ladang

Petunjuk A: Pilih satu jawaban yang paling tepat

1. Tidak ada pemalas yang sukses. Semua yang sukses sejahtera hidupnya. Jadi,...
 - A. Semua pemalas sejahtera hidupnya.
 - B. Sebagian yang sejahtera hidupnya bukan pemalas.
 - C. Tidak ada pemalas yang sejahtera hidupnya.
 - D. Sebagian pemalas tidak sukses.
 - E. Semua pemalas sukses.
2. Semua yang memabukkan adalah haram. Bir adalah minuman yang memabukkan. Jadi,...
 - A. Bir haram.
 - B. Bir tidak haram.
 - C. Sebagian bir haram.
 - D. Sebagian bir memabukkan.
 - E. Semua bir memabukkan.
3. Indra adalah orang desa. Indra bekerja sebagai buruh di sebuah pabrik. Banyak buruh-buruh yang malas. Bonar adalah teman Indra. Jadi,...
 - A. Indra itu malas.
 - B. Bonar itu malas.
 - C. Teman-teman Indra semuanya malas.
 - D. Bonar mungkin sedesa dengan Indra.
 - E. Bonar adalah orang kota.
4. Semua orang tua menyayangi anaknya. Sebagian guru menyayangi anaknya. Jadi,...
 - A. Semua guru adalah orang tua.
 - B. Semua orang tua adalah guru.
 - C. Sebagian guru adalah orang tua.
 - D. Sebagian orang tua menyayangi anaknya.
 - E. Semua guru menyayangi anaknya.
5. Semua kendaraan berbahan bakar bensin. Tak sebuah motor pun berbahan bakar bensin. Jadi,...
 - A. Semua kendaraan adalah motor.
 - B. Motor adalah kendaraan berbahan bakar bensin.
 - C. Tak sebuah motor pun adalah kendaraan berbahan bakar bensin.
 - D. Kendaraan berbahan bakar bensin adalah motor.
 - E. Semua kendaraan berbahan bakar bensin adalah motor.
6. Semua mamalia tidak bertelur dan semua yang bertelur adalah hewan. Jadi,...
 - A. Mamalia bukan hewan.
 - B. Ada hewan yang tidak bertelur.
 - C. Mamalia bisa saja bertelur.
 - D. Ikan paus adalah mamalia.
 - E. Hewan yang bertelur adalah mamalia.

7. Semua burung bernapas dengan paru-paru. Semua merpati adalah burung. Jadi,...
- Sebagian merpati bernapas dengan paru-paru.
 - Sebagian merpati adalah burung.
 - Semua merpati bernapas dengan paru-paru.
 - Semua merpati tidak bernapas dengan paru-paru.
 - Tidak semua merpati bernapas dengan paru-paru.
8. Anak perempuan yang masih kecil selalu diberi boneka oleh ibu mereka. Rahma mempunyai banyak boneka di rumahnya. Kakak dan adik Rahma tidak mempunyai boneka. Jadi,...
- Kakak dan adik Rahma semuanya laki-laki.
 - Semua boneka Rahma adalah pemberian ibunya.
 - Rahma adalah anak yang paling disayang ibunya.
 - Anak perempuan tidak harus mempunyai boneka.
 - Kakak dan adik Rahma juga mempunyai boneka.
9. Semua akuntan pandai dalam akuntansi. Irham bukan seorang akuntan. Jadi,...
- Irham tidak pandai dalam akuntansi.
 - Irham pandai dalam akuntansi.
 - Ada akuntan yang tidak pandai dalam akuntansi.
 - Agar pandai dalam akuntansi, jadilah akuntan.
 - Irham bukan seorang akuntan, tetapi ia pandai dalam akuntansi.
10. Barang pecah-belah adalah barang yang mudah pecah bila jatuh. Barang-barang yang tidak mudah pecah bila jatuh tidak lagi digolongkan dalam kategori pecah-belah. Gelas buatan Indokaca tidak dapat pecah kalau jatuh. Jadi,...
- Gelas produksi Indokaca termasuk barang pecah-belah.
 - Gelas produksi Indokaca tidak dapat pecah.
 - Gelas produksi Indokaca tidak termasuk barang pecah-belah.
 - Gelas produksi Indokaca tidak mungkin pecah.
 - Gelas produksi Indokaca mudah pecah.
11. Semua pelaut dapat berenang. Sebagian pelaut menjadi anggota pasukan katak.
- Simpulan yang tepat adalah...
- Semua anggota pasukan katak dapat berenang.
 - Sebagian pelaut tidak dapat berenang.
 - Semua anggota pasukan katak bukan pelaut.
 - Semua pelaut adalah anggota pasukan katak.
 - Sebagian anggota pasukan katak tidak dapat berenang.
12. Tidak ada badak kecuali bercula 1 dan bercula 2.

Darmawan melihat binatang bukan bercula 1, bukan bercula 2.

Simpulan yang tepat tentang binatang yang dilihat oleh Darmawan adalah...

- A. badak bercula 1
- B. badak bercula 2
- C. binatang bukan badak
- D. badak tidak bercula 1
- E. badak tidak bercula 1 dan tidak bercula 2

13. Guru berstatus PNS wajib mengikuti sertifikasi.

Ibu Erika tidak berstatus PNS.

Simpulan yang tepat tentang Ibu Erika adalah...

- A. tidak mengikuti sertifikasi dalam PNS
- B. tidak mengikuti sertifikasi dan PNS
- C. bukan berstatus PNS yang mengikuti sertifikasi
- D. berstatus PNS yang mengikuti sertifikasi
- E. telah mengikuti sertifikasi dalam PNS

14. Semua durian memiliki duri pada kulitnya.

Sebagian durian berukuran besar.

Simpulan yang tepat adalah...

- A. Sebagian durian tidak memiliki duri pada kulitnya dan berukuran besar.
- B. Sebagian durian tidak memiliki duri pada kulitnya dan berukuran kecil.

C. Semua durian memiliki duri pada kulitnya dan berukuran besar.

D. Semua durian tidak memiliki duri pada kulitnya dan berukuran besar.

E. Sebagian durian memiliki duri pada kulitnya dan berukuran besar.

15. Semua pesawat terbang memiliki roda.

Sebagian pesawat terbang bermesin ganda.

Simpulan yang tepat adalah...

- A. Semua pesawat terbang yang bermesin ganda dan memiliki roda.
- B. Semua pesawat terbang bermesin tunggal dan memiliki roda.
- C. Sebagian pesawat terbang bermesin ganda dan tidak memiliki roda.
- D. Sebagian pesawat terbang tidak bermesin ganda dan memiliki roda.
- E. Semua pesawat terbang yang memiliki roda dan bermesin ganda.

16. Semua siswa kelas F dapat berbahasa Inggris.

Semua siswa kelas F yang menduduki ranking 10 besar juga dapat berbahasa Belanda.

Simpulan yang tepat tentang semua siswa kelas F adalah...

- A. yang dapat berbahasa Belanda, menduduki ranking 10 besar dan tidak dapat berbahasa Inggris

- B. yang dapat berbahasa Belanda, tidak menduduki ranking 10 besar dan dapat berbahasa Inggris
- C. yang tidak dapat berbahasa Belanda, tidak menduduki ranking 10 besar dan dapat berbahasa Inggris
- D. yang tidak dapat berbahasa Belanda, menduduki ranking 10 besar dan dapat berbahasa Inggris
- E. yang tidak dapat berbahasa Belanda, tidak menduduki ranking 10 besar dan tidak dapat berbahasa Inggris

17. Lampu neon 20 watt lebih terang daripada bola lampu 20 watt.

Lampu yang lebih terang pasti lebih tahan lama dan lebih mahal harganya.

Simpulan yang tepat tentang bola lampu 20 watt adalah...

- A. lebih tahan lama dan lebih mahal daripada lampu neon 20 watt
- B. tidak lebih tahan lama dan lebih mahal daripada lampu neon 20 watt
- C. sama tahan lama dan sama mahalannya dengan lampu neon 20 watt
- D. lebih tahan lama dan tidak lebih mahal daripada lampu neon 20 watt
- E. tidak lebih tahan lama dan tidak lebih mahal daripada lampu neon 20 watt

18. Metode penanganan kanker semakin modern. Sejak pertama diketahui

mengidap kanker, pada tahun 1950-an, hanya 60% penderita kanker yang hidup selama 5 tahun, sedangkan tahun 1980-an, 65% penderita kanker hidup selama 8 tahun.

Simpulan yang tepat adalah...

- A. Tahun 1950-an, hanya 60% penderita kanker yang ditangani, sedangkan tahun 1980-an persentase penderita kanker yang ditangani lebih tinggi.
- B. Tahun 1980-an, 35% penderita kanker tidak ditangani seperti penderita pada tahun 1950-an.
- C. Tahun 1950-an tidak pernah dilakukan pendeteksian terhadap pengidap kanker secara lebih awal seperti pada tahun 1980-an.
- D. Tahun 1980-an lebih banyak penderita kanker yang ditangani lebih baik daripada penderita kanker pada tahun 1950-an.
- E. Tahun 1980-an jumlah penderita kanker lebih banyak daripada jumlah penderita kanker tahun 1950-an.

19. Tidak ada bunga mawar kecuali berwarna putih dan merah.

Samuel menerima bunga bukan putih, bukan merah.

Simpulan yang tepat tentang bunga yang diterima Samuel adalah...

- A. bunga mawar putih
- B. bunga mawar merah
- C. bunga bukan mawar
- D. bunga bukan mawar putih
- E. bunga mawar bukan merah dan bukan putih

20. Semua pelaut adalah perenang.
Sebagian perenang bukan penyelam.
Simpulan yang tepat adalah...
- Semua penyelam adalah pelaut.
 - Semua penyelam bukan pelaut.
 - Sebagian penyelam bukan perenang.
 - Semua pelaut adalah penyelam.
 - Sebagian pelaut bukan penyelam.
21. Peserta SNMPTN 2009 mengikut Test Potensi Akademik (TPA).
Made tidak lulus SNMPTN 2009.
Simpulan yang tepat tentang Made adalah...
- tidak mengikuti TPA dalam SNMPTN 2009
 - tidak mengikuti SNMPTN 2009 dan TPA
 - bukan peserta SNMPTN 2009 yang mengikuti TPA
 - peserta SNPTN 2009 yang mengikuti tes bukan TPA
 - telah mengikuti TPA dalam SNMPTN 2009
22. Buku-buku yang diletakkan dalam rak berkode S diterbitkan oleh penerbit A. Buku-buku yang diletakkan di rak S harganya murah. Tidak ada satupun buku Matematika di rak itu.
Simpulan yang tepat tentang penerbit A adalah...
- tidak menerbitkan buku yang murah
 - tidak menerbitkan buku yang tidak murah
 - menerbitkan buku yang tidak murah
 - menerbitkan buku Matematika yang murah
 - menerbitkan buku Matematika yang tidak murah
23. Para pedagang di Kampung Melayu memiliki pinjaman uang di Bank Rakyat.
Bank Rakyat mensyaratkan jaminan dari orang yang meminjam uang.
Simpulan yang tepat adalah...
- Para pedagang berhutang di Bank Rakyat yang berasal dari Kampung Melayu.
 - Para pedagang di Kampung Melayu tidak memiliki jaminan di Bank Rakyat.
 - Para pedagang di Kampung Melayu memiliki jaminan di Bank Rakyat.
 - Para pedagang yang memiliki jaminan berhutang di Bank Rakyat.
 - Para pedagang di Kampung Melayu berhutang di bukan Bank Rakyat.
24. Semua calon mahasiswa menempuh tes psikologi.
Sebagian calon mahasiswa memiliki skor TOEFL di atas 450.
Simpulan yang tepat adalah...
- Sebagian calon mahasiswa yang tidak memiliki skor TOEFL menempuh tes psikologi.
 - Semua calon mahasiswa yang memiliki skor TOEFL tidak menempuh tes psikologi.

- C. Semua calon mahasiswa yang tidak memiliki skor TOEFL tidak menempuh tes psikologi.
- D. Sebagian calon mahasiswa yang memiliki skor TOEFL tidak menempuh tes psikologi.
- E. Semua calon mahasiswa yang menempuh tes psikologi tidak memiliki skor TOEFL.
- 25.** Hewan yang termasuk mamalia berkembang biak dengan cara beranak.
Buaya berkembang biak dengan cara bertelur.
Simpulan yang tepat tentang buaya adalah...
- A. termasuk hewan mamalia
- B. termasuk hewan yang beranak dan bertelur
- C. berkembang biak dengan cara mamalia
- D. termasuk hewan bukan mamalia
- E. termasuk hewan mamalia yang bertelur
- 26.** Semua guru dan dosen menggunakan buku sebagai sumber bahan untuk mengajar.
Sebagian guru dan dosen menggunakan internet sebagai sumber bahan untuk mengajar.
Simpulan yang tepat dari pernyataan di atas adalah sebagai sumber bahan untuk mengajar...
- A. Semua guru dan dosen menggunakan buku tentang internet.
- B. Semua guru dan dosen menggunakan bukan buku dan bukan internet.
- C. Sebagian guru dan dosen menggunakan buku dan internet.
- D. Sebagian guru dan dosen menggunakan buku tentang internet.
- E. Semua guru dan dosen menggunakan buku dan internet.
- 27.** Semua kerabat dekat menghadiri pesta keluarga.
Asep menghadiri pesta keluarga, sedangkan Dadang tidak hadir.
Simpulan yang tepat adalah...
- A. Asep bukan kerabat dekat keluarga.
- B. Dadang bukan kerabat dekat keluarga.
- C. Dadang dan Asep kerabat dekat keluarga.
- D. Dadang dan Asep bukan kerabat dekat keluarga.
- E. Dadang dan Asep dua orang kerabat dekat.
- 28.** Jika laut pasang, dermaga tenggelam.
Jika dermaga tenggelam, sebagian kapal tidak dapat merapat.
Simpulan yang tepat adalah...
- A. Jika laut pasang, semua kapal tidak dapat merapat.
- B. Jika laut pasang, semua kapal dapat merapat.
- C. Jika laut tidak pasang, semua kapal dapat merapat.
- D. Jika laut tidak pasang, sebagian kapal dapat merapat.
- E. Jika laut tidak pasang, semua kapal tidak dapat merapat.

29. Pada hari libur nasional, tidak ada kegiatan belajar mengajar kecuali kegiatan ekstrakurikuler.
Hari Kamis adalah salah satu dari hari libur nasional.
Simpulan yang tepat adalah...
- Kegiatan belajar mengajar dilaksanakan, meskipun di hari Kamis.
 - Kegiatan belajar mengajar dilaksanakan, kecuali pada hari Kamis.
 - Kegiatan belajar mengajar tidak dilaksanakan, kecuali hari Kamis.
 - Kegiatan belajar mengajar dan ekstrakurikuler dilaksanakan pada hari Kamis.
 - Kegiatan belajar mengajar dan ekstrakurikuler tidak dilaksanakan pada hari Kamis.
30. Semua mesin memiliki katup.
Sebagian mesin berukuran kecil.
Simpulan yang tepat adalah...
- Semua mesin berukuran kecil dan memiliki katup.
 - Semua mesin berukuran tidak kecil dan memiliki katup.
 - Semua mesin berukuran kecil dan tidak memiliki katup.
 - Sebagian mesin berukuran tidak kecil dan memiliki katup.
 - Sebagian mesin berukuran kecil dan tidak memiliki katup.
31. Ia berhak memilih, karena semua WNI berusia 17 ke atas berhak memilih. Jadi,...
- Ia berusia 17 ke atas.
 - Ia adalah WNI berusia 17 ke atas.
 - Semua WNI berhak memilih.
 - Sebagian WNI berhak memilih.
 - Sebagian WNI tidak berhak memilih.
32. Semua pelajar suka makan rujak.
Albert adalah seorang pelajar.
Jadi,...
- Sebagian pelajar suka rujak.
 - Semua pelajar tidak suka rujak.
 - Albert suka makan rujak.
 - Albert tidak suka makan rujak.
 - Albert adalah pelajar.
33. Semua makhluk hidup adalah fana.
Harimau adalah makhluk hidup.
- Makhluk hidup adalah fana.
 - Sebagian makhluk hidup adalah harimau.
 - Harimau adalah fana.
 - Semua makhluk hidup adalah harimau.
 - Harimau adalah tidak fana.
34. Adi adalah lulusan IPB. Semua lulusan IPB terampil. Jadi,...
- Adi lulusan IPB.
 - Semua lulusan IPB terampil.
 - Adi terampil.
 - Sebagian lulusan IPB terampil.
 - Tidak ada yang benar
35. Semua binatang menyusui berkaki empat.
Tak seekor burung pun berkaki empat.
Jadi,...
- Semua burung adalah binatang menyusui.
 - Tak seekor burung pun adalah binatang menyusui.
 - Sebagian burung adalah binatang menyusui.

- D. Tak seekor burung pun bukan binatang menyusui.
- E. Semua binatang menyusui adalah burung.
- 36.** Setiap orang yang curang dalam ujian adalah orang yang tidak percaya pada diri sendiri. Budi curang dalam ujian. Jadi,...
- A. Budi percaya pada diri sendiri.
- B. Setiap orang percaya diri sendiri.
- C. Budi tidak percaya pada diri sendiri.
- D. Budi curang dan tidak percaya diri.
- E. Beberapa orang tidak percaya diri.
- 37.** Andi tidak mungkin sekaligus berada di Jakarta dan Bogor. Andi berada di Bogor. Kesimpulan yang tepat adalah...
- A. Andi berada di Jakarta.
- B. Andi berada di Bandung.
- C. Andi berada di Bogor.
- D. Andi berada di Jakarta dan Bogor.
- E. Andi tidak berada di Jakarta.
- 38.** Semua akuntan pandai dalam akuntansi. Irham bukan seorang akuntan. Jadi,...
- A. Irham tidak pandai dalam akuntansi.
- B. Irham pandai dalam akuntansi.
- C. Ada akuntan yang tidak pandai dalam akuntansi.
- D. Beberapa akuntan tidak pandai akuntansi.
- E. Irham mungkin tidak pandai akuntansi.
- 39.** Jika binatang itu unta, binatang itu berkaki empat. Ternyata binatang itu berkaki dua. Dengan demikian,...
- A. Binatang itu ayam.
- B. Binatang itu pasti bukan unta.
- C. Binatang itu bukan unta.
- D. Binatang itu mungkin unta.
- E. Binatang itu tidak berkaki empat.
- 40.** Menyontek itu perbuatan tercela. Orang yang tercela harus dihukum. Danang pernah menyontek pada ujian semester yang lalu. Dengan demikian,...
- A. Danang belum tentu orang tercela.
- B. Danang harus dihukum.
- C. Danang adalah seorang penyontek.
- D. Hukuman itu mengubah orang tercela menjadi orang baik.
- E. Danang berjanji tidak akan menyontek lagi.
- 41.** Semua pemilik kendaraan harus memiliki surat ijin. Sementara sepeda termasuk kendaraan. Jadi,...
- A. Pemilik sepeda tidak perlu surat ijin.
- B. Pemilik sepeda boleh mempunyai surat ijin.
- C. Pemilik sepeda harus mempunyai surat ijin.
- D. Sebagian pemilik sepeda perlu membuat surat ijin.
- E. Tidak ada kesimpulan.

42. Matahari dan bintang adalah benda langit. Semua bintang bersinar. Matahari memancarkan sinar. Dengan demikian,...

- A. Matahari bukanlah bintang.
- B. Semua benda langit bersinar.
- C. Bintang adalah matahari.
- D. Matahari adalah benda langit yang bersinar.
- E. Bintang dan Matahari tidak memancarkan sinar.

43. Siswa yang pandai dalam matematika lebih mudah belajar bahasa. Orang yang tinggal di negara asing lebih lancar berbicara dalam bahasa yang dipakai di negara tersebut. Rianto lancar berbahasa Inggris.

Kesimpulan:...

- A. Mungkin Rianto tidak bisa berbicara.
- B. Mungkin Rianto pernah tinggal di luar negeri.
- C. Tidak mungkin Rianto pernah tinggal di luar negeri.
- D. Tidak mungkin Rianto pandai dalam matematika.
- E. Mungkin Rianto belajar matematika di luar negeri.

44. Semua mahasiswa yang selalu hadir dalam kuliah akan mempunyai pengetahuan yang cukup untuk lulus ujian.

Penegasan ini secara logis menyatakan...

A. Hampir tidak mungkin untuk lulus ujian jika seorang mahasiswa tidak menghadiri kuliah secara rutin.

B. Tingkat kehadiran kuliah rendah dan tingkat ketidakkulusan tinggi.

C. Mahasiswa yang lulus ujian adalah mahasiswa yang menghadiri kuliah secara rutin.

D. Untuk lulus ujian, mahasiswa tidak perlu melakukan tugas-tugas selain kuliah.

E. Untuk lulus ujian, mahasiswa tidak harus selalu hadir dalam kuliah.

45. Beberapa siswa pintar berbahasa Inggris. Semua siswa adalah manusia.

Kesimpulan yang dapat diambil dari pernyataan di atas adalah...

A. Semua siswa pintar berbahasa Inggris.

B. Beberapa siswa adalah manusia.

C. Semua manusia pintar berbahasa Inggris.

D. Semua manusia tidak pintar berbahasa Inggris.

E. Beberapa manusia pintar berbahasa Inggris.

Petunjuk A: Pilih satu jawaban yang paling tepat

1. Adi memberikan gajinya sebesar Rp75.000,00 kepada adiknya Nety yang merupakan $16\frac{2}{3}\%$ dari gaji bulanannya. Berapakah gaji bulanan Adi?
 - A. Rp45.000,00
 - B. Rp54.000,00
 - C. Rp445.000,00
 - D. Rp440.000,00
 - E. Rp450.000,00

2. Bibi membeli sebuah meja dengan harga Rp150.000,00. Kemudian dijual kembali dengan harga Rp135.000,00. Kerugian yang diderita oleh bibi adalah...

A. 5%	D. 20%
B. 10%	E. 25%
C. 15%	

3. Ibu Linda adalah seorang pedagang beras. Dia menjual beras dengan harga Rp90.000,00 dan mendapat keuntungan 20%. Modal yang dia keluarkan untuk membeli beras adalah...

A. Rp75.000,00	D. Rp85.000,00
B. Rp77.500,00	E. Rp90.000,00
C. Rp80.000,00	

4. Pak Hadi membeli sayur dengan harga Rp40.000,00 untuk dijual kembali. Jika ia memperoleh keuntungan 25%, maka harga jual sayur tersebut adalah...

A. Rp45.000,00	D. Rp60.000,00
B. Rp50.000,00	E. Rp65.000,00
C. Rp55.000,00	

5. Dedi mempunyai buah mangga seharga Rp10.000,00. Dia menjual kembali semua buah mangga dengan harga Rp12.000,00. Persentase keuntungannya adalah...

A. 5%	D. 20%
B. 10%	E. 25%
C. 15%	

6. Jika p lebih besar dari q . Berapa selisih antara 5% dari p dengan 4% dari q ?

A. $\frac{p-q}{100}$	D. $\frac{5p-4q}{100}$
B. $\frac{p+q}{100}$	E. $\frac{5p+4q}{100}$
C. $\frac{p \times q}{100}$	

7. 600% dari 0,25 adalah...

A. 15	D. 0,15
B. 1,5	E. 200
C. 150	

8. 8 adalah 5% dari...

A. 760	D. 16
B. 160	E. 1,6
C. 40	

9. 15% dari 5 adalah...
- A. 0,25 D. 7,5
B. 0,50 E. 75
C. 0,75
10. 2 adalah... persen dari 8?
- A. 16% D. 2,5%
B. 1,6% E. 0,25%
C. 25%
11. Perbandingan ukuran panjang dan lebar suatu persegi panjang adalah 3 : 5. Jika ukuran panjangnya 20 cm, berapakah luas persegi panjang tersebut?
- A. 12 cm² D. 120 cm²
B. 30 cm² E. 240 cm²
C. 60 cm²
12. Umur Andika 11 tahun 4 bulan dan umur adiknya 5 tahun 4 bulan. Perbandingan umur Andika dengan adiknya adalah...
- A. 17 : 11 D. 17 : 8
B. 13 : 7 E. 15 : 17
C. 17 : 9
13. Jumlah umur Hasan dan Fahri adalah 35 tahun. Jika umur Fahri 20 tahun, perbandingan umur Hasan dengan umur Fahri adalah...
- A. 3 : 4 D. 4 : 5
B. 4 : 3 E. 5 : 6
C. 3 : 5
14. Umur Sifa dengan Kakaknya 5 berbanding 9. Selisih umur mereka 20 tahun. Umur mereka masing-masing adalah...
- A. Umur Sifa 25 tahun dan umur kakaknya 35 tahun
B. Umur Sifa 25 tahun dan umur kakaknya 45 tahun
C. Umur Sifa 35 tahun dan umur kakaknya 45 tahun
D. Umur Sifa 40 tahun dan umur kakaknya 50 tahun
E. Umur Sifa 15 tahun dan umur kakaknya 25 tahun
15. Jumlah siswa dalam satu kelas ada 50 orang. Jika 18 orang diantaranya adalah laki-laki, maka perbandingan jumlah siswa perempuan dengan jumlah siswa laki-laki adalah...
- A. 4 : 3 D. 16 : 9
B. 3 : 4 E. 5 : 3
C. 9 : 16
16. Perbandingan luas tanah dan luas bangunan adalah 5 : 3. Luas tanah tersebut adalah 200 m². Luas bangunannya adalah...
- A. 120 m² D. 15 m²
B. 75 m² E. 10 m²
C. 25 m²
17. Perbandingan uang Abi, Bimo, dan Ciko adalah 3 : 4 : 5. Jika uang Ciko Rp25.000,00, maka jumlah uang mereka adalah...
- A. Rp30.000,00 D. Rp60.000,00
B. Rp40.000,00 E. Rp72.000,00
C. Rp50.000,00
18. Perbandingan berat Tono dan Tini adalah 7 : 9. Jika berat Tono 28 kg, berapakah berat Tini?
- A. 18 kg D. 36 kg
B. 24 kg E. 45 kg
C. 27 kg

19. Perbandingan umur Arif dan Diki adalah 2 : 3. Jika umur keduanya 20 tahun, berapakah umur masing-masing?
- A. Arif 8 tahun, Diki 12 tahun
 B. Arif 12 tahun, Diki 8 tahun
 C. Arif 6 tahun, Diki 14 tahun
 D. Arif 14 tahun, Diki 6 tahun
 E. Arif 5 tahun, Diki 15 tahun
20. Jumlah apel Nita $\frac{1}{3}$ bagian dari apel Dewi. Jika banyaknya apel Dewi 9 buah, maka banyaknya apel Nita adalah...
- A. 1
 B. 3
 C. 8
 D. 12
 E. 15
21. 40 pekerja bangunan dapat menyelesaikan pekerjaan dalam waktu 8 hari, jika ada 8 orang yang tidak masuk kerja, maka mereka dapat menyelesaikan pekerjaan dalam waktu...
- A. 10 hari
 B. 11 hari
 C. 12 hari
 D. 13 hari
 E. 15 hari
22. 12 orang dapat menyelesaikan pekerjaan dalam waktu 6 hari. Waktu yang diperlukan oleh 4 orang untuk menyelesaikan pekerjaan yang sama adalah...
- A. 8 hari
 B. 16 hari
 C. 18 hari
 D. 21 hari
 E. 24 hari
23. Sebuah kendaraan dapat menempuh jarak 120 km dalam waktu 3 jam. Dengan kecepatan yang sama, berapakah jarak yang bisa ditempuh kendaraan tersebut dalam waktu 4,5 jam?
- A. 90 km
 B. 130 km
 C. 150 km
 D. 160 km
 E. 180 km
24. Jika harga 12 buah mangga Rp60.000,00, berapakah harga 9 buah mangga?
- A. Rp120.000,00
 B. Rp65.000,00
 C. Rp45.000,00
 D. Rp30.000,00
 E. Rp15.000,00
25. Tinggi Amir dan Bayu berturut-turut adalah 160 cm dan 175 cm. Jika panjang bayangan Amir 40 cm, berapakah panjang bayangan Bayu?
- A. 45 cm
 B. 44,75 cm
 C. 43,75 cm
 D. 43,25 cm
 E. 42,25 cm
26. Jika harga x apel adalah a rupiah, berapa banyak apel yang dapat dibeli dengan b rupiah?
- A. $\frac{b}{x}$
 B. $\frac{x}{ab}$
 C. $\frac{xb}{a}$
 D. $\frac{b}{a}$
 E. $\frac{xa}{b}$
27. Berapa kilogram berat 5 ons jika 1 ons sama $\frac{1}{10}$ kg?
- A. $\frac{1}{5}$
 B. $\frac{1}{2}$
 C. $\frac{1}{10}$
 D. $\frac{2}{5}$
 E. $\frac{1}{4}$
28. Jika $\frac{5}{6}a = \frac{4}{9}b$, sehingga nilai $\frac{a}{b}$ adalah...

- A. $\frac{10}{7}$ D. $\frac{15}{8}$
 B. $\frac{7}{10}$ E. $\frac{7}{15}$
 C. $\frac{8}{15}$

29. Tentukanlah nilai q jika $\frac{5}{4} = \frac{15}{q}$.
 A. 15 D. 9
 B. 12 E. 8
 C. 10

30. Jika $12p = 18q$, sehingga nilai $\frac{p}{q}$ adalah...

- A. $\frac{3}{4}$ D. $\frac{2}{3}$
 B. $\frac{4}{3}$ E. $\frac{3}{2}$
 C. $\frac{5}{7}$

31. Rata-rata nilai ulangan matematika 9 siswa adalah 7. Jika nilai ulangan matematika Arif digabung dengan nilai kesembilan anak tersebut, maka rata-ratanya menjadi 7,2. Nilai ulangan Arif adalah...
 A. 6 D. 9
 B. 7 E. 10
 C. 8

32. Dalam perjalanan dari kota A ke kota B sebuah mobil menempuh jarak 70 km pada jam pertama. Pada jam kedua jarak yang ditempuh hanya 45 km karena jalanan rusak. Pada jam ketiga, jarak yang ditempuh 65 km. Kecepatan rata-rata kendaraan tersebut adalah...

- A. 70 km/jam D. 50 km/jam
 B. 60 km/jam E. 45 km/jam
 C. 55 km/jam

33. Keluarga Pak Dodi terdiri dari Bapak, Ibu, dan dua anak yang sudah bekerja dengan penghasilan berturut-turut Rp200.000,00, Rp150.000,00, Rp125.000,00, dan Rp150.000,00. Tentukan penghasilan rata-rata keluarga Pak Dodi!
 A. Rp156.250,00
 B. Rp165.250,00
 C. Rp176.250,00
 D. Rp179.250,00
 E. Rp190.250,00

34. Data berat badan siswa

Banyak murid	6	2	16	5	3
Berat dalam kg	28	29	30	31	33

- Berat badan rata-rata siswa di atas adalah...
 A. 29 kg D. 33 kg
 B. 30 kg E. 35 kg
 C. 31 kg

35. Berapakah rata-rata dari $\frac{1}{10}$, $\frac{1}{100}$, $\frac{1}{1.000}$, $\frac{1}{10.000}$ dengan angka 3 di belakang koma?
 A. 0,027 D. 0,037
 B. 0,028 E. 0,038
 C. 0,029
36. Berapakah rata-rata dari $A - 3$, $-A$, $A + 4$, dan $3A$?

- A. $\frac{4A + 1}{4}$ D. $\frac{4A + 1}{A}$
 B. $\frac{4A + 4}{4}$ E. $\frac{5A + 1}{4}$
 C. $\frac{4A + 1}{4}$

37. Rata-rata dari data: 3,4; 5,6; 3,7; 5,3 adalah...

- A. 6,3 D. 3,8
 B. 5,1 E. 2,9
 C. 4,5

38. Rata-rata dari data berikut:

$2\frac{1}{3}, 3\frac{1}{2}, 1\frac{1}{2}, 2\frac{1}{4}$ adalah...

- A. $3\frac{29}{48}$ D. $2\frac{29}{48}$
 B. $3\frac{19}{48}$ E. $2\frac{19}{48}$
 C. $3\frac{39}{48}$

39. Rata-rata dari data berikut:

$\frac{1}{2}, \frac{1}{3}, \frac{1}{4}, \frac{1}{5}, \frac{1}{6}$ adalah...

- A. 0,96 D. 0,39
 B. 0,75 E. 0,29
 C. 0,05

40. Daftar perolehan nilai 10 anak adalah 6, 6, 5, 7, 7, 7, 8, 8, 5, 6. Nilai rata-rata ulangan itu adalah...

- A. 6,5 D. 5
 B. 6 E. 4,5
 C. 5,5

41. Anton dan Ahmad pergi dari Semarang menuju Surabaya menggunakan

sepeda motor. Anton berangkat pukul 07.00 dengan kecepatan 40 km/jam. Sedangkan Ahmad berangkat pukul 07.30 dengan kecepatan 50 km/jam. Pada pukul berapakah Ahmad berhasil menyusul Anton?

- A. 09.30 D. 10.15
 B. 09.45 E. 10.30
 C. 10.00

42. Arif dan Dedi pergi mengendarai motor dari Jakarta menuju ke Purwokerto. Arif berangkat terlebih dahulu pukul 09.00 dengan kecepatan rata-rata 50 km/jam. Dedi menyusul berangkat pukul 09.30 dengan kecepatan rata-rata 60 km/jam. Pada pukul berapa Dedi menyusul Arif?

- A. 12.30 D. 11.00
 B. 12.00 E. 10.30
 C. 11.30

43. Pada pukul 08.30, Johan berangkat dari kota A menuju kota B dengan kecepatan 60 km/jam. Sampai di kota B pukul 10.00. Jarak kota A dan B adalah...

- A. 60 km D. 90 km
 B. 70 km E. 100 km
 C. 80 km

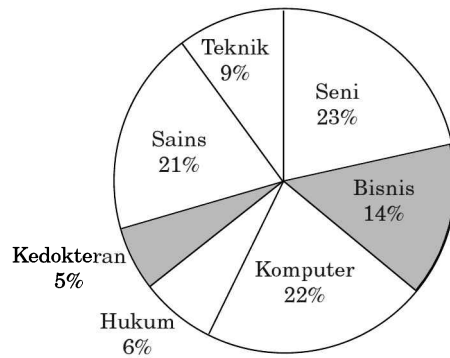
44. Ayah bepergian menggunakan bis menempuh jarak 120 km dalam waktu 3 jam. Jika bus menempuh jarak 160 km, maka waktu yang dibutuhkan adalah... jam.

- A. 2 jam D. 5 jam
 B. 3 jam E. 6 jam
 C. 4 jam

45. Retno berangkat dari Yogya menuju Solo pukul 09.00 dan sampai di Solo pukul 11.00. Jika jarak Yogya—Solo 60 km maka kecepatan Retno adalah...
- A. 25 km/jam D. 60 km/jam
B. 30 km/jam E. 75 km/jam
C. 45 km/jam
46. Sebuah mobil melaju dengan kecepatan 80 km/jam. Setelah 1 jam mobil itu mengurangi kecepatan menjadi 60 km/jam. Jarak yang ditempuh mobil itu selama 3 jam adalah...
- A. 200 km D. 300 km
B. 220 km E. 320 km
C. 240 km
47. Fatimah berangkat sekolah menggunakan sepeda dengan kecepatan 10 km/jam. Jika jarak rumahnya ke sekolah 5 km dan Fatimah berangkat pukul 06.00 maka dia sampai di sekolah pukul...
- A. 06.05 D. 06.45
B. 06.15 E. 06.55
C. 06.30
48. Andi mengendarai sepeda motor selama 2 jam dan menempuh jarak 110 km. Kecepatan Andi adalah...
- A. 40 km/jam D. 110 km/jam
B. 55 km/jam E. 220 km/jam
C. 90 km/jam
49. Jarak antara kota A dan kota B adalah 360 km. Husen dapat menempuh jarak tersebut dalam waktu 4 jam 30 menit. Berapakah kecepatan rata-rata tiap jam?

- A. 80 km/jam D. 120 km/jam
B. 84 km/jam E. 135 km/jam
C. 90 km/jam

50. Sebuah mobil berangkat dari kota P ke kota Q dengan kecepatan rata-rata 60 km/jam dan ditempuh dalam waktu 3,5 jam. Jarak kedua kota itu adalah...
- A. 20 km D. 210 km
B. 180 km E. 240 km
C. 200 km



Jumlah mahasiswa Fakultas Seni = 1.049

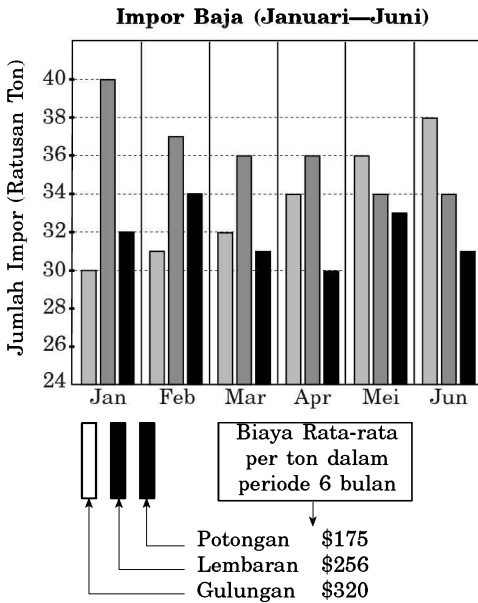
Berdasarkan grafik lingkaran di atas, jawablah pertanyaan nomor 51—53!

51. Jika enam persen dari mahasiswa Fakultas Sains berasal dari Asia. Berapa jumlah mahasiswa asal Asia yang menjadi mahasiswa Fakultas Sains?
- A. 48 D. 57
B. 66 E. 43
C. 120
52. Berapa jumlah mahasiswa di Universitas tersebut?

- A. 4.650 D. 4.450
 B. 4.560 E. 4.460
 C. 4.640

53. Berapa jumlah mahasiswa di Fakultas Teknik?

- A. 420 D. 440
 B. 410 E. 400
 C. 390



Grafik tersebut menunjukkan import dari 3 jenis baja selama 6 bulan terakhir.

Berdasarkan grafik batang di atas, jawablah pertanyaan nomor 54—57!

54. Berapa selisih (dalam ton) antara baja gulungan dengan baja lembaran dalam 3 bulan pertama?

- A. 10 ton D. 19 ton
 B. 16 ton E. 20 ton
 C. 18 ton

55. Berapa persenkah impor baja potongan selama periode 6 bulan?

- A. 37,5% D. 31,3%
 B. 35,2% E. 38,3%
 C. 36,1%

56. Berapakah biaya impor baja lembaran selama 6 bulan?

- A. \$56.750 D. \$42.370
 B. \$75.300 E. \$44.750
 C. \$55.550

57. Berapakah kira-kira perbandingan antara impor baja lembaran dengan baja gulungan pada tiga bulan pertama?

- A. 11 : 9 D. 3 : 8
 B. 8 : 9 E. 7 : 4
 C. 7 : 11

Penjualan Mobil Sedan 2.000 cc di Enam Kota Besar di Indonesia

Wilayah	Jan	Feb	Mar	Apr	Mei	Jun	Jumlah
Jakarta	34	47	45	54	56	60	296
Bandung	40	44	36	47	47	46	260
Semarang	37	32	32	32	34	33	200
Surabaya	14	14	14	16	17	14	89
Medan	29	29	28	31	29	31	177
Makassar	22	24	24	26	25	23	144
Jumlah	176	190	179	206	208	207	1.166

Berdasarkan tabel di atas, jawablah pertanyaan nomor 58—60!

58. Berapa persenkah penjualan kota dengan penjualan terbesar di bulan Februari?

- A. 24,7% D. 51,1%
 B. 23,1% E. 15,1%
 C. 36,5%

59. Berapakah rata-rata jumlah mobil yang terjual di Makassar dalam caturwulan pertama?
- A. 22 unit D. 25 unit
B. 23 unit E. 26 unit
C. 24 unit
60. Berapa persenkah total penjualan mobil di tiga kota dengan penjualan terkecil?
- A. 37,1% D. 36,6%
B. 14,8% E. 35,2%
C. 40,0%
61. Pada sebuah perusahaan, 46% pegawai adalah laki-laki. Jika 60% pegawai sudah menikah dan 70% dari pegawai yang sudah menikah adalah pegawai laki-laki, berapakah persentase pegawai belum nikah adalah pegawai perempuan?
- A. 90% D. 50%
B. 87,5% E. 45,5%
C. 66,7%
62. Rumah Andi berjarak 1,5 km dari kantornya. Bila berjalan rata-rata 4,5 km per jam, berapa jam waktu yang dibutuhkannya untuk berjalan pulang pergi selama 1 minggu bila ia bekerja dari senin sampai sabtu dan tidak pernah makan siang di rumah pada hari kerja?
- A. 4 D. 7
B. 5 E. 8
C. 6
63. Seorang buruh pabrik bekerja mulai pukul 08.00 dan berhenti pukul 19.30 dengan beristirahat siang selama 1/2 jam. Batas jam kerja efektif adalah 8 jam, dan selebihnya dianggap sebagai lembur, berapa jamkah kelebihan waktu kerja buruh tersebut?
- A. 5 D. 2
B. 4 E. 1
C. 3
64. Ahmad, Bahtiar, Chandra, dan Doni membagi 144 buah jeruk. Ahmad menerima 10 buah lebih banyak daripada yang diterima Bahtiar, 26 buah lebih banyak daripada yang diterima Doni. Jadi, banyaknya jeruk yang diterima Ahmad adalah...
- A. 73 D. 43
B. 63 E. 33
C. 53
65. Pada perjalanan tertentu, jika suatu kereta melaju dengan kecepatan rata-rata 50 km per jam, maka kereta tersebut akan terlambat 2 jam sampai tujuan. Jika kereta melaju dengan kecepatan rata-rata 70 km per jam, maka sampai ditujuan 2 jam lebih cepat, berapakah jarak perjalanan tersebut?
- A. Kurang dari 80 km
B. Antara 80—100 km
C. Antara 100—120 km
D. Antara 120—140 km
E. Lebih dari 140 km
66. Pada suatu perusahaan, setiap x orang dapat menghasilkan y produk setiap z menit. Jika setiap orang bekerja tanpa istirahat, berapa jam diperlukan untuk menghasilkan 100.000 produk?
- A. $\frac{100.000z}{60xy}$ D. $\frac{60xy}{100.000xz}$

B. $\frac{100.000x}{60yz}$ E. $\frac{6xy}{100z}$

C. $\frac{100.000xy}{60z}$

67. Sebuah truk harus mengangkut 9,5 ton pasir dari sebuah sungai ke lokasi proyek. Apabila truk tersebut hanya mampu mengangkut 2,25 ton pada setiap kali angkut, berapa kali perjalanan yang harus dilakukan oleh sopir truk untuk mengangkut seluruh pasir tersebut?

- A. 3 D. 6
 B. 4 E. 7
 C. 5

68. Pintu air di suatu daerah mempunyai 927 cabang saluran yang disalurkan ke rumah-rumah tangga. Dalam satu minggu digunakan 88.065 liter air, berapa literkah rata-rata air yang digunakan masing-masing rumah dalam satu minggu?

- A. 90 D. 105
 B. 95 E. 110
 C. 100

69. Suatu seri huruf terdiri dari:
 C B A D E F I H G J K L O...
 Huruf selanjutnya adalah...

- A. M N D. M O
 B. N M E. O P
 C. O M

70. $P - Q - 9 - 16 - 25 - 36 - 49$

- A. 0 dan 1 D. 3 dan 6
 B. 1 dan 4 E. 4 dan 5
 C. 2 dan 5

71. Data:

Tanggal hari ini : 17 - 06 - 2009

Tanggal lahir : 25 - 11 - 1967

Berdasarkan data di atas, usia orang tersebut adalah...

- A. 41 tahun, 6 bulan, 22 hari
 B. 42 tahun, 8 bulan, 22 hari
 C. 41 tahun, 9 bulan, 2 hari
 D. 41 tahun, 6 bulan, 23 hari
 E. 42 tahun, 5 bulan, 22 hari

72. Data:

3 jam, 35 menit, 25 detik

4 jam, 45 menit, 35 detik

Jumlah waktu pada data di atas adalah...

- A. 8 jam, 21 menit, 0 detik
 B. 8 jam, 11 menit, 0 detik
 C. 8 jam, 1 menit, 0 detik
 D. 8 jam, 20 menit, 0 detik
 E. 8 jam, 10 menit, 0 detik

73. $\frac{q}{12,5\%} = \frac{32}{q}$

Nilai q pada persamaan di atas adalah...

- A. 1 D. 6
 B. 2 E. 8
 C. 4

74. $\frac{8}{p} = \frac{p}{12,5}$

Nilai p pada persamaan di atas adalah...

- A. 100 D. 10
 B. 64 E. 8
 C. 16

75. $6M5$

$$\frac{7}{4.445} \times$$

Nilai M pada perkalian di atas adalah...

- A. 3 D. 6
B. 4 E. 7
C. 5

76. $62N$

$$\frac{N}{3.125} \times$$

Nilai N pada perkalian di atas adalah...

- A. 4 D. 8
B. 5 E. 9
C. 7

77. Jika A bilangan yang menyatakan

$33\frac{1}{3}\%$ dari 18; dan B bilangan yang

menyatakan $\frac{1}{3}$ dari 19, maka...

- A. $A = B$ D. $A = B$
B. $A = 3B$ E. $A < B$
C. $A > B$

78. Jika P bilangan yang menyatakan 0,573% dari 6,54 dan Q bilangan yang menyatakan 6,54% dari 0,573, maka...

- A. $P = Q$ D. $P \neq Q$
B. $P < Q$ E. $P = Q + 0,5$
C. $P > Q$

79. 2, 4, 10, 11, 22,...

Bilangan yang tepat untuk mengisi titik-titik pada deret tersebut di atas adalah...

- A. 55 D. 32
B. 44 E. 26
C. 33

80. 3, 4, 7, 11, 18, 29, 47,...

Bilangan yang tepat untuk mengisi titik-titik pada deret tersebut di atas adalah...

- A. 96 D. 58
B. 94 E. 55
C. 76

81. Sebuah perusahaan mengurangi jam kerja pegawainya dari 40 jam per minggu menjadi 36 jam per minggu tanpa mengurangi gaji. Jika seorang pegawai tadinya dibayar Rp90.000,00 per jam, berapa rupiah gaji per jamnya sekarang?

- A. Rp130.000,00 D. Rp100.000,00
B. Rp120.000,00 E. Rp90.000,00
C. Rp110.000,00

82. Jika $(x - y)^2 = 12$ dan $xy = 1$, maka $x^2 + y^2 = \dots$

- A. 14 D. 11
B. 13 E. 10
C. 12

83. Jika seluruh jumlah b buku dapat dibeli dengan harga d rupiah, berapa banyak buku yang dapat dibeli dengan m rupiah?

- A. $\frac{bm}{d}$ D. $\frac{b ? m}{d}$
B. $\frac{bd}{m}$ E. $\frac{b ? d}{m}$
C. $\frac{d}{bm}$

Petunjuk A: Pilih satu jawaban yang paling tepat

Soal nomor 1— 4 didasarkan pada bacaan berikut ini!

Pada suatu perguruan tinggi, setiap mahasiswa diharuskan untuk menjadwalkan 8 mata kuliah, yaitu F, G, H, J, K, L, M, dan N. Seluruh mahasiswa mengambil satu mata kuliah secara berurutan setiap semesternya dan tidak ada mata kuliah yang diulang. Jadwal dari kedelapan mata kuliah tersebut dibatasi oleh hal-hal berikut ini :

- N selalu diambil di semester pertama.
- F selalu diambil segera setelah mata kuliah G diambil.
- H harus diambil sebelum mata kuliah F.
- J dan M harus dipisahkan oleh dua semester yang berurutan.

1. Apabila J diambil pada semester 4, maka G harus diambil pada semester...

- | | |
|------|------|
| A. 2 | D. 6 |
| B. 3 | E. 7 |
| C. 5 | |

2. Semester yang dapat digunakan oleh mahasiswa untuk mengambil mata kuliah F adalah semester...

- | | |
|------|------|
| A. 5 | D. 2 |
| B. 4 | E. 1 |
| C. 3 | |

3. H dapat diambil pada setiap semester berikut ini, *kecuali*...

- | | |
|------|------|
| A. 2 | D. 6 |
| B. 3 | E. 8 |
| C. 4 | |

4. Urutan-urutan jadwal berikut ini yang memenuhi persyaratan-persyaratan di atas untuk mahasiswa semester 2 hingga semester 8 adalah...

- | |
|------------------------|
| A. J, H, G, F, M, K, L |
| B. G, J, F, H, M, K, L |
| C. M, H, L, J, G, F, K |
| D. M, K, L, J, G, F, H |
| E. F, G, H, J, K, L, M |

Soal nomor 5—7 didasarkan pada bacaan berikut ini.

Jono, Kasminto, dan Lanang menaiki bus yang berhenti di enam tempat yang berbeda, yaitu A, B, C, D, E, dan F. Masing-masing orang turun di tempat yang berbeda dan tidak naik bus itu kembali. Informasi lainnya yang berkaitan dengan aktivitas ini adalah sebagai berikut.

- Apabila ada turun di C, maka tidak ada yang turun di E.
- Apabila ada yang turun di B,

maka tidak ada turun di D.

- Satu di antara mereka turun di A.
- Kasminto tidak turun di F.
- Lanang tidak turun di B atau pun di F.

5. Apabila tidak ada seorang pun yang turun di C atau E, maka dari pernyataan berikut ini manakah yang benar?
- Lanang turun di B.
 - Kasminto turun di B.
 - Kasminto turun di A.
 - Lanang turun di D.
 - Jono turun di F.
6. Apabila Jono turun di B, maka Lanang mungkin akan turun di...
- B
 - C
 - D
 - E
 - F
7. Baik Jono, Kasminto, maupun Lanang masing-masing dapat turun di...
- A, B, E
 - A, B, D
 - C, A, E
 - D, F, A
 - A, C, E
8. Dalam sebuah koran diberitakan bahwa beberapa hari yang lalu lima ratusan buruh berunjuk rasa di depan gedung DPR/MPR menuntut perbaikan upah. Jika berita benar, manakah di antara yang berikut yang paling sesuai?
- Setiap kali menginginkan kenaikan upah, buruh berunjuk rasa di depan gedung DPR/MPR.
 - Hanya dengan berunjuk rasa upah akan naik.
 - Buruh berjumlah 520 orang melakukan unjuk rasa di depan gedung DPR/MPR.
 - Satu-satunya tempat berunjuk rasa bagi buruh agar upah naik adalah di sekitar gedung DPR/MPR.
 - Anggota DPR/MPR bertugas membela kepentingan buruh untuk menaikkan upah buruh.
9. Baru-baru ini dikabarkan bahwa krisis yang terjadi menyebabkan jumlah penjualan mobil sedan tahun ini turun sebanyak 10% dari jumlah tahun sebelumnya, sedangkan penjualan minibus turun 85 unit. Ini berarti...
- Jika penjualan mobil sedan turun 100 unit penjualan mobil minibus turun 98 unit.
 - Tahun ini jumlah mobil sedan yang terjual lebih sedikit dari pada mobil minibus.
 - Untuk dua tahun terakhir, jumlah penjualan mobil sedan lebih besar daripada minibus.
 - Jika penjualan mobil sedan tahun lalu 200 unit, maka jumlah penurunan penjualan mobil sedan lebih sedikit daripada minibus.
 - A, B, C, dan D tidak benar
10. Ada sebuah grup belajar yang terdiri dari dua siswi yaitu Anissa dan Cindy, dan dua siswa yaitu Bambang dan Doni. Salah seorang dari mereka pandai (ahli) matematika, dan yang lainnya pandai fisika, kimia, dan

bahasa Inggris. Pada suatu waktu mereka belajar bersama di rumah Anissa dan duduk di meja persegi empat, dengan susunan, sebagai berikut.

Ahli matematika duduk di sebelah kiri Anissa; ahli kimia duduk berseberangan dengan Bambang; Cindy dan Doni duduk berdekatan, sementara salah seorang siswi duduk di sebelah kiri ahli fisika.

Siapakah yang pandai atau ahli bahasa Inggris?

- A. Anissa
- B. Bambang
- C. Cindy
- D. Doni
- E. Tidak ada

Untuk soal 11–12, perhatikan kisah berikut.

Karina dan Tomi baru saja menikah. Sebelumnya mereka tinggal bersama orang tua masing-masing agar menghemat uang. Tomi bekerja di sebuah perusahaan dan berusaha sedapat mungkin untuk lembur guna menambah penghasilannya. Karina bekerja paruh waktu (*part time*) dan ikut kursus di bidang manajemen dan bisnis. Ia berharap setelah selesai kursus akan memiliki keahlian yang dapat digunakan untuk bekerja di tempat lain. Mereka berdua berusaha keras untuk dapat menabung agar terkumpul dana yang cukup untuk memiliki usaha sendiri yang diimpikan sejak lama.

11. Pencapaian tujuan mereka sangat ditentukan oleh...

- A. Banyak kerja lembur yang dilakukan oleh Tomi.
- B. Selesainya Karina mengikuti kursus manajemen dan bisnis.
- C. Keharmonisan keluarga Karina dan Tomi.
- D. Tersedianya modal untuk investasi.
- E. Kerja keras mereka berdua.

12. Apakah yang ingin dicapai Karina dan Tomi?

- A. Membuka uang tabungan yang banyak.
- B. Menemukan perusahaan tempat bekerja yang dapat memberikan gaji tinggi.
- C. Membuka usaha sendiri.
- D. Memiliki keahlian untuk bekerja di beberapa perusahaan sekaligus.
- E. Mempunyai tempat tinggal sendiri.

Soal nomor 13–15 didasarkan pada kutipan sebuah paragraf berita berikut!

Konsumen saat ini menunjukkan minat yang lebih besar terhadap produk-produk perawatan kecantikan. Tingkat penjualan produk ini meningkat lebih cepat daripada dua kategori utama produk kecantikan lainnya: kosmetika dan minyak wangi. Penyebab gejala ini adalah keinginan untuk tetap tampil muda dan alaminya, dengan kulit yang menarik.

13. Di antara yang berikut ini, manakah yang paling tepat?
- Jika penjualan kosmetika adalah Rp 7 milyar, maka penjualan produk perawatan kecantikan adalah Rp 8 milyar.
 - Penjualan minyak wangi naik dengan 10%, penjualan kosmetika naik 12%.
 - Penjualan produk perawatan kecantikan naik 15%, penjualan kosmetika naik 10%.
 - Jumlah konsumen kosmetika bertambah 10 juta orang, jumlah konsumen perawatan kecantikan bertambah 11 juta orang.
 - Jumlah penjualan produk perawatan kecantikan dan kosmetika sama besar.
14. Di antara berikut ini, manakah yang paling tepat?
- Terdapat dua kelompok produk kecantikan.
 - Terdapat sedikitnya tiga kelompok produk kecantikan.
 - Produk kecantikan terdiri dari kosmetika, minyak wangi, dan perawatan kulit.
 - Kategori kosmetika meliputi produk-produk yang digunakan untuk merawat kesehatan kulit.
 - Terdapat tiga produk kecantikan yang penjualannya menurun.
15. Manakah pernyataan ini yang bertentangan?
- Penjualan kosmetika mengalami peningkatan.
 - Penjualan produk pengharum mengalami peningkatan yang

lebih kecil daripada produk perawatan kecantikan.

- Kosmetika diyakini tidak membuat kulit wanita tampak lebih muda dan alami.
- Konsumen muda tidak lagi membeli minyak wangi.
- Konsumen ingin tetap tampak muda dengan membeli produk perawatan kecantikan.

Soal 16—20 didasarkan pada bacaan berikut!

Enam mahasiswa yaitu A, B, C, D, E, F, masing-masing akan presentasi di depan kelas. Masing-masing hanya akan maju ke depan kelas satu kali saja dan selesai dengan urutan sebagai berikut:

- C akan maju pada urutan keempat atau terakhir.
- D akan menjadi pembicara ketiga setelah A.
- B akan maju sebelum C.
- F akan maju sebelum D.

16. Apabila E maju persis sebelum C, ada beberapa urutan yang berbeda dari keenam presentasi tersebut dapat dibuat?

- 2
- 3
- 4
- 5
- 6

17. Apabila B maju pada urutan kelima, manakah dari pernyataan berikut ini yang benar?

- F maju pada urutan pertama.
- E maju pada urutan kedua.

- C. A maju pada urutan ketiga.
 D. D maju pada urutan keempat.
 E. A maju pada urutan keempat.
18. Manakah dari pernyataan berikut ini yang menunjukkan urutan yang lengkap dan akurat mengenai mahasiswa yang dapat maju segera setelah C maju?
- A. D
 B. E
 C. D, E, A
 D. A, B
 E. D, E, F
19. Manakah dari pernyataan berikut ini yang benar?
- A. D akan maju pada urutan ketiga.
 B. A akan maju pada urutan pertama.
 C. F akan maju pada urutan keenam.
 D. E akan maju pada urutan keenam.
 E. B akan maju pada urutan kedua.
20. Dari urutan berikut ini, manakah yang memenuhi persyaratan tersebut?
- A. E, F, A, C, B, D
 B. A, F, C, D, B, E
 C. E, F, A, B, D, C
 D. B, A, F, E, D, C
 E. C, A, B, D, E, F

Soal nomor 21—23 didasarkan pada bacaan berikut!

Popy, Qiqi, Ria, Sinta, dan Toton mengikuti sebuah tes hasil belajar dengan hasil sebagai berikut.

- (1) Nilai Ria lebih tinggi daripada nilai Popy dan dua kali nilai Qiqi.
- (2) Jika nilai Popy dan Qiqi ditambahkan hasilnya sama dengan nilai Sinta.
- (3) Nilai Popy lebih besar daripada nilai Toton, namun hanya sepertiga nilai Sinta.

21. Hubungan antara nilai Popy, Ria, dan Toton yang benar adalah...
- A. Nilai Toton lebih rendah daripada nilai Ria, sedangkan nilai Ria lebih rendah daripada nilai Popy.
 B. Nilai Ria lebih rendah daripada nilai Popy, sedangkan nilai Popy lebih rendah daripada nilai Toton.
 C. Nilai Toton lebih rendah daripada nilai Ria, sedangkan nilai Ria lebih rendah daripada nilai Toton.
 D. Nilai Ria lebih rendah daripada nilai Toton, sedangkan nilai Toton lebih rendah daripada nilai Popy.
 E. Nilai Toton lebih rendah daripada nilai Popy, sedangkan nilai Popy lebih rendah daripada nilai Ria.

22. Urutan nama lima siswa yang memiliki nilai tertinggi ke nilai terendah adalah...
- A. Ria, Sinta, Qiqi, Popy, Toton
 - B. Ria, Sinta, Popy, Qiqi, Toton
 - C. Sinta, Ria, Qiqi, Popy, Toton
 - D. Sinta, Qiqi, Ria, Popy, Toton
 - E. Qiqi, Ria, Sinta, Popy, Toton
23. Jika semua nilai berupa bilangan bulat, siswa yang pasti bernilai genap adalah...
- A. Popy dan Qiqi
 - B. Qiqi dan Ria
 - C. Popy dan Sinta
 - D. Ria dan Sinta
 - E. Sinta dan Toton

Soal nomor 24—27 didasarkan pada bacaan berikut!

Pada suatu jamuan makan malam, 8 orang eksekutif muda (Alfred, Didi, Lala, Laura, Gael, Michael, Rory, dan Togy) duduk mengelilingi satu meja bundar.

- (1) Gael duduk berseberangan dengan Alfred.
 - (2) Michael duduk di antara Togy dan Lala.
 - (3) Laura dan Lala duduk tepat berhadapan.
 - (4) Togy duduk 2 kursi terpisah dari Alfred.
24. Beberapa kemungkinan di bawah ini yang tidak benar adalah...
- A. Laura duduk di antara Rory dan Gael.

- B. Lala dan Didi dipisahkan oleh Alfred.
 - C. Michael duduk di antara Togy dan Lala.
 - D. Laura dipisahkan 2 kursi dengan Alfred.
 - E. Didi duduk di antara Gael dan Togy
25. Bila Michael dipisahkan oleh 2 kursi dengan Didi, pernyataan di bawah ini yang benar adalah...
- A. Michael dan Rory dipisahkan oleh 2 kursi.
 - B. Michael dan Alfred duduk berseberangan.
 - C. Rory duduk di dekat Togy.
 - D. Lala duduk di sebelah Gael.
 - E. Didi dan Togy duduk berhadapan.
26. Pernyataan berikut yang benar adalah...
- A. Didi duduk di antara Gael dan Togy.
 - B. Rory duduk dipisahkan 2 kursi dengan Togy.
 - C. Rory dan Didi duduk tepat berseberangan.
 - D. Togy duduk di seberang Rory.
 - E. Michael duduk berhadapan dengan Didi.
27. Bila Michael dan Rory duduk berseberangan, pernyataan di bawah ini yang benar adalah...
- A. Gael duduk berhadapan dengan Didi.
 - B. Gael duduk di sebelah Michael.

- C. Lala duduk di sebelah Didi.
- D. Rory duduk di antara Laura dan Didi.
- E. Didi duduk di antara Alfred dan Lala.

Soal nomor 28—30 didasarkan pada bacaan berikut!

Tina adalah karyawan yang wajib memakai baju seragam dengan warna biru, kuning, putih, merah, dan hijau. Selama lima hari kerja, yaitu Senin sampai Jumat.

- (1) Baju merah dipakai setelah baju kuning.
- (2) Baju hijau boleh dipakai sebelum baju biru yang dipakai pada hari Jumat.
- (3) Baju kuning harus dipakai pada hari Selasa.

28. Urutan warna baju dipakai oleh Tina mulai hari Rabu, Kamis, dan Jumat adalah...
- A. biru, kuning, hijau
 - B. kuning, biru, putih
 - C. putih, kuning, hijau
 - D. kuning, merah, putih
 - E. merah, hijau, biru
29. Urutan warna baju yang dipakai oleh Tina mulai Senin sampai Rabu adalah...
- A. biru, kuning, hijau
 - B. kuning, biru, putih
 - C. kuning, merah, putih
 - D. putih, kuning, hijau
 - E. putih, kuning, merah

30. Urutan warna baju dipakai oleh Tina di hari Senin, Rabu, dan Jumat adalah...
- A. putih, merah, biru
 - B. biru, kuning, hijau
 - C. kuning, biru, putih
 - D. kuning, merah, putih
 - E. putih, kuning, hijau

Soal nomor 31—32 berdasarkan pada bacaan berikut.

Seorang ahli telah memastikan bahwa tujuh orang *M*, *N*, *P*, *Q*, *R*, *S*, dan *T* adalah ayah, ibu, bibi, saudara perempuan, saudara laki-laki, isteri, dan anak perempuan dari *X*, namun ahli tersebut merahasiakan status masing-masing kepada *X*, kecuali memberitahukan yang berikut ini.

- *P* dan *Q* berjenis kelamin sama.
- *M* dan *N* tidak berjenis kelamin sama.
- *S* lahir sebelum *M*.
- *Q* bukan ibunya *X*.

31. Jika *S* adalah neneknya *N*, manakah berikut ini yang harus benar?
- A. *Q* adalah suaminya *S*.
 - B. *R* adalah bibinya *N*.
 - C. *X* adalah anaknya *P*.
 - D. *M* adalah saudara laki-lakinya *X*.
 - E. *N* adalah anaknya *R*.

32. Jika T adalah anak perempuan X , manakah berikut ini yang harus benar?
- P tidak berjenis kelamin sama dengan N .
 - R tidak berjenis kelamin sama dengan S .
 - M dan P berjenis kelamin sama.
 - M dan Q berjenis kelamin sama.
 - P dan Q tidak berjenis kelamin sama.
34. Manakah dari berikut ini yang benar untuk jadwal perjalanan capres tersebut?
- Ia mengunjungi J pada kesempatan pertama.
 - Ia mengunjungi K pada kesempatan pertama.
 - Ia mengunjungi L pada kesempatan keenam.
 - Ia mengunjungi M pada kesempatan keempat.
 - Ia mengunjungi N pada kesempatan keenam.

Soal nomor 33—35 berdasarkan pada bacaan berikut.

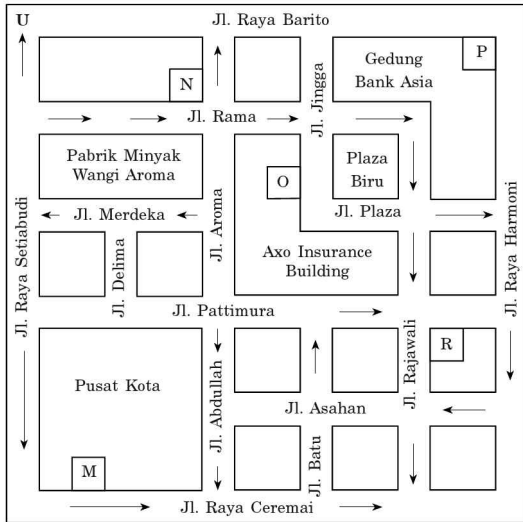
Seorang calon Presiden (capres) merencanakan mengunjungi enam kota berikut J , K , L , M , N , dan O satu kali selama masa kampanye. Tim kampanyenya merencanakan jadwal perjalanan untuk capres tersebut sebagai berikut:

- Capres dapat mengunjungi M hanya jika ia telah mengunjungi L dan N .
- Capres tidak dapat mengunjungi N sebelum mengunjungi J .
- Kota kedua yang dikunjungi Capres tersebut adalah K .

33. Jika capres tersebut mengunjungi O pada kesempatan terakhir, manakah dari kota-kota berikut yang dapat menjadi kota pertama dan ketiga dalam jadwal kunjungannya?
- J dan L
 - J dan O
 - L dan N
 - L dan O
 - M dan N
35. Manakah dari urutan berikut ini yang dapat menjadi urutan kunjungan capres ke kota-kota tersebut?
- J, K, N, L, O, M ,
 - K, J, L, N, M, O ,
 - O, K, M, L, J, N ,
 - L, K, O, N, M, J
 - M, N, K, O, L, J
36. Jono dan Jacky memiliki uang lebih banyak daripada Fredy. Sementara itu, Chrisna memiliki 2 uang lebih sedikit daripada Fredy. Peter memiliki uang lebih banyak daripada Fredy. Siapakah yang memiliki uang paling sedikit?
- Jacky
 - Freddy dan Peter
 - Chrisna
 - Jono
 - Peter
37. Ahmat lebih tua daripada Ahlam. Andi lebih muda daripada Ahlam. Jadi,...

- A. Ahmat lebih tua daripada Andi.
 B. Ahmat lebih muda daripada Andi.
 C. Ahmat bisa saja lebih tua daripada Andi.
 D. Ahmat seusia dengan Andi.
 E. Tidak ada yang benar.
- 38.** Indah lebih tinggi dari Ade, dan Sulastri lebih pendek dari Indah. Kesimpulan yang dapat diambil dari pernyataan di atas adalah...
- A. Sulastri lebih tinggi dari Ade.
 B. Sulastri lebih pendek dari Ade.
 C. Sulastri sama tingginya dengan Ade.
 D. Sulastri dan Ade lebih pendek dari Indah.
 E. Sulastri dan Ade lebih tinggi dari Indah.
- 39.** Jumlah pekerjaan bidang teknologi informasi di Inggris telah menjadi dua kali lipat lebih banyak selama lima tahun terakhir. Akan tetapi, meskipun tenaga kerja wanita yang ada lebih dari separuh tenaga kerja potensial di Inggris, jumlah mereka hanya 22% dari keseluruhan tenaga kerja di bidang ini, lebih kecil dibandingkan angka tahun 1994, yaitu sebesar 29%.
- Di antara berikut ini, manakah yang benar sesuai dengan kutipan di atas?
- A. Lebih dari 50% tenaga kerja potensial di Inggris adalah wanita.
 B. Tenaga kerja di bidang teknologi informasi di Inggris didominasi oleh wanita.
 C. Sebanyak 7% tenaga kerja wanita di bidang teknologi informasi telah pindah ke bidang lain.
 D. Lebih sedikit wanita yang bekerja di teknologi informasi tahun 2000 daripada tahun 1997.
 E. Sebanyak 29% tenaga kerja wanita adalah tenaga kerja potensial di Inggris.
- 40.** Ekspor utama pada abad ke-15 adalah tekstil. Di antara jenis-jenis tekstil ekspor tersebut adalah wol dan belacu. Linen jauh tidak penting dan sutera tidak terlalu berperan. Di luar kelompok tersebut, satu-satunya jenis komoditi penting di paruh abad itu adalah jagung, meskipun ekspor ikan dan tembaga tidak dapat diabaikan.
- Berdasarkan informasi di atas, manakah pernyataan berikut ini yang benar?
- A. Jagung, meskipun tidak sepenting tekstil, masih merupakan komponen ekspor yang penting.
 B. Jagung merupakan komponen ekspor yang hampir sama pentingnya dengan linen.
 C. Di abad ke-15, sutera merupakan ekspor yang sangat berharga.
 D. Di abad ke-15, produksi ikan lebih besar daripada produksi wol.
 E. Di abad ke-15, produksi linen sangat berperan penting.

Petunjuk A: Pilih satu jawaban yang paling tepat



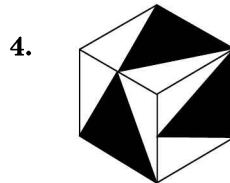
- Letnan Makmoer berjalan dari M dan bergerak dengan urutan berikut: ke kiri menuju Jalan Raya Ceremai ke arah Timur, pada persimpangan kedua belok kiri ke arah Utara, lalu pada persimpangan kedua berbelok kanan ke arah Timur, lalu pada persimpangan kedua berbelok kiri ke arah Utara. Ia menuju ke arah Utara sejauh dua blok. Di manakah posisinya sekarang?

A. N	D. P
B. O	E. M
C. R	
- Letnan Henry berada di Jalan Delima di mana pusat kota berada di sebelah kanannya. Ke arah manakah ia menghadap?

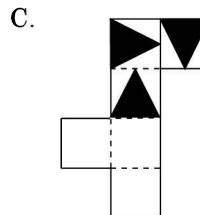
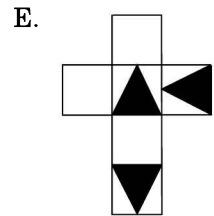
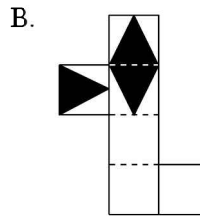
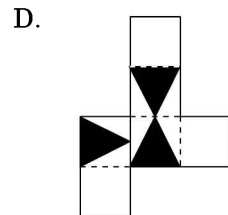
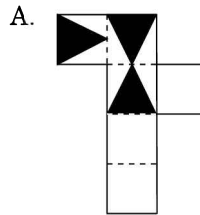
- | | |
|------------|-------------|
| A. Utara | D. Barat |
| B. Selatan | E. Tenggara |
| C. Timur | |

- Ia berbelok dan berjalan ke persimpangan Jalan Merdeka. Ia berbelok ke kanan dan berjalan menuju persimpangan jalan berikutnya sebelum berbelok ke kiri. Di manakah letak O dari posisinya sekarang?


A. Utara	D. Barat
B. Selatan	E. Tenggara
C. Timur	



Tentukan jaring-jaring yang sesuai dengan kubus di samping!



5.



Tentukan gambar yang dapat dibentuk dari komponen-komponen di atas!

- A. D. B. E. C.

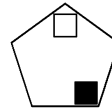
6.



Tentukan komponen-komponen yang membentuk gambar di atas!

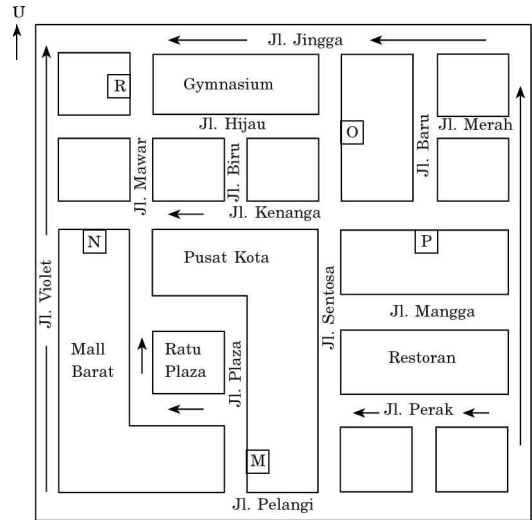
- A. D. B. E. C.

7.



Tentukan gambar yang identik dengan gambar di samping!

- A. D. B. E. C.



8. Sersan Bertus berjalan dari R dan bergerak dengan urutan berikut: ke kanan menuju Jalan Mawar ke arah Selatan, pada persimpangan pertama belok kiri ke arah Timur, lalu pada persimpangan kedua belok kanan ke arah Selatan, lalu pada persimpangan kedua belok kiri ke arah Timur. Ia menuju ke arah Timur sejauh

satu blok. Di manakah letak P dari posisinya sekarang?

- A. Utara
- B. Barat Laut
- C. Timur Laut
- D. Timur
- E. Tenggara

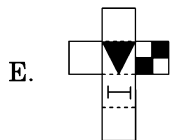
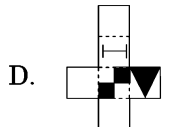
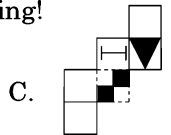
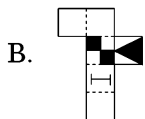
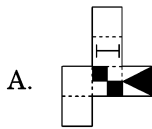
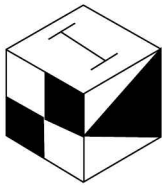
9. Sersan Adi berada di Jalan Hijau dan ia bisa melihat Pusat Kota di sebelah kanannya. Di manakah letak N dari posisinya sekarang?

- A. Utara
- B. Tenggara
- C. Barat Daya
- D. Timur Laut
- E. Barat Laut


10. Ia berbelok dan berjalan ke persimpangan Jalan Sentosa. Ia berbelok ke kanan dan berjalan sejauh 4 blok sebelum belok ke kanan dan kemudian belok ke kanan lagi. Lokasi mana yang terdekat dengan posisinya sekarang?

- A. P
- B. N
- C. O
- D. M
- E. R





11. Tentukan jaring-jaring yang sesuai dengan kubus di samping!




12.



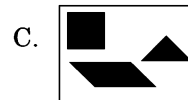
Tentukan gambar yang dapat dibentuk dari komponen-komponen di atas!

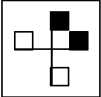


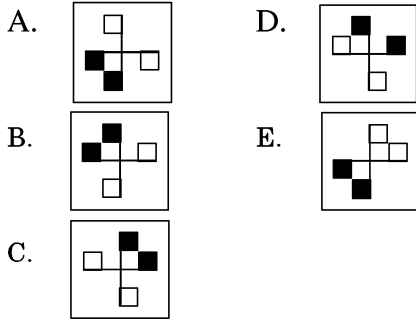
13.

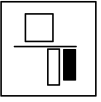


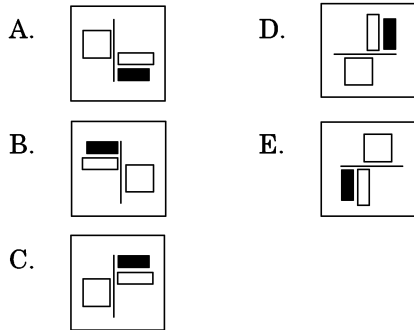
Tentukan komponen-komponen yang membentuk gambar di samping!



14.  Tentukan gambar yang tidak identik dengan gambar di samping!



15.  Tentukan gambar yang identik dengan gambar di samping!



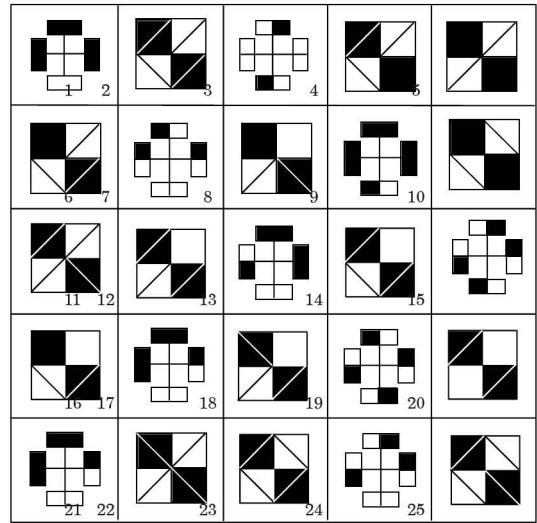
16. Gambar manakah pada Grup 2 yang identik dengan gambar 23 pada Grup 1?

- A. E D. L
B. I E. O
C. K

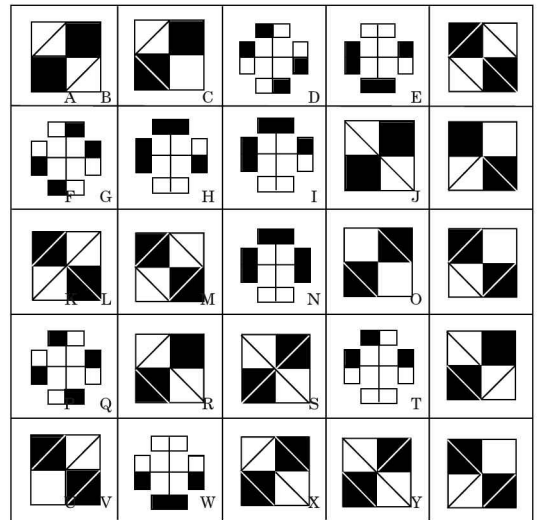
17. Gambar manakah pada Grup 2 yang identik dengan gambar 13 pada Grup 1?

- A. C D. G
B. D E. H
C. F

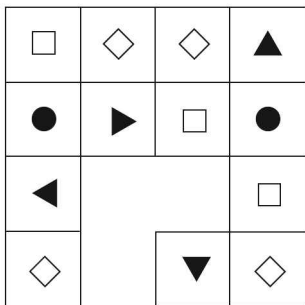
Grup 1



Grup 2



18. Tentukan gambar yang tepat untuk melengkapi susunan gambar berikut!



- A.

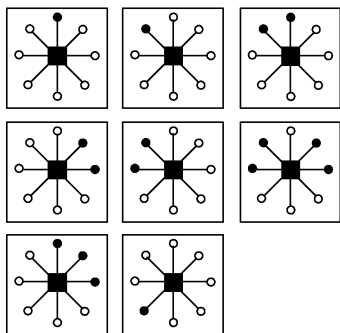
- B.

- C.

- D.

- E.

19. Tentukan gambar yang tepat untuk melengkapi pola berikut!

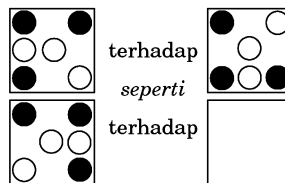


- A.
- B.
- C.
- D.
- E.

20. Tentukan gambar yang berbeda!

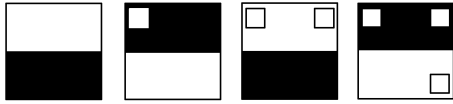
- A.
- B.
- C.
- D.
- E.

21. Tentukan gambar yang sesuai dengan pola berikut!



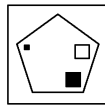
- A.
- B.
- C.
- D.
- E.

22. Tentukan gambar selanjutnya dari pola berikut!

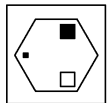


- A.
- B.
- C.
- D.
- E.

23. terhadap



seperti

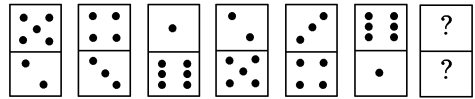


terhadap



- A.
- B.
- C.
- D.
- E.

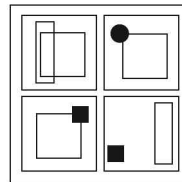
24.



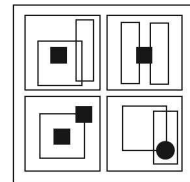
- A.
- B.
- C.
- D.
- E.

25. Tentukan gambar yang tidak terdapat di kedua grup!

Grup 1



Grup 2



- A.
- B.
- C.
- D.
- E.

26.

5	8	7	10	9
4	7	6	9	?
7	10	?	?	?
6	9	?	11	10
9	12	?	14	13

A.

		7
8	13	10
7		
12		

D.

		7
8	13	10
9		
11		

B.

		8
9	12	11
8		
11		

E.

		13
7	8	10
9		
11		

C.

		8
8	12	11
7		
11		

27.

★ ★	☆ ★	☆ ☆
★ ☆	★ ☆	★ ☆
★ ☆	★ ☆	?

A.




D.



B.



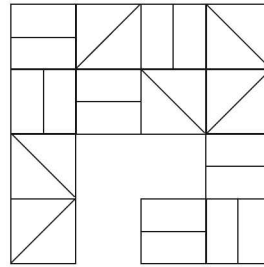
E.



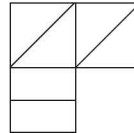
C.



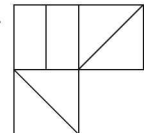
28. Tentukan gambar untuk melengkapi susunan gambar berikut!



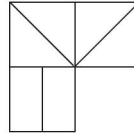
A.



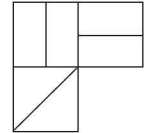
D.



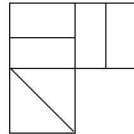
B.




E.




C.




29. Tentukan gambar selanjutnya pada pola berikut!




A.




D.




B.



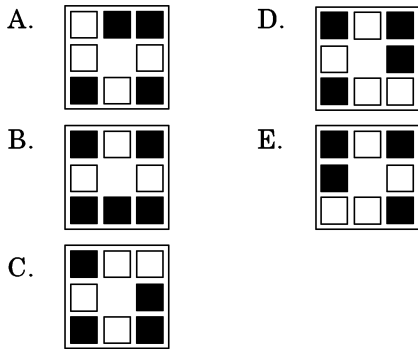
E.



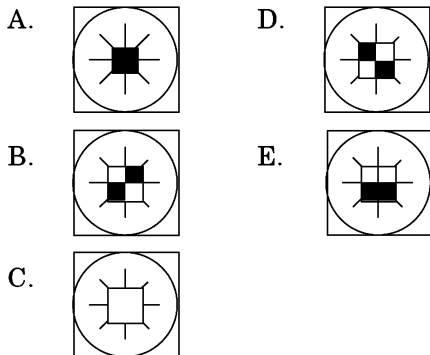
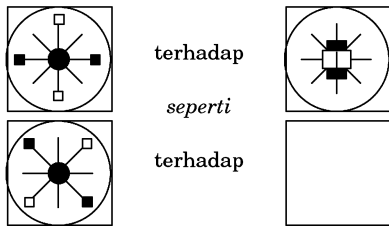
C.



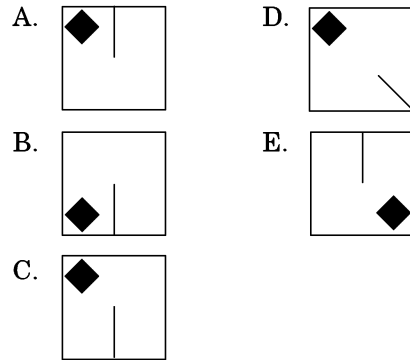
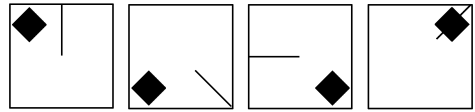
30. Tentukan gambar yang berbeda!



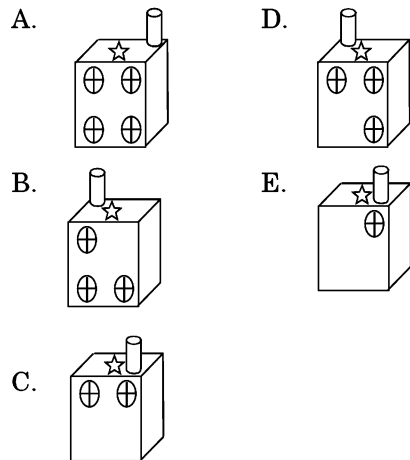
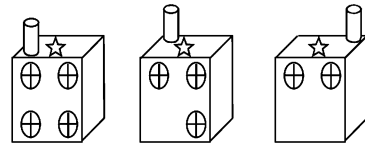
31. Tentukan gambar selanjutnya pada pola berikut!



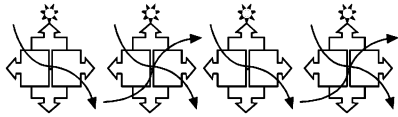
32. Tentukan gambar selanjutnya pada pola berikut!



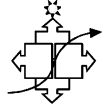
33.



34.



A.



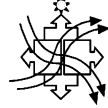
D.



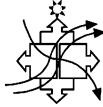
B.



E.



C.



35.



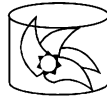
A.



D.



B.



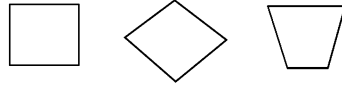
E.



C.



36.



A.



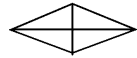
D.



B.



E.



C.



37.



A.



D.



B.



E.



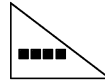
C.



38.



A.



D.



B.



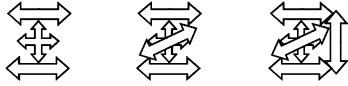
E.



C.



39.



A.



D.



B.



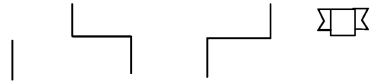
E.



C.



41.



A.



D.



B.



E.



C.



40.



A.



D.



B.



E.



C.



42.



A.



D.



B.



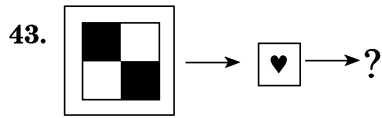
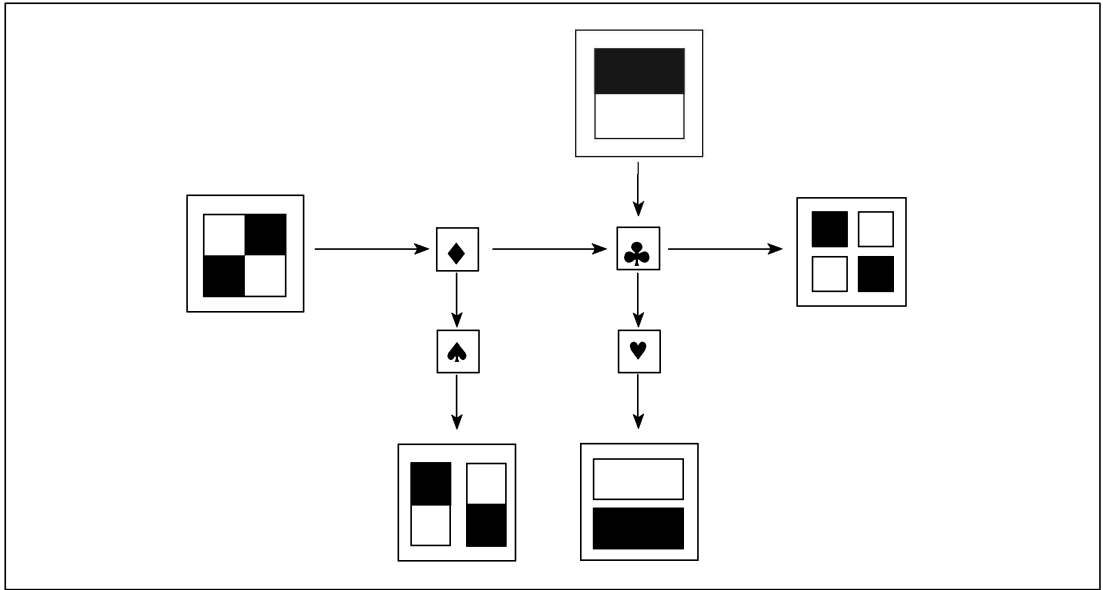
E.



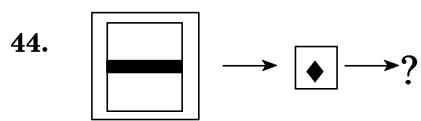
C.



Soal untuk No. 43—44

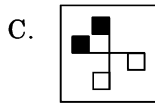
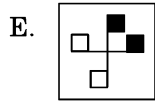
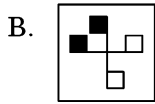
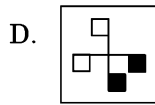
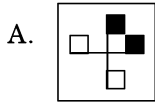


- | | |
|----|----|
| A. | D. |
| B. | E. |
| C. | |




- | | |
|----|----|
| A. | D. |
| B. | E. |
| C. | |

45. Tentukan gambar yang berbeda!

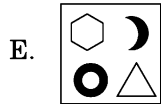
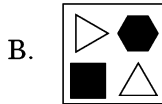
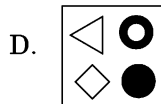
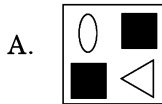



46. Tentukan gambar yang tidak terdapat di kedua grup!


Grup 1




Grup 2




47. Tentukan gambar yang dapat dibentuk dari komponen-komponen di bawah!



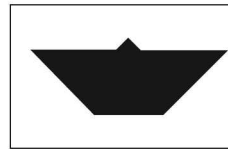
A.



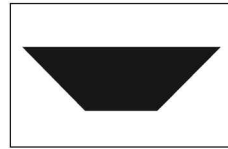
B.



C.



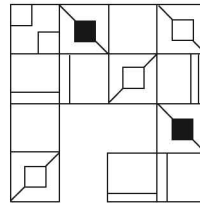
D.



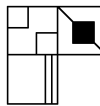
E.



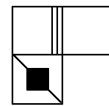
48.



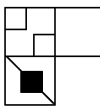
A.



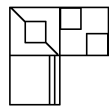
D.



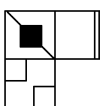
B.



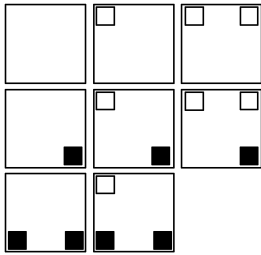
E.



C.



49.



A.



D.



B.



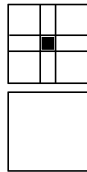
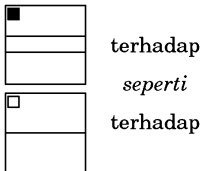
E.



C.



50.



A.



D.



B.



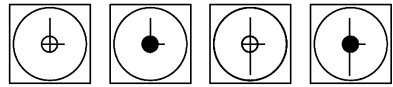
E.



C.



51.



A.



D.



B.



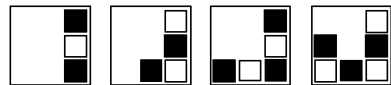
E.



C.



52.



A.



D.



B.



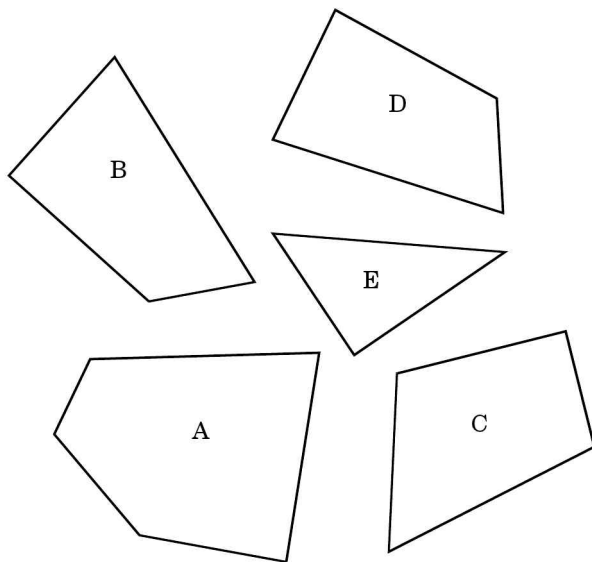
E.



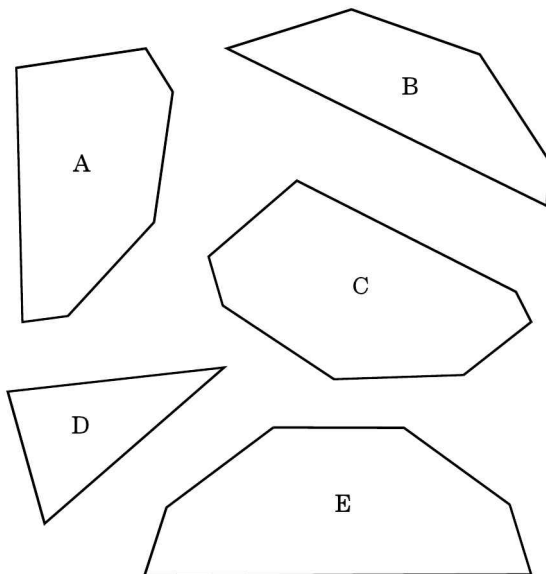
C.



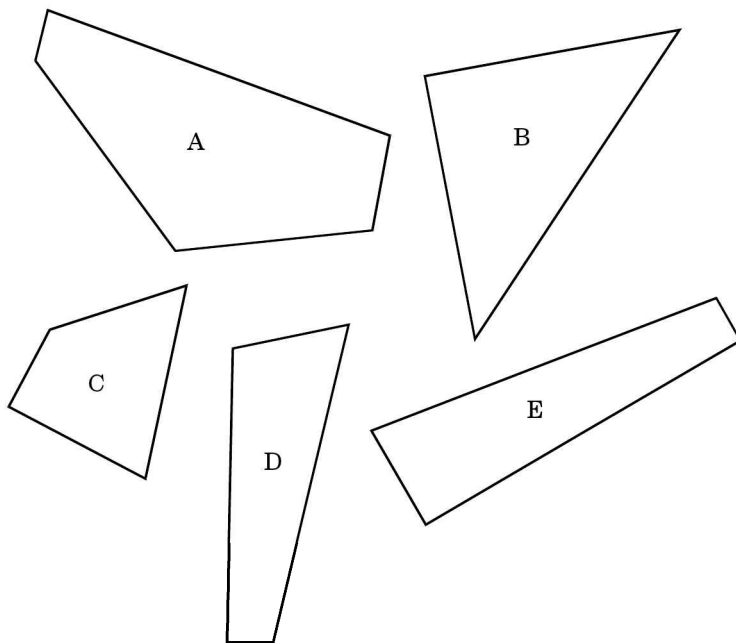
53. Empat dari bangun datar di bawah ini dapat disatukan menjadi sebuah persegi. Manakah dari salah satu dari ke lima bangun datar tersebut yang tidak termasuk?



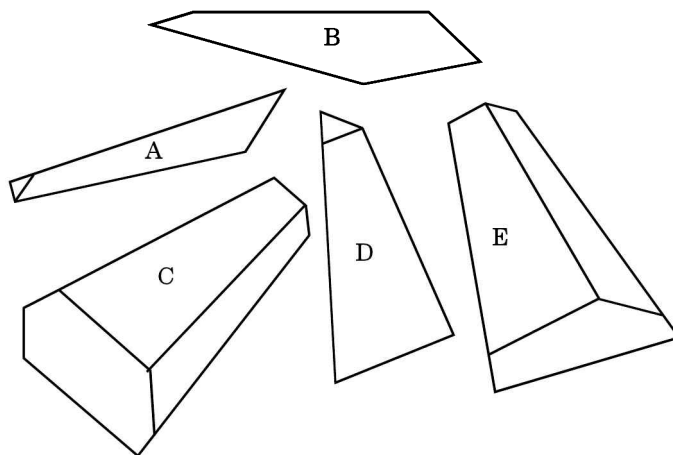
54. Empat dari bangun datar di bawah ini dapat disatukan menjadi sebuah bangun datar berbentuk segi sepuluh. Manakah dari salah satu dari ke lima bangun datar tersebut yang tidak termasuk?



55. Empat dari bangun datar di bawah ini dapat disatukan menjadi sebuah persegi. Manakah dari salah satu dari ke lima bangun datar tersebut yang tidak termasuk?

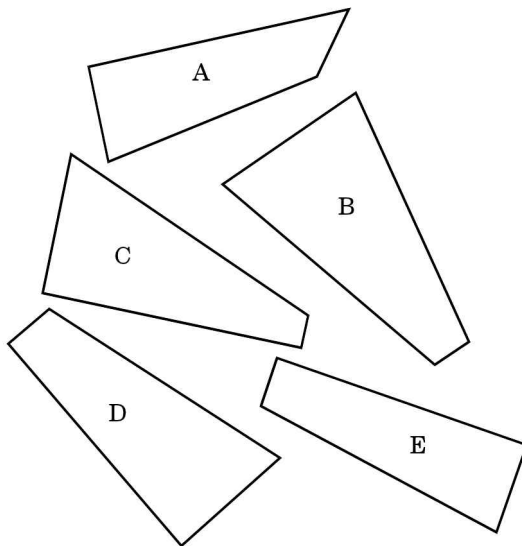


56. Dari kelima bangun di bawah ini, manakah tiga diantaranya dapat digunakan untuk membentuk sebuah kubus?



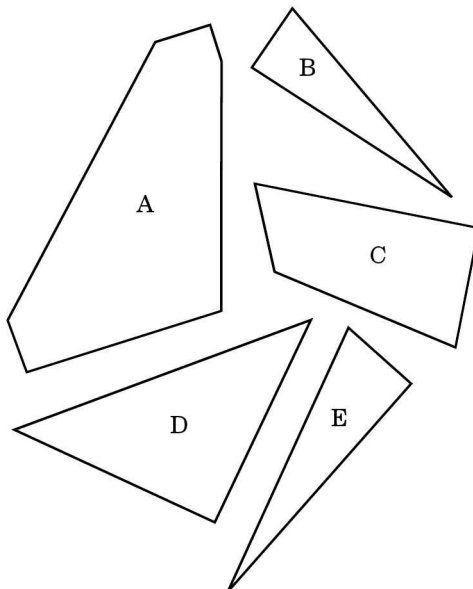
- A. ACD B. ABC C. CDE D. BCD E. ADE

57. Dari kelima bangun di bawah ini, manakah tiga diantaranya dapat digunakan untuk membentuk sebuah persegi?



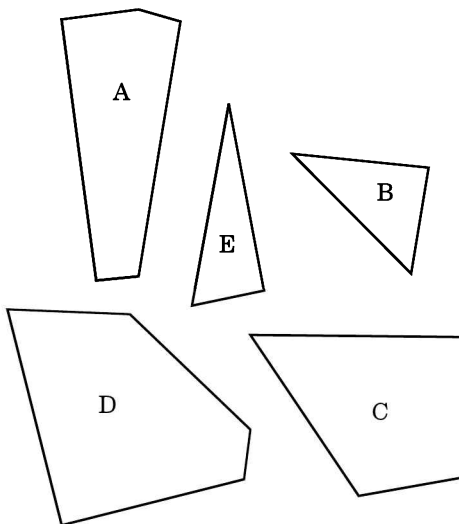
- A. ABC B. BDE C. BCD D. ADE E. ACD

58. Dari kelima bangun di bawah ini, manakah tiga diantaranya dapat digunakan untuk membentuk sebuah persegi?

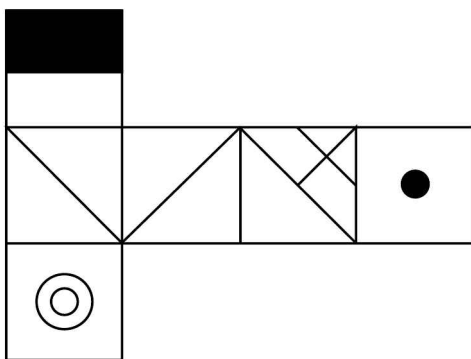


- A. ABC B. ABD C. BCD D. ADE E. CDE

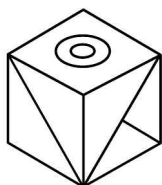
59. Empat dari bangun datar di bawah ini dapat disatukan menjadi sebuah persegi. Manakah dari salah satu dari ke lima bangun datar tersebut yang tidak termasuk?




60.



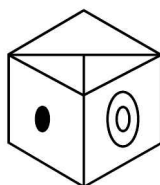
Manakah kubus yang terbentuk dari jaring-jaring kubus di di atas?



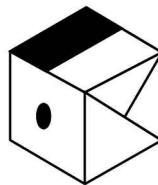
A.



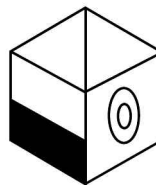
B.












C.



D.












E.





















 = 1	 = 4	 = 7
 = 2	 = 5	 = 8
 = 3	 = 6	 = 9

Petunjuk: Gambar dan symbol tersebut di atas akan ditampilkan di layar proyektor sekitar 2–5 menit, kemudian ditutup dan selanjutnya Anda diminta untuk mengerjakan soal bagian A dan bagian B.

I. BAGIAN A

-  =
-  =
-  =
-  =
-  =
-  =
-  =
-  =
-  =

I. BAGIAN B

- $1 + 8 =$
    
 A. B. C. D. E.
- $6 - 5 =$
    
 A. B. C. D. E.
- $4 \times 2 =$
    
 A. B. C. D. E.
- $9 : 3 =$
    
 A. B. C. D. E.

5. $4 + 6 - 1 = \dots$



A.



B.












C.



D.












E.

	= 1		= 4		= 7
	= 2		= 5		= 8
	= 3		= 6		= 9

Petunjuk: Gambar dan symbol tersebut di atas akan ditampilkan di layar proyektor sekitar 2-5 menit, kemudian ditutup dan selanjutnya Anda diminta untuk mengerjakan soal bagian A dan bagian B.

II. BAGIAN A

- | | | | |
|--|---------|--|---------|
| 1.  | = | 5.  | = |
| 2.  | = | 6.  | = |
| 3.  | = | 7.  | = |
| 4.  | = | 8.  | = |
| | | 9.  | = |

II. BAGIAN B

1. $9 - 4 = \dots$




A.



B.



C.



D.



E.

2. $4 + 4 = \dots$



A.



B.



C.



D.



E.

3. $5 + 2 = \dots$




A.



B.



C.



D.




E.

4. $9 : 3 = \dots$



A.



B.



C.




D.



E.

5. $6 + 4 - 5 = \dots$



A.



B.



C.



D.



E.

6. $8 : 2 = \dots$



A.



B.



C.



D.



E.

Tes soal ketelitian (A-F) di bawah ini dikerjakan dalam waktu yang sangat singkat (10-15 menit).

A. Hitunglah hasil penjumlahan dan pengurangan di bawah ini secepat mungkin.

$$\begin{array}{r}
 1. \quad 22 \\
 \quad 27 \\
 \quad 37 \\
 \quad 45 \\
 \hline
 \dots
 \end{array}
 +$$

- A. 111
- B. 211
- C. 311
- D. 121
- E. 131

$$\begin{array}{r}
 2. \quad 35 \\
 \quad 45 \\
 \quad 55 \\
 \quad 37 \\
 \hline
 \dots
 \end{array}
 +$$

- A. 152
- B. 162
- C. 172
- D. 182
- E. 192

$$\begin{array}{r}
 3. \quad 38 \\
 \quad 58 \\
 \quad 68 \\
 \quad 39 \\
 \hline
 \dots
 \end{array}
 +$$

- A. 203
- B. 303
- C. 103
- D. 233
- E. 213

$$\begin{array}{r}
 4. \quad 26 \\
 \quad 24 \\
 \quad 32 \\
 \quad 11 \\
 \quad 15 \\
 \hline
 \dots
 \end{array}
 +$$

- A. 98
- B. 118
- C. 108
- D. 128
- E. 138

$$\begin{array}{r}
 5. \quad 15 \\
 \quad 27 \\
 \quad 33 \\
 \quad 47 \\
 \quad 56 \\
 \hline
 \dots
 \end{array}
 +$$

- A. 148
- B. 158
- C. 168
- D. 178
- E. 188

$$\begin{array}{r}
 6. \quad 124 \\
 \quad 356 \\
 \quad 455 \\
 \quad 675 \\
 \hline
 \dots
 \end{array}
 +$$

- A. 1610
- B. 1510
- C. 1710
- D. 1810
- E. 1910

$$\begin{array}{r}
 7. \quad 333 \\
 \quad 345 \\
 \quad 675 \\
 \quad 501 \\
 \quad 665 \\
 \hline
 \dots
 \end{array}
 +$$

- A. 2119
- B. 2219
- C. 2319
- D. 2419
- E. 2519

$$\begin{array}{r}
 8. \quad 12 \\
 \quad 13 \\
 \quad 14 \\
 \quad 15 \\
 \quad 18 \\
 \quad 25 \\
 \quad 36 \\
 \hline
 \dots
 \end{array}
 +$$

- A. 113
- B. 123
- C. 133
- D. 143
- E. 153

$$\begin{array}{r}
 9. \quad 5571 \\
 \quad 6752 \\
 \quad 9674 \\
 \hline
 \dots
 \end{array}
 +$$

- A. 20897
- B. 20987
- C. 20997
- D. 21997
- E. 22987

$$\begin{array}{r}
 10. \quad 1234 \\
 \quad 5678 \\
 \quad 9012 \\
 \quad 3456 \\
 \hline
 \dots
 \end{array}
 +$$

- A. 19380
- B. 19830
- C. 20380
- D. 21380
- E. 22380

- | | | |
|--|--|--|
| 11. 789052
45321
3250
125
<u>67</u> -
..... | A. 740.289
B. 741.289
C. 742.289
D. 743.289
E. 740.829 | B. Tentukanlah, apakah angka di bawah ini sama atau tidak.
1. 12233467 – 12234367 (S/T)
2. 72278756 – 72278765 (S/T)
3. 155577892 – 155757892 (S/T)
4. 78897567 – 78987567 (S/T)
5. 995566471 – 995566471 (S/T) |
| 12. 123456
71265
4321
<u>879</u> -
65
..... | A. 610.523
B. 611.523
C. 612.523
D. 613.523
E. 610.253 | C. Cari angka/huruf yang sama jalan susunan angka-angka di bawah ini.
1. 467912485 (.....)
2. 91562873406 (.....)
3. 39417860352 (.....)
4. 18439827650 (.....)
5. 07184321695 (.....)
6. <i>xyguzklmngo</i> (.....)
7. <i>axjku<tr>st</tr></i> u (.....)
8. <i>hikmxpqief</i> (.....)
9. <i>fgtrqomktu</i> (.....)
10. <i>utzorsmrzp</i> (.....) |
| | | |
| 13. 67895
6789
678
<u>67</u> -
..... | A. 46.926
B. 47.026
C. 47.126
D. 47.226
E. 46.296 | |
| 14. 647896
32561
4575
232
<u>05</u> -
..... | A. 640.607
B. 641.607
C. 642.607
D. 643.607
E. 640.067 | |
| 15. 654321
12345
1234
123
<u>12</u> -
..... | A. 60.361
B. 61.361
C. 62.361
D. 63.361
E. 60.631 | |





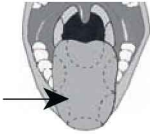
D. Apakah kata berikut sama atau tidak?

1. Sumarno – Soemarno (S/T)
2. Penyelenggaraan – Penyelengagraan (S/T)
3. Mencemaksan – Mencemaskan (S/T)
4. Pengaturan – Pengautran (S/T)
5. Keberangkatan – Keberagnkatan (S/T)
6. Pengewenjantahan – Pengewejahtahan (S/T)






- 7. Mengonsumsi – Mengkonsumsi (S/T)
- 8. Pemberdayaan – Pemerdayaan (S/T)
- 9. Kenegarawanan – Kenegarawanan (S/T)
- 10. Komprehensif – Komprehensiv (S/T)

E. Manakah dari salah satu gambar berikut yang berbeda?






1.

				
A.	B.	C.	D.	E.






2.

				
A.	B.	C.	D.	E.






3.

				
A.	B.	C.	D.	E.

4.


				
A.	B.	C.	D.	E.

5.

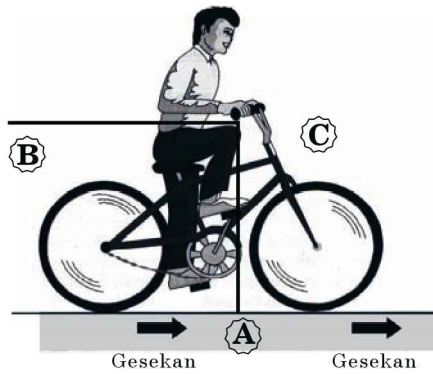
				
A.	B.	C.	D.	E.

F. Perhatikan gambar berikut!

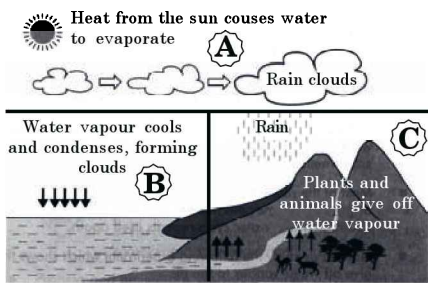
1. Manakah dari area gambar yang tidak sesuai?



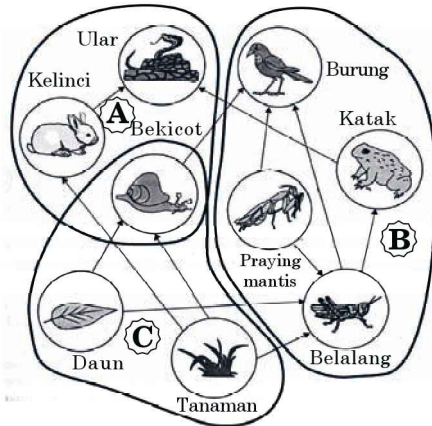
- 2.



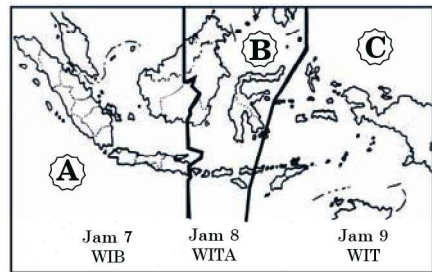
- 3.



- 4.

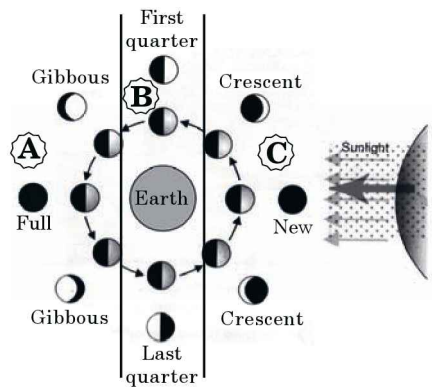


- 5.

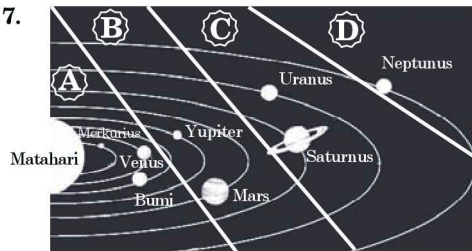


Pembagian waktu di Indonesia

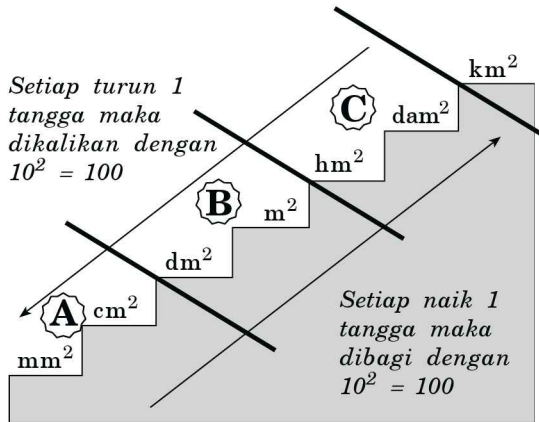
- 6.



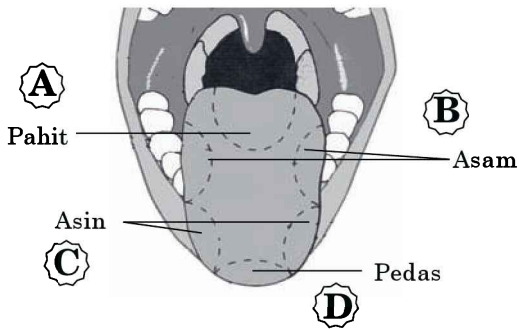
- 7.



8.



9.



10.




G. Manakah dari bagian gambar ini yang tidak lengkap?


1.



2.



3. Temukan 10 perbedaan dari kedua gambar di bawah ini.





Tes Skala Kematangan

Kemampuan Beradaptasi,
Pengendalian Diri,
Semangat Berprestasi,
Integritas, dan
Inisiatif

Tes Skala Kematangan

Petunjuk A: Pilih satu jawaban yang paling tepat

1. Dalam suatu rapat pimpinan, ada teman kerja saya yang berbeda pendapat dengan usulan yang saya sampaikan. Sikap saya adalah...
 - A. Meninggalkan ruang rapat dan masuk menjelang rapat usai
 - B. Mempertimbangkan pendapat orang tersebut
 - C. Memaksakan usulan saya yang diterima, karena memang bagus
 - D. Mempertimbangkan pendapat tersebut dengan melihat siapa orangnya
 - E. Beranggapan bahwa perbedaan pendapat bukan hal yang lumrah
2. Setelah beberapa tahun saya bertugas di unit kerja A, pimpinan memutasikan saya ke unit lain yang sama sekali baru bagi saya. Sikap saya adalah...
 - A. Mempelajari proses pekerjaan yang dilakukan rekan sejawat
 - B. Menunggu sampai ada perintah atasan yang baru
 - C. Memahami mekanisme kerja unit melalui arsip dan aturan kebijakan
 - D. Proaktif mempelajari dan memahami mekanisme kerja unit yang baru melalui rekan sekerja
 - E. Apabila unit kerja baru tersebut tidak sesuai dengan keinginan saya, maka akan segera saya buat usulan mutasi ke unit kerja yang saya inginkan
3. Apabila ada perubahan dalam penggunaan teknologi baru dan cara yang baru dalam mengerjakan suatu pekerjaan, maka sikap saya adalah...
 - A. Meminta atasan tetap menggunakan teknologi dan cara lama
 - B. Memastikan perubahan tersebut akan membuat repot karyawan
 - C. Memastikan perubahan tersebut belum tentu bermanfaat
 - D. Menyikapinya dengan positif
 - E. Tidak berperan serta dalam perubahan tersebut
4. Dalam rangka meningkatkan kualitas sumber daya manusia, saya ditunjuk oleh atasan untuk mengikuti pendidikan dan latihan. Panitia penyelenggara mengatur tempat menginap peserta dan saya ditempatkan sekamar dengan orang yang tidak saya kenal dan berasal dari kota lain. Sikap saya adalah...
 - A. Mengusulkan kepada panitia agar saya ditempatkan sekamar dengan teman sekerja saya
 - B. Mengusulkan kepada panitia agar saya diberi satu kamar khusus

- C. Menerima ketentuan yang telah dibuat panitia, meskipun saya tidak setuju
 - D. Memprotes ketentuan yang dibuat panitia
 - E. Menerima ketentuan yang dibuat panitia
5. Dalam rangka penyegaran di lingkungan kerja kami, khususnya di tingkat atasan, maka pimpinan tertinggi memutasikan atasan kami. Sikap saya adalah...
- A. Mengusulkan agar pimpinan kami tidak dimutasi dengan alasan saya butuh waktu lama menyesuaikan diri
 - B. Tidak ambil pusing dengan mutasi pimpinan tersebut
 - C. Mencoba memahami pribadi atasan saya yang baru
 - D. Biasa-biasa saja
 - E. Memahami dan mengenal lebih jauh mengenai visi dan misi atasan yang baru
6. Atasan kami menolak laporan yang telah kami buat dengan susah payah dengan alasan laporan tersebut kurang bagus. Sikap saya adalah...
- A. Saya dan teman satu tim bersikeras bahwa laporan tersebut sudah sesuai
 - B. Mengatakan kepada teman satu tim yang tidak serius, bahwa ini hasil perbuatan mereka
 - C. Menerima penolakan tersebut dan berusaha untuk memperbaikinya
 - D. Berusaha memperbaikinya dengan rasa kesal
 - E. Berusaha memperbaiki laporan dengan seadanya
7. Dalam rangka reformasi birokrasi, maka dilakukan perubahan yang mendasar dalam struktur organisasi yang mengakibatkan pengurangan jabatan. Pendapat saya adalah...
- A. Tidak menerima perubahan tersebut, karena saya akan kehilangan jabatan
 - B. Sebaiknya perubahan tersebut ditunda sampai saya pensiun
 - C. Mengajak teman sekerja untuk memoretes perubahan tersebut
 - D. Mengajukan pengunduran diri
 - E. Mengedepankan kepentingan organisasi
8. Suatu waktu saya menggunakan kendaraan dinas untuk kepentingan keluarga. Secara tidak sengaja saya mengalami kecelakaan yang mengakibatkan kendaraan tersebut rusak. Tindakan saya adalah...
- A. Mengembalikan kendaraan tersebut tanpa memberitahu kepada pengelola kendaraan
 - B. Meminta pengelola kendaraan agar masalah ini tidak diperpanjang
 - C. Memberitahu peristiwa kecelakaan tersebut kepada atasan dan bertanggung jawab sesuai kemampuan
 - D. Memperbaiki kendaraan tersebut dan tidak memberitahu peristiwa tersebut kepada pengelola kendaraan
 - E. Memperbaiki kendaraan tersebut ke bengkel dan membuat laporan

tertulis kepada pimpinan, dan menerima apapun keputusan dari pimpinan

9. Suatu ketika, atasan memarahi saya atas kesalahan yang dibuat oleh suatu tim di mana saya terlibat di dalamnya. Sikap saya adalah...
- A. Tidak menerima sikap atasan yang memarahi saya, karena kesalahan tersebut bukan hanya saya yang berbuat
 - B. Tidak berkomentar, karena akan membuat saya tidak disenangi atasan
 - C. Mengatakan bahwa yang membuat kesalahan tersebut bukan saya tetapi si Anu
 - D. Memahami sikap atasan tersebut dan berusaha untuk memberikan penjelasan
 - E. Menerima kemarahan atasan tersebut
10. Pada suatu rapat penting, saya dipojokkan oleh teman sekerja dan berusaha untuk mengkritik usulan yang saya sampaikan. Sikap saya adalah...
- A. Berusaha mempertahankan apa yang saya yakini
 - B. Meminta teman sekerja yang mengkritik tersebut introspeksi diri
 - C. Memutuskan keluar dari ruang rapat
 - D. Tidak menanggapi kritikan tersebut
 - E. Berusaha memahami kritikan tersebut dan menganggapnya sebagai masukan
11. Tanpa penjelasan dari atasan, salah seorang rekan kerja saya dipromosikan menduduki jabatan yang lebih tinggi, padahal kemampuannya masih jauh di bawah saya. Sikap saya adalah...
- A. Memprotes keputusan tersebut kepada atasan
 - B. Menurunkan semangat kerja
 - C. Berusaha untuk tidak mengambil pusing dengan promosi tersebut
 - D. Berusaha untuk memahami keputusan tersebut dan memperbaiki kinerja
 - E. Mendiskusikan dengan teman sejawat lainnya dan menyampaikan bahwa cara-cara atasan tersebut tidak baik
12. Di unit kerja saya, atasan memberikan tugas yang lebih banyak kepada saya. Sikap saya adalah...
- A. Memprotes atasan atas pengaturan tersebut
 - B. Tidak menerima pengaturan tersebut, karena gaji sama saja
 - C. Menunjukkan penolakan secara halus dengan cara tidak mengerjakan pekerjaan dengan baik
 - D. Mengerjakan tugas tersebut dengan penuh tanggung jawab
 - E. Memperlambat proses pengerjaan setiap pekerjaan
13. Ketika sedang melakukan presentasi, saya menerima pesan singkat dari istri saya yang mengabarkan bahwa anak saya diopname di rumah sakit. Sikap saya adalah...

- A. Menyelesaikan presentasi secepatnya
 - B. Menghentikan presentasi dan mengatakan anak saya diopname di rumah sakit
 - C. Meminta pendapat peserta rapat
 - D. Meminta presentasi ditunda sehingga saya bisa langsung ke rumah sakit
 - E. Berusaha tenang dan meyakini anak saya sudah ditangani dokter
14. Atasan menugaskan saya memimpin sebuah tim untuk menyelesaikan tugas yang sangat penting dan jadwalnya ketat, sementara anggota tim banyak yang kurang peduli dengan tugas tersebut. Sikap saya adalah...
- A. Mengadukan ketidakpedulian anggota tim kepada atasan
 - B. Memberikan ancaman kepada anggota yang kurang peduli
 - C. Mengerjakan tugas tersebut semaksimal mungkin
 - D. Melakukan pendekatan secara persuasif dan memberikan motivasi kepada anggota tim
 - E. Menegur anggota tim secara keras
15. Mulai bulan depan, absensi di kantor sudah menggunakan mesin scanner sidik jari, sehingga tidak ada kesempatan karyawan untuk menipis absen. Sikap saya adalah...
- A. Memprotes kebijakan tersebut
 - B. Mengajak teman sekerja yang rumahnya jauh menolak kebijakan tersebut
 - C. Merusak mesin absen tersebut
 - D. Mengatakan rumah saya jauh, sehingga datangnya pasti terlambat
 - E. Mematuhi kebijakan tersebut dengan penuh tanggung jawab
16. Di kantor saya paling sering datang duluan dibandingkan teman lainnya. Tindakan yang seharusnya saya lakukan setelah datang di kantor adalah...
- A. Membaca koran
 - B. Menonton televisi
 - C. Mencari teman lain yang datang duluan untuk teman ngobrol
 - D. Memeriksa tugas yang belum selesai dan membuat rencana kerja
 - E. Mengerjakan pekerjaan sampingan saya
17. Suatu waktu atasan meminta saya untuk lembur, padahal saya sudah janji untuk mengantar istri saya ke arisan teman-temannya. Sikap saya adalah...
- A. Mengajukan keberatan kepada atasan
 - B. Meminta teman untuk menggantikan saya
 - C. Memberitahu teman bahwa saya pulang duluan dengan alasan sakit
 - D. Menerima tugas tersebut dan memberikan penjelasan kepada istri

- E. Mengerjakan lembur dengan rasa kesal
18. Pimpinan memutasikan saya keluar kota, padahal anak-anak saya baru dalam tahap penyesuaian diri di sekolahnya. Sikap saya adalah...
- A. Mengajukan keberatan mutasi kepada pimpinan dengan alasan anak
 - B. Mengusulkan kepada pimpinan agar saya digantikan orang lain
 - C. Menerima keputusan pimpinan dengan loyal dan patuh
 - D. Menanyakan terlebih dahulu kepada istri, jika istri tidak setuju maka mutasi saya tolak
 - E. Menerima putusan mutasi dan membuat syarat kepada pimpinan anak dan istri saya tetap tinggal sampai mutasi selanjutnya
19. Di lingkungan kerja saya, banyak tindakan dan perbuatan atasan yang melanggar aturan dan tidak sesuai dengan hati nurani saya. Sikap saya adalah...
- A. Melakukan protes keras kepada atasan
 - B. Membiarkan pelanggaran tersebut
 - C. Menyampaikan pelanggaran tersebut kepada media massa
 - D. Menegur atasan
 - E. Memberitahukan kepada atasan, bahwa tindakannya tersebut tidak sesuai aturan
20. Atas prestasi saya, atasan menawarkan studi belajar keluar kota. Sementara itu, saya baru dikaruniai anak yang tentu perlu perhatian serius. Sikap saya adalah... .
- A. Meminta atasan menunda rencana tersebut
 - B. Meminta atasan memberikan kesempatan tersebut kepada orang lain dulu
 - C. Menerima tawaran tersebut dengan syarat keluarga harus ikut
 - D. Menerima tawaran tersebut dengan syarat diberi tambahan biaya keluarga
 - E. Menerima kesempatan tersebut dengan segala konsekuensinya
21. Di setiap kantor pasti ada saja orang yang tidak suka atau senang dengan prestasi yang kita raih. Sikap saya adalah...
- A. Mengacuhkan orang tersebut
 - B. Mengadukan masalah ini kepada atasan
 - C. Memusuhinya
 - D. Memperlakukan dia sebagaimana dia memperlakukan saya
 - E. Mendekatinya dan berusaha untuk memahaminya
22. Pada suatu waktu, karena yang seharusnya bertugas sakit, maka pimpinan meminta saya sebagai notulen pengganti dalam rapat kenaikan pangkat. Sikap saya adalah...
- A. Membanggakan diri terlibat dalam rapat penting tersebut
 - B. Menceritakan penunjukan tersebut ke teman sekerja dan berjanji akan memberitahu hasil rapat

- C. Memberitahu kepada istri atas penunjukan tersebut
 - D. Mengikuti rapat kenaikan pangkat tersebut dan berusaha menjadi notulen yang baik dan bertanggung jawab
 - E. Memberitahu hasil rapat kepada teman yang seharusnya bertugas sebagai notulen
- 23.** Bila saya tidak sependapat dengan orang lain mengenai suatu proyek yang ditugaskan oleh atasan. Sikap saya adalah...
- A. Mempertahankan keyakinan saya dan memperjuangkannya
 - B. Mengajak kelompok berpikir logis dengan harapan dapat meyakinkan sebagian besar anggota
 - C. Mencari titik kesepakatan dan perbedaan, kemudian mencari alternatif yang dapat diterima semua pihak
 - D. Setuju dengan pendapat kelompok
 - E. Tidak ikut dalam diskusi dan tidak merasa terikat dengan keputusan yang diambil
- 24.** Sebagai pimpinan di suatu organisasi yang besar, tidak mungkin tidak ada konflik antarunit kerja. Jika saya sebagai yang memiliki wewenang dalam situasi konflik tersebut. Sikap saya adalah...
- A. Langsung menggunakannya dan menjelaskan pendapat saya
 - B. Mencoba berunding untuk mencapai pemecahan yang terbaik
 - C. Menanyakan pendapat orang lain dan menyarankan untuk mencapai kata sepakat
 - D. Setuju dengan yang lain, memberikan dukungan semaksimal mungkin
 - E. Menjaga pertemuan tetap tidak bersifat pribadi, menggunakan peraturan bila perlu
- 25.** Sebagai ketua tim, saya sering menjumpai seorang anggota tidak sependapat dengan anggota yang lainnya. Sikap saya adalah...
- A. Memberitahu anggota bahwa anggota yang berpendapat lain itu menghambat kerja kelompok dan menyarankan kelompok melanjutkan pekerjaan tanpa orang tersebut
 - B. Memastikan orang yang berpendapat lain itu mendapat kesempatan untuk menjelaskan pendapatnya agar tercapai kompromi
 - C. Mencoba menjelaskan mengapa anggota yang berpendapat lain itu memiliki sudut pandang yang berbeda, agar anggota lainnya dapat meninjau pendapat masing-masing
 - D. Mendorong para anggota untuk mengesampingkan konflik dan melanjutkan pertemuan dengan membahas mata acara yang lebih menyenangkan dalam agenda
 - E. Berdiam diri karena itulah cara terbaik untuk menghindarkan diri dari konflik kelompok

26. Di unit kerja saya, tidak jarang saya menghadapi seseorang yang mengambil sikap yang tidak masuk akal. Sikap saya adalah...
- Mengemukakan segera bahwa saya tidak suka sikap itu
 - Mengemukakan konflik itu dan mencari pemecahan yang dapat diterima semua pihak
 - Memberitahu dia perlahan-lahan secara tidak langsung bahwa saya tidak suka
 - Merahasiakan pendapat saya
 - Membiarkan tindakan saya yang berbicara, mungkin menggunakan sikap tidak peduli
27. Rahasia perusahaan adalah informasi yang harus dijaga oleh seluruh pegawai. Sikap saya adalah...
- Saya tidak perlu menghiraukan tentang rahasia yang penting bekerja dengan sebaik-baiknya
 - Saya selalu berhati-hati saat berbicara dengan orang lain
 - Sebisa mungkin rahasia itu jangan sampai terdengar orang lain
 - Saya tidak perlu mengatakan apa-apa karena rahasia itu suatu saat akan terbongkar juga
 - Saya akan bersikap tergantung situasi dan kondisi yang terjadi
28. Pimpinan meminta saya menyelesaikan tugas yang tidak sesuai dengan keahlian saya. Sikap saya adalah...
- Mengerjakan saja karena ada imbalan yang menarik
 - Belajar untuk menyelesaikan pekerjaan tersebut
 - Mengutarakan bahwa saya lebih suka mengerjakan pekerjaan yang sesuai keahlian saya
 - Merasa menyesal menerima tugas tersebut
 - Menolak tawaran pekerjaan tersebut, meski dengan perasaan menyesal
29. Seorang rekan mengajak untuk pindah kerja ke perusahaan lain dengan penawaran gaji yang lebih tinggi, namun pekerjaan tersebut tidak sesuai dengan keahlian saya. Sikap saya adalah...
- Meminta pertimbangan dan saran dari teman-teman
 - Berusaha mengerjakan pekerjaan sekarang dengan sungguh-sungguh
 - Mempertimbangkan dan memilih yang lebih menguntungkan secara finansial
 - Menolak tawaran tersebut meskipun dengan rasa menyesal
 - Menerima tawaran tersebut, karena gaji saya meningkat
30. Saya mendapat tugas dari pimpinan untuk melaksanakan suatu kegiatan yang telah direncanakan dan ditetapkan prosedurnya. Sikap saya adalah...
- Melaksanakan sesuai prosedurnya dalam keadaan apapun
 - Berusaha menyesuaikan dengan perubahan yang terjadi di lapangan

- C. Sekali dua kali melakukan perubahan rencana dan prosedur yang penting pekerjaan selesai sesuai dengan tujuan yang telah ditetapkan
 - D. Tidak merubah rencana dan prosedur, karena akan melanggar rencana kerja
 - E. Sebaiknya bekerja sesuai dengan rencana dan prosedur yang sudah ditetapkan
- 31.** Dalam menjalankan tugas, saya sering dihadapkan dengan berbagai permasalahan baru. Sikap saya adalah...
- A. Mencari cara yang berbeda untuk memecahkan masalah
 - B. Menyelesaikan dengan cara yang biasa
 - C. Menganggap masalah baru belum tentu membutuhkan cara baru untuk memecahkannya
 - D. Menganggap masalah yang berbeda, berbeda pula cara pemecahannya
 - E. Menawarkan cara-cara baru untuk menyelesaikan masalah yang terjadi
- 32.** Saya salah satu anggota tim yang baru dibentuk pimpinan rencana kerja dan instruksinya sudah dibuat oleh pimpinan. Saat menjalankan tugas tersebut sikap saya adalah...
- A. Berpegang teguh dengan rencana dan instruksi yang dibuat dalam keadaan apapun
 - B. Sering melakukan perubahan sesuai dengan kenyataan yang ada
 - C. Beberapa kali melakukan perubahan rencana dan instruksi dengan catatan hasil sesuai dengan yang ditetapkan
 - D. Berusaha mengerjakannya sesuai dengan rencana dan instruksi yang ada
 - E. Tidak merubah rencana dan instruksi tersebut, karena hanya akan mengacaukan rencana yang ada
- 33.** Dalam memecahkan suatu persoalan di tempat kerja, saya sangat sering menghadapi perbedaan pendapat yang sangat tajam dalam setiap diskusi. Sikap saya adalah...
- A. Mengusulkan untuk menyelesaikan masalah tersebut secara sendiri-sendiri
 - B. Saya tidak suka dengan rekan kerja yang selalu berbeda pendapat
 - C. Menghindar dari perdebatan tersebut
 - D. Memahami perbedaan tersebut sebagai dinamika
 - E. Mengusulkan kepada pimpinan agar saya tidak ikut serta lagi dalam diskusi
- 34.** Saya pernah melakukan suatu kesalahan yang mendasar, sehingga membuat atasan saya naik pitam dan marah kepada saya. Sikap saya adalah...
- A. Mendebat atasan saya
 - B. Menyimpan amarah dan mengumpatnya di dalam hati
 - C. Memahami sikap atasan saya tersebut dengan cara diam

- D. Menerima kemarahan tersebut dengan sikap positif
- E. Tidak menerima sikap atasan tersebut sebagai sesuatu yang wajar
- 35.** Pimpinan sering menuntut kami untuk menyelesaikan pekerjaan secara cepat dan tepat waktu, terutama dalam pemberian laporan akhir tahun. Sikap saya adalah...
- A. Mengusulkan kepada pimpinan agar memberikan waktu tambahan diberikan
- B. Menyelesaikan pekerjaan tersebut apa adanya
- C. Menyelesaikan sesuai waktu yang ditentukan apapun hasilnya
- D. Memperlambat agar atasan marah
- E. Mencari jalan keluar agar pekerjaan tersebut selesai sesuai dengan waktu yang ditetapkan atasan tanpa mengurangi kualitas pekerjaan tersebut
- 36.** Di kantor, saya sering mendapat kritikan dari teman sekerja. Sikap saya adalah...
- A. Balik mengkritik
- B. Diam saja
- C. Menanggapinya dengan serius
- D. Memahami kritik sebagai suatu masukan
- E. Mengacuhkan kritik tersebut, karena pekerjaan teman tersebut juga tidak baik
- 37.** Untuk dapat menjadi pegawai negeri sipil yang sukses, saya harus...
- A. Melakukan pekerjaan yang terbaik dengan standar kinerja yang tinggi
- B. Mematuhi perintah dan arahan pimpinan dengan loyal dan penuh kepatuhan
- C. Menerapkan ide-ide yang belum pernah diciptakan sebelumnya
- D. Bekerja sesuai dengan ketentuan yang telah ditetapkan oleh pimpinan
- E. Membina hubungan baik dengan setiap orang, rekan kerja, dan pimpinan
- 38.** Saya bercita-cita jadi pegawai negeri dilatarbelakangi oleh karena...
- A. Ingin mendapat pensiun di hari tua
- B. PNS bisa datang terlambat, pulang lebih cepat, dan tidak ada sanksi
- C. PNS sulit di-PHK
- D. Jam kerja PNS tidak seketat pegawai swasta
- E. Bermaksud mengabdikan bagi negara
- 39.** Suatu ketika timbul masalah dalam pekerjaan proyek yang berkaitan dengan tugas dan tanggung jawab saya. Sikap saya adalah...
- A. Mempelajari masalah tersebut terlebih dahulu
- B. Mengatakan bahwa saya tidak terlibat langsung dengan proyek tersebut

- C. Bertanggung jawab sesuai dengan peran saya dalam proyek tersebut
 - D. Membiarkan masalah tetap berlangsung
 - E. Melihat dulu sejauh mana saya terlibat
40. Unit kerja di mana saya bekerja, mengalami masalah dalam pengelolaan keuangan. Sebagai salah satu pegawai di unit tersebut, sikap saya adalah...
- A. Membuat usulan tertulis kepada pimpinan puncak agar menindak tegas yang terlibat dalam masalah tersebut
 - B. Menjaga kerahasiaan persoalan dan mencoba memberikan alternatif solusi kepada pimpinan
 - C. Tidak mencampuri masalah tersebut, karena itu urusan kepala keuangan
 - D. Tidak mempersoalkan masalah tersebut karena bukan bagian tugas saya
 - E. Menceritakan masalah tersebut ke lingkungan unit lain



Soal Uji Coba

Tes Bakat Skolastik & **Tes** Potensi Akademik

Lengkap dengan Kunci Jawaban dan Pembahasan

Soal Uji Coba TBS & TPA

A. TES KEMAMPUAN DASAR

KOSA KATA (Nomor 1—6)

1. PRUDENSIAL

- A. yang utama
- B. dapat dipercaya
- C. tarik-menarik
- D. bersifat bijaksana

2. KOHEREN

- A. beraneka ragam
- B. berhubungan
- C. tarik-menarik
- D. keindahan

3. REMEDI

- A. proses pengulangan
- B. proses penyembuhan
- C. proses penyelesaian perselisihan
- D. proses perdamaian yang melibatkan pihak ketiga

4. INTUISI

- A. tidak langsung
- B. bisikan hati
- C. pertimbangan pikiran
- D. pendekatan individu

5. SUPREMASI

- A. melebihi jangkauan
- B. bersifat kompleks
- C. keunggulan tertinggi
- D. hal pengangkatan

6. PLATFORM

- A. kode etik
- B. tata tertib

C. rencana kerja

D. anggaran dasar

SINONIM (Nomor 7—11)

7. RELUNG

- A. Ruang
- B. Labirin
- C. Dalam
- D. Panjang

8. RANAH

- A. Asal
- B. Tanah
- C. Kampung
- D. Domain

9. REKOGNISI

- A. Pengembalian
- B. Pemberitahuan
- C. Pengakuan
- D. Tuntutan

10. GITA

- A. Lagu
- B. Merdu
- C. Indah
- D. Musik

11. HIBRIDISASI

- A. Penyilangan
- B. Penjaringan
- C. Unggulan
- D. Penyuburan

ANTONIM (Nomor 12—16)

12. HIRAU

- A. Lalai
- B. Acuh
- C. Peduli
- D. Lupa

13. RETRO

- A. Baru
- B. Modern
- C. Canggih
- D. Progres

14. QUASI
 A. Nyata C. Lemah
 B. Langsung D. Turun
15. CURAM
 A. Licin C. Bertingkat
 B. Landai D. Padang
16. GENTAR
 A. Ragu C. Berani
 B. Takut D. Tantang

ANALOGI (Nomor 17—25)

17. KABIN : KAPAL
 A. buku : ruas
 B. kamar : hotel
 C. kokpit : pesawat
 D. gudang : bengkel
18. SUARA : DENGAR
 A. mata : melihat
 B. uang : tabung
 C. benang : jahit
 D. cantik : pandang
19. KOMPOR : API
 A. kipas : angin
 B. lemari : es
 C. pohon : buah
 D. jalan : macet
20. UMUR : TAHUN
 A. kecepatan : jam
 B. jam : detik
 C. kertas : helai
 D. ilmu : nilai
21. AIR : MINYAK
 A. gula : kopi
 B. anjing : kucing

- C. elang : ayam
 D. pintar : bodoh
22. JENDELA : TIRAI
 A. rambut : pita
 B. gunung : kabut
 C. awan : mendung
 D. wajah : dandan
23. BAWANG : SIUNG
 A. buku : lembar C. telur : butir
 B. pakaian : kodi D. kain : meter
24. SEKAM : PADI
 A. duri : durian
 B. arang : kayu
 C. sampul : buku
 D. sisik : ular
25. BASAH : AIR
 A. bakar : api
 B. kering : tanah
 C. dingin : hujan
 D. lebam : pukulan

Soal nomor 26—28 berdasarkan bacaan berikut.

Bacaan 1

Pertemuan antarpemerintah yang membahas perubahan iklim memperkirakan penambahan konsentrasi gas rumah kaca secara terus-menerus yang mengakibatkan peningkatan temperatur bumi dua hingga tiga derajat celcius pada 2050. “Meningkatnya temperatur itu akan diikuti oleh melelehnya es di kutub dan meningkatnya ketinggian

air laut,” kata Penasehat Kesehatan Lingkungan Organisasi Kesehatan Dunia (WHO) perwakilan Indonesia, Sharad Adhikary di Jakarta.

Menurut dia, kondisi tersebut akan terus berlanjut jika manusia terlambat mengadopsi tindakan efektif untuk mengontrol lebih dari 70 juta ton gas rumah kaca yang setiap hari dibuang ke lapisan tipis atmosfer. Keseimbangan atmosfer yang menopang kehidupan umat manusia saat ini telah luar biasa rapuh. Kerusakan akibat perbuatan manusia yang terus melepaskan gas rumah kaca akan mengakibatkan konsekuensi yang drastis yang melintasi batas ras, agama, ekonomi, dan politik.

“Akibatnya, bumi dan manusia di atasnya akan menjadi lebih miskin, lapar, berpenyakit, serta bencana banjir,” katanya. Menurut dia, tidak ada satu pun atau negara yang dapat menghindari dampak perubahan iklim ini. Ia menuturkan, manusia memerlukan cara untuk beradaptasi dan membangun ketahanan akibat kerentanan dari perubahan iklim yang hingga saat ini masih menjadi pertanyaan.

(Disadur dari:www.sains.kompas.com)

26. Pernyataan yang sesuai dengan bacaan 1 adalah...
- A. puncak penambahan konsentrasi gas rumah kaca akan terjadi pada tahun 2050

- B. melelehnya es di kutub disebabkan oleh gas rumah kaca
- C. temperatur bumi merupakan dampak dari perubahan iklim
- D. Organisasi Kesehatan Dunia (WHO) melakukan penelitian tentang dampak gas rumah kaca

27. Pernyataan yang jawabannya tidak terdapat pada bacaan 1 adalah...
- A. apa penyebab terjadinya perubahan iklim?
 - B. bagaimana mengontrol gas rumah kaca?
 - C. mengapa diperlukan tindakan efektif untuk mengatasi kenaikan temperatur bumi?
 - D. apa dampak perubahan iklim?
28. Pernyataan yang tidak sesuai dengan bacaan 1 adalah...
- A. Indonesia mengalami dampak dari perubahan iklim
 - B. gas rumah kaca merusak lapisan atmosfer
 - C. perubahan iklim disebabkan karena tidak adanya tindakan efektif
 - D. keseimbangan atmosfer memengaruhi kehidupan manusia

Soal nomor 29—30 berdasarkan bacaan berikut.

Bacaan 2

Kuala Lumpur punya ikon menara kembar Petronas, Jakarta punya ikon Tugu Monas, maka Surabaya dan Madura punya ikon baru, Jembatan Suramadu. Jembatan ini

menghubungkan pulau Jawa (di Surabaya) dan pulau Madura (di Bangkalan). Jembatan Suramadu akan menjadi jembatan terpanjang di Indonesia saat ini. Jembatan Suramadu dimulai pembangunannya pada tanggal 20 Agustus 2003. Dari total panjang jembatan sejauh 5.438 m terdiri dari *causeway* sisi Surabaya 1.458 m, *causeway* sisi Madura 1.818 m. Bentang tengah panjang keseluruhan mencapai 2.162 m terdiri dari dua *Approach Bridge* masing-masing 672 m dan *Main Bridge* sepanjang 818 m. Panjang jalan pendekat dari sisi Surabaya mencapai 4,35 km dan sisi Madura 11,50 km.

Selain konsorsium nasional, maka yang juga memiliki peranan penting dalam pembangunan jembatan Suramadu adalah perusahaan konstruksi dari China. Itulah sebabnya alas jembatan yang disebut dengan *Steel Box Girder* (SBG) pembuatannya dilakukan di Tiongkok. Ternyata selain pembuatannya harus dilakukan di Tiongkok, pengirimannya memakan waktu cukup lama. Pengiriman dari Tiongkok dilakukan empat kali selama 30 hari. Itupun masih harus dirakit lagi di Gresik.

Berbagai tantangan telah dihadapi selama pelaksanaan konstruksi, mulai dari tahap pemancangan, pengecoran, sampai pemasangan *girder* dan bangunan atas. Kondisi geologis dan kondisi geografis ling-

kungan proyek yang berada di atas laut menjadi tantangan untuk dapat menyelesaikan pekerjaan ini. Belum lagi cuaca yang menjadi kendala.

Perkiraan biaya pembangunan jembatan ini adalah Rp4,5 triliun. Besarnya biaya untuk pembangunan jembatan ini tentunya menjadi kendala tersendiri bagi keberlanjutan penyelesaian jembatan ini. Oleh karena itulah, ketika krisis ekonomi melanda Indonesia, sempat menunda keberlanjutan pembangunan jembatan Suramadu.

(Disadur dari berbagai sumber-TPA Center
BPPK)

29. Yang dimaksud konsorsium dalam bacaan 2 adalah...
- A. himpunan beberapa pengusaha yang mengadakan usaha bersama
 - B. seminar tentang proses konstruksi dan proses pembuatan jembatan
 - C. penelitian dan pengembangan
 - D. jejak pendapat tentang pembangunan jembatan
30. Pernyataan berikut yang sesuai dengan bacaan 2 adalah...
- A. setiap kota yang memiliki ikon tertentu merupakan kota maju
 - B. tidak ada jembatan lain yang mengalahkan jembatan Suramadu
 - C. pengiriman SBG memerlukan waktu 120 hari

35. Pernyataan yang tidak didukung bacaan 3 adalah...

- A. negara dalam melindungi kesamaan anak-anak dalam mengakses informasi dalam dunia maya
- B. internet memengaruhi tumbuh kembang anak
- C. diperlukan peraturan tentang batasan usia bagi pengguna internet
- D. kejahatan terhadap anak di dunia maya merupakan hal yang perlu diperhatikan

36. Semula harga satu porsi mie ayam dan harga segelas jus jeruk masing-masing adalah Rp6.000,00. Setelah kenaikan harga minyak tanah, semangkok mie ayam harganya naik 12% sedangkan harga segelas jus jeruk naik 8%. Kenaikan harga dari segelas jus jeruk dan satu porsi mie ayam adalah... %.

- A. 66,67
- B. 32
- C. 20
- D. 10

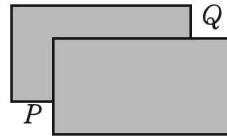
37. $7,50 : \left(\frac{4}{10} + 16\%\right) \times 8,27 \dots$

- A. 110,76
- B. 110,85
- C. 110,125
- D. 110,105

38. $1 - \frac{1}{10} - \frac{1}{100} - \frac{1}{1.000} - \frac{1}{10.000} = \dots$

- A. $\frac{8.889}{10.000}$
- B. $\frac{8.899}{10.000}$
- C. $\frac{8.989}{10.000}$
- D. $\frac{8.999}{10.000}$

39. Dua lembar kertas berbentuk persegi panjang masing-masing berukuran 12 cm × 15 cm diletakkan tumpang tindih seperti pada gambar berikut.



Dua sisi yang saling tumpang tindih dari kedua persegi panjang di atas berpotongan tegak lurus ($\angle P = \angle Q = 90^\circ$). Jika keliling dan luas dari daerah yang diarsir pada gambar di atas adalah 72 cm dan 342,5 cm². Maka berapa panjang PQ?

- A. $8\sqrt{3}$ cm
- B. 13 cm
- C. 17 cm
- D. $\sqrt{1.261}$ cm

40. Diberikan dua persegi, X dan Y, dimana luas X seperempat dari luas Y. Jika keliling Y adalah 48 cm, maka keliling X adalah...

- A. 12 cm
- B. 24 cm
- C. 32 cm
- D. 36 cm

41. $\left\{ \sqrt[3]{\sqrt[5]{\sqrt[7]{(\sqrt{X^{14}})^3}}} \right\}^2 = \dots$

- A. $X^{\frac{2}{5}}$
- B. $X^{\frac{2}{3}}$
- C. $X^{\frac{5}{3}}$
- D. $X^{\frac{5}{2}}$

42. Kopi kualitas I dan kualitas II dicampur dengan perbandingan berat $a : b$. Harga kopi kualitas I dan kualitas II tiap kg masing-masing adalah Rp16.000,00 dan Rp18.000,00.

Jika harga kopi kualitas I naik 15%, sedangkan kopi kualitas II turun 10%, tetapi campuran setiap kg tidak berubah, maka nilai $a : b$ adalah...

- A. 3 : 4 C. 8 : 9
B. 4 : 3 D. 9 : 8

43. Rata-rata sembilan bilangan adalah 8. Salah satu diantara kesembilan bilangan tersebut dibuang. Rata-rata delapan bilangan tinggal 7. Jika x adalah bilangan yang dibuang dan $y = 16$, maka...

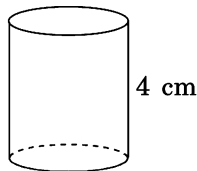
- A. $x < y$
B. $x > y$
C. $x = y$
D. hubungan antara x dan y tidak dapat ditentukan

44. 35% dari X adalah 42 dan $\frac{5}{6}$ dari Y adalah 25. Nilai $X + Y$ adalah...

- A. 67 C. 145
B. 90 D. 150

45. Sebuah tabung seperti pada gambar berikut mempunyai tinggi 4 cm. Tabung berisi air seperdelapan bagian dari isi penuhnya. Maka kedalaman air pada tabung itu adalah...

- A. $\frac{1}{2}$ cm
B. 1 cm
C. $\frac{3}{2}$ cm
D. 2 cm



46. Jika operasi * terhadap bilangan positif didefinisikan sebagai pengurangan bilangan pertama oleh bilangan

kedua, kemudian dikalikan dengan bilangan pertama dan dibagi dengan bilangan kedua, maka $6 * (3 * 2) = \dots$

- A. 12 C. 16
B. 14 D. 18

47. Mita adalah karyawan pada perusahaan tekstil yang bertugas menyimpan data kenaikan produksi dalam 5 periode. Setelah dicari, Mita menemukan empat data kenaikan, yaitu 4%, 9%, 7%, dan 5%. Satu data lagi, yaitu data ke-5, bila Mita hanya ingat bahwa rata-rata hitung dan median dari lima data tersebut adalah sama, maka kenaikan produksi yang mungkin pada periode ke-5 adalah berkisar antara...

- A. 0% sampai 10%
B. 5% sampai 15%
C. 10% sampai 15%
D. 10% sampai 20%

48. Sebuah segitiga sama sisi dan sebuah lingkaran memiliki keliling yang sama. Jika x adalah luas segitiga sama sisi tersebut dan y adalah luas lingkaran tersebut, maka...

- A. $x > y$
B. $x < y$
C. $x = y$
D. hubungan antara x dan y tidak dapat ditentukan

49. Sebuah mobil diisi 12 liter bensin, dengan kecepatan rata-rata 48 km/jam. Dia bergerak dari kota A ke kota B selama 4 jam (dengan bensin yang

tersisa sebanyak 0,5 liter). Jika dengan kecepatan sama, namun diisi dengan 37 liter bensin, berapakah waktu yang diperlukan untuk bergerak dari kota A ke kota B?

- A. $\frac{3}{2}$ jam C. $\frac{9}{4}$ jam
 B. 2 jam D. 4 jam

50. Di dalam suatu ujian, masing-masing siswa diberikan skor 5, 10, atau 15. Banyaknya siswa untuk masing-masing skor ditunjukkan pada tabel.

Skor	5	10	15
Banyaknya siswa	8	12	x

Jika median skornya adalah 10, maka nilai terbesar yang mungkin untuk x adalah...

- A. 8 C. 19
 B. 9 D. 20

51. Salah satu sudut pada segitiga siku-siku adalah 45° . Hubungan antara panjang alas dan tinggi segitiga tersebut adalah...

- A. alas < tinggi
 B. alas > tinggi
 C. alas = tinggi
 D. hubungan antara alas dan tinggi tidak dapat ditentukan

52. Moko berlari empat kali lebih cepat dari kecepatan Koko berjalan kaki. Koko lebih cerdas dari Moko. Pada suatu ujian, Koko berhasil menyelesaikan semua soal ujian pada pukul 13.00 WIB dan mulai berjalan pulang. Moko berhasil menyelesaikan ujiannya pada pukul 13.12 WIB dan berlari

mengejar Koko. Pada pukul berapakah Moko tepat akan menyusul Koko?

- A. 13.36 WIB C. 13.28 WIB
 B. 13.24 WIB D. 13.30 WIB

53. Jika $-2 \leq x \leq 7$ dan $4 \leq y \leq 9$, maka hubungan x dan y adalah...

- A. $x > y$
 B. $x < y$
 C. $x = y$
 D. hubungan antara x dan y tidak dapat ditentukan

54. Jika $0 < a < b$ dan $a^2 + b^2 = 4ab$, maka

nilai $\frac{b-a}{a+b}$...

- A. $\frac{1}{3}$ C. $\sqrt{3}$
 B. $\frac{1}{3}\sqrt{3}$ D. 3

55. Jika nilai $a^{-4} = 256$ dan $b^{-5} = 243$, maka...

- A. $a - b = \frac{1}{2}$ C. $a : b = \frac{1}{2}$
 B. $a \cdot b = \frac{1}{12}$ D. $3a = 4b$

56. Suatu kelompok belajar mempunyai anggota 7 orang. Apabila setiap belajar semua anggota kelompok duduk dengan posisi melingkar, berapakah banyaknya cara mengatur posisi tempat duduknya...

- A. 720 C. 2.520
 B. 1.440 D. 5.040

57. $56,34^2 - 43,66^2 = \dots$

- A. 1.268,0 C. 1.269,0
 B. 1.268,1 D. 1.269,1

58.




Diagram menunjukkan banyak siswa yang memilih salah satu dari lima pilihan jawaban. Jika pilihan terbanyak merupakan jawaban benar, maka persentase siswa yang terkecoh dalam mengerjakan soal adalah...

- A. 40% C. 56%
 B. 44% D. 60%

59. Seekor kambing dapat menghabiskan rumput di suatu lapangan dalam waktu 4 minggu. Jika seekor sapi mampu menghabiskan rumput di lapangan yang sama dalam waktu 3 minggu, berapa hari rumput akan habis jika kambing dan sapi makan secara bersama-sama di lapangan tersebut?

- A. 12 hari C. 20 hari
 B. 18 hari D. 24 hari

60. Dari kota X ke kota Y dilayani oleh 3 bis dan dari kota Y ke kota Z oleh 4 bis. Ali berangkat dari kota X ke kota Z melalui kota Y. Jika saat kembali

dari kota Z ke kota X juga melalui kota Y, ia tidak mau menggunakan bis yang sama, maka banyaknya cara perjalanan yang dapat ditempuh oleh Ali adalah...

- A. 12 C. 72
 B. 36 D. 96

61. Volume tabung terbesar yang ada di dalam kubus berukuran 2 satuan adalah... satuan volume.

- A. $\frac{1}{4}p$ C. $2p$
 B. $\frac{1}{2}p$ D. $4p$

62. Dari 60 orang anak diketahui bahwa 37 orang diantaranya menyukai sayuran, 19 orang menyukai ikan, dan x orang tidak menyukai keduanya. Berapa anak yang menyukai sayuran dan ikan?

- A. $x + 4$ C. $x - 56$
 B. $x - 4$ D. $-x + 56$

63. Jika A luas lingkaran berjari-jari 5 cm dan B luas segi enam beraturan bersisi 5 cm, maka...

- A. $A < B$
 B. $A > B$
 C. $A = B$
 D. hubungan A dan B tidak dapat ditentukan

64. Keluarga Pak Anwar akan berfoto bersama di sebuah studio foto. Pak Anwar mempunyai 2 orang anak. Mereka semua akan berfoto secara berdampingan. Peluang foto Pak Anwar dan istri berdampingan adalah...

A. $\frac{1}{12}$
B. $\frac{1}{6}$

C. $\frac{1}{3}$
D. $\frac{1}{2}$

65. Suatu kelas terdiri atas 48 anak. Dari keseluruhan anak yang mengikuti kegiatan ekstrakurikuler tercatat 20 anak mengikuti ekskul kesenian, 25 anak mengikuti ekskul olahraga, 12 anak ekskul pramuka, 10 anak mengikuti ekskul kesenian dan olahraga, 5 anak mengikuti ekskul kesenian dan pramuka, 6 anak mengikuti ekskul olahraga dan pramuka, sedangkan 4 anak mengikuti ekskul kesenian, olahraga, dan pramuka. Jumlah anak yang mengikuti kegiatan ekstrakurikuler adalah...

- A. 48
B. 45
C. 42
D. 40

66. Pak Agung mencampur 25 kg beras jenis A seharga Rp5.200,00/kg dengan 15 kg beras jenis B seharga Rp4.800,00/kg. Aries kemudian membeli 8 kg beras campuran tersebut dan memberikan uang Rp100.000,00. Berapa kembalian yang harus Aries terima?

- A. Rp40.400,00
B. Rp44.000,00
C. Rp56.000,00
D. Rp59.600,00

67. Dari 100 siswa, 39 gemar olahraga. Di antara penggemar olahraga tersebut, 11 orang siswa juga gemar bermain musik. Jika ada 32 siswa tidak gemar olahraga maupun musik, maka banyaknya penggemar musik di antara 100 siswa tersebut adalah...

- A. 29
B. 39
C. 40
D. 71

68. Narti membeli tabloid setiap 4 hari sekali, sedangkan Lia membeli tabloid setiap 7 hari sekali. Kemarin Narti membeli tabloid. Lia akan membeli tabloid besok. Keduanya paling cepat akan membeli tabloid pada hari yang sama... hari lagi.

- A. 28
B. 15
C. 16
D. 14

69. Dalam suatu ruangan terdapat 47 orang. Berapa banyak salaman yang dilakukan jika setiap orang saling bersalaman?

- A. 728
B. 981
C. 1.081
D. 1.128

70. Antara bilangan 20 dan 116 disisipi 11 bilangan. Bilangan ini bersama dua bilangan semula membentuk deret hitung. Jumlah deret hitung adalah...

- A. 952
B. 884
C. 880
D. 816

71. Klub olahraga Sehat memiliki anggota 72 orang. Jika 12 orang anggota klub tersebut menyukai olahraga sepeda santai dan basket, 9 orang menyukai olahraga lain selain kedua jenis olahraga tersebut, dan jumlah anggota yang hanya menyukai basket dua kali lebih banyak dari jumlah anggota yang hanya menyukai sepeda santai. Berapa orang jumlah anggota yang hanya menyukai basket?

- A. 14 orang C. 29 orang
 B. 17 orang D. 34 orang

72. Sebuah kubus diletakkan di dalam sebuah bola sedemikian sehingga setiap titik sudut kubus menyentuh permukaan dalam bola. Jika panjang rusuk kubus x , berapakah luas permukaan bola yang melingkupinya?

- A. $\frac{3}{2}px^2$ C. $4px^2$
 B. $3px^2$ D. $12px^2$

73. Jika m adalah sembarang bilangan bulat positif dan diketahui

$$2x + m = y$$

$$m + y = x$$

$$x + y = z$$

Nilai maksimum yang mungkin dari $x + y + z$ adalah...

- A. 10 C. -5
 B. 5 D. -10

74. Jika $-102x + 17y = 136$, maka nilai $66x - 11y = \dots$

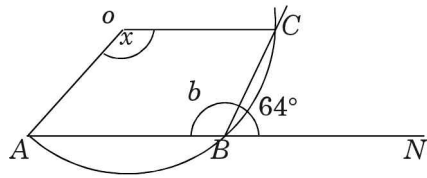
- A. -88 C. 48
 B. -48 D. 88

75. $\frac{x+1}{4} - 3 = \frac{35}{12} - \frac{3x+2}{3}$.

Nilai x adalah...

- A. 3 C. 5
 B. 4 D. 6

76. Pada gambar di bawah, titik O adalah sudut pusat lingkaran dan ABN adalah sebuah garis lurus.



Besar sudut x adalah...°.

- A. 116° C. 128°
 B. 138° D. 23°

77. Jika $-5 \leq p \leq 8$ dan $-1 < q < 5$, maka...

- A. $0 \leq p^2 + q^2 \leq 89$
 B. $0 \leq p^2 + q^2 < 89$
 C. $26 \leq p^2 + q^2 < 89$
 D. $26 \leq p^2 + q^2 \leq 89$

78. Pak Aditya membeli tiga jerigen minyak goreng masing-masing berisi 25 liter dengan harga Rp600.000,00 dan menjualnya dengan mengharapkan laba 5% dari harga beli. Beberapa hari kemudian, harga minyak goreng turun dan Pak Aditya terpaksa harus menjual sisa persediaan minyak goreng sebanyak 21 liter dengan harga Rp7.400,00/liter. Berapa laba/rugi yang diperoleh Pak Aditya setelah semua minyak goreng itu terjual habis?

- A. Laba 1,5% C. Laba 2,2%
 B. Rugi 1,5% D. Rugi 2,2%

79. Enam orang mahasiswa masing-masing memiliki sejumlah uang. Jika uang yang dimiliki oleh setiap dua orang dari mereka dijumlahkan, besarnya adalah (dalam ribuan) 215, 197, 264, 236, 208, 229, 252, 244, 218, 241, 226, 249, 258, 256, 247. Jumlah

uang keenam mahasiswa tersebut adalah...

- A. 590 C. 708
- B. 668 D. 780

80. Seratus siswa di sekolah X mengikuti tes seleksi beasiswa dan skor rata-ratanya adalah 100. Banyaknya siswa kelas I yang mengikuti seleksi tersebut 50% lebih banyak dari siswa kelas II. Dan skor rata-rata siswa kelas II, 50% lebih tinggi dari skor rata-rata siswa kelas I. Skor rata-rata siswa kelas II adalah...

- A. 83,33 C. 60
- B. 125 D. 40

KEMAMPUAN PENALARAN
(Nomor 81—120)

PETUNJUK:

Berdasarkan informasi yang disajikan, pilihlah jawaban yang paling tepat untuk setiap soal yang diberikan!

81. Telur ayam kampung lebih mahal daripada telur ayam petelur. Telur bebek lebih murah daripada telur ayam kampung. Jadi,...

- A. telur bebek lebih mahal daripada telur ayam petelur
- B. telur ayam petelur lebih mahal daripada telur bebek
- C. telur ayam petelur dan telur bebek sama mahalnya
- D. telur ayam petelur dan telur bebek lebih murah daripada telur ayam kampung.

82. Dalam suatu pertandingan, kesebelasan Bandung menang atas kesebe-

lasan Palembang dengan skor 1-0. Kesebelasan Makassar kalah atas kesebelasan Medan dengan skor 2-3. Kesebelasan Medan menang atas kesebelasan Bandung dengan skor 2-1. Kesebelasan yang menjuarai pertandingan ini adalah...

- A. Bandung C. Medan
- B. Makassar D. Palembang

83. Agus, Robby, dan Yudi menyukai bola basket. Eko dan Robby memakai kacamata. Maka yang kacamatanya pecah ketika bermain basket adalah...

- A. Agus C. Yudi
- B. Robby D. Eko

84. Fuad adalah adik Sardy. Sartika adalah kakak Fuad dan lebih muda daripada Sardy. Siapa yang paling tua?

- A. Sardy
- B. Fuad
- C. Sartika
- D. Tidak dapat ditentukan

Untuk soal nomor 85—88, gunakan informasi berikut!

Andi berjalan lebih cepat daripada Ari. Indah berjalan lebih cepat daripada Dina. Wika berjalan lebih lambat daripada Ari. Tidak ada anak yang berjalan dengan kecepatan yang sama.

85. Jika Indah berjalan lebih cepat daripada Andi, maka...
- Dina berjalan lebih cepat daripada Andi
 - Wika berjalan lebih cepat daripada Dina
 - Indah berjalan lebih cepat daripada Ari
 - Ari berjalan lebih cepat daripada Andi
86. Jika Wika berjalan lebih cepat daripada Indah, maka...
- Andi berjalan paling cepat
 - Dina berjalan lebih cepat daripada Andi
 - Dina berjalan paling lambat
 - Jawaban A dan C benar
87. Jika Indah berjalan lebih lambat daripada Ari, maka anak yang berjalan paling cepat adalah...
- Ari
 - Andi
 - Dina
 - Wika
88. Jika Dina berjalan tidak lebih lambat daripada Ari, maka...
- Dina berjalan lebih cepat daripada Wika
 - Wika berjalan tidak lebih lambat daripada Dina
 - Dina berjalan lebih cepat daripada Andi
 - Andi berjalan lebih cepat daripada Dina

Untuk soal nomor 89—92, gunakan informasi berikut!

P, Q, R, S, dan T adalah nama-nama halte yang terletak di sepanjang garis lurus dari Utara ke Selatan, dengan ketentuan: P dan Q dipisah oleh 4 halte. R dan S dipisah oleh 6 halte. T dan R dipisah oleh 1 halte. Q dan R dipisah oleh 2 halte.

89. Jika halte Q dan halte T berada di sebelah Selatan halte R, dan halte S di Utara halte R. Pernyataan berikut pasti benar adalah...
- S ke T lebih dekat daripada R ke Q
 - R ke S lebih dekat daripada T ke Q
 - T ke R lebih dekat daripada Q ke T
 - Q ke T lebih dekat daripada R ke S
90. Pernyataan berikut yang bisa benar adalah...
- S dan T dipisah oleh 8 halte
 - S dan Q dipisah oleh 1 halte
 - T dan R dipisah oleh 4 halte
 - T dan Q dipisah oleh 1 halte
91. Pernyataan berikut yang pasti salah adalah...
- P dan R dipisah oleh 11 halte
 - P dan S dipisah oleh 4 halte
 - Q dan S dipisah oleh 9 halte
 - T dan S dipisah oleh 8 halte

92. Jika jarak setiap halte 1 km, dan seseorang ingin berangkat dari R lalu berturut-turut singgah di S, Q, dan T, lalu kembali lagi ke R, maka jarak minimum yang ditempuh adalah...
- A. 20 km
 - B. 18 km
 - C. 16 km
 - D. 14 km

PETUNJUK:

Berdasarkan informasi yang diberikan, pilihlah kemungkinan kesimpulan yang paling tepat!

93. Semua balita minum susu. Sebagian balita sudah makan nasi.
- A. Semua balita minum susu dan sudah makan nasi.
 - B. Balita yang minum susu biasanya sudah makan nasi.
 - C. Sebagian balita minum susu dan sudah makan nasi.
 - D. Balita yang sudah makan nasi harus minum susu.
94. Setiap pagi Ida makan bubur. Setiap makan bubur Ida minum teh.
- A. Ida sangat suka makan bubur.
 - B. Ida selalu makan teh dan minum bubur.
 - C. Ida hanya makan bubur dan minum teh.
 - D. Ida minum teh setiap pagi.
95. Semua anak pandai bernyanyi. Sebagian anak pandai bermain gitar. Sebagian anak yang bermain gitar juga meniup harmonika.
- A. Anak yang pandai bermain gitar tentu pandai bernyanyi.
 - B. Semua anak pandai bernyanyi, bermain gitar, dan meniup harmonika.
 - C. Anak yang pandai meniup harmonika belum tentu pandai bernyanyi.
 - D. Anak yang pandai bernyanyi tentu dapat bermain harmonika.
96. Tamatan SMA belum tentu mahasiswa. Uni tamatan SMA dan melamar bekerja di PT. Mawar Melati. Tenaga yang dibutuhkan di PT. Mawar Melati bukan tamatan SMA.
- A. Uni tidak dibutuhkan PT. Mawar Melati
 - B. Uni dibutuhkan PT. Mawar Melati
 - C. Uni bukan mahasiswa
 - D. Tidak ada kesimpulan yang benar
97. Anak laki-laki yang masih kecil selalu diberikan mobil-mobilan oleh ayahnya. Dian punya banyak mobil-mobilan di rumahnya. Kakak dan adik Dian tidak suka mobil-mobilan.
- A. Kakak dan adik Dian adalah laki-laki semua.
 - B. Kakak dan adik Dian tidak sering dibelikan mobil-mobilan oleh ayahnya.
 - C. Semua mobil-mobilan Dian adalah pemberian ayahnya.
 - D. Tidak ada kesimpulan yang benar.

98. Ani adalah anak yang rajin. Ia tidak pergi ke pasar kecuali hari Minggu. Hari ini hari Kamis.

- A. Ani pergi ke pasar
- B. Ani tidak pergi ke pasar
- C. Ani pergi ke sekolah
- D. Ani anak yang pintar

99. Jika F adalah G, maka C tidak sama dengan D. Jika C lurus, maka D juga lurus, mereka selalu sama dalam segala hal.

- A. Jika F lengkung, maka G juga lengkung
- B. Jika C manis maka G pahit
- C. F bukan G
- D. G adalah F

100. Semua jambu terasa manis. Semua yang manis disukai anak-anak.

- A. Semua jambu disukai anak-anak
- B. Semua anak-anak hanya menyukai yang manis
- C. Semua anak hanya menyukai jambu
- D. Semua buah disukai anak-anak

PETUNJUK:

Pilihlah yang merupakan lanjutan dari barisan dari setiap soal yang diberikan berikut!

101. 2, 3, 4, 7, 8, 11,...

- A. 16, 15
- B. 15, 16
- C. 12, 15
- D. 12, 16

102. 1, 1, 2, 3, 5, 8, 13,...

- A. 21, 32
- B. 21, 34
- C. 24, 35
- D. 24, 37

103. 5, 7, 50, 49, 500, 343,...

- A. 2401
- B. 3500
- C. 4900
- D. 5000

104. 27, 64, 18, 12, 36,...

- A. 8, 27
- B. 8, 25
- C. 6, 27
- D. 6, 25

105. X, Y, K, X, U, L, X, Q,...

- A. M
- B. N
- C. V
- D. X

106. A, B, C, E, H,...

- A. M, T
- B. N, T
- C. N, U
- D. M, U

107. A, B, D, G, K,...

- A. O, V
- B. O, U
- C. P, U
- D. P, V

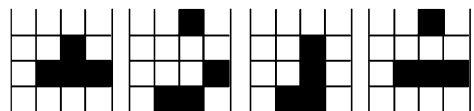
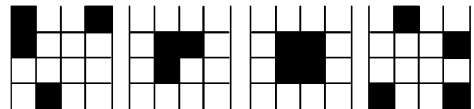
108. D, Y, N, Y, X,...

- A. A
- B. S
- C. W
- D. Y

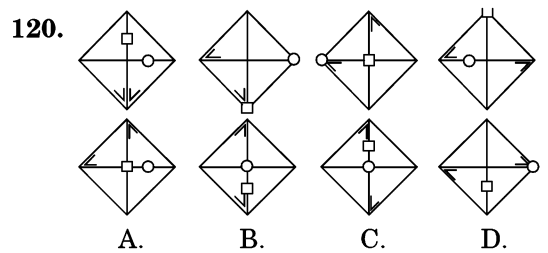
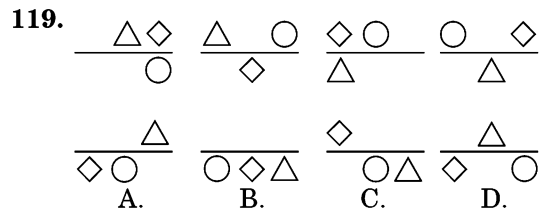
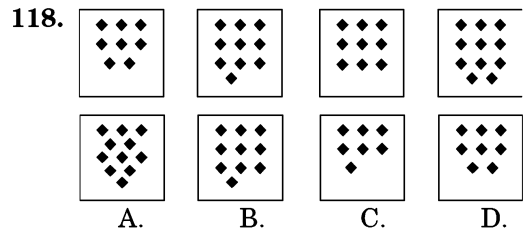
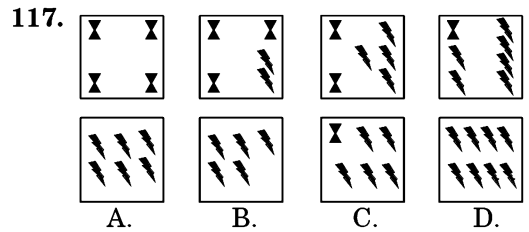
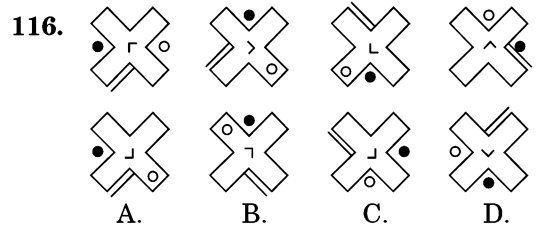
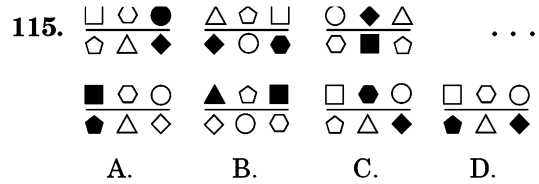
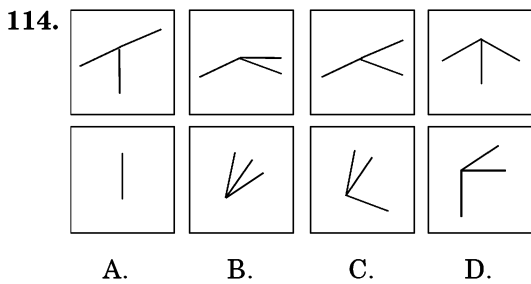
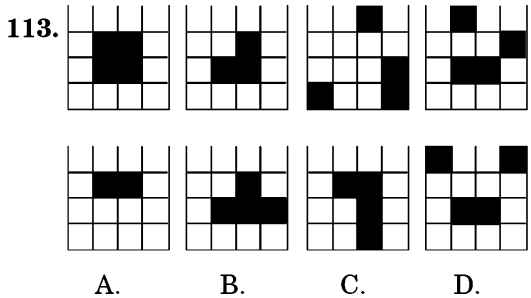
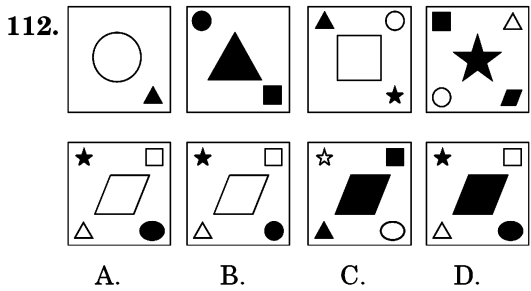
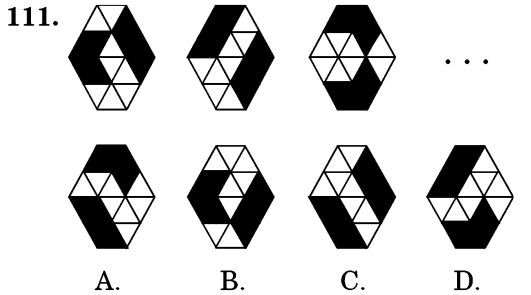
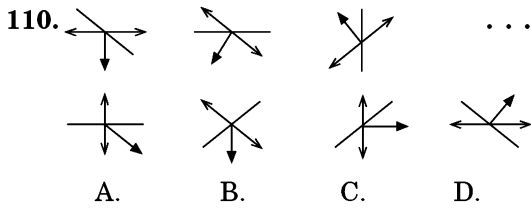
PETUNJUK:

Untuk soal nomor 109—120, Anda akan melihat deretan pola atau gambar. Untuk masing-masing soal terdiri atas deretan pola atau gambar yang disusun berdasarkan prinsip tertentu. Tugas Anda adalah memilih salah satu dari empat pilihan yang merupakan lanjutan dari deretan pola atau gambar dalam soal.

109.



- A.
- B.
- C.
- D.



B. TES BAHASA INGGRIS

121. ...you fatter when you studied in senior high school?
A. was C. were
B. are D. have
122. Coral reefs areas... small fish live and take shelter are damaged now.
A. which C. in where
B. of whose D. in which
123. You...unplug the toaster before you try to clean it.
A. have better to
B. better to
C. had better
D. should be better
124. The Harvard Art Museums have some great... to be displayed.
A. stuff C. stuffes
B. stuffs D. stuves
125. Some of the shops I wanted to see... no longer in the city.
A. is C. have
B. are D. were
126. Rust can deteriorate a steel pipe to such an extent that it will snap easily... it were a twig.
A. if C. as though
B. unless D. although
127. While... to buy the concert ticket, the man with the beard stole the young lady's purse.
A. he queuing C. queuing
B. he queues D. queued
128. The play performed by Teater EMWE was good,... it could have been improved by adding the sound effects.
A. thus C. but
B. and D. or
129. Kiranti said to Tono, "Did you finish your homework?", Kiranti asked Tono...
A. whether he finished his homework
B. whether he has finished his homework
C. if he finished his homework
D. if he had finished his homework
130. Susi made Andi... his sandals before he went into her house.
A. takes off C. took off
B. take off D. taken off
131. The farmers exterminate rodents in their farmland...they damage the crops.
A. if C. however
B. though D. as
132. Not only... the best student in his school, but he also receives a scholarship.
A. Markus becomes
B. did Markus become
C. does Markus become
D. Markus becoming
133. The English tutor in our company is always given... honorarium every month.

- A. neither did Rommy and Firdaus
 B. either didn't Rommy and Firdaus
 C. Rommy and Firdaus did either
 D. Rommy and Firdaus didn't neither
147. Prima's father is looking forward to... the premiere of "*Garuda di Dadaku*".
 A. attend C. attended
 B. attending D. attends
148. There... antique furniture available in this gallery three days ago.
 A. was not C. is not
 B. was no D. is no
149. Abdul... continuing his education to the Graduate Program to working in business.
 A. likes C. had better
 B. would rather D. prefers
150. ... can solve the algorithm test, even Bowo, the cleverest student in our school.
 A. Everyone C. Somebody
 B. No one D. All

ERROR RECOGNITION

Choose the one word or phrase which is not appropriate for the standard written English.

151. Opposite with the Gambir Station, A
 you will find the old "Monas Square" B C
 and the statue of R.A. Kartini. D

152. The Sony camcorder demo was fun A
 and impressive, but it is not as better
as B C
Microsoft's. D
153. Recently, the work had been being
 A B C
done by John M Rayyan. D
154. The thief who stole my watch was A
compelled to restore it back again. B C D
155. I try to figure in the answer of what
 A B C
 the function of organization is. D
156. A heavy snowstorm began here A
early this morning, making the
 B C
 fields similar with midwinter. D
157. In the meeting, we gave the clients A
our telephone number, and they gave B C
their. D
158. The patient who the physician A B
diagnosed with cancer left suddenly. C D

- 162.** According to the passage, the high maternal mortality rate is caused by the following, EXCEPT...
- The lack of presence of the public health's staff and doctors in working hours.
 - The lack of the civil servant health providers in number.
 - The decreases of performance showed by the private sector in dealing with health care.
 - The maldistribution of the public health subsidies among the provinces.
- 163.** According to the passage, private sector services are preferred due to...
- The reliability of staff and doctors in private clinics.
 - The absence of public health providers.
 - The bigger amount of fund spent for the health care problems.
 - The amount of public doctors performing "dual practice".
- 164.** What is the main idea of the passage?
- The maternal health problem in Indonesia
 - The causes of high material death rate in Indonesia
 - The way to improve maternal health in Indonesia
 - The public health service versus the private health service
- 165.** The word "their" in line 22 to refers to...
- experts
 - civil servants
 - health providers
 - doctors
- 166.** The word "scant" in line 34 is closest in meaning with...
- insignificant
 - unlimited
 - inadequate
 - unreliable
- 167.** It can be inferred from the passage that the best solution for the government in dealing with "dual practice" problem is...
- To manage the presence of public health during work hours
 - To control the distribution of public health staff among provinces
 - To improve the quality and service of public health staff
 - To give sanction to the public health staff performing "dual practice"

Read the passage carefully and select the one correct answer from the four choices (A, B, C, D).

Reading 2

Indonesian National Armed Forces (Tentara Nasional Indonesia or TNI) have the total of approximately 350.000 members, including the army, the navy, marines, and air force. The army is the largest branch with about

Read the passage carefully and select the one correct answer from the four choices (A, B, C, D).

Reading 3

One of the most effective justice sector institutions in Indonesia is the Corruption Eradication Commission (KPK), established in December 2002. The KPK demonstrates what can be achieved when the different functions of investigation and prosecution are coordinated. Moreover, it works with a specialized anti-corruption chamber are dominated by a majority of ad hoc judges whose reputation for honesty is well known.

However, in December 2006, the Constitutional Court struck down the law creating the anticorruption court on the grounds that it was not created as part of The Law on the Courts. The Constitutional Court gave parliament three years to amend the law and properly constitute the anti-corruption court under the law on the courts, but allowed the anti-corruption courts to continue to functioning the mean time. The parliament set it self a deadline of March 2009 to pass the new law. This was the extended to September many legislators have been arrested by the KPK and convicted in the anticorruption court, leading some to question of

the parliament lacks motivation to pass this law.

The KPK consistently gets convictions in corruption cases, showing what can be done with clean courts, professional investigation, and effective presecutors. But this kind of succesful cooperation is certainly an exception. Their consistent convictions raise the bar for the police, the attorney general's office and the courts. Indonesia need coordinated bold leadership if it is to get out of the corruption quagmire. Better coordination between police and prosecutors is essential. They should have both the technology and the legal means to obtain wire taps and recordings the way the KPK does to obtain convictions in corruption cases.

174. The idiom "raise the bar" in line 32 has the same meaning with...
- A. set the higher standard
 - B. add the list dutties
 - C. provide new objectives
 - D. hive more responsibility
175. The word "this" in line 30 refers to...
- A. The process of constituting the new anti- corruption law
 - B. The deadline the parliament set to pass the new law

- C. The permission to keep on functioning the anticorruption courts
- D. The arresting of some legislators
- 176.** KPK is regarded as one of the most effective justice sector institutions in Indonesia mainly because...
- A. It allows the anticorruption courts to continue to function
- B. It dominates the courts and the chambers in the supreme court
- C. It together with the legislators amends and constitutes a proper anticorruption law
- D. It coordinates the different functions of investigation and prosecution
- 177.** The word "bold" in line 34 can easily be replaced by...
- A. strong C. brave
- B. honest D. hand
- 178.** The paragraph following the passage likely discusses about...
- A. The legal means needed by the police and prosecutors
- B. The use of technology in supporting KPK's actions
- C. The consistency of KPK in eliminating corruption
- D. The example of coordination between the police and prosecutors
- 179.** What is the main idea of paragraph 2?
- A. The extended time given to pass the anticorruption law
- B. The deadline to pass the new anticorruption law
- C. The parliament lacks of motivation in passing the law
- D. The amendment and formation of anticorruption law
- 180.** According to the passage, what is NOT the element needed to create a clean government?
- A. bond and honest leadership
- B. reliable and professional ad hoc judges on courts
- C. the amendment of Constitutional Court
- D. coordination between the police and prosecutors

Kunci dan Pembahasan Soal Uji Coba TBS & TPA

A. TES KEMAMPUAN DASAR

- Kunci: D**
Prudensial = bersifat bijaksana
- Kunci: B**
Koheren = berhubungan, bersangkutan paut
- Kunci: A**
Remedi = perbaikan = proses pengulangan
- Kunci: B**
Intuisi = daya atau kemampuan mengetahui atau memahami sesuatu tanpa dipikirkan atau dipelajari, bisikan hati, gerak hati
- Kunci: C**
Supremasi = kekuasaan tertinggi = keunggulan tertinggi
- Kunci: C**
Platform = rencana kerja, program
- Kunci: A**
Relung = Ruang
- Kunci: D**
Ranah = Domain
- Kunci: C**
Rekognisi = Pengakuan
- Kunci: A**
Gita = Lagu
- Kunci: A**
Hibridisasi = Penylangan
- Kunci: C**
Hirau >< Peduli
- Kunci: B**
Retro >< Modern
- Kunci: A**
Quasi = Semu >< Nyata
- Kunci: B**
Curam >< Landai
- Kunci: C**
Gentar >< Berani
- Kunci: B**
Kabin adalah ruang di dalam kapal. Kamar adalah ruang di dalam hotel.
- Kunci: D**
Suara untuk didengar. Cantik untuk dipandang.
- Kunci: A**
Kompor menghasilkan api. Kipas menghasilkan angin.
- Kunci: C**
Umur diukur dengan satuan tahun. Kertas diukur dengan satuan helai.
- Kunci: B**
Air dan minyak tidak dapat disatukan. Begitu juga dengan anjing dan kucing tidak dapat disatukan.
- Kunci: B**
Jendela ditutupi dengan tirai. Gunung ditutupi dengan kabut.
- Kunci: B**
Bawang satuan khususnya adalah siung. Pakaian satuan khususnya adalah kodi.
- Kunci: D**
Sekam adalah kulit padi. Sisik adalah kulit ular.
- Kunci: A**
Basah karena air. Bakar karena api.
- Kunci: B**
Terdapat pada paragraf 1 kalimat pertama dan kedua.
- Kunci: B**
Pada bacaan tersebut tidak dijelaskan cara mengontrol gas rumah kaca.
- Kunci: C**
Pernyataan yang tidak sesuai dengan bacaan tersebut adalah perubahan iklim disebabkan karena tidak adanya tindakan efektif. Pada bacaan tidak dijelaskan pengertian dan contoh tindakan efektif.

29. Kunci: A

Konsorsium adalah himpunan beberapa pengusaha yang mengadakan usaha bersama, kumpulan pedagang dan industriawan, perkongsian.

30. Kunci: D

Pilihan A, belum tentu benar

Pilihan B, seharusnya jembatan terpanjang hanya di Indonesia.

Pilihan C, seharusnya 30 hari.

31. Kunci: C

Pembiayaan pembangunan jembatan Suramadu bukan menggunakan pinjaman dari China, tetapi hanya menggunakan produk dan jasa perusahaan konstruksi dari China.

32. Kunci: B

Peran kerjasama luar negeri (perusahaan konstruksi dari China) terdapat pada paragraf 2.

33. Kunci: C

Ide pokok bacaan tersebut tersirat dalam kalimat terakhir bacaan 3.

34. Kunci: C

Stakeholder pertelekomunikasian adalah jasa teknologi informasi.

35. Kunci: C

Pernyataan yang tidak mendukung bacaan tersebut adalah diperlukan peraturan tentang batasan usia bagi pengguna internet, karena isi bacaan tersebut adalah bagaimana agar internet aman bagi anak muda dan generasi muda.

36. Kunci: D

Kenaikan harga mie ayam = $12\% \times 6.000 = 720$

Kenaikan harga jus jeruk = $8\% \times 6.000 = 480$

Kenaikan harga mie ayam + jus jeruk

$$= \frac{720 + 480}{6.000 + 6.000} = \frac{1.200}{12.000}$$

$$= 10\%$$

37. Kunci: A

$$7,5 : 7,5 : \left(\frac{4}{10} + 16\%\right) \times 8,27 = 110,76$$

(pembulatan)

38. Kunci: A

$$\begin{aligned} & 1 - \frac{1}{10} - \frac{1}{100} - \frac{1}{1.000} - \frac{1}{10.000} \\ &= \frac{10.000}{10.000} - \frac{1.000}{10.000} - \frac{100}{10.000} - \frac{10}{10.000} - \frac{1}{10.000} \\ &= \frac{8.889}{10.000} \end{aligned}$$

39. Kunci: C

Misalnya $P - Q$ horizontal = x , dan $P - Q$ vertikal = y .

p = panjang dan l = lebar

$$K = 2p + 2l + 2(p - x) + 2(l - y)$$

$$72 = 2 \cdot 15 + 2 \cdot 12 + 2(15 - x) + 2(12 - y)$$

$$72 = 30 + 24 + 30 - 2x + 24 - 2y$$

$$2(x + y) = 180 - 72$$

$$x + y = 18$$

$$x = 18 - y \dots (1)$$

$$L = 2(15 \cdot 12) - 2 \cdot xy$$

$$342,5 = 360 - 2 \cdot xy$$

$$xy = 8,75 \dots (2)$$

(1) Substitusi ke (2)

$$(18 - y) \cdot y = 8,75$$

$$18y - y^2 = 8,75$$

$$y^2 - 18y + 8,75 = 0$$

Pakai rumus abc:

$$X_{1,2} = \left[18 \pm \frac{\sqrt{(18^2 - 4 \cdot 1 \cdot 8,75)}}{2 \cdot 1} \right]$$

$$X_{1,2} = \left[\frac{18 \pm \sqrt{289}}{2} \right]$$

$$X_{1,2} = \left[\frac{18 + 17}{2} \right] = 17,5$$

$$X_{1,2} = \left[\frac{18 - 17}{2} \right] = 0,5$$

40. Kunci: B

$$L_X = \frac{1}{4} \cdot L_Y$$

$$K_Y = 4 \times \text{sisi } Y$$

$$48 = 4S_Y$$

$$S_Y = 12 \Rightarrow L_Y = 144$$

$$L_X = \frac{1}{4}(144) = 36$$

$$S_X = 6 \Rightarrow L_X = 4 \times 6 = 24$$

41. **Kunci: A**

$$\left\{ \sqrt[3]{\sqrt[5]{7\left(\sqrt{\left(x^{14}\right)^3}\right)}} \right\}^2 = \left(\left(\left(\left(\left(\left(X^{14} \right)^{\frac{1}{2}} \right)^3 \right)^{\frac{1}{7}} \right)^{\frac{1}{5}} \right)^{\frac{1}{3}} \right)^2$$

$$= X^{14 \times \frac{1}{2} \times 3 \times \frac{1}{7} \times \frac{1}{5} \times \frac{1}{3} \times 2} = X^{\frac{5}{5}}$$

42. **Kunci: A**

Misalkan:

H_1 = harga kopi campuran sebelum kenaikan.

H_2 = harga kopi campuran setelah kenaikan.

$$H_1 = 16.000a + 18.000b$$

$$H_2 = (16.000a + 16.000a \times 15\%) + (18.000b - 18.000b \times 10\%)$$

$$H_1 = H_2, \text{ maka}$$

$$16.000a + 18.000b = (16.000a + 16.000a \times 15\%) + (18.000b - 18.000b \times 10\%)$$

$$16.000a + 18.000b = 18.400a + 16.200b$$

$$18.000b - 16.200b = 18.400a - 16.000a$$

$$1.800b = 2.400a$$

$$\frac{a}{b} = \frac{1.800}{2.400} = \frac{3}{4}$$

Jadi, nilai $a : b$ adalah $3 : 4$.

43. **Kunci: C**

$$8 = \frac{\text{Jumlah 9 bilangan}}{9}$$

$$8 \times 9 = \text{jumlah 8 bilangan} + x$$

$$72 = (8 \times 7) + x$$

$$72 = 56 + x$$

$$x = 16$$

$$y = 16$$

Jadi, $x = y$.

44. **Kunci: D**

$$\frac{35}{100} \times X = 42$$

$$X = \frac{42 \times 100}{35} = 120$$

$$\frac{5}{6} \times Y = 25$$

$$Y = \frac{25 \times 6}{5} = 30$$

$$\text{Jadi, } X + Y = 120 + 30 = 150.$$

45. **Kunci: A**

$$\text{Kedalaman air} = \frac{1}{8} \times 4 \text{ cm} = \frac{1}{2} \text{ cm}$$

46. **Kunci: D**

$$(3 * 2) = \frac{3(3-2)}{2} = 1,5$$

$$(6 * 1,5) = \frac{6(6-1,5)}{1,5} = 18$$

Jadi, $6 * (3 * 2) = 18$.

47. **Kunci: A**

Data: 4%, 5%, 7%, dan 9%

Karena rata-rata dan median sama, maka:

$$\underbrace{4}_{a} \quad \underbrace{5}_{b} \quad \underbrace{7}_{c} \quad \underbrace{9}_{d} \quad \dots \quad \underbrace{\quad}_{e}$$

Lakukan percobaan nilai data kelima (x) pada selang a, b, c, d , dan e .

(a dan b): Mediannya = 5, maka 4, x , 5, 7, 9

$$5 = \frac{4 + x + 5 + 7 + 9}{5}$$

$$25 = 25 + x$$

$$x = 0 \text{ (TM)}$$



(c): Mediannya = x , maka 4, 5, x , 7, 9

$$x = \frac{4 + 5 + x + 7 + 9}{5}$$

$$5x = 25 + x$$

$$4x = 25$$

$$x = 6,25$$

(d dan e): Mediannya = 7, maka 4, 5, 7, x , 9

$$7 = \frac{4 + 5 + 7 + x + 9}{5}$$

$$35 = 25 + x$$

$$x = 10$$

Jadi, nilai data ke-5 berkisar antara 0% - 10%.

48. **Kunci: B**

Luas lingkaran (y) selalu lebih besar daripada luas bangun lain (x) yang memiliki keliling sama. Karena luas lingkaran akan memak-simalkan luas daerah yang dikelilinginya.

Jadi, $x < y$.

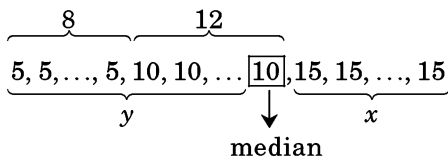
49. **Kunci: D**

Waktu (t) yang diperlukan untuk melakukan suatu perjalanan dari kota A ke kota B hanya dipengaruhi oleh kecepatan kendaraan (v) dan jarak kota A ke kota B (s). Jadi, selama bensin

yang diperlukan untuk menempuh dari kota A ke kota B cukup, maka waktu yang ditempuh sama, yaitu 4 jam.

50. Kunci: C

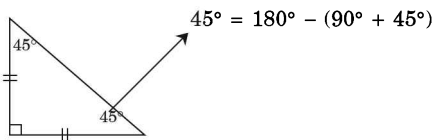
Agar nilai mediannya 10 dan didapatkan nilai x terbesar, maka mediannya adalah skor 10 yang ke-12.



Jumlah x harus sama dengan y , $x = 8 + 12 - 1 = 19$

Jadi, nilai terbesar x adalah 19.

51. Kunci: C



Bangun di atas adalah segitiga siku-siku samakaki.

Jadi, panjang alas = tinggi.

52. Kunci: A

$$v_m = 4v_k \Leftrightarrow v_k = \frac{1}{4} v_m$$

$$t_k = t_m + \frac{12}{60} \text{ jam} = t_m + 0,2$$

$$\text{Moko menyusul Koko, } s_m = s_k \Leftrightarrow v_m \cdot t_m = v_k \cdot t_k$$

$$v_m \cdot t_m = \frac{1}{4} v_m (t_m + 0,2)$$

$$t_m = \frac{1}{4} t_m + 0,05$$

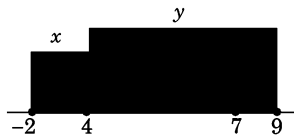
$$\frac{3}{4} t_m = 0,05$$

$$t_m = \frac{3}{4} \cdot 0,05 \cdot 60 \text{ menit}$$

$$t_m = 4 \text{ menit}$$

Jadi, Moko akan menyusul Koko pada pukul $13.12 + 4 = 13.16$.

53. Kunci: D



Dari gambar di atas, dapat diketahui bahwa tidak dapat ditentukan hubungan x dengan y karena x bisa lebih besar, sama dengan, atau lebih kecil dari y .

54. Kunci: C

$$a^2 + b^2 = 4ab$$

$$\bullet (a + b)^2 = a^2 + b^2 + 2ab$$

$$(a + b)^2 = -4ab + 2ab = -2ab \quad \dots (1)$$

$$\bullet (a - b)^2 = a^2 + b^2 - 2ab$$

$$(a - b)^2 = -4ab - 2ab = -6ab \quad \dots (2)$$

dengan $(a - b)^2 = -(b - a)^2$

$$\text{Maka } \frac{b-a}{a-b} = \frac{\sqrt{-6ab}}{\sqrt{-2ab}} = \sqrt{3}$$

55. Kunci: B

$$a^{-4} = 256 \Rightarrow \frac{1}{a^4} = 256 \Rightarrow a^4 = \frac{1}{256} \Rightarrow a = \sqrt[4]{\frac{1}{256}} = \dots$$

$$b^{-5} = 243 \Rightarrow \frac{1}{b^5} = 243 \Rightarrow b^5 = \frac{1}{243} \Rightarrow b = \sqrt[5]{\frac{1}{243}} = \frac{1}{3}$$

$$\bullet a - b = \frac{1}{4} - \frac{1}{3} = \frac{3-4}{12} = -\frac{1}{12}$$

$$\bullet a \cdot b = \frac{1}{4} \cdot \frac{1}{3} = \frac{1}{12}$$

$$\bullet a : b = \frac{1}{4} : \frac{1}{3} = \frac{1}{4} \times 3 = \frac{3}{4}$$

$$\bullet 3 \cdot \frac{1}{4} = 4 \cdot \frac{1}{3}$$

$$\frac{3}{4} = \frac{4}{3}$$

$$\text{Jadi, } a \cdot b = \frac{1}{12}.$$

56. Kunci: A

Gunakan rumus permutasi siklis $P = (n - 1)!$
 $P = 6! = 720$

57. Kunci: A

$$56,34^2 - 43,66^2 = 3.174,1956 - 1.906,1956$$

$$= 1.268$$

58. Kunci: C

Persentase siswa yang terkecoh adalah

$$\frac{300 + 100 + 600 + 400}{300 + 100 + 600 + 1.100 + 400} = \frac{1.400}{2.500} = 56\%$$

59. Kunci: A

Misalkan t adalah waktu yang dibutuhkan kambing dan sapi menghabiskan rumput bersama-sama, maka

$$\frac{1}{4} + \frac{1}{3} = \frac{1}{t}$$

$$\frac{3+4}{12} = \frac{1}{t}$$

$$\frac{7}{12} = \frac{1}{t} \Rightarrow t = \frac{12}{7} \text{ minggu} = 12 \text{ hari}$$

60. Kunci: C

Berangkat:



Banyaknya kemungkinan berangkat dari X ke Z = $3 \times 4 = 12$.

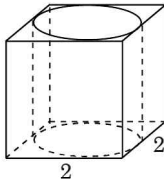
Pulang:



Banyaknya kemungkinan pulang dari Z ke X dengan bus yang berbeda = $3 \times 2 = 6$.

Jadi, banyaknya cara perjalanan berangkat dan pulang = $12 \times 6 = 72$.

61. Kunci: C



$$r = 1$$

$$t = 2$$

$$\text{Volume tabung} = \pi r^2 t$$

$$= \pi \times (1)^2 \times 2$$

$$= 2\pi \text{ satuan volume}$$

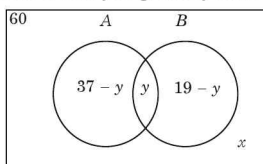
62. Kunci: B

Menyukai sayuran (A) = 37

Menyukai ikan (B) = 19

Tidak menyukai sayuran dan ikan = x

Misalkan anak yang menyukai keduanya = y



$$(37 - y) + y + (19 - y) + x = 60$$

$$56 - y + x = 60$$

$$-y + x = 4$$

$$y = x - 4$$

63. Kunci: B



Dilihat dari gambar di atas, luas lingkaran (A) lebih besar daripada luas segienam beraturan (B). Jadi, $A > B$.

64. Kunci: D

Misalkan $P(A)$ = peluang foto Pak Anwar dan istri berdampingan

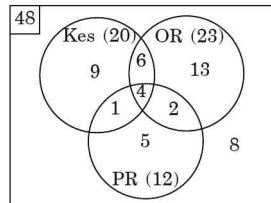
$n(A)$ = banyaknya kemungkinan foto Pak Anwar dan istri berdampingan

$n(S)$ = banyaknya kemungkinan keseluruhan

$$P(A) = \frac{n(A)}{n(S)} = \frac{{}_4P_2}{{}_4P_4} = \frac{4!}{(4-2)!4!} = \frac{12}{24} = \frac{1}{2}$$

Jadi, peluang foto Pak Anwar dan istri berdampingan adalah $\frac{1}{2}$.

65. Kunci: D



Jumlah anak yang mengikuti ekstrakurikuler = $48 - 8 = 40$ anak

66. Kunci: D

Harga beras campuran/kg

$$= \frac{(25 \times \text{Rp}5.200,00) + (15 \times \text{Rp}4.800,00)}{25 + 15}$$

$$= \frac{\text{Rp}130.000,00 + \text{Rp}72.000,00}{40}$$

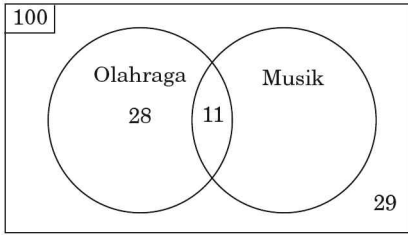
$$= \frac{\text{Rp}202.000,00}{40}$$

$$= \text{Rp}5.050,00$$

Beli 8 kg = $8 \times \text{Rp}5.050 = \text{Rp}40.400,00$

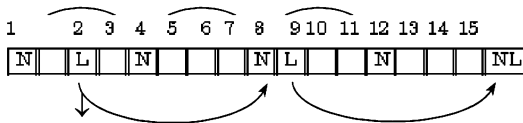
Uang kembalian = $\text{Rp}100.000,00 - \text{Rp}40.400,00 = \text{Rp}59.600,00$

67. **Kunci: C**



$x = 100 - (32 + 28 + 11) = 100 - 71 = 29$
 Penggemar musik = $11 + x = 11 + 29 = 40$ orang

68. **Kunci: B**



sekarang
 Jadi, mereka membeli tabloid pada hari yang sama 15 hari lagi.

69. **Kunci: C**

Banyaknya salaman
 $= {}_{47}C_2 = \frac{47!}{(47-2)!2!} = \frac{2.162}{2} = 1.081$

70. **Kunci: B**

Karena disisipi 11 bilangan, maka bedanya = $\frac{(116 - 20)}{12} = 8$

Maka deretnya 20, 28, ..., 68, ..., 108, 116
 Jumlah deret:

$$S_n = \frac{n}{2}(2a + (n-1)b)$$

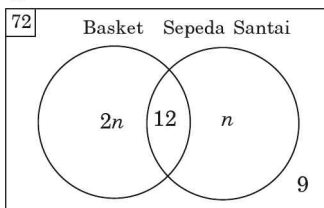
$$S_{13} = \frac{13}{2}(2(20) + 12(8))$$

$$= \frac{13}{2}(40 + 96)$$

$$= \frac{13}{2}(136)$$

$$= 884$$

71. **Kunci: D**



Misalkan anggota yang hanya menyukai basket = $2n$ dan anggota yang hanya menyukai sepeda santai = n , maka

$$2n + n + 9 + 12 = 72$$

$$3n + 12 = 72$$

$$3n = 60$$

$$n = 20$$

Jumlah anggota yang hanya menyukai basket = $2n = 2 \times 20 = 40$ orang.

72. **Kunci: B**

Rusuk kubus = x
 Diagonal ruang kubus = diameter bola = $x\sqrt{3}$
 Jari-jari bola = $\frac{x\sqrt{3}}{2}$

$$L_{\text{Bola}} = 4\pi r^2 = 4\pi \left[\frac{(x\sqrt{3})}{2} \right]^2 = 3\pi x^2$$

73. **Kunci: D**

$$y = 2x + m \quad x = 2x + m + m$$

$$x = m + y \quad x = -2m$$

$$y = 2(-2m) + m$$

$$y = -3m$$

$$z = x + y = (-2m) + (-3m) = -5m$$

$$x + y + z = (-2m) + (-3m) + (-5m) = -10m \quad (m = \text{bulat positif})$$

74. **Kunci: A**

Karena $\frac{66}{-112} = \frac{-11}{17}$, maka nilai
 $66x - 11y = \frac{-11}{17} \times 136 = -88$

75. **Kunci: B**

$$\frac{(x+1)}{4} - 3 = \frac{35}{12} - \frac{(3x+2)}{3}$$

$$\frac{(3x+3) - 36}{12} = \frac{35 - (12x+8)}{12} \quad (\times 12)$$

$$3x - 33 = 27 - 12x$$

$$15x = 60$$

$$x = 4$$

76. **Kunci: C**

Sudut $b = 180^\circ - 64^\circ = 116^\circ$
 Sudut $AOC = 2 \times \text{sudut } ABC = 2 \times 116^\circ = 232^\circ$
 (sudut pusat $2 \times$ sudut keliling)
 Sudut $x = 360^\circ - 232^\circ = 128^\circ$

77. Kunci: D

$$-5 \leq p \leq 8 \Leftrightarrow 25 \leq p^2 \leq 64$$

$$-1 < q < 5 \Leftrightarrow 1 < q^2 < 25$$

$$\text{Maka } 26 \leq p^2 + q^2 \leq 89$$

78. Kunci: A

Total minyak goreng = 3×25 liter = 75 liter

Harga beli per liter

$$= \frac{\text{Rp}600.000,00}{75} = \text{Rp}8.000,0$$

Harga jual per liter

$$= \frac{105}{100} \times \text{Rp}8.000,00 = \text{Rp}8.400,00$$

$$\text{Pendapatan} = (54 \times \text{Rp}8.400,00) + (21 \times \text{Rp}7.400,00)$$

$$= \text{Rp}453.600,00 + \text{Rp}155.400,00$$

$$= \text{Rp}609.000,00$$

$$\text{Laba} = \text{Rp}609.000,00 - \text{Rp}6.000.000,00$$

$$= \text{Rp}9.000,00$$

$$\text{Persentase laba} = \frac{\text{Rp}9.000,00}{\text{Rp}600.000,00} \times 100\% = 1$$

79. Kunci: C

$$\begin{aligned} \text{Jumlah total} &= 215 + 197 + 264 + 236 + 208 \\ &\quad + 229 + 252 + 244 + 218 + 241 + \\ &\quad 226 + 249 + 258 + 256 + 247 \\ &= 3.540 \end{aligned}$$

Setiap orang akan dijumlahkan 5 kali dengan orang lain, maka jumlah nilai keenam mahasiswa

$$= \left(\frac{3.540}{5}\right) = 708$$

80. Kunci: B

Misalkan x = jumlah siswa kelas II, maka

$1,5x$ = jumlah siswa kelas I

Sehingga, $x + 1,5x = 100$

$$2,5x = 100$$

$$x = \frac{100}{2,5} = 40$$

Jumlah siswa kelas II = 40 orang

Jumlah siswa kelas I = 60 orang

Misalkan y = skor rata-rata siswa kelas I, maka

$1,5y$ = skor rata-rata siswa kelas II

$$\frac{(40 \times 15y + 60 \times y)}{100} = 100$$

$$60y + 60y = 10.000$$

$$120y = 10.000$$

$$y = 83,33$$

$$\begin{aligned} \text{Skor rata-rata siswa kelas II} &= 1,5y = \\ &= 1,5 \times 83,33 = 125 \end{aligned}$$

81. Kunci: D

Telur ayam kampung > Telur ayam petelur

Telur ayam kampung > Telur bebek

Telur yang paling mahal adalah telur ayam kampung.

Jadi, telur ayam petelur dan telur bebek lebih murah daripada telur ayam kampung.

82. Kunci: C

Bandung > Palembang

Medan > Makassar

Medan > Bandung

Kesimpulan:

Medan > Bandung/Makasar > Palembang

Jadi, kesebelasan yang menjuarai pertandingan ini adalah Medan.

83. Kunci: B

Orang yang memakai kacamata dan bermain basket adalah Robby.

84. Kunci: A

Sardy > Fuad

Sardy > Sartika > Fuad

Jadi, yang paling tua adalah Sardy.

Kesimpulan berdasarkan informasi:

- Andi > Ari > Wika
- Indah > Dina

85. Kunci: C

Jika Indah lebih cepat daripada Andi, maka

Indah > Andi > Ari > Wika

Posisi Dina belum bisa dipastikan, asalkan lebih lambat dari Indah.

Jadi, Indah lebih cepat daripada Ari.

86. Kunci: D

Jika Wika berjalan lebih cepat dari Indah, maka

Andi > Ari > Wika > Indah > Dina

Jadi, jawaban A dan C benar.

87. Kunci: B

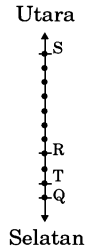
Jika Indah berjalan lebih lambat daripada Ari, maka yang berjalan paling cepat adalah Andi.

88. Kunci: A

Jika Dina berjalan tidak lebih lambat dari Ari, maka Dina berjalan lebih cepat dari Ari. Sehingga Dina > Ari > Wika. Jadi, Dina berjalan lebih cepat daripada Wika.

89. **Kunci: D**


- P - Q = 4 halte
- R - S = 6 halte
- T - R = 1 halte
- Q - R = 2 halte
- Jadi, Q ke T lebih dekat daripada R ke S.



90. **Kunci: A**

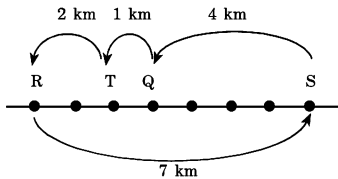
Bisa dilihat dari gambar no. 89, yang bisa benar adalah S dan T dipisah oleh 8 halte.

91. **Kunci: A**



Jadi, P dan R dipisahkan oleh 1 atau 7 halte.

92. **Kunci: D**



Jadi, jarak minimum yang ditempuh adalah 14 km.

93. **Kunci: C**

Semua balita minum susu.

M P

Sebagian balita sudah makan nasi.

M S

Kesimpulan: S P

Sebagian yang sudah makan nasi juga minum susu.

atau

Sebagian balita minum susu dan sudah makan nasi.

94. **Kunci: D**

Setiap pagi \Rightarrow Ida makan bubur.

p q

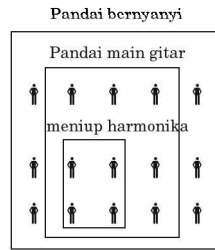
Setiap makan bubur \Rightarrow Ida minum teh.

q r

Kesimpulan: $p \Rightarrow r$

Setiap pagi Ida minum teh.

95. **Kunci: A**



Pernyataan yang sesuai dengan gambar di samping adalah "Anak yang pandai bermain gitar tentu pandai bernyanyi".

96. **Kunci: A**

Uni tamatan SMA.

Tenaga yang dibutuhkan di PT. Mawar Melati bukan tamatan SMA.

Kesimpulan:

Uni tidak dibutuhkan PT. Mawar Melati.

97. **Kunci: D**

Kesimpulan yang benar adalah Dian memiliki adik laki-laki yang masih kecil.

98. **Kunci: B**

Ani pergi ke pasar pada hari Minggu.

Hari ini hari Kamis.

Kesimpulan: Ani tidak pergi ke Pasar.

99. **Kunci: C**

Jika F adalah G, maka C tidak sama dengan D.

$p \rightarrow q$

C dan D selalu sama.

$\sim q$

Kesimpulan: $\sim p$

F bukan G

100. **Kunci: A**

Semua jambu berasa manis.

S M

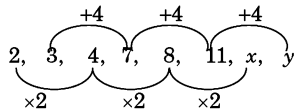
Semua yang manis disukai anak-anak.

M P

Kesimpulan: S P

Semua jambu disukai anak-anak.

101. **Kunci: A**



$$x = 8 \times 2 = 16$$

$$y = 11 + 4 = 15$$

Jadi, lanjutannya adalah 16 dan 15.

102. **Kunci: B**

1, 1, 2, 3, 5, 8, 13, x , y

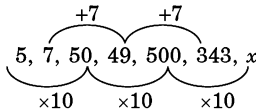
Polanya adalah penjumlahan dua bilangan sebelumnya.

$$x = 8 + 13 = 21$$

$$y = 13 + 21 = 34$$

Jadi, lanjutannya adalah 21 dan 34.

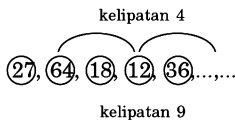
103. **Kunci: D**



$$x = 500 \times 10 = 5.000$$

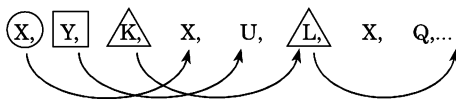
Jadi, lanjutannya adalah 5.000.

104. **Kunci: A**



Jadi, bilangan kelanjutannya adalah 8 dan 27.

105. **Kunci: A**



Jadi, lanjutannya adalah M.

106. **Kunci: D**

A, B, C, E, H,

1 2 3 5 8 13 21

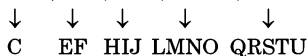
$$3 = 1 + 2$$

$$5 = 3 + 2$$

Jadi, lanjutannya adalah M dan U.

107. **Kunci: D**

A, B, D, G, K, . . . , . . .



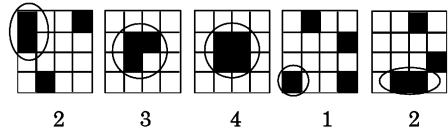
Jadi, lanjutannya adalah P dan V.

108. **Kunci: D**



Jadi, lanjutannya adalah Y.

109. **Kunci: B**



110. **Kunci: C**

Pada pola tersebut arah tanda panah hitam selalu tegak lurus arah tanda panah lainnya.

Jadi, lanjutannya adalah C.

111. **Kunci: C**

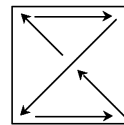
Pada pola tersebut, dua daerah berwarna hitam berputar searah jarum jam.

Jadi, lanjutannya adalah C.

112. **Kunci: B**

Pola-pola tersebut:

- Warna bangun yang di tengah berubah putih - hitam - putih, dan seterusnya.
- Warna bangun yang berada di kiri atas dan kanan bawah berwarna hitam.
- Warna bangun yang berada di kiri bawah dan kanan atas berwarna putih.
- Perpindahan bangun:



Jadi, lanjutannya adalah B.

113. **Kunci: B**

114. **Kunci: C**

Terdiri dari 3 garis

- Garis pertama tetap.
- Garis kedua bergerak dengan sudut yang kecil.
- Garis ketiga bergerak dengan sudut yang lebih besar.

115. Kunci: D

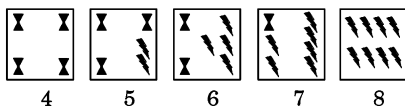
Pola:

- Bangun bergeser 2 langkah berputar searah jarum jam.
- Warna hitam pertama bergeser 2 langkah.
- Warna hitam kedua bergeser 1 langkah.

116. Kunci: C


Perhatikan lingkaran hitam dan arah sudut yang berada di tengah serta besarnya perputaran sudut tersebut, yaitu 135° .

117. Kunci: D



118. Kunci: B

Perhatikan jumlah belah ketupat
8, 10, 9, 11,...



Jadi, jumlah belah ketupat berikutnya adalah 10.

119. Kunci: B

- △ bergerak 1 langkah berlawanan arah jarum jam.
- bergerak 1 langkah berlawanan arah jarum jam.
- ◇ bergerak 2 langkah searah jarum jam.

120. Kunci: B

Perhatikan pergerakan garis yang mem-bentuk sudut lancip.

B. BAHASA INGGRIS

121. Kunci: C

To be yang ditanyakan adalah untuk past tense yang berpadanan dengan *you*, yaitu *were*.

122. Kunci: D

Menerangkan *coral reefs areas* sebagai tempat dimana (*in which*).

123. Kunci: C

Advisability (S + had better + V_1) yang berarti peringatan.

124. Kunci: B

Some berarti beberapa (lebih dari satu/*prural*).

125. Kunci: B

Some of the shop padanannya adalah *are*.

126. Kunci: C

It were (subjunctive): hal yang disebutkan sesudahnya berlawanan dengan kenyataan.

127. Kunci: C

Ketika suatu peristiwa sedang terjadi (V_{ing}), peristiwa lain terjadi.

128. Kunci: C

It could have been improved menunjukkan kontradiksi dengan *was good*, sehingga kata hubung yang sesuai adalah *but*.

129. Kunci: D

Kalimat tersebut merupakan *direct speech* bentuk past tense (*said*). Sehingga bentuk *indirect speech*-nya adalah (S + had + V_3).

130. Kunci: B

Kalimat tersebut merupakan *active causative*: meminta seseorang untuk melakukan sesuatu. S + make/have/let/help + V_1

131. Kunci: D

Kalimat tersebut merupakan sebab akibat, maka kata sambung yang tepat adalah *as*.

132. Kunci: C

Kalimat tersebut menunjukkan kesetaraan dengan subyek yang sama, yaitu Markus.

133. Kunci: A

Artikel yang sesuai dengan honorarium adalah "a".

134. Kunci: C

Kalimat tersebut menyatakan peristiwa yang telah terjadi sebelum peristiwa lain terjadi. Peristiwa yang telah terjadi di masa lalu menggunakan *past perfect*.

135. Kunci: D

Kata *insect* dijelaskan oleh klausa lain (*apositif*) dan tidak memerlukan subjek lagi.

136. Kunci: B

Continue + to + V_1

137. Kunci: C

Kalimat tersebut menunjukkan dua peristiwa yang berlangsung bersamaan. Predikatnya setara (bentuk V_2), yaitu *watched* dan *counted*.

138. Kunci: C

used to + V_{ing} untuk menyatakan *present time habitual*.

- 139. Kunci: D**
Kalimat yang tepat adalah kata benda, yaitu *toughness*.
- 140. Kunci: A**
Kata yang tepat adalah kata sifat, yaitu *late*.
- 141. Kunci: C**
Kata yang tepat merupakan kata benda, yaitu *three-dimensional-frame*.
- 142. Kunci: B**
If clause (simple present), *result clause* (simple future).
- 143. Kunci: C**
U rjadi nanti meng-gunakan *present future tense*.
- 144. Kunci: D**
Noun phrase: lapisan kabut asap = *fire haze boundary*
- 145. Kunci: A**
Untuk menunjukkan penekanan terhadap klausa pertama, kata yang tepat adalah *that*.
- 146. Kunci: A**
neither did... atau... didn't either
- 147. Kunci: A**
to + V₁ ⇒ to attend
- 148. Kunci: B**
Kalimat tersebut merupakan *simple past tense*, sehingga kata yang tepat adalah *was no*.
was not + adverb (kata keterangan)
was no + noun (kata benda)
- 149. Kunci: D**
Kalimat tersebut menunjukkan keputusan untuk memilih sesuatu dibanding yang lain.
- 150. Kunci: B**
Tidak ada seorang pun = *no one*
- 151. Kunci: A**
Seharusnya *in front of*.
- 152. Kunci: B**
Seharusnya *as good as*.
- 153. Kunci: C**
Seharusnya *has been done*.
- 154. Kunci: D**
Seharusnya *back* tanpa *again*.
- 155. Kunci: B**
Seharusnya *figure out*.
- 156. Kunci: D**
Seharusnya *similar to*.
- 157. Kunci: D**
Seharusnya *them*.
- 158. Kunci: B**
Seharusnya *whom*.
- 159. Kunci: D**
Seharusnya *lead*.
- 160. Kunci: B**
Seharusnya *scare*.
- 161. Kunci: C**
outlay = pengeluaran
- *compensation* = pengganti kerugian
 - *account* = akun
 - *expense* = biaya
 - *income* = penghasilan
- 162. Kunci: C**
Lihat kalimat ke-4 paragraf pertama.
- 163. Kunci: C**
Lihat kalimat ke-2 paragraf kedua.
- 164. Kunci: C**
Lihat kalimat ke-2 paragraf pertama.
- 165. Kunci: D**
Lihat kalimat terakhir paragraf pertama.
- 166. Kunci: C**
Scant = sedikit
- *insignificant* = tidak berarti
 - *unlimited* = tidak terbatas
 - *inadequate* = tidak cukup
 - *unreliable* = tidak terpercaya
- 167. Kunci: A**
Lihat kalimat terakhir paragraf pertama.
- 168. Kunci: A**
Supplemented by income/revenue (penghasilan).
- 169. Kunci: A**
Kata yang tepat berbentuk *past perfect tense*, yaitu *had completed*.
- 170. Kunci: D**
Untuk melengkapi *external threat* (noun phrase) sebelumnya harus dilengkapi dengan kata sifat (adjective), yaitu *credible*.
- 171. Kunci: A**
Untuk melengkapi frase tersebut diperlukan kata benda (noun), yaitu *history*.
- 172. Kunci: A**
Thus digunakan dalam satu kalimat yang sama yang menunjukkan kesimpulan atau hasil.
- 173. Kunci: A**
Untuk melengkapi *national parliament* (noun phrase). Sebelumnya harus dilengkapi dengan kata sifat (adjective), yaitu *newly-elected*.
- 174. Kunci: B**
Lihat kalimat ke-3 paragraf ketiga, *raise the bar* artinya *add the list duties*, yaitu menambah tugas polisi.
- 175. Kunci: B**
Lihat kalimat terakhir paragraf kedua.
- 176. Kunci: D**
Lihat kalimat ke-2 paragraf pertama.
- 177. Kunci: C**
Bold = berani, tegas, hebat.
Jadi, *bold* = *brave*.
- 178. Kunci: A**
Bacaan yang melanjutkan kedua paragraf tersebut adalah *the legal means needed by the police and prosecutor*. (Lihat kalimat terakhir paragraf ketiga)
- 179. Kunci: D**
Ide pokok paragraf ke-2 terdapat di tengah, yaitu pada kalimat kedua.
- 180. Kunci: C**
Lihat kalimat pertama paragraf ke-3.



Kunci Jawaban

Tes Kemampuan Dasar
TBS dan TBA
Tes Skala Kematangan

Kunci Jawaban Tes Kemampuan Dasar

Paket
1

PANCASILA

1. E	21. A	41. A
2. E	22. D	42. C
3. D	23. E	43. B
4. E	24. C	44. A
5. E	25. A	45. E
6. D	26. C	46. D
7. C	27. B	47. A
8. C	28. A	48. C
9. C	29. A	49. D
10. B	30. C	50. C
11. A	31. E	51. A
12. D	32. B	52. E
13. E	33. B	53. C
14. B	34. A	54. B
15. C	35. E	55. D
16. C	36. C	56. E
17. E	37. E	57. B
18. C	38. B	58. C
19. C	39. E	59. B
20. B	40. D	60. C

Paket
2

UUD 1945

1. A	21. A	41. A
2. D	22. D	42. B
3. A	23. C	43. C
4. D	24. A	44. C
5. A	25. A	45. A
6. B	26. A	46. C
7. A	27. A	47. D
8. A	28. E	48. C
9. A	29. A	49. A
10. B	30. D	50. D
11. A	31. B	51. E
12. D	32. E	52. D
13. B	33. A	53. C
14. A	34. C	54. E
15. D	35. A	55. B
16. A	36. E	56. A
17. A	37. A	57. C
18. A	38. D	58. C
19. A	39. B	59. E
20. B	40. B	60. E

Paket
3

TATA NEGARA

1. E	19. A	37. C	55. A	73. E	91. A	109. E
2. A	20. C	38. A	56. E	74. C	92. A	110. B
3. E	21. E	39. C	57. E	75. D	93. E	111. C
4. E	22. A	40. A	58. A	76. A	94. D	112. A
5. D	23. B	41. A	59. E	77. E	95. C	113. A
6. A	24. C	42. E	60. D	78. E	96. A	114. E
7. E	25. A	43. E	61. E	79. A	97. E	115. E
8. C	26. E	44. E	62. E	80. D	98. A	116. A
9. D	27. E	45. B	63. E	81. B	99. A	117. A
10. A	28. A	46. E	64. E	82. E	100. A	118. A
11. E	29. C	47. A	65. E	83. B	101. E	119. C
12. A	30. A	48. A	66. A	84. D	102. A	120. C
13. B	31. A	49. A	67. A	85. A	103. C	
14. E	32. B	50. E	68. A	86. A	104. A	
15. E	33. A	51. C	69. E	87. C	105. C	
16. A	34. A	52. E	70. E	88. D	106. A	
17. A	35. D	53. B	71. A	89. B	107. E	
18. E	36. A	54. B	72. E	90. A	108. C	

Paket
4

KEWARGANEGARAAN DAN HAM

- | | | |
|-------|-------|-------|
| 1. A | 22. E | 42. D |
| 2. B | 23. C | 43. D |
| 3. E | 24. D | 44. D |
| 4. A | 25. E | 45. B |
| 5. A | 26. C | 46. A |
| 6. E | 27. D | 47. B |
| 7. E | 28. A | 48. D |
| 8. E | 29. D | 49. B |
| 9. A | 30. A | 50. D |
| 10. C | 31. D | 51. A |
| 11. A | 32. C | 52. A |
| 12. B | 33. D | 53. A |
| 13. C | 34. E | 54. B |
| 14. E | 35. E | 55. E |
| 15. A | 36. D | 56. B |
| 16. C | 37. B | 57. D |
| 17. D | 38. A | 58. B |
| 18. B | 39. E | 59. C |
| 19. D | 40. C | 60. B |
| 20. C | 41. A | |
| 21. A | | |

Paket
5

SEJARAH

- | | | |
|-------|-------|-------|
| 1. C | 21. C | 41. A |
| 2. B | 22. E | 42. C |
| 3. D | 23. D | 43. B |
| 4. B | 24. C | 44. A |
| 5. C | 25. B | 45. A |
| 6. C | 26. E | 46. C |
| 7. D | 27. C | 47. D |
| 8. C | 28. C | 48. B |
| 9. A | 29. E | 49. C |
| 10. D | 30. E | 50. A |
| 11. B | 31. A | 51. A |
| 12. D | 32. B | 52. C |
| 13. C | 33. A | 53. C |
| 14. C | 34. D | 54. D |
| 15. C | 35. C | 55. C |
| 16. C | 36. C | 56. A |
| 17. B | 37. A | 57. D |
| 18. B | 38. A | 58. E |
| 19. E | 39. A | 59. E |
| 20. E | 40. A | 60. A |

Paket
6

**KEBIJAKAN PEMERINTAH DAN
OTONOMI DAERAH**

- | | | | |
|-------|-------|-------|-------|
| 1. B | 21. B | 41. C | 61. A |
| 2. E | 22. C | 42. D | 62. C |
| 3. A | 23. D | 43. E | 63. B |
| 4. E | 24. B | 44. C | 64. A |
| 5. B | 25. E | 45. B | 65. A |
| 6. E | 26. B | 46. E | 65. A |
| 7. E | 27. A | 47. E | |
| 8. A | 28. E | 48. E | |
| 9. A | 29. C | 49. D | |
| 10. E | 30. B | 50. A | |
| 11. C | 31. E | 51. A | |
| 12. B | 32. E | 52. E | |
| 13. E | 33. E | 53. E | |
| 14. B | 34. E | 54. E | |
| 15. E | 35. E | 55. D | |
| 16. D | 36. E | 56. B | |
| 17. A | 37. E | 57. A | |
| 18. A | 38. E | 58. A | |
| 19. A | 39. E | 59. D | |
| 20. E | 40. E | 60. A | |

Paket
7

BAHASA INDONESIA

- | | | |
|-------|-------|-------|
| 1. D | 21. B | 41. A |
| 2. C | 22. C | 42. B |
| 3. D | 23. D | 43. B |
| 4. B | 24. A | 44. B |
| 5. C | 25. D | 45. E |
| 6. B | 26. D | 46. A |
| 7. C | 27. C | 47. C |
| 8. A | 28. D | 48. C |
| 9. D | 29. B | 49. C |
| 10. D | 30. D | 50. A |
| 11. D | 31. B | 51. C |
| 12. B | 32. B | 52. B |
| 13. C | 33. C | 53. B |
| 14. C | 34. B | 54. C |
| 15. B | 35. A | 55. B |
| 16. B | 36. B | 56. D |
| 17. D | 37. C | 57. C |
| 18. C | 38. A | 58. C |
| 19. D | 39. C | 59. D |
| 20. B | 40. E | 60. A |

- | | | | | | | | |
|------|-------|-------|-------|-------|-------|-------|-------|
| 1. B | 9. B | 17. B | 25. C | 33. C | 40. B | 47. C | 54. A |
| 2. A | 10. D | 18. C | 26. B | 34. D | 41. A | 48. A | 55. A |
| 3. B | 11. B | 19. A | 27. C | 35. D | 42. A | 49. B | 56. E |
| 4. C | 12. A | 20. A | 28. A | 36. B | 43. A | 50. A | 57. E |
| 5. A | 13. C | 21. A | 29. C | 37. A | 44. C | 51. C | 58. D |
| 6. C | 14. A | 22. A | 30. D | 38. D | 45. C | 52. B | 59. B |
| 7. D | 15. D | 23. B | 31. A | 39. C | 46. A | 53. B | 60. C |
| 8. A | 16. C | 24. D | 32. C | | | | |

- | | | | | | | | | | |
|-------|-------|-------|--------|--------|--------|--------|--------|--------|--------|
| 1. B | 32. D | 63. B | 94. B | 125. E | 156. B | 187. B | 217. A | 247. C | 277. A |
| 2. A | 33. C | 64. C | 95. E | 126. D | 157. C | 188. D | 218. B | 248. A | 278. B |
| 3. A | 34. B | 65. D | 96. B | 127. A | 158. B | 189. D | 219. C | 249. A | 279. A |
| 4. B | 35. A | 66. E | 97. D | 128. D | 159. B | 190. D | 220. D | 250. E | 280. A |
| 5. C | 36. C | 67. C | 98. A | 129. A | 160. C | 191. B | 221. D | 251. C | 281. B |
| 6. C | 37. B | 68. B | 99. C | 130. C | 161. C | 192. E | 222. D | 252. D | 282. E |
| 7. A | 38. B | 69. E | 100. B | 131. D | 162. D | 193. C | 223. B | 253. C | 283. A |
| 8. E | 39. C | 70. C | 101. D | 132. C | 163. B | 194. B | 224. A | 254. B | 284. D |
| 9. A | 40. D | 71. A | 102. E | 133. B | 164. A | 195. C | 225. A | 255. A | 285. C |
| 10. B | 41. D | 72. C | 103. A | 134. B | 165. C | 196. A | 226. A | 256. D | 286. A |
| 11. D | 42. E | 73. D | 104. B | 135. D | 166. D | 197. C | 227. B | 257. A | 287. A |
| 12. D | 43. A | 74. A | 105. A | 136. D | 167. B | 198. A | 228. D | 258. A | 288. B |
| 13. B | 44. B | 75. B | 106. D | 137. B | 168. C | 199. B | 229. B | 259. B | 289. A |
| 14. B | 45. D | 76. A | 107. E | 138. C | 169. D | 200. A | 230. D | 260. E | 290. E |
| 15. B | 46. D | 77. C | 108. A | 139. A | 170. B | 201. C | 231. B | 261. A | 291. C |
| 16. A | 47. A | 78. C | 109. E | 140. A | 171. C | 202. D | 232. C | 262. A | 292. A |
| 17. C | 48. D | 79. B | 110. E | 141. A | 172. D | 203. A | 233. C | 263. A | 293. B |
| 18. C | 49. A | 80. A | 111. B | 142. D | 173. A | 204. B | 234. A | 264. C | 294. A |
| 19. C | 50. C | 81. D | 112. E | 143. A | 174. B | 205. A | 235. D | 265. B | 295. D |
| 20. D | 51. A | 82. A | 113. A | 144. D | 175. B | 206. C | 236. C | 266. B | 296. B |
| 21. B | 52. A | 83. B | 114. E | 145. D | 176. C | 207. B | 237. B | 267. A | 297. B |
| 22. A | 53. B | 84. A | 115. E | 146. B | 177. A | 208. B | 238. D | 268. A | 298. C |
| 23. B | 54. E | 85. C | 116. B | 147. D | 178. B | 209. C | 239. C | 269. C | 299. E |
| 24. D | 55. B | 86. B | 117. A | 148. A | 179. B | 210. C | 240. B | 270. C | 300. A |
| 25. C | 56. B | 87. A | 118. A | 149. C | 180. A | 211. B | 241. C | 271. C | 301. B |
| 26. A | 57. E | 88. B | 119. E | 150. B | 181. A | 212. A | 242. A | 272. A | 302. A |
| 27. B | 58. A | 89. A | 120. D | 151. D | 182. B | 213. B | 243. C | 273. D | 303. C |
| 28. A | 59. A | 90. B | 121. B | 152. C | 183. C | 214. C | 244. D | 274. B | 304. A |
| 29. A | 60. E | 91. E | 122. A | 153. D | 184. C | 215. B | 245. A | 275. A | 305. A |
| 30. A | 61. A | 92. A | 123. E | 154. A | 185. A | 216. B | 246. A | 276. B | 306. B |
| 31. B | 62. D | 93. E | 124. A | 155. C | 186. D | | | | |

Paket
7

BAHASA INDONESIA

C. Analogi

- | | | | |
|-------|-------|-------|-------|
| 1. E | 14. B | 27. A | 40. A |
| 2. B | 15. A | 28. D | 41. C |
| 3. B | 16. C | 29. D | 42. C |
| 4. C | 17. A | 30. A | 43. D |
| 5. B | 18. C | 31. B | 44. B |
| 6. B | 19. D | 32. C | 45. A |
| 7. D | 20. B | 33. C | 46. B |
| 8. A | 21. C | 34. B | 47. D |
| 9. B | 22. B | 35. C | 48. D |
| 10. E | 23. B | 36. D | 49. D |
| 11. A | 24. B | 37. C | 50. D |
| 12. C | 25. B | 38. C | |
| 13. D | 26. C | 39. B | |

C. Analogi

- | | | |
|-------|-------|-------|
| 1. A | 11. D | 21. D |
| 2. C | 12. D | 22. D |
| 3. B | 13. B | 23. B |
| 4. E | 14. B | 24. B |
| 5. C | 15. B | 25. E |
| 6. E | 16. A | 26. A |
| 7. C | 17. D | 27. E |
| 8. A | 18. B | 28. D |
| 9. B | 19. C | 29. C |
| 10. C | 20. C | 30. E |

C. Analogi

- | | | |
|-------|-------|-------|
| 1. E | 16. D | 31. D |
| 2. C | 17. B | 32. B |
| 3. D | 18. C | 33. B |
| 4. C | 19. B | 34. A |
| 5. B | 20. B | 35. D |
| 6. D | 21. D | 36. D |
| 7. E | 22. B | 37. C |
| 8. B | 23. C | 38. C |
| 9. C | 24. C | 39. B |
| 10. D | 25. B | 40. C |
| 11. A | 26. B | 41. C |
| 12. B | 27. A | 42. B |
| 13. E | 28. A | 43. D |
| 14. D | 29. A | 44. C |
| 15. A | 30. B | 45. B |

Paket
7

BAHASA INDONESIA

- | | | |
|-------|-------|-------|
| 1. B | 16. C | 31. B |
| 2. A | 17. E | 32. C |
| 3. D | 18. D | 33. C |
| 4. C | 19. C | 34. C |
| 5. C | 20. E | 35. B |
| 6. B | 21. E | 36. C |
| 7. C | 22. B | 37. E |
| 8. D | 23. C | 38. E |
| 9. D | 24. A | 39. B |
| 10. C | 25. D | 40. B |
| 11. E | 26. C | 41. C |
| 12. C | 27. B | 42. D |
| 13. A | 28. C | 43. B |
| 14. E | 29. B | 44. A |
| 15. D | 30. D | 45. E |

PENALARAN NUMERIK

- | | | | | |
|-------|-------|-------|-------|-------|
| 1. E | 19. A | 37. C | 55. D | 73. B |
| 2. B | 20. B | 38. E | 56. C | 74. D |
| 3. A | 21. A | 39. E | 57. A | 75. A |
| 4. B | 22. C | 40. A | 58. A | 76. B |
| 5. D | 23. E | 41. A | 59. C | 77. E |
| 6. D | 24. C | 42. B | 60. E | 78. A |
| 7. B | 25. C | 43. D | 61. A | 79. A |
| 8. B | 26. C | 44. C | 62. A | 80. C |
| 9. C | 27. B | 45. B | 63. C | 81. D |
| 10. C | 28. C | 46. A | 64. C | 82. A |
| 11. E | 29. B | 47. C | 65. E | 83. A |
| 12. D | 30. E | 48. B | 66. A | 84. A |
| 13. A | 31. D | 49. A | 67. C | 85. A |
| 14. B | 32. B | 50. D | 68. B | 86. C |
| 15. D | 33. A | 51. D | 69. B | 87. B |
| 16. A | 34. B | 52. B | 70. B | 88. D |
| 17. D | 35. B | 53. B | 71. A | 89. C |
| 18. D | 36. C | 54. E | 72. A | 90. A |

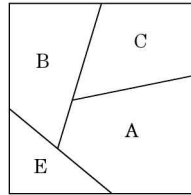
BAHASA INGGRIS

- | | | | | |
|------|-------|-------|-------|-------|
| 1. C | 10. A | 19. D | 28. E | 35. A |
| 2. B | 11. D | 20. D | 29. E | 36. C |
| 3. E | 12. C | 21. E | 30. A | 37. A |
| 4. C | 13. C | 22. A | 31. D | 38. D |
| 5. A | 14. B | 23. B | 32. B | 39. A |
| 6. B | 15. C | 24. E | 33. A | 40. A |
| 7. A | 16. A | 25. E | 34. A | |
| 8. C | 17. B | 26. B | | |
| 9. D | 18. D | 27. D | | |

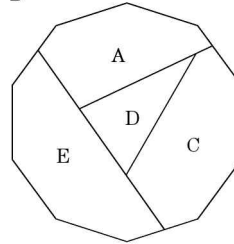
PENALARAN SPASIAL

- | | | | | | |
|------|-------|-------|-------|-------|-------|
| 1. D | 10. D | 19. C | 28. D | 37. A | 46. C |
| 2. C | 11. C | 20. A | 29. D | 38. C | 47. B |
| 3. C | 12. A | 21. C | 30. D | 39. C | 48. E |
| 4. A | 13. A | 22. A | 31. B | 40. C | 49. D |
| 5. A | 14. D | 23. D | 32. C | 41. A | 50. C |
| 6. C | 15. C | 24. C | 33. E | 42. C | 51. C |
| 7. B | 16. D | 25. B | 34. B | 43. E | 52. A |
| 8. A | 17. B | 26. B | 35. C | 44. B | |
| 9. C | 18. A | 27. C | 36. D | 45. A | |

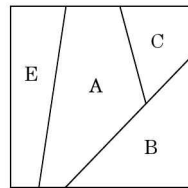
53. D



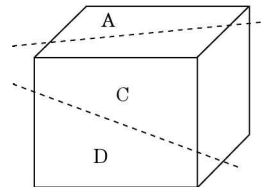
54. B



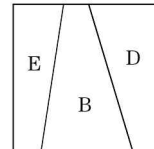
55. D



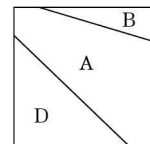
56. A



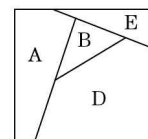
57. B



58. B



59. C



60. D

TES DAYA INGAT

I. Bagian A

1. 5
2. 3
3. 1
4. 2
5. 9
6. 4
7. 8
8. 7
9. 6

I. Bagian B

1. E
2. A
3. C
4. D
5. A

II. Bagian A

1. 5
2. 6
3. 1
4. 3
5. 2
6. 9
7. 7
8. 8
9. 4

II. Bagian B

1. A
2. B
3. C
4. B
5. C
6. B

TES KETELITIAN

F.

- | | |
|------|-------|
| 1. E | 9. D |
| 2. C | 10. A |
| 3. A | 11. A |
| 4. C | 12. A |
| 5. D | 13. A |
| 6. A | 14. A |
| 7. E | 15. A |
| 8. C | |

Γ.

1. Tidak (T)
2. Tidak (T)
3. Tidak (T)
4. Tidak (T)
5. Tidak (T)
6. Tidak (T)
7. Tidak (T)
8. Tidak (T)
9. Sama (S)
10. Tidak (T)

F.

- | | |
|------|-------|
| 1. B | 6. A |
| 2. A | 7. B |
| 3. B | 8. C |
| 4. B | 9. D |
| 5. B | 10. B |

F.

1. Tidak (T)
2. Tidak (T)
3. Tidak (T)
4. Tidak (T)
5. Tidak (S)

F.

1. D
2. E
3. A
4. B
5. E

F.

- | | |
|------|-------|
| 1. 4 | 6. g |
| 2. 6 | 7. u |
| 3. 3 | 8. i |
| 4. 8 | 9. t |
| 5. 1 | 10. z |

C. Analogi

1. Gagang sapu hanya berupa garis
2. Alat pemotongnya (pisau) tidak lengkap
- 3.



Kunci Jawaban Tes Skala Kematangan

TES SKALA KEMATANGAN

- | | | |
|-------|-------|-------|
| 1. B | 16. D | 31. E |
| 2. D | 17. D | 32. D |
| 3. D | 18. C | 33. D |
| 4. E | 19. E | 34. D |
| 5. E | 20. E | 35. E |
| 6. C | 21. E | 36. D |
| 7. E | 22. D | 37. B |
| 8. E | 23. C | 38. E |
| 9. D | 24. C | 39. C |
| 10. E | 25. C | 40. C |
| 11. D | 26. B | |
| 12. D | 27. C | |
| 13. E | 28. B | |
| 14. D | 29. B | |
| 15. E | 30. E | |



Tips & Trik Lulus Ujian CPNS

Siapkan Persyaratan Administrasi

Siapkan Diri Secara Akademik, Fisik, dan Mental

Siapkan Perlengkapan Ujian

Cermat Saat Mengerjakan Soal Ujian

A. SIAPKAN PERSYARATAN ADMINISTRASI

Ujian pertama saat mengikuti seleksi CPNS adalah lulus persyaratan administrasi. Sebelum melengkapi persyaratan administrasi, tentunya sudah dipilih formasi yang sesuai dengan latar belakang pendidikan. Berikut ini disajikan proses pengumpulan informasi dan proses penyiapan berkas-berkas administrasi untuk seleksi CPNS.

- 1) Kumpulkan informasi penerimaan CPNS dari setiap instansi dan lembaga yang akan dilamar. Informasi ini dapat diperoleh dari alamat website instansi yang bersangkutan serta media cetak.
- 2) Inventarisir semua persyaratan, ketentuan, dan formasi yang tersedia, serta tentukan pilihan, instansi/ lembaga mana yang akan dilamar.
- 3) Sesudah ditentukan pilihan instansi dan lembaga yang dilamar. Pastikan kualifikasi sesuai dengan persyaratan, ketentuan, dan formasi yang tersedia. Jika ada beberapa instansi yang memenuhi kualifikasi, maka perhatikan waktu pelaksanaan ujiannya. Jika waktu ujiannya bersamaan, pilihlah yang paling sesuai dengan cita-cita atau yang peluang diterima lebih besar.

- 4) Jika semua persyaratan, ketentuan, dan formasi yang tersedia sesuai dengan latar belakang, maka jangan ragu-ragu untuk mempersiapkan segala sesuatunya. Persiapkan surat lamaran, ijazah, transkrip dan pasfoto, KTP, KK, kartu tanda pencari kerja (kartu kuning), Surat Keterangan Catatan Kepolisian (SKCK), dan sebagainya.
- 5) Persiapan persyaratan administrasi disesuaikan dengan jumlah instansi yang akan dilamar, sehingga tidak perlu bolak-balik memperbanyak (*foto copy*) dan melegalisirnya.

Kartu kuning diurus di kantor Dinas Tenaga Kerja di kota/ kabupaten setempat.

Berikut proses pembuatan kartu pencari kerja/kartu kuning (AK-1).

- 1) Membawa berkas administrasi diantaranya sebagai berikut.
 - *Foto copy* kartu tanda penduduk (KTP).
 - Asli/*foto copy* ijazah (SD sampai dengan pendidikan terakhir) yang telah dilegalisir.

- Pas foto berwarna/hitam-putih (3 x 4) sebanyak 2 (dua) lembar.
- Asli/*foto copy* sertifikat pendidikan/pelatihan (jika ada).
- Asli/*foto copy* surat pengalaman kerja (jika ada).

- 2) Setelah menyerahkan berkas administrasi, isi lembar formulir biodata pribadi sesuai dengan berkas yang akan diserahkan.
- 3) Serahkan formulir tersebut kepada petugas yang memberikan formulir. Kartu pencari kerja/kartu kuning (AK-1) sedang diproses.
- 4) Jika kartu kuning sudah selesai, *foto copy* sesuai kebutuhan. Setelah itu, mintakan legalisir kepada petugas.

SKCK diurus di kantor Polisi di kota/kabupaten setempat.

Berikut proses pengurusan Surat Keterangan Catatan Kepolisian (SKCK).

I. Pengurusan Baru

- Siapkan surat pengantar dari RT/RW dan lurah setempat, *foto copy* KTP terbaru, pas foto hitam putih (4 x 6) sebanyak 7 lembar,

- Beli dan isi blanko SKCK/formulir di kopersi PRIMKOPOL sesuai dengan berkas yang telah diserahkan.
- Pengambilan sidik jari di bagian identifikasi (SERSE) kepolisian setempat.

II. Pengurusan Perpanjangan

- Siapkan *foto copy* SKCK yang lama/habis masa berlakunya dan pas photo hitam putih (4 x 6) sebanyak 3 lembar.
- Pengisian blanko SKCK.

Catatan

Surat Keterangan Kelakuan Catatan Kepolisian (SKCK) tidak diberikan jika sedang tersangkut perkara pidana atau terlibat organisasi terlarang (Juknis No. 06/IV/1985).

B. SIAPKAN DIRI SECARA AKADEMIK, FISIK, DAN MENTAL

Jenis ujian CPNS yang umum diujikan pada tahap I di setiap instansi dan lembaga, terdiri dari Tes Kemampuan Dasar (TKD), Tes Bakat Skolastik (TBS)/Tes Potensi Akademik (TPA), dan Tes Skala Kematangan (TSK). Tes Kompetensi Dasar (TKD) terdiri dari

Tes Pengetahuan Umum (TPU) meliputi unsur wawasan nasional, regional, dan internasional; Tes Bakat Skolastik (TBS) meliputi unsur kemampuan verbal, kuantitatif, dan penalaran; Tes Skala Kematangan (TSK) meliputi unsur kemampuan beradaptasi, pengendalian diri, semangat berprestasi, integritas, dan inisiatif.

Berikut disajikan tips menghadapi soal ujian CPNS.

- 1) Berlatihlah minimal satu jam sehari dan lakukan evaluasi atas latihan yang telah dilakukan, demikian seterusnya. Perhatikan, di kelompok soal mana nilai tertinggi diperoleh. Apakah di TKD, TBS/TPA, atau TSK? Hasil evaluasi ini dapat digunakan dalam pengerjaan soal ujian CPNS yang sesungguhnya.
- 2) Jagalah kondisi kesehatan, sehingga badan dalam keadaan bugar saat mengikuti seleksi. Belajar dengan sistem kebut semalam, tidak akan mendukung kesuksesan, justru akan membuat kondisi kesehatan turun.
- 3) Persiapkan mental sebelum dan saat ujian. Hal ini merupakan salah satu faktor penentu seseorang mampu menyelesaikan soal ujian dengan baik dan benar. Oleh karena itu, rajinlah berdoa dan selalu berikhtiar,

serta bersyukur. Jangan percaya segala tawaran dari pihak lain yang akan membantu lulus ujian.

- 4) Jangan memikirkan tahapan ujian selanjutnya, sebelum lulus dalam ujian sebelumnya.

C. SIAPKAN PERLENGKAPAN UJIAN

Perlengkapan ujian seperti kartu ujian, alat tulis, penggaris, penghapus, papan alas, dan sebagainya wajib dipersiapkan sehari sebelum ujian. Berikut disajikan tips sebelum mengerjakan soal ujian.

- 1) Survei lokasi ujian minimal dua hari sebelum hari pelaksanaan ujian.
- 2) Bawa jam tangan saat ujian dan diwajibkan sudah hadir di lokasi ujian $\frac{1}{2}$ jam sebelum ujian dimulai.
- 3) Sebelum masuk ruang ujian, segala keperluan yang berhubungan dengan kamar kecil (buang air)segera dituntaskan. Matikan alat komunikasi sebelum dan selama ujian.

D. CERMAT SAAT MENGERJAKAN SOAL UJIAN

- 1) Isi nama dan nomor ujian dengan baik dan benar.

- 2) Periksa jumlah halaman soal, apakah sesuai dengan jumlah halaman soal yang seharusnya.
- 3) Perhatikan ketentuan dalam menjawab soal dan bagaimana sistem penilaiannya. Jika dalam memilih jawaban menggunakan sistem “minus”, maka jawablah soal paling mudah dan diketahui, karena nilai tidak menjawab lebih besar dari pada salah menjawab. Jika dalam menjawab soal tidak ada sangsi, maka jawablah semua soal dan kerjakan soal mudah terlebih dahulu.
- 4) Sebelum meninggalkan ruang ujian, periksa nama, nomor peserta ujian, kebersihan lembar jawaban, dan hasil jawaban.
- 5) Selesai ujian, lakukan evaluasi tetapi jangan pernah membebani pikiran.

SEKILAS INFO

- 1) Sejalan dengan perkembangan teknologi informasi di Indonesia, pengumuman, pendaftaran, dan pembayaran administrasi dalam berbagai seleksi sudah dapat dilakukan secara *on line*, termasuk dalam seleksi CPNS.
- 2) Untuk mendapatkan informasi yang terkini (*up date*) tentang CPNS di lingkungan kementerian, instansi, lembaga negara, dan badan usaha milik negara, disarankan “rajin” untuk mengakses website resminya.

Daftar Alamat Website Lembaga/Instansi Pemerintah Republik Indonesia

NO	NAMA LEMBAGA	ALAMAT WEBSITE	NO	NAMA LEMBAGA	ALAMAT WEBSITE
1	Majelis Permusyawaratan Rakyat	www.dpr.go.id	18	Departemen Perindustrian	www.dprin.go.id
2	Dewan Perwakilan Rakyat	www.mpr.go.id	19	Departemen Perhubungan	www.dephub.go.id
3	Dewan Perwakilan Daerah	www.dpd.go.id	20	Departemen Pekerjaan Umum	www.pu.go.id
4	Mahkamah Konstitusi	www.mahkamahkonstitusi.go.id	21	Departemen Tenaga Kerja dan Transmigrasi	www.nakertrans.go.id
5	Mahkamah Agung	www.ma-ri.go.id	22	Departemen Pertanian	www.deptan.go.id
6	Badan Pemeriksa Keuangan	www.bpk.go.id	23	Departemen Kehutanan	www.dephut.go.id
7	Bank Indonesia	www.bi.go.id	24	Departemen Kelautan dan Perikanan	www.dkp.go.id
8	Komisi Pemberantasan Korupsi	www.kpk.go.id	25	Departemen Kesehatan	www.depkes.go.id
9	Komisi Pemilihan Umum	www.kpu.go.id	26	Departemen Komunikasi dan Informatika	www.depkominfo.go.id
10	Komisi Pengawasan Persaingan Usaha	www.kppu.go.id/	27	Departemen Keuangan	www.depkeu.go.id
11	Komisi Nasional Hak Asasi Manusia	www.komnasham.go.id	28	Departemen Pendidikan Nasional	www.kemdiknas.go.id
12	Komisi Perlindungan Anak Indonesia	www.kpai.go.id	29	Departemen Sosial	www.depsos.go.id
13	Departemen Dalam Negeri	www.depdagri.go.id	30	Departemen Agama	www.depag.go.id
14	Departemen Luar Negeri	www.deplu.go.id	31	Departemen Kebudayaan dan Pariwisata	www.budpar.go.id
15	Departemen Pertahanan	www.dephan.go.id	32	Kementerian Koordinator Politik, Hukum dan Keamanan	www.polkam.go.id
16	Departemen Hukum dan Ham	www.depkuham.go.id	35	Kementerian Koordinator Perekonomian	www.ekon.go.id
17	Departemen Komunikasi dan Informatika	www.depkominfo.go.id	36	Kementerian Koordinator Kesejahteraan Rakyat	www.menkokesra.go.id

Lanjutan Daftar Website Lembaga/Instansi Pemerintah Republik Indonesia

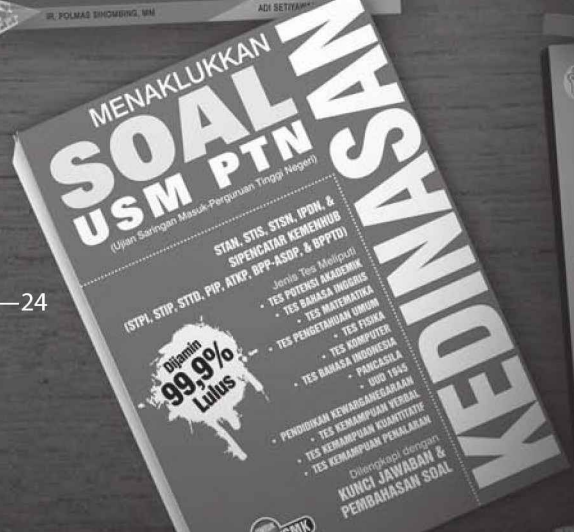


NO	NAMA LEMBAGA	ALAMAT WEBSITE	NO	NAMA LEMBAGA	ALAMAT WEBSITE
37	Kementerian Negara Perencanaan Pembangunan Nasional	www.bappenas.go.id	54	Badan Pengawas Perdagangan Berjangka Komoditi	www.bappebti.go.id
38	Kementerian Negara Riset dan Teknologi/ BPPT	www.ristek.go.id	55	Badan Pengawas Tenaga Nuklir	www.bapeten.org
39	Kementerian Negara Koperasi dan UKM	www.depkop.go.id	56	Badan Pengawasan Keuangan dan Pembangunan	www.bpkp.go.id
40	Kementerian Negara BUMN	www.bumn-ri.com	57	Badan Pengkajian dan Penerapan Teknologi	www.bppt.go.id
41	Kementerian Negara Lingkungan Hidup	www.menlh.go.id	58	Badan Perencanaan Pembangunan Nasional	www.bappenas.go.id
42	Kementerian Negara Pendayagunaan Aparatur Negara	www.menpan.go.id	59	Badan Pertanahan Nasional	www.bpn.go.id
43	Kementerian Negara Pemberdayaan Perempuan	www.menegpp.go.id	60	Badan Pusat Statistik	www.bps.go.id
44	Sekretariat Negara	www.setneg.go.id	61	Badan Standarisasi Nasional	www.bsn.go.id
45	Sekretariat Kabinet	www.setkab.go.id	62	Badan Tenaga Nuklir Nasional	www.batan.go.id
46	Kejaksaan Agung	www.kejaksaan.go.id	63	Badan Urusan Logistik	www.bulog.co.id
47	Arsip Nasional Republik Indonesia	www.anri.go.id	64	Lembaga Administrasi Negara	www.lan.go.id
48	Badan Akuntansi Keuangan Negara	www.bakun.go.id	65	Lembaga Ilmu Pengetahuan Indonesia	www.lipi.go.id
49	Badan Kepegawaian Negara	www.bkn.go.id	66	Lembaga Informasi Nasional	www.lin.go.id
50	Badan Koordinasi Keluarga Berencana Nasional	www.bkkbn.go.id	67	Lembaga Penerbangan dan Antariksa Nasional	www.lapan.go.id
51	Badan Koordinasi Penanaman Modal	www.bkpm.go.id	68	Perpustakaan Nasional Republik Indonesia	www.pnri.go.id
52	Badan Koordinasi Survei dan Pemetaan Nasional	www.bakosurtanal.go.id	69	Markas Besar Tentara Nasional Indonesia	www.tni.mil.id
53	Badan Meteorologi dan Geofisika	www.bmg.go.id	70	Markas Besar Kepolisian Negara	www.polri.go.id

Lanjutan Daftar Website Lembaga/Instansi Pemerintah Republik Indonesia

NO	NAMA LEMBAGA	ALAMAT WEBSITE	NO	NAMA LEMBAGA	ALAMAT WEBSITE
71	Badan Pengawas Obat dan Makanan	www.pom.go.id	88	Provinsi Nanggroe Aceh Darussalam	www.acehprov.go.id
72	Provinsi Sumatera Utara	www.pemprosu.go.id	89	Provinsi Kalimantan Tengah	www.kalteng.go.id
73	Provinsi Sumatera Barat	www.sumbarprov.go.id	90	Provinsi Kalimantan Selatan	www.kalsel.go.id
74	Provinsi Riau	www.riau.go.id	91	Provinsi Kalimantan Timur	www.kaltim.go.id
75	Provinsi Kepulauan Riau	www.batam.go.id	92	Provinsi Bali	www.bali.go.id
76	Provinsi Jambi	www.jambiprov.go.id	93	Provinsi Nusa Tenggara Barat	www.ntbprov.go.id
77	Provinsi Bengkulu	www.bengkulu.go.id	94	Provinsi Nusa Tenggara Timur	www.pemda-ntt.go.id
78	Provinsi Sumatera Selatan	www.sumselprov.go.id	95	Provinsi Sulawesi Selatan	www.sulsel.go.id
79	Provinsi Bangka-Belitung	www.bangka.go.id	96	Provinsi Sulawesi Barat	www.sulbarprov.go.id
80	Provinsi Lampung	www.lampungprov.go.id	97	Provinsi Sulawesi Tenggara	www.sultraprov.go.id
81	Provinsi Banten	www.bantenprov.go.id	98	Provinsi Sulawesi Tengah	www.sulteng.go.id
82	Provinsi DKI Jakarta	www.jakarta.go.id	99	Provinsi Gorontalo	www.propinsi.gorontalo.net
83	Provinsi Jawa Barat	www.jabarprov.go.id	100	Provinsi Sulawesi Utara	www.sulut.go.id
84	Provinsi Jawa Tengah	www.jatengprov.go.id	101	Provinsi Maluku	www.malukuprov.go.id
85	Provinsi D.I. Yogyakarta	www.pemda-diy.go.id	102	Provinsi Maluku Utara	www.maluku-utara.go.id
86	Provinsi Jawa Timur	www.jatimprov.go.id	103	Provinsi papua Barat	www.papuabaratprov.go.id
87	Provinsi Kalimantan Barat	www.kalbar.go.id	104	Provinsi Papua	www.papua.go.id

Lembar Corat-coret

Mau ke mana setelah SMA?



Penerbit Cerdas Interaktif
 Perum. Bukit Permai, Jl. Kerinci Blok A2 No. 23—24
 Cibubur, Jakarta Timur, 13720
 Telp. (021) 29617008, 29617009, 29617010
 Fax. (021) 8721570
[Http://www.penebar-swadaya.net](http://www.penebar-swadaya.net)
 Email: ps@penebar-swadaya.net



MENAKLUKKAN
**SOAL
CPNS**
(Calon Pegawai Negeri Sipil)
DALAM 1 JAM

DILENGKAPI :
Soal Uji Coba TBS & TPA
Kunci Jawaban + Pembahasan

TKD TES KEMAMPUAN DASAR

PANCASILA, UUD 1945, TATA NEGARA KEWARGANEGARAAN & HAM, SEJARAH, KEBIJAKAN PEMERINTAH & OTONOMI DAERAH, BAHASA INDONESIA, BAHASA INGGRIS, PENGETAHUAN UMUM

TBS & TPA TES BAKAT SKOLASTIK & TES POTENSI AKADEMIK

TES HUBUNGAN KATA (SINONIM, ANTONIM, & ANALOGI), PENALARAN LOGIS, PENALARAN NUMERIK, PENALARAN ANALITIS, & PENALARAN SPASIAL

TSK TES SKALA KEMATANGAN

KEMAMPUAN BERADAPTASI, PENGENDALIAN DIRI, SEMANGAT BERPRESTASI, INTEGRITAS, & INISIATIF



CERDAS INTERAKTIF (PENEBAR SWADAYA GRUP)
Perum. Bukit Permai Jl. Kerinci Blok A2, No. 23-24,
Cibubur, Jakarta Timur 13720
Telp. (021) 29617008, 29617009, 29617010; Faks. (021) 8721570
Website: www.penebar-swadaya.net; E-mail: ps@penebar-swadaya.net
f Penebar Swadaya Grup @penebar_swadaya

ISBN(13) 978-979-788-394-2
ISBN(10) 979-788-394-9



9 789797 188394 2

**MENAKLUKKAN SOAL CPNS
DALAM 1 JAM**

